

Khởi

động



START

Trò chơi
Thế giới
côn trùng

FRESH



START

1

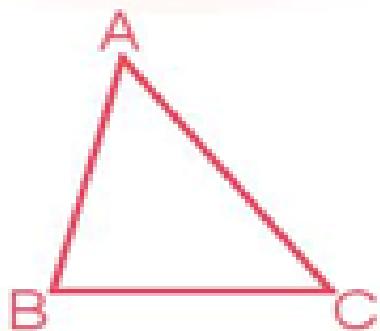
2

3

FINISH



START



**Hình tam giác ABC có
mấy đỉnh?**

A. 4

B. 2

C. 3

FINISH

START

1

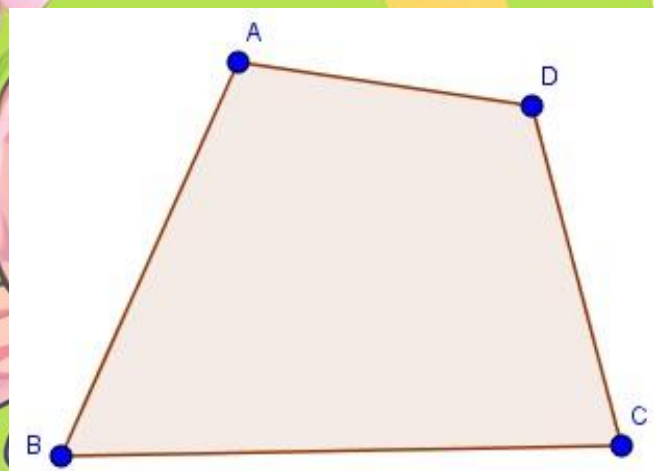
2

3

FINISH



START



**Hình tứ giác ABCD có
mấy góc?**

A. 3

B. 4

C. 2

FINISH

START



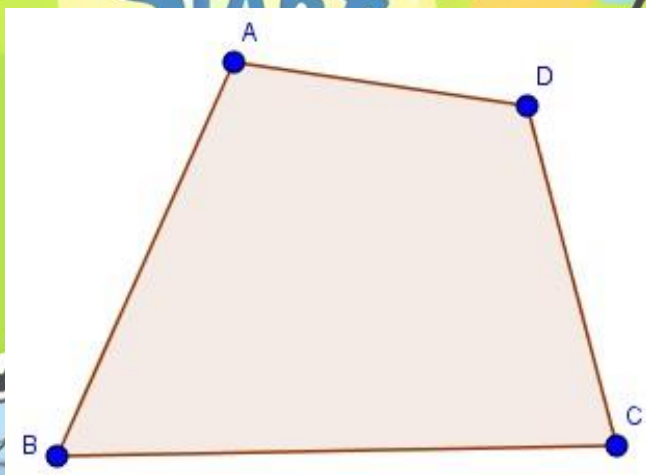
1

2

3

FINISH





Hình tứ giác ABCD gồm cạnh AB, BC, CD và....?

A. DA

B. AC

C. DB

FINISH


Chúc mừng các bạn!

1

2

FINISH





Toán

Bài 19: HÌNH TAM GIÁC, HÌNH TỨ GIÁC, HÌNH VUÔNG, HÌNH CHỮ NHẬT (T2)



Khám phá

Hình chữ nhật, hình vuông

Bức tranh này có hình dạng chữ nhật

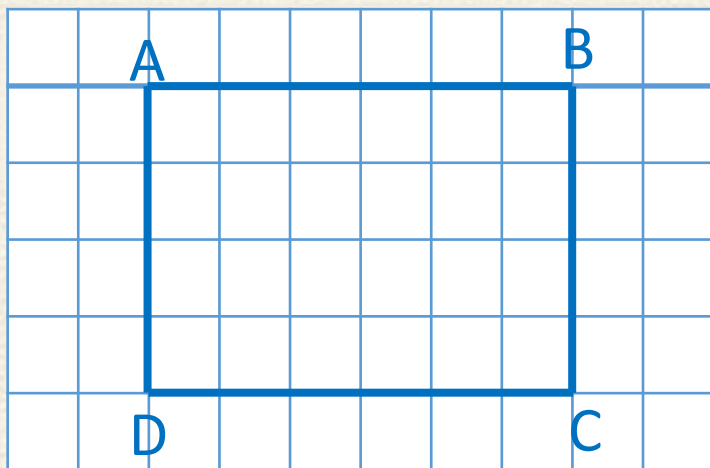


Các góc ở khung tranh đều là góc vuông



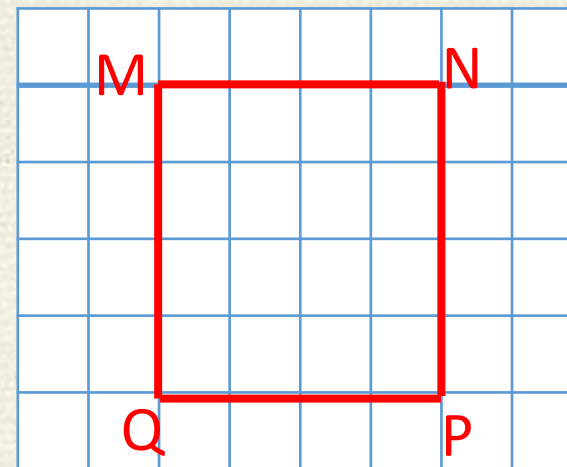
Các góc của hình chữ nhật có là góc vuông không nhỉ?






Hình chữ nhật ABCD có:

- 4 đỉnh, 4 cạnh và 4 góc vuông
- 2 cạnh dài AB và DC có độ dài bằng nhau, viết là $AB = DC$;
- 2 cạnh ngắn AD và BC có độ dài bằng nhau, viết là $AD = BC$

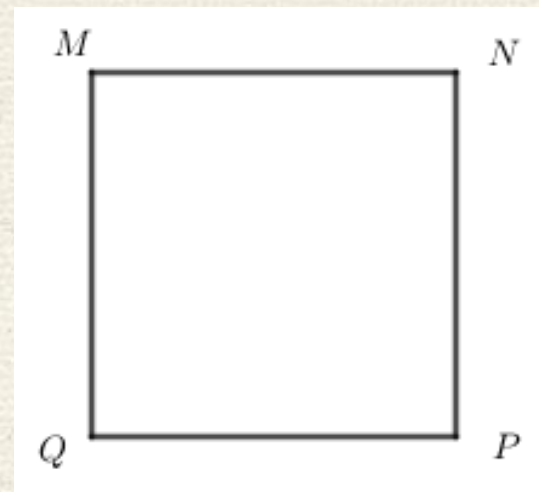


Hình vuông MNPQ có:

- 4 đỉnh
- 4 góc vuông
- 4 cạnh bằng nhau



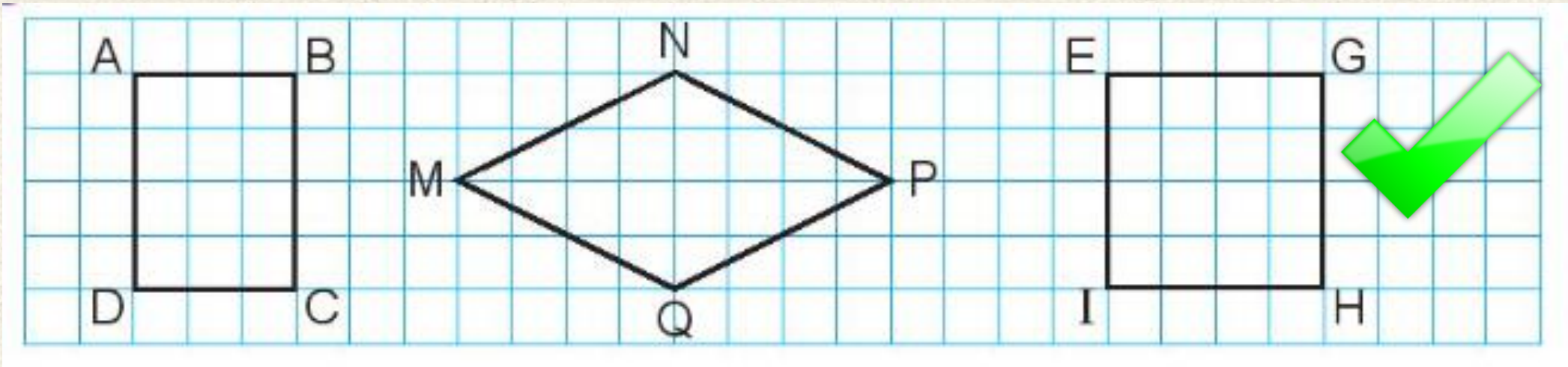
- Hình chữ nhật có 4 đỉnh, 4 góc vuông, 2 cạnh dài có độ dài bằng nhau và 2 cạnh ngắn có độ dài bằng nhau.
- Độ dài cạnh dài gọi là chiều dài, độ dài cạnh ngắn gọi là chiều rộng.



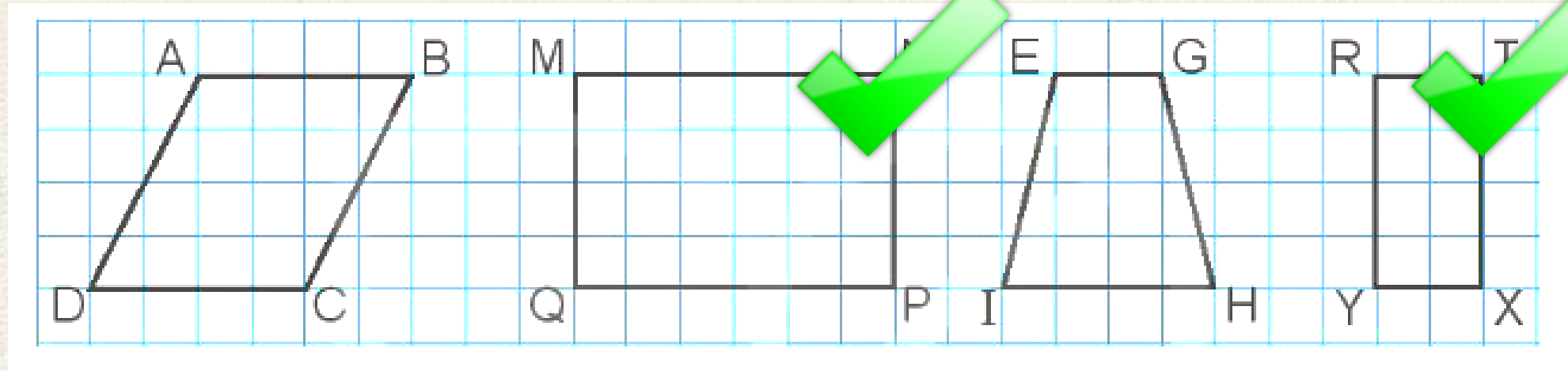
- Hình vuông có 4 góc vuông và 4 cạnh có độ dài bằng nhau.

Hoạt động

1 a) Trong các hình dưới đây, hình nào là hình vuông?

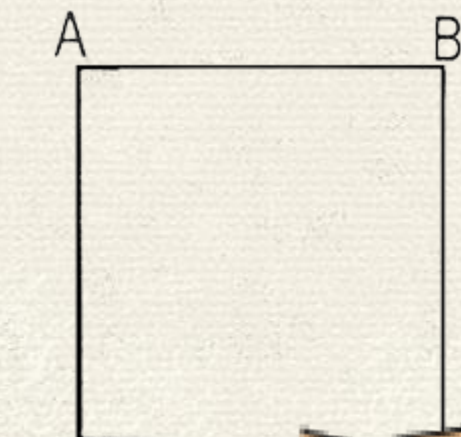


1 b) Trong các hình dưới đây, hình nào là hình chữ nhật?




2 SỐ?

Bằng cách đo trên hình vẽ, hình vuông ABCD có độ dài cạnh là ? cm; hình chữ nhật MNPQ có chiều dài là ? cm và chiều rộng là ? cm



Hình vuông ABCD có độ dài cạnh là 3 cm.



Hình chữ nhật MNPQ có chiều dài là 3 cm và chiều rộng là 2 cm.

3

Chọn câu trả lời đúng.

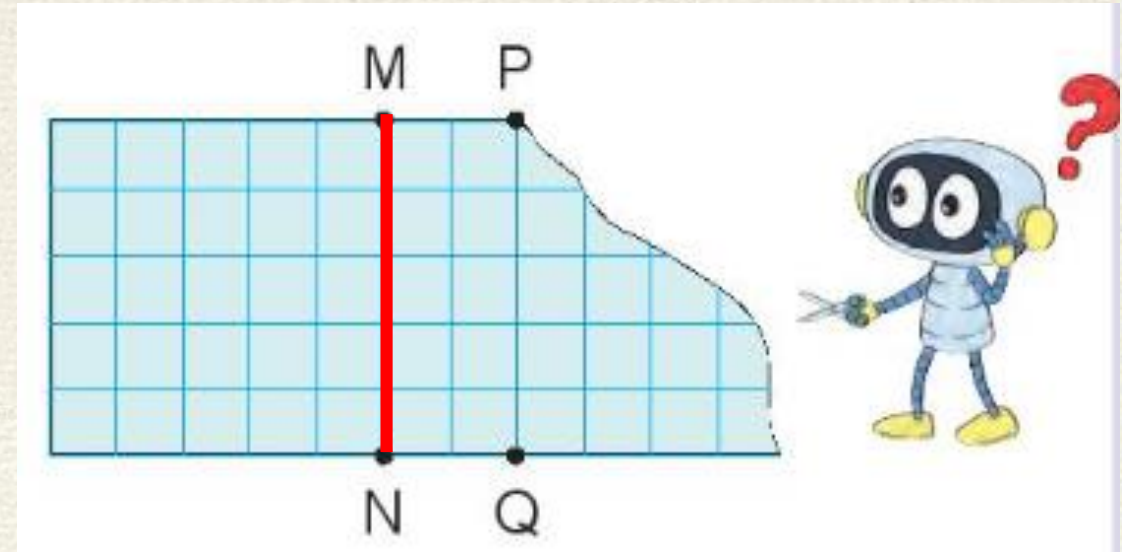
Để cắt tờ giấy như hình bên thành một hình vuông, Rô-bốt cần cắt theo đoạn thẳng nào dưới đây?


A. Đoạn thẳng MQ

B. Đoạn thẳng PN

C. Đoạn thẳng PQ

D. Đoạn thẳng MN





Tạm biệt các em!!!

