



# KHỞI ĐỘNG



Vì mãi ham chơi nên mình bị lạc mất mẹ rồi. Các bạn hãy giúp mình vượt qua thử thách để mình gặp được mẹ nhé!



**Kể tên các hình có dạng khối hộp chữ nhật  
mình đã quan sát và sưu tầm được**

**Trả lời: Cái vali, tủ quần áo,  
quyển sách, viên gạch....**



**Kể tên các hình có dạng khối lập phương  
mình đã quan sát và sưu tầm được**

**Trả lời: ru bích, xúc xắc, hộp  
quà...**



Ôi, mẹ Voi của mình  
đây rồi!








**CHỦ ĐỀ 3: LÀM QUEN VỚI HÌNH PHẪNG - HÌNH KHỐI**

***Bài 21: Khối lập phương, khối  
hộp chữ nhật***






**Khám phá**




Tớ có đỉnh,  
cạnh



Tớ cũng có đỉnh, cạnh và  
còn có cả mặt nữa cơ! Các  
mặt của tớ là hình chữ  
nhật.



Còn các mặt  
của tớ đều là  
hình vuông




**Quan sát, chỉ và nêu mặt, đỉnh, cạnh của khối lập phương, hộp chữ nhật**



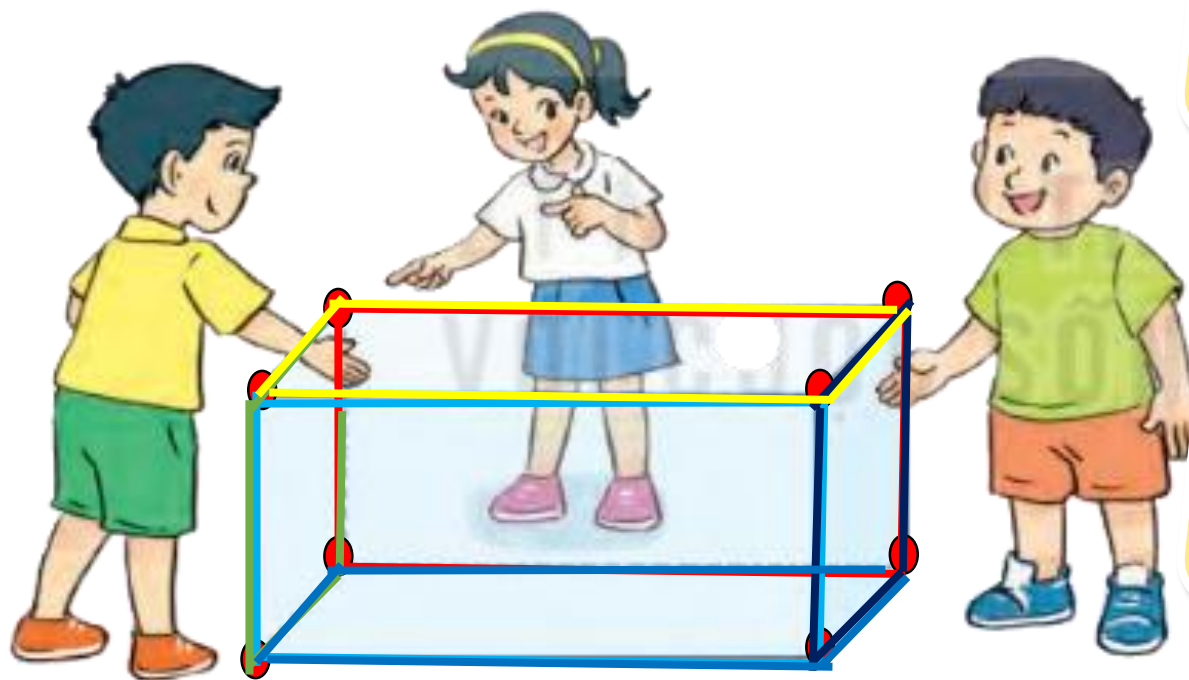
Đây là một  
cạnh

Đây là một  
đỉnh

Đây là một  
mặt



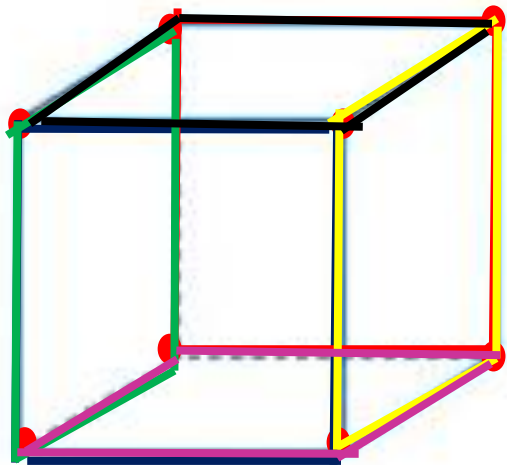
**Khối hộp chữ nhật**



**Khối hộp chữ nhật**

Hình khối chữ nhật có mấy đỉnh?

Hình khối chữ nhật có mấy mặt?

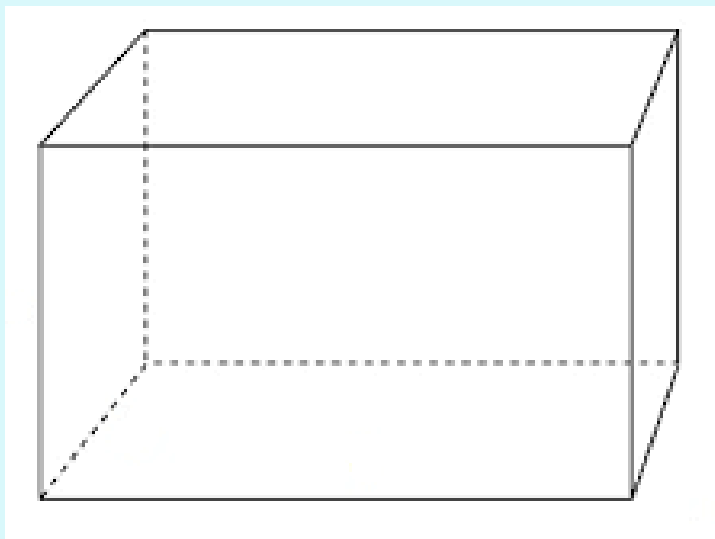


Khối lập phương

Hình khối lập phương có mấy đỉnh?

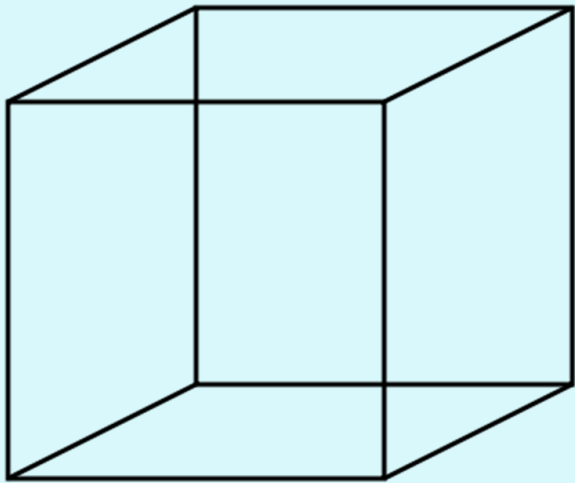
Hình khối lập phương có mấy mặt?

**Khối hộp chữ nhật có 8 đỉnh, 6 mặt và 12 cạnh**





**Các mặt của khối hộp chữ nhật đều là hình chữ nhật.**

**Khối lập phương đều có 8 đỉnh, 6 mặt và 12 cạnh.**



**Khối lập phương có mặt đều là hình vuông.**

# Hoạt động



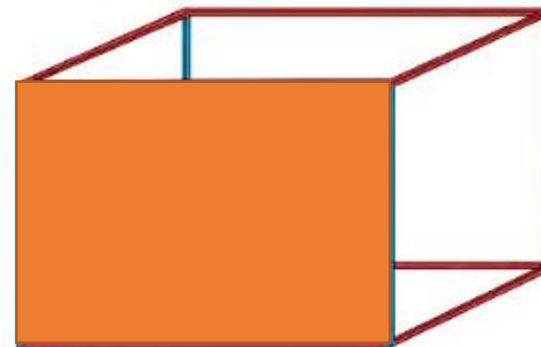


1

Một chiếc khung sắt dạng khối hộp chữ nhật có các cạnh được sơn màu như hình vẽ.

a. Có mấy cạnh tô màu xanh?

4 cạnh



b/ Chọn câu trả lời đúng:

Người ta lắp một tấm gỗ vừa khít mặt trước của khung sắt đó,  
Miếng gỗ cần lắp có dạng hình gì?

A. Hình tròn. B. Hình tam giác. **C.** Hình chữ nhật



Làm việc nhóm 2

2

Số

Ở gần mỗi đỉnh của một chiếc hộp gỗ dạng khối lập phương, bác Hà chạm ba bông hoa (như hình vẽ).  
Bác Hà đã chạm tất cả.. **24** bông hoa.

Chiếc hộp gỗ có dạng khối lập phương: gồm 8 đỉnh

Mỗi đỉnh có: 3 bông hoa

Bác Hà đã chạm tất cả:  
 $3 \times 8 = 24$  bông hoa






**Vận dụng**




# Trò Chơi Kéo Co





# Cách chơi

- Các em học sinh sẽ trả lời câu hỏi để giúp đội mình kéo thắng đội bạn. Mỗi câu trả lời đúng trong thời gian quy định sẽ giúp đội mình thắng 1 hiệp.
- Trường hợp cả hai đội không trả lời đúng sẽ coi như hòa. Hiệp đó không tính vào số hiệp thắng.
- Kết thúc trò chơi đội nào có số hiệp thắng nhiều hơn (tương đương với trả lời đúng nhiều câu hỏi hơn) sẽ là đội chiến thắng.






## Câu hỏi

1. Tìm và nêu các đồ vật có hình khối lập phương, khối hộp chữ nhật


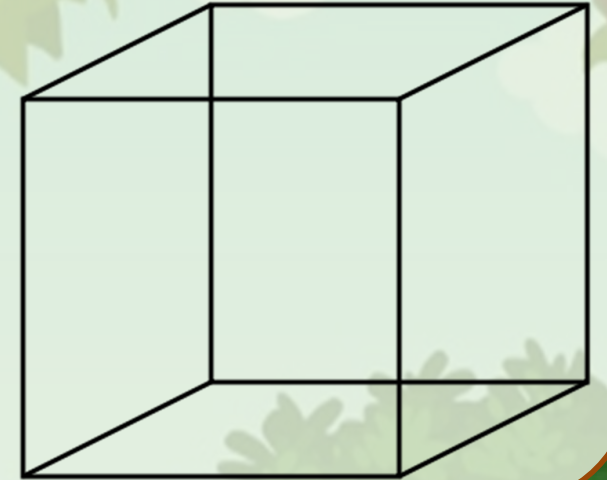
**Đáp án: bể cá cảnh, bể nước, thùng giấy, ru bích.....**





## Câu hỏi

2. Chỉ và nêu các đỉnh, cạnh, mặt của các khối hình khối lập phương


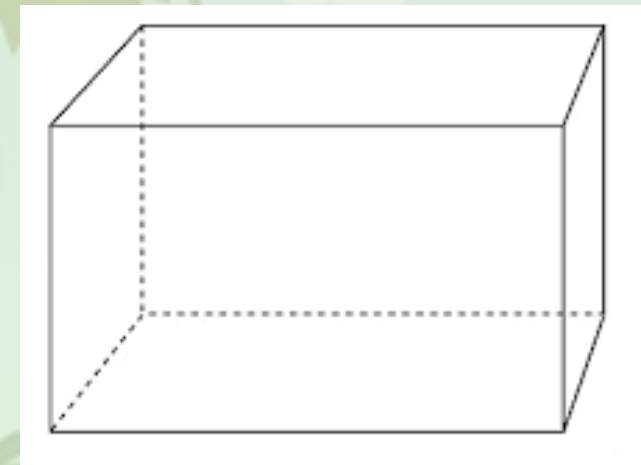







## Câu hỏi

3. Chỉ và nêu các đỉnh, cạnh, mặt của các khối hình hộp chữ nhật







TẠM BIỆT VÀ  
HẸN GẶP LẠI