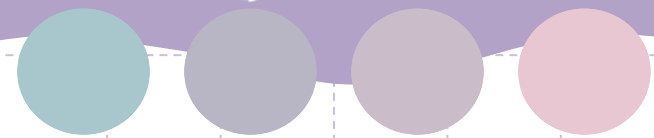


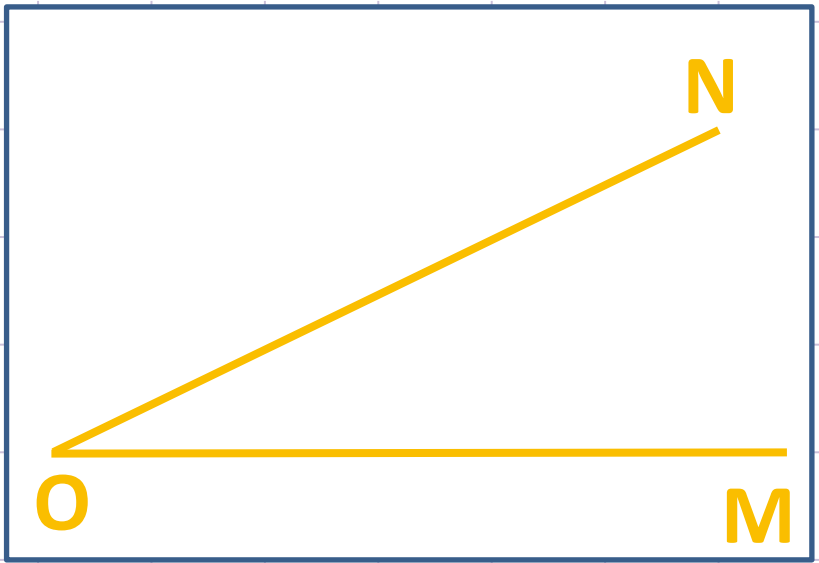


KHỞI ĐỘNG



Góc đã cho có đỉnh là:

Đỉnh O



Đỉnh M

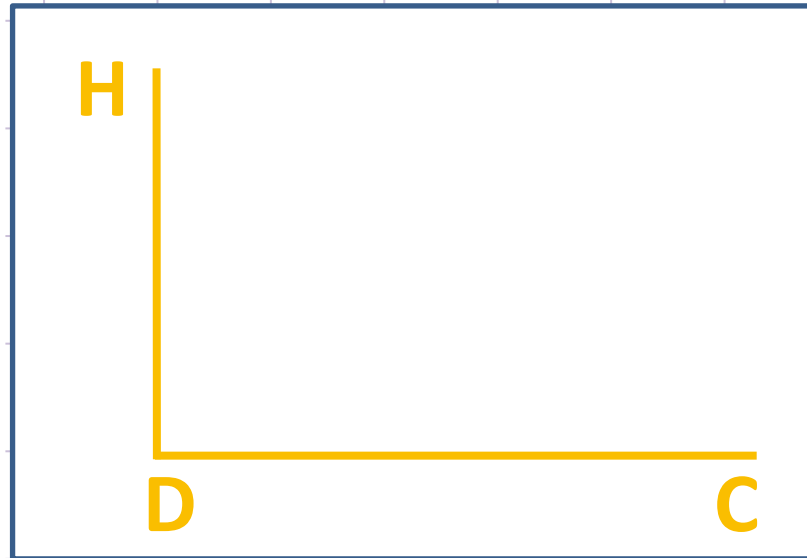
Đỉnh N

Cả 3 đỉnh



Góc đã cho có cạnh là:


Cạnh HDC



Cạnh
DH, HC

Cạnh
DH, DC

Cạnh
DC, HC




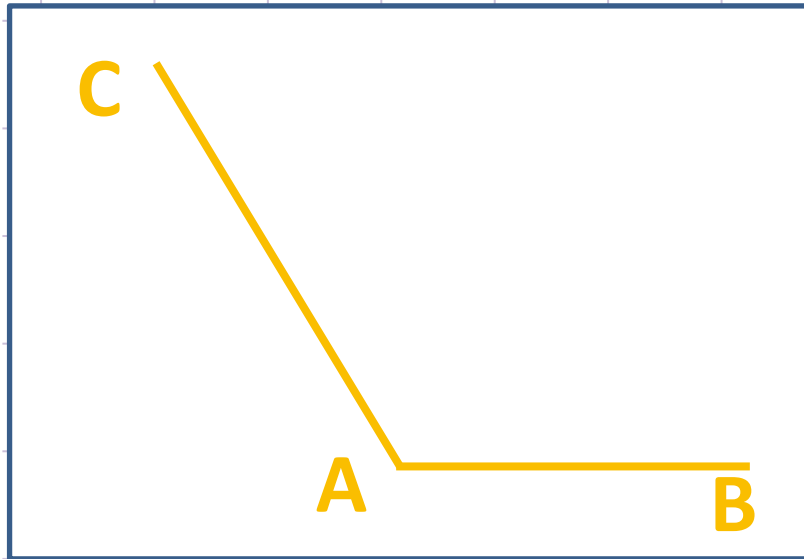
Góc đỉnh A là góc gì?

Góc nhọn

Góc tù

Góc vuông

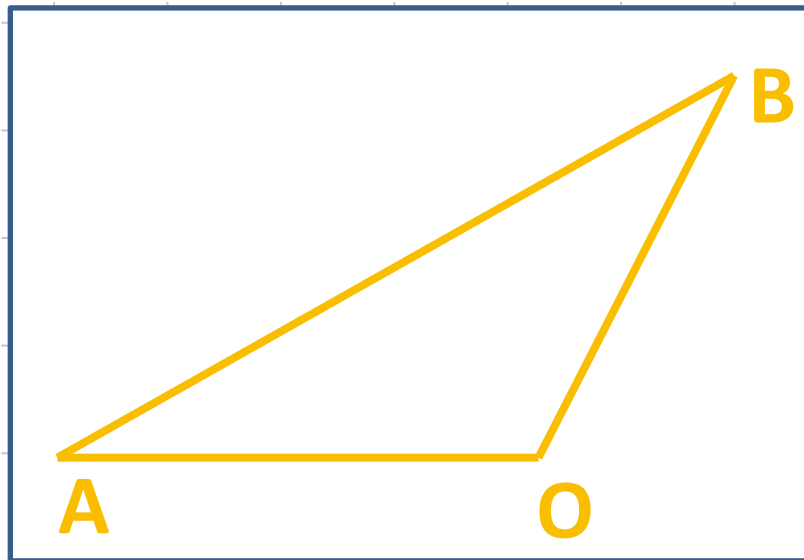
Góc bẹt



Hình vẽ trên có:

1 góc tù, 1 góc nhọn, 1 góc vuông

1 góc vuông, 2 góc tù



1 góc vuông, 2 góc nhọn

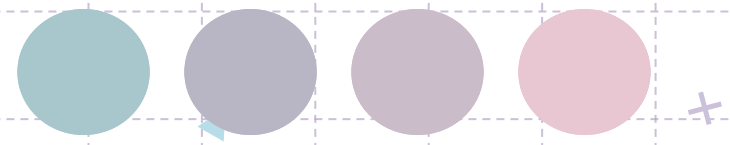
1 góc tù, 2 góc nhọn



+ Toán 4

Luyện Tập

Trang 27



Yêu cầu cần đạt


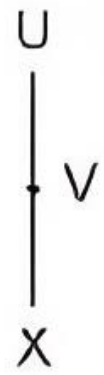
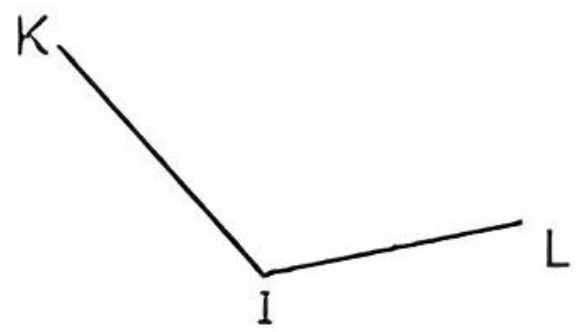
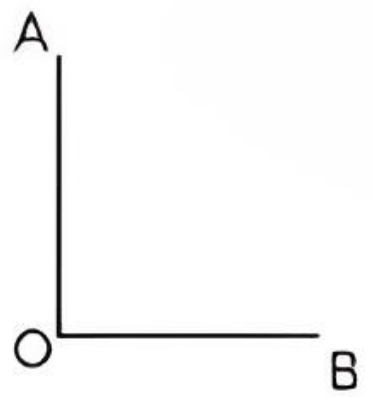
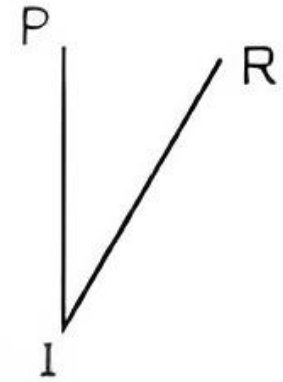
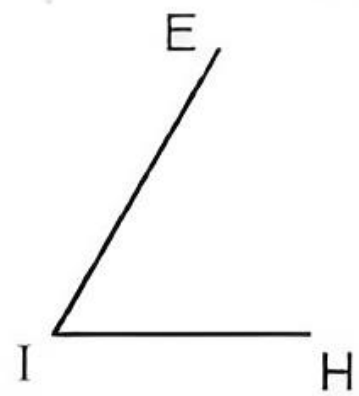
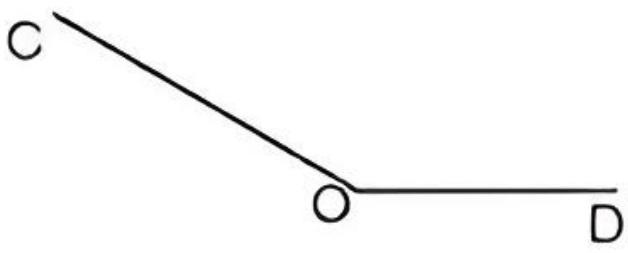


Củng cố nhận biết góc tù, góc vuông, góc nhọn và góc bẹt; làm quen với các tình huống nhận biết góc tù, góc vuông, góc nhọn, góc bẹt trong thực tế.

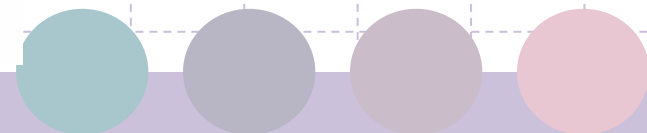
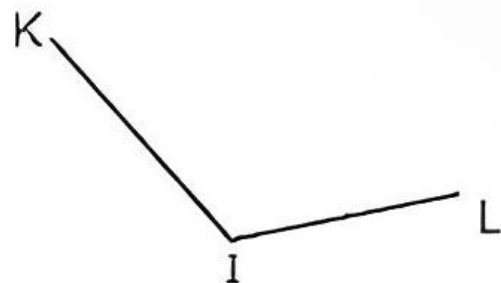
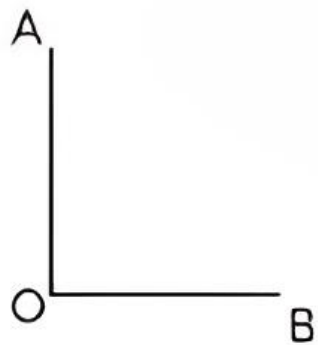
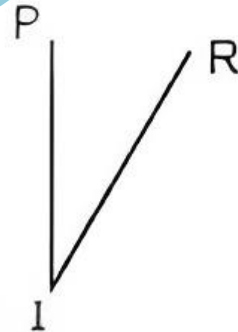
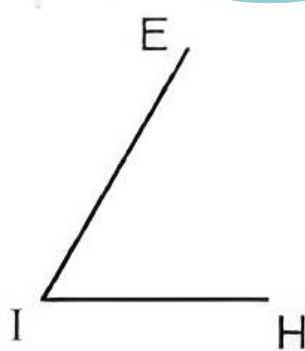
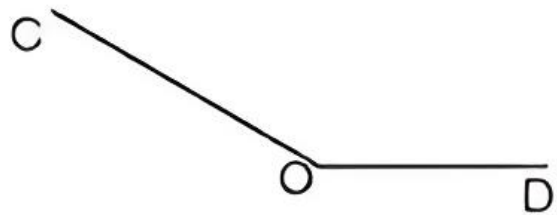


BÀI 1

Tìm các góc nhọn, góc tù và góc bẹt trong các góc sau.



Bây giờ các bạn hãy dùng thước đo độ để kiểm tra và làm vào vở nhé!

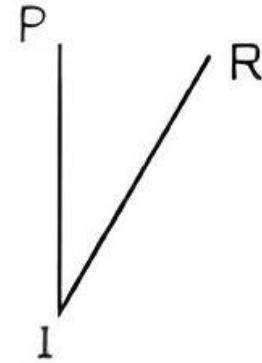
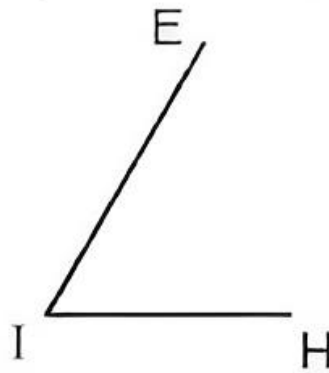
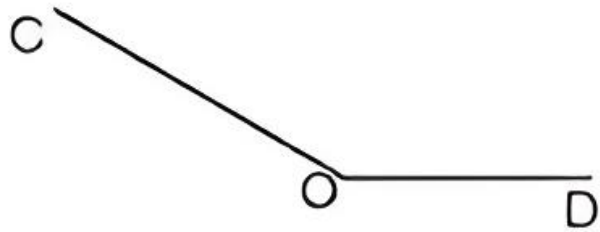


Mẫu



Góc đỉnh; cạnh,

 Góc

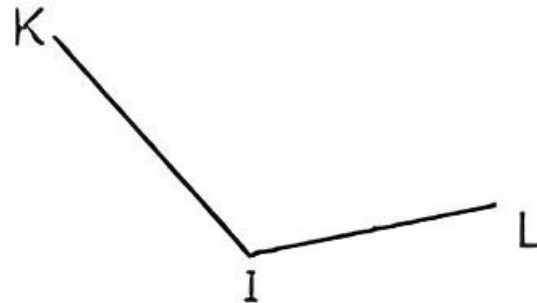
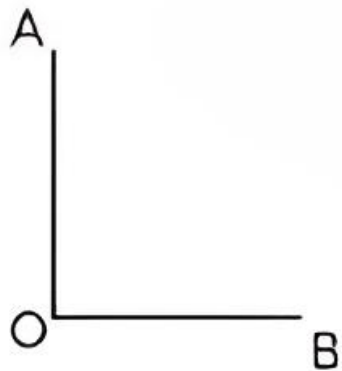


OA, OB.

 Góc

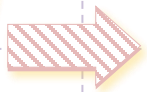
L.

 Góc



U, VX.

BÀI 2



Con nhện bò theo một trong hai đường đi màu đỏ hoặc màu xanh để về tổ (như hình vẽ)

Các bạn sử dụng thước đo độ để kiểm tra góc nhé!



- Tìm đường đi cho nhện, biết rằng đường đi này có ít nhất một góc tù. **Đi đường màu xanh**
- Dùng thước đo góc để xác định số đo góc của đỉnh O; cạnh OM, ON. **120°**



BÀI 3

Các bạn sử dụng thước đo độ để kiểm tra góc nhé!

a) Quan sát các mặt đồng hồ dưới đây rồi cho biết lúc mấy giờ thì kim giờ và kim phút tạo thành góc nhọn, góc tù, góc bẹt, góc vuông



Góc bẹt



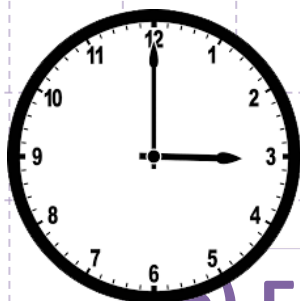
Góc nhọn



Góc vuông



Góc tù

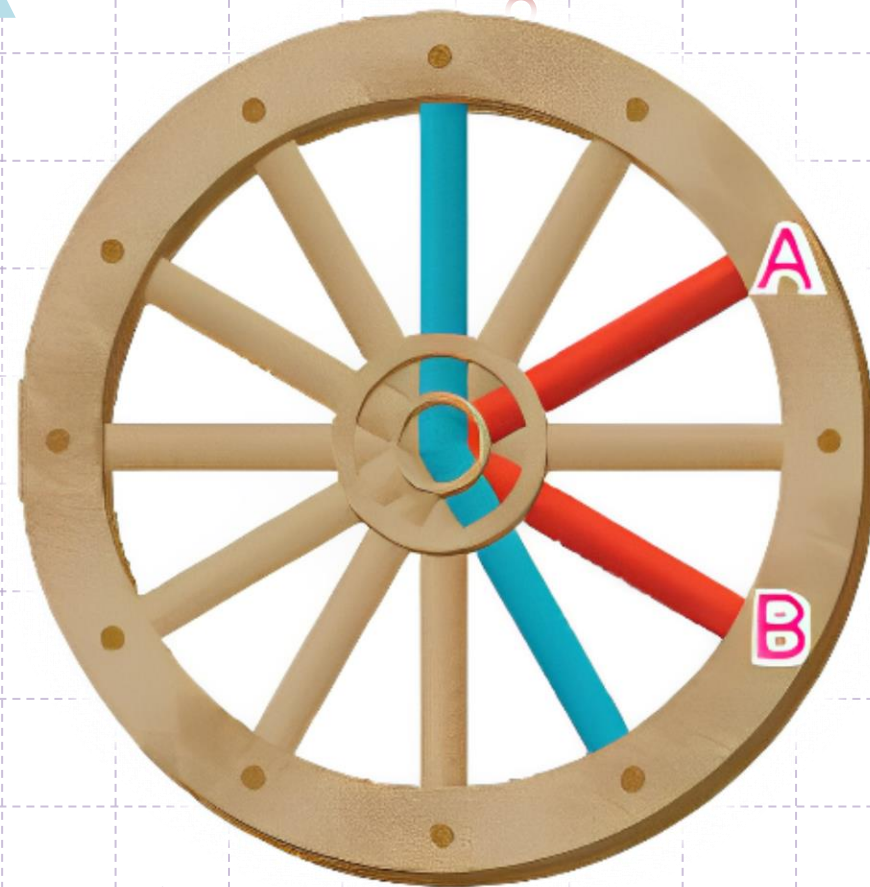


b) Em hãy tìm một thời điểm khác mà khi đó kim giờ và kim phút của đồng hồ tạo thành góc vuông.

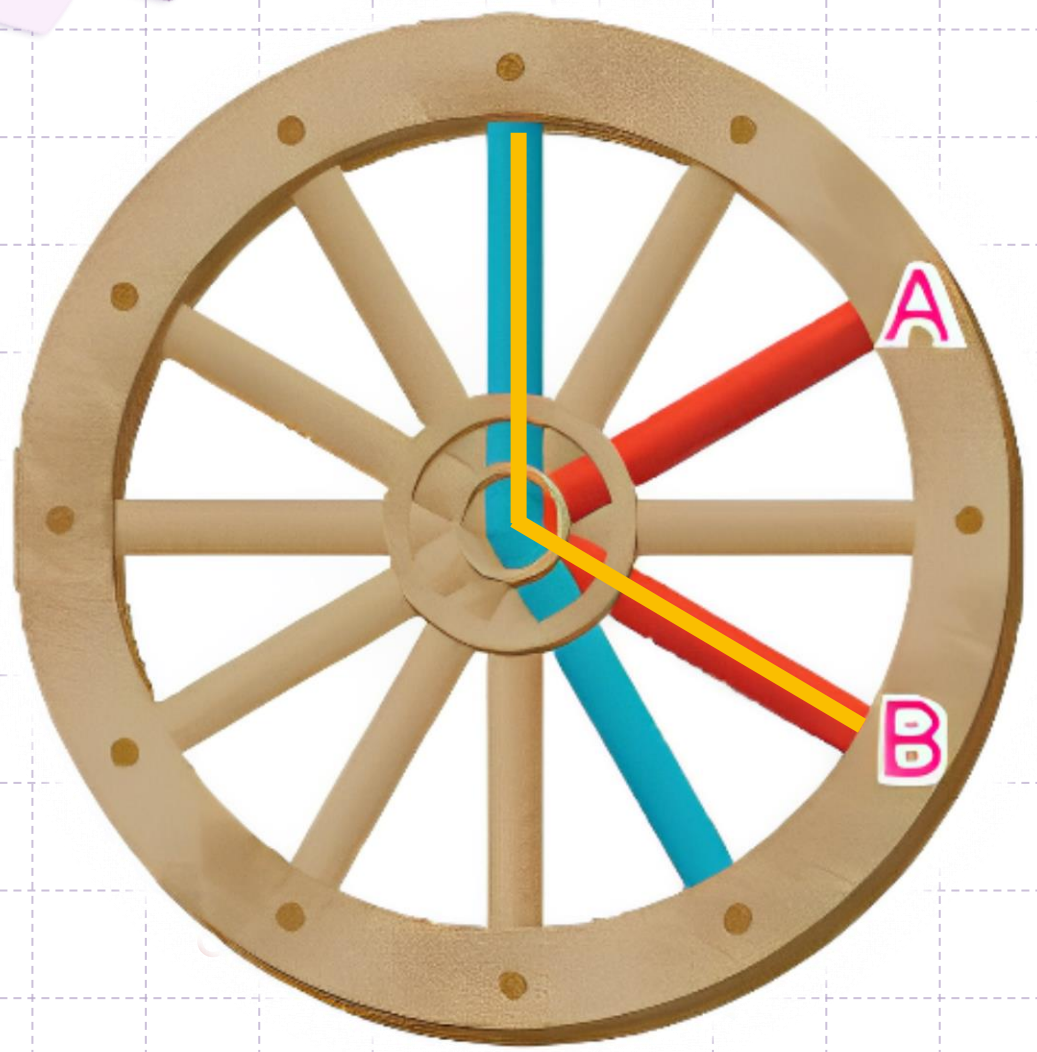



BÀI 4

Có một bánh xe bằng gỗ đã hỏng (như hình vẽ). Con một gỗ đang găm một trong hai cái nan xe màu đỏ. Biết nan xe đó và một nan xe màu xanh tạo thành một góc tù. Tìm nan xe mà con một gỗ đang găm



Thảo luận nhóm 4
các bạn nhé!





Góc vuông là góc có 90° .
Góc nhọn bé hơn góc vuông.
Góc tù lớn hơn góc vuông.
Góc bẹt gấp 2 lần góc vuông.

BẠN ƠI NHỚ NHÉ!

THANK YOU

Chào tạm biệt

