

# ỦY BAN NHÂN DÂN QUẬN LONG BIÊN TRƯỜNG MẦM NON HOA MỘC LAN



## GIÁO ÁN LÀM QUEN VỚI TOÁN

ĐỀ TÀI: ĐẾM ĐẾN 5, NHẬN BIẾT SỐ LƯỢNG TRONG PHẠM VI 5

LỨA TUỔI: 3 - 4 TUỔI





# *Phần 1*

*Ôn nhận biết nhóm đối tượng trong phạm vi 4*



*Trò chơi*

**LẬT MẢNH GHÉP**



1




[pngtree.com](https://www.pngtree.com)



[pngtree.com](https://www.pngtree.com)

2



1



2



3



4

The background is a light blue lined paper with various school supplies scattered around. There are several colored pencils in shades of red, purple, blue, green, and orange. There are also several crayons in black, purple, and red. A large yellow set square is in the top left, and a large orange ruler is at the bottom. Handwritten math formulas are scattered throughout:  $xy=ab^2$  in the top left,  $\sqrt{a+b}$  in the top center,  $e=MC^2$  in the top right,  $90^\circ$  with a right angle symbol in the middle left, a geometric diagram with points and lines in the middle left, and a list of multiplication facts  $1 \times 1 = 1$ ,  $1 \times 2 = 2$ ,  $1 \times 3 = 3$ ,  $1 \times 4 = 4$  in the bottom left. A magnifying glass is in the bottom right.

# Phần 2

***Nhận biết nhóm đối tượng có số lượng 5***



5





5



The background features a whimsical illustration of a brown branch with several black birds perched on it. The scene is decorated with delicate brown line art of flowers and leaves, interspersed with soft, pastel-colored washes of light blue and yellow. Small brown butterflies are scattered throughout the composition. The overall style is elegant and artistic.

*Trò chơi*


***Ai nhanh nhất***




Câu hỏi 1:

Hãy chọn nhóm rau củ có số lượng là 5?


1



2



3





*Câu hỏi 2:*

*Hãy chọn giỏ quả có số lượng là 5?*



**A**



**B**



**C**





### Câu hỏi 3:

Để có 5 quả chuối, bé phải thêm mấy quả nào?



A








B






# Câu hỏi 4:

Bé hãy tìm nhóm có số lượng là 5  
và nối với số chấm tròn tương ứng?





*Xin chào và hẹn gặp lại các con  
vào các bài học sau!*