


MÔN TOÁN – LỚP 1

BÀI 18: Ôn tập phép cộng, phép trừ trong phạm vi 10



1

Tìm kết quả phép tính ghi ở mỗi toa tàu:



2

SỐ ?



$$7 - 3 = 4$$



NGHỈ GIẢI LAO



3

SỐ ?



4



+

2

=

6



$6 + 1$	$10 - 9$	$3 - 3$	$6 - 3$	$7 - 0$	$6 - 1$				
$5 + 4$					$8 - 2$				
$7 - 6$					$6 + 3$				
$2 - 0$					$3 - 1$				
$2 - 0$					$3 - 1$				
$6 + 2$					$4 + 3$				
$9 - 4$					$5 - 2$				
$1 + 3$					$3 + 5$	$6 - 0$	$7 - 3$	$8 - 8$	 XUẤT PHÁT