



Bài 18: Ôn tập phép cộng, phép trừ trong phạm vi 10

Tiết 2






. Tìm kết quả phép tính ghi ở mỗi toa tàu:





2. Số?

Có tất cả 7 bóng đèn sáng,
tắt 3 bóng đèn. Hỏi còn
bao nhiêu bóng đèn còn
sáng?




$$7 - 3 = 4$$



3. Số?

Có 4 bạn đang chơi nhảy dây, có thêm 2 bạn chạy đến. Hỏi có tất cả bao nhiêu bạn?



$$4 + 2 = 6$$

Bắt gà

Cách chơi:

- Chơi theo nhóm.

- Người chơi bắt đầu từ ô **xuất phát**. Khi đến lượt, người chơi gieo xúc xắc. Đếm số chấm ở mặt trên xúc xắc rồi di chuyển qua các ô bằng với số chấm đó. Tính kết quả tại ô đó rồi bắt một con gà ghi số bằng với kết quả phép tính.

- Trò chơi kết thúc khi bắt được 5 con gà.

$6 + 1$	$10 - 9$	$3 - 3$	$6 - 3$	$7 - 0$	$6 - 1$				
$5 + 4$					$8 - 2$				
$7 - 6$					$6 + 3$				
$2 - 0$					$3 - 1$				
$6 + 2$					$4 + 3$				
$9 - 4$					$5 - 2$				
$1 + 3$					$3 + 5$	$6 - 0$	$7 - 3$	$8 - 8$	XUẤT PHÁT