




Chủ đề 5: Ôn tập học kì 1

Toán 1 - Bộ sách Kết nối tri thức với cuộc sống

Ban biên tập
AES

Bài 17: Ôn tập các số trong phạm vi 10

Tiết 1





1. Số ?

2 hai

10 mười

6 sáu

4 bốn

8 tám

1 một

3 ba

5 năm

0 không

9 chín




7 bảy

2 hai **10 mười** **6 sáu** **4 bốn** **8 tám**
3 ba **5 năm** **0 không** **9 chín** **7 bảy** **1 một**

 **luyện tập**

2.
Số?

		
8	6	8

		
3	7	2






luyện tập

2. Số?

Trong tranh, số
con trâu ít nhất

Đố các bạn, trong các con
vật: con thỏ, con chó, con
trâu, số con vật nào ít nhất





3. $>$, $<$, $=$?

a) 6 8

b) 9 $9 - 1$

c) 10 $8 + 2$

d) $4 + 3$ 7

e) $5 + 1$ 8

g) $3 + 0$ 2