

MÔN: TOÁN

KẾT NỐI TRI THỨC VỚI CUỘC SỐNG

Giáo viên:



Bài 26

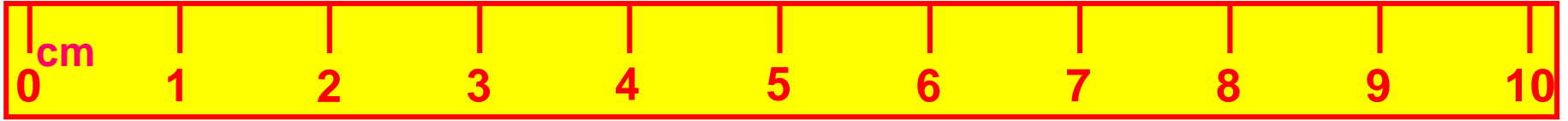
ĐƠN VỊ ĐO ĐỘ DÀI



TIẾT 2

XĂNG – TI – MÉT





Trên cây thước có gì?

- Các số từ 0 đến 10
- Các vạch được chia đều nhau
- Chữ cm



Thước có vạch chia thành từng xăng-ti-mét.

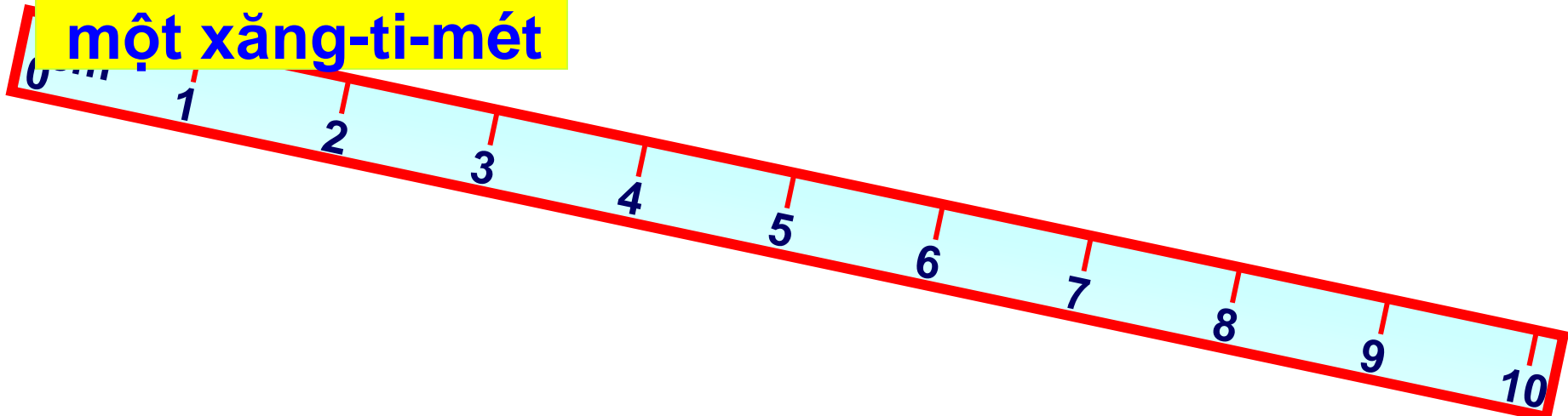
Xăng-ti-mét viết tắt là **cm**

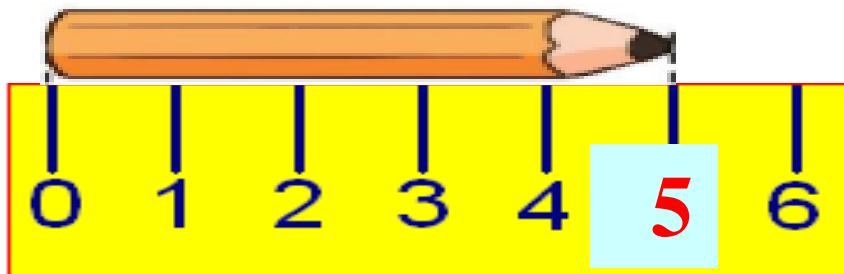


1

cm

một xăng-ti-mét





cm

Bút chì dài 5 xăng – ti - mét

Bạn nào
đặt thước
đo đúng?



Bạn Nam đặt thước đo đúng rồi!

2 a) Đo độ dài mỗi cây bút.



6 cm



8 cm



4 cm

⇒ **Cây bút mực dài nhất.**

⇒ **Cây bút sáp màu ngắn nhất.**

3 Ước lượng độ dài mỗi cây bút rồi dùng thước có vạch chia xăng-ti-mét để đo chúng.



Ước lượng: cm

Đo độ dài: cm




Ước lượng: cm

Đo độ dài: cm



Ước lượng: cm

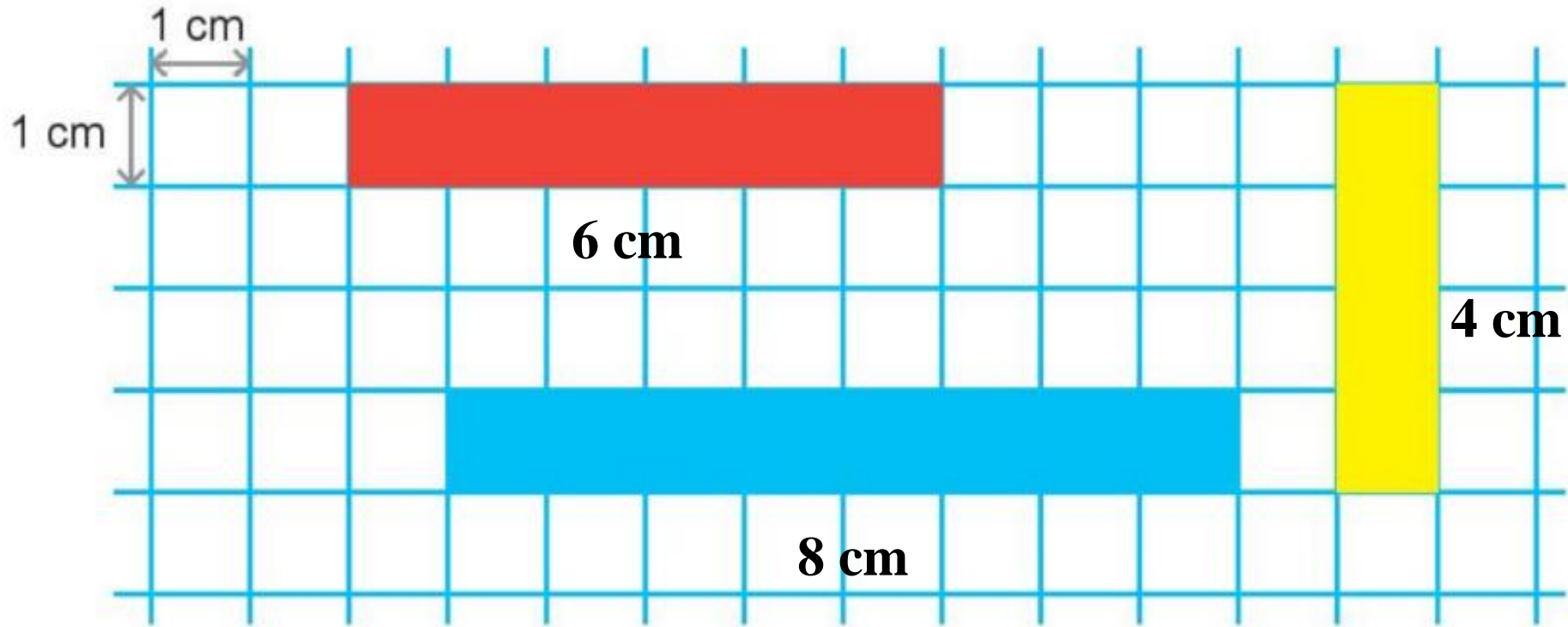
Đo độ dài: cm



Ước lượng: cm

Đo độ dài: cm

4 Mỗi băng giấy dài bao nhiêu xăng-ti-mét?



Trị chơi

TRUY TÌM KHO BÚ







**Hãy kể tên một
đơn vị đo độ dài?**



**Em dùng cái gì
để đo độ dài?**



Hãy đo chiều rộng quyển sách Toán của em?

