

Thứ.....ngày.....tháng....năm 2022

Toán

**Bài 47: LÀM QUEN VỚI
CHỮ SỐ LA MÃ
(Tiết 2)**



Yêu cầu cần đạt



Nhận biết được chữ số La Mã

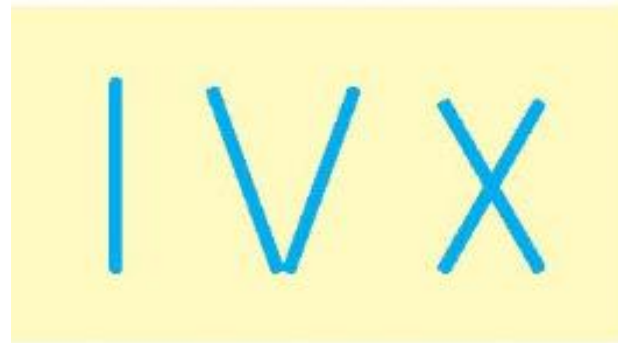


Thực hiện được các yêu cầu đọc viết số La Mã có thể nhờ sự trợ giúp của bảng các số La Mã

1. Dùng que tính có thể xếp thành các số La Mã như hình bên:

a) Dùng 5 que tính hãy xếp thành số 8, số 13 bằng chữ số La Mã.

b) Để xếp được ba số 9 bằng chữ số La Mã thì dùng hết mấy que tính?




a) Dùng 5 que tính hãy xếp thành số 8, số 13 bằng chữ số La Mã:

Số 8



b) Để xếp được ba số 9 bằng chữ số La Mã thì dùng hết mấy que tính?



Để xếp được một số 9 thì dùng hết 3 que tính.

Để xếp được ba số 9 cần dùng số que tính là:

$$3 \times 3 = 9 \text{ (que tính)}$$


Đáp số: 9 que tính



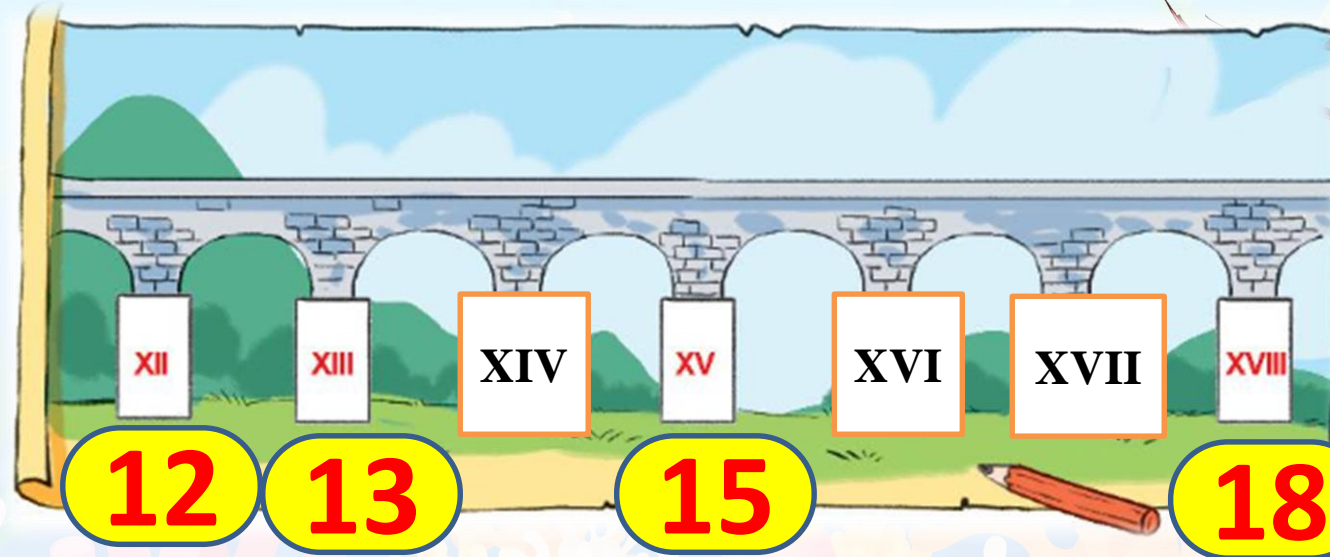
Chặng 2

Đạt bảo vật

Long Cung



a) Tìm số La Mã thích hợp



b) Sắp xếp các số XVIII, XVII, XII, XVIII theo thứ tự từ bé đến lớn.

XII, XIII, XVII, XVIII.





Chặng 3

Đại náo Thiên cung



3. Chọn đồng hồ điện tử thích hợp với đồng hồ mặt trời:

Bóng của kim chỉ vào II, lúc đó là 14 giờ.



Phương pháp hoạt động của đồng hồ mặt trời:

Dưới ánh nắng mặt trời cái cọc trên mặt đồng hồ tạo bóng. Trong ngày vị trí của mặt trời thay đổi trên bầu trời. Vì thế bóng của cái cọc sẽ tùy thời gian trong ngày mà có vị trí khác nhau. Vị trí bóng đổ vào số nào thì đồng hồ sẽ chỉ giờ tương ứng.





Chặng 4

Khó thoát bàn tay Phật



4

Tìm đường đi cho chú linh dương đến hồ uống nước theo thứ tự các số La Mã từ I đến XX



I	II	XII	XIII	XX	XV	XVI	XVIII	XX
XI	III	IV	XIV	XIX	XVII	XII	XVI	XIX
XX	X	V	VI	X	XIV	VII	XX	VII
II	IV	XIII	VII	IV	III	VIII	XIX	XX
X	XV	X	VIII	IX	X	V	XVII	III
VI	IX	XVI	XII	I	XI	II	XVII	X
V	IV	V	VI	V	XII	I	XVI	II
I	III	II	VII	X	XIII	XIV	XV	XX





Dặn dò

- Ôn lại về số La Mã
- Chuẩn bị bài 48



CHÀO TẠM BIỆT VÀ HẸN GẶP LẠI

