


Loán

**Bài 48: LÀM TRÒN SỐ
ĐẾN HÀNG CHỤC,
HÀNG TRĂM**



YÊU CẦU CẦN ĐẠT

- Làm quen với việc làm tròn số đến hàng chục, hàng trăm, hàng nghìn
- Làm tròn được một số đến hàng chục, hàng trăm, hàng nghìn





KHÁM PHÁ





Khám phá

Chú ơi, tuyến đường sắt từ Hà Nội vào Thành phố Hồ Chí Minh dài bao nhiêu ki-lô-mét ạ?


Khoảng 1 700 km
cháu à!

Chú đã làm tròn số
đến hàng trăm cho dễ
nhớ đấy, chính xác
phải là 1 726 km.



a) Làm tròn số đến hàng chục

Khi làm tròn số đến hàng chục, ta so sánh chữ số hàng đơn vị với 5.



$1\ 726$ $\xrightarrow{\text{vì } 6 > 5}$ $1\ 730$
làm tròn lên

$1\ 725$ $\xrightarrow{\text{vì } 5 = 5}$ $1\ 730$
làm tròn lên


$1\ 723$ $\xrightarrow{\text{vì } 3 < 5}$ $1\ 720$
làm tròn xuống

Khi làm tròn số đến hàng chục ta so sánh chữ số hàng đơn vị với 5. Nếu chữ số hàng đơn vị bé hơn 5 thì làm tròn xuống, còn lại thì làm tròn lên.



b) Làm tròn số đến hàng trăm

Khi làm tròn số đến hàng trăm, ta so sánh chữ số hàng chục với 5.



$1\ 786 \xrightarrow{\text{vì } 8 > 5}$ $1\ 800$
làm tròn lên

$1\ 756 \xrightarrow{\text{vì } 5 = 5}$ $1\ 800$
làm tròn lên

$1\ 726 \xrightarrow{\text{vì } 2 < 5}$ $1\ 700$
làm tròn xuống

Khi làm tròn số đến hàng trăm ta so sánh chữ số hàng chục với 5. Nếu chữ số hàng chục bé hơn 5 thì làm tròn xuống, còn lại thì làm tròn lên.





Hoạt động





Hãy giúp khỉ hái những
quả đào tiên nhé

1 Làm tròn các số 2864; 3058 và 4315 đến chữ số hàng chục, hàng trăm.

Hoàn thành phiếu BT



Số đã cho	Làm tròn đến hàng chục	Làm tròn đến hàng trăm
2 864		
3 058		
4 315		



Số đã cho	Làm tròn đến hàng chục	Làm tròn đến hàng trăm
2 864	2 860	2 900
3 058	3 060	3 100
4 315	4 320	4 300



- 2** Rô – bốt, Việt và Mai cùng ghé thăm một trang trại, Rô – bốt đếm được có 1242 con gà. Khi làm tròn đến số hàng chục:
- a) Mai nói: “Trang trại có khoảng 1240 con gà”
 - b) Việt nói: “Trang trại có khoảng 1250 con gà”
- Theo em, bạn nào nói đúng?

$$1\ 242 \xrightarrow[\text{làm tròn xuống}]{\text{vì } 2 < 5} 1\ 240$$

Vậy Mai nói đúng.





LUYỆN TẬP





Nào giờ hãy xếp đào
vào các đĩa nhé!

1 Trong thư viện có 6745 cuốn sách. Hỏi mỗi bạn đã làm tròn số sách đó đến hàng nào?



- **Bạn nam đã làm tròn số sách đến hàng chục.**
- **Bạn nữ đã làm tròn số sách đến hàng trăm.**



2 Số

Quan sát các máy “làm tròn số” rồi tìm số thích hợp với máy cuối cùng.



Các số trên được làm tròn đến hàng trăm.



LẶN

99

Ôn lại bài

Chuẩn bị bài tiếp theo.



**TẠM BIỆT
VÀ
HẸN GẶP LẠI!**

