

Tiệm Bánh  
Donut

Thứ ... ngày ... tháng ... năm 2025


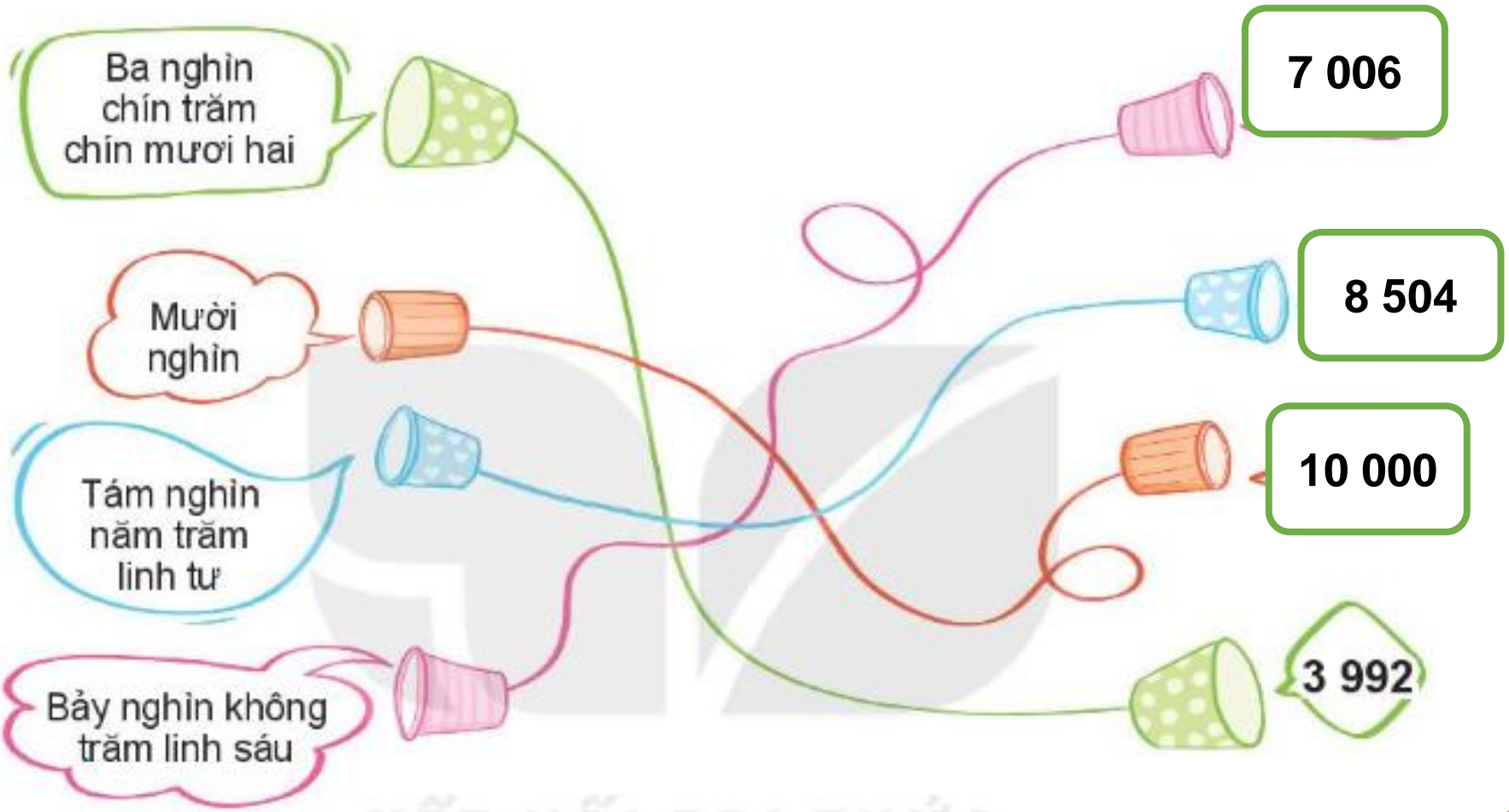
Toán

**BÀI 49: LUYỆN  
TẬP CHUNG  
(TIẾT 1)**





# 1 SỐ

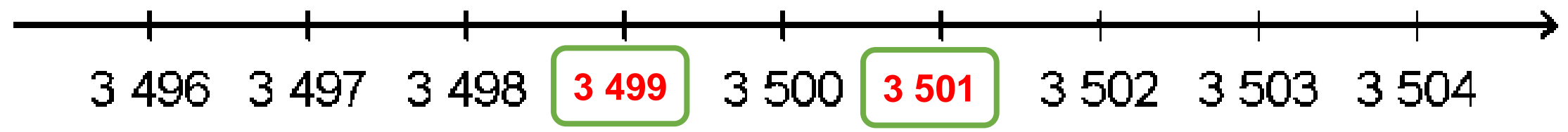


HOME MADE

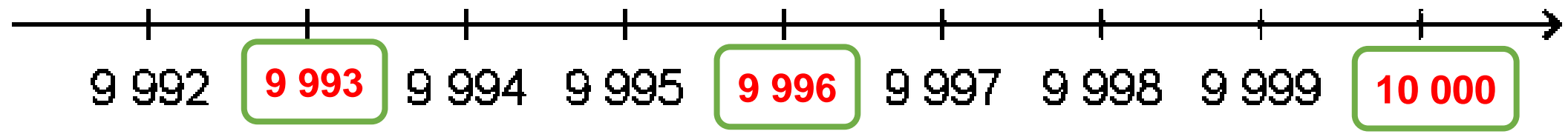


**2** Số

a)



b)







### 3 Chọn câu trả lời đúng:

a) Số 2 846 có chữ số hàng chục là:

- A. 2      B. 8      **C. 4**      D. 6

b) Số 2 846 làm tròn đến số hàng chục là:

- A. 2 900      **B. 2 850**      C. 2 840      D. 2 800



4

Các bạn Mai, Nam, Việt và Rô – Bốt cùng chơi “đuổi hình bắt chữ” và lần lượt nhận được số điểm là 2150 điểm, 1650 điểm, 2300 điểm và 1850 điểm.

Hỏi:

a) Bạn nào nhận được số điểm cao nhất?


**Bạn Việt nhận được số điểm cao nhất là: 2300 điểm**

b) Những bạn nào nhận được nhiều hơn 2000 điểm?

**Những bạn nhận được nhiều hơn 2000 điểm là: Việt, Mai**

c) Những bạn nào nhận được ít hơn 2000 điểm?

**Những bạn nhận được ít hơn 2000 điểm là: Rô-bốt, Nam**



HOME MADE




4

Trên giá sách có một bộ sách gồm 8 cuốn được đánh số từ I đến VIII. Bố của Mai đã lấy 2 cuốn sách để đọc. Hỏi đó là những cuốn được đánh số nào?

**Các cuốn sách đang có trên giá sách là: I; II; IV; V; VII; VIII**

**Bố của Mai lấy 2 cuốn sách: III; VI**





ICE CREAM

TELEPHONE

FRUIT

SALE

SALE

SALE



Số 4 657 có chữ số hàng trăm là:

**A**

**6**


**B**

**5**

**C**

**7**






Số 9 789 có chữ số hàng chục là:



7



9



8



Số 6 539 có chữ số hàng nghìn là:

**A**

**5**

**B**

**3**

**C**

**6**

HẸN GẶP

LẠI NHÉ!

Tiệm Bánh  
Donut

