

Thứ Hai ngày 17 tháng 2 năm 2025

TOÁN


LUYỆN TẬP CHUNG



A vibrant, cartoon-style illustration of a bakery storefront. The scene is set under a light blue and white striped awning. In the center, a large, white, cloud-shaped bubble with a brown outline contains the text 'LUYỆN TẬP' in bold, purple, uppercase letters. Surrounding the bubble are various pastries: a pink-frosted donut with colorful sprinkles, a chocolate cake slice topped with a cherry, a red macaron, a yellow cupcake with chocolate chips, a purple macaron with a lemon slice, and a pink macaron. To the left, a wooden sign hangs from the awning that reads 'BAKERY and Cafe' and 'OPEN 7-9'. Below it, a chalkboard sign on a wooden stand lists 'BAKERY and Cafe' and '2F → Customer' with a menu of items and prices. To the right, a wooden counter displays several round pastries on shelves. The background shows a brick wall and some green foliage.

CHẶNG 2

CÙNG NHAU
LÀM BÁNH





“
Bánh đã được tạo hình.
Chúng ta hãy cùng hoàn
thành các nhiệm vụ để
nướng bánh nhé!
”

1

Chọn cách viết tỉ số phần trăm thích hợp cho tỉ số ghi ở mỗi chiếc xe.




85%

50%

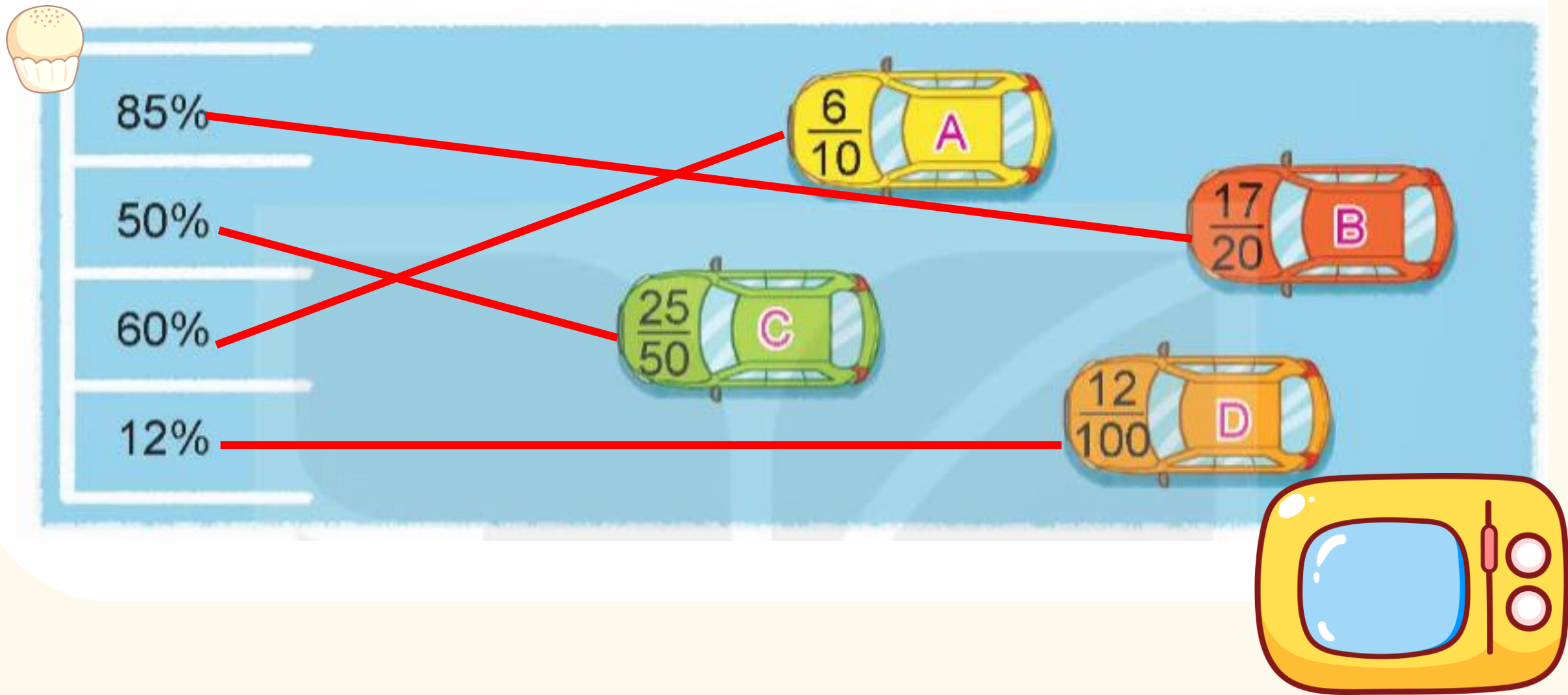
60%

12%




1

Chọn cách viết tỉ số phần trăm thích hợp cho tỉ số ghi ở mỗi chiếc xe.



2 Số

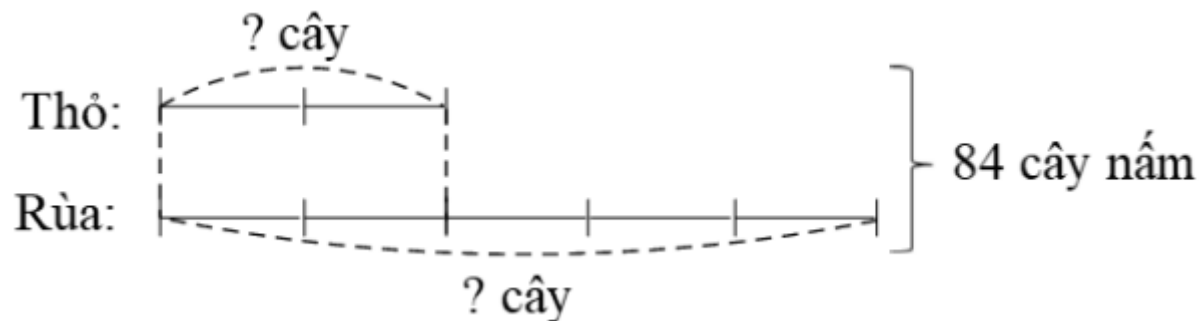
Tỉ lệ bản đồ	1 : 2 000	1 : 2 000	1 : 500 000	1 : 500 000
Độ dài trên bản đồ (cm)	2	80	1,5	2
Độ dài thật (km)	0,04	1,6	7,5	10



3 Thỏ và rùa vào rừng hái nấm, hai bạn hái được tất cả 84 cây nấm.
Vì thỏ mãi chơi nên chỉ hái được số nấm bằng $\frac{2}{5}$ số nấm của rùa.
Tìm số nấm mà mỗi bạn đã hái.



Ta có sơ đồ:





Bài giải:

Tổng số phần bằng nhau là:

$$2 + 5 = 7 \text{ (phần)}$$

Thỏ hái được số nấm là:


$$84 : 7 \times 2 = 24 \text{ (cây)}$$

Rùa hái được số nấm là:

$$84 - 24 = 60 \text{ (cây)}$$

Đáp số: Thỏ: 24 cây nấm

Rùa: 60 cây nấm.



4

Giá một chiếc tivi tại cửa hàng là 15 000 000 đồng. Để tri ân khách hàng, cửa hàng đã có đợt khuyến mại giảm giá mỗi chiếc tivi 8%.

a) Hỏi giá tiền một chiếc tivi đã giảm bao nhiêu đồng?

b) Tính giá tiền chiếc tivi sau khi giảm giá?

Bài giải:

a) Giá tiền một chiếc tivi đã giảm số tiền là:

$$15\ 000\ 000 \times 8 : 100 = 1\ 200\ 000 \text{ (đồng)}$$

b) Giá tiền chiếc tivi sau khi giảm giá là:

$$15\ 000\ 000 - 1\ 200\ 000 = 13\ 800\ 000 \text{ (đồng)}$$

Đáp số: a) 1 200 000 đồng

b) 13 800 000 đồng.



**Tạm biệt và
hẹn gặp lại**