

CHÀO MỪNG
CÁC THẦY CÔ VỀ DỰ GIỜ



Môn toán

BÀI: LUYỆN TẬP CHUNG

(Trang 26-27)





KHỞI ĐỘNG



TRÒ CHƠI
“HOA NỎ”

Bài 1: Số?



Bài 2:

a. Tìm số lớn hơn trong mỗi cặp.

54

18

63

29

b. Tìm số bé hơn trong mỗi cặp.

70

61

17

45

A dense border of small, five-petaled pink flowers with yellow centers and green leaves surrounds the central text. The flowers are arranged in a thick, continuous band.

Nghỉ giữa giờ

make the most of your young days

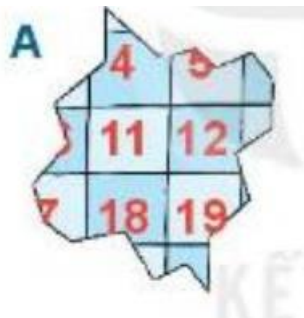
Bài 3: Tìm số lớn nhất, số bé nhất trong các số sau:

31, 35, 40


Số lớn nhất: 40

Số bé nhất: 31

Bài 4: Chú Mèo nghịch ngợm làm rách rèm. Tìm miếng bị rách đó.



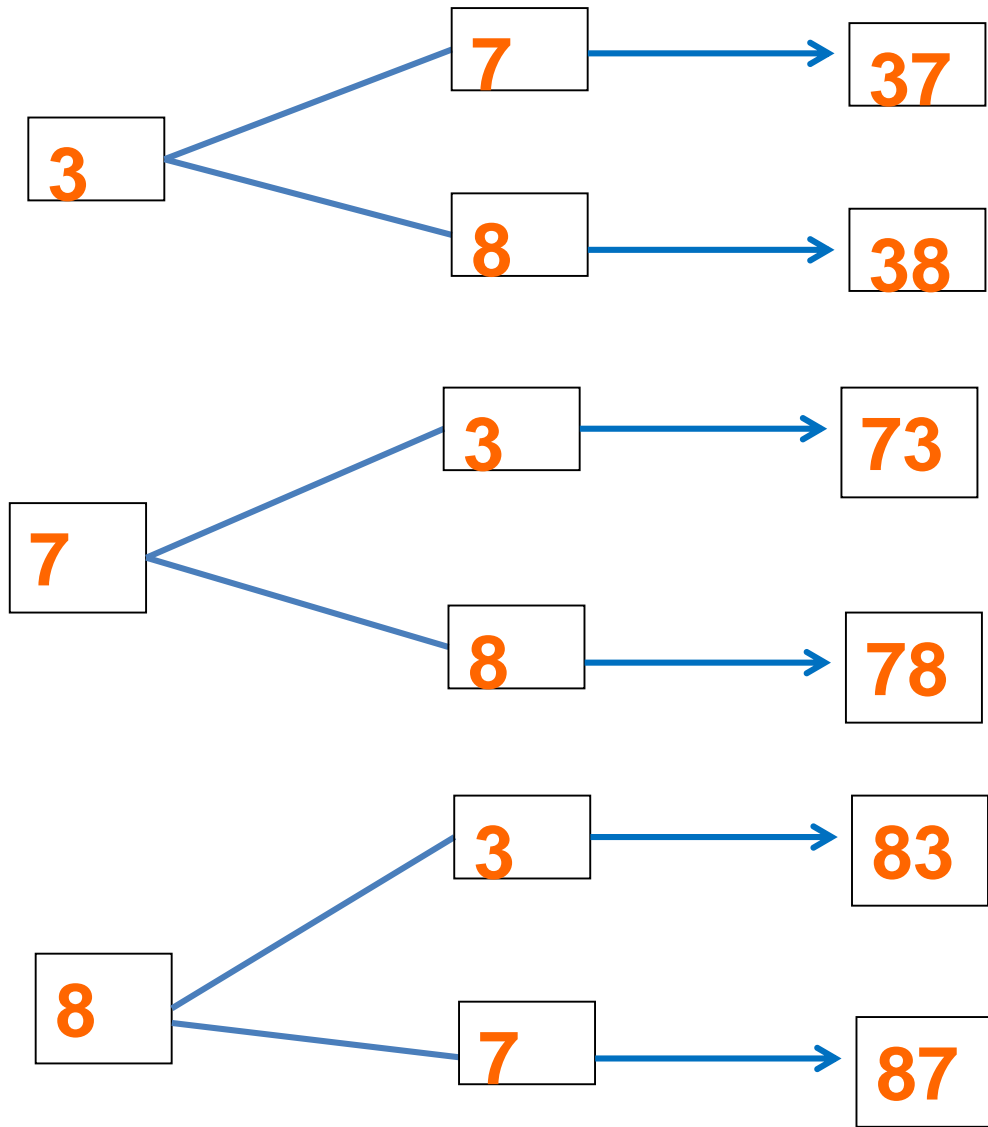
Bài 5: Em hãy giúp các bạn côn trùng lập các số có hai chữ số bằng cách sử dụng các tấm thẻ trên bàn.



Chục

Đơn vị

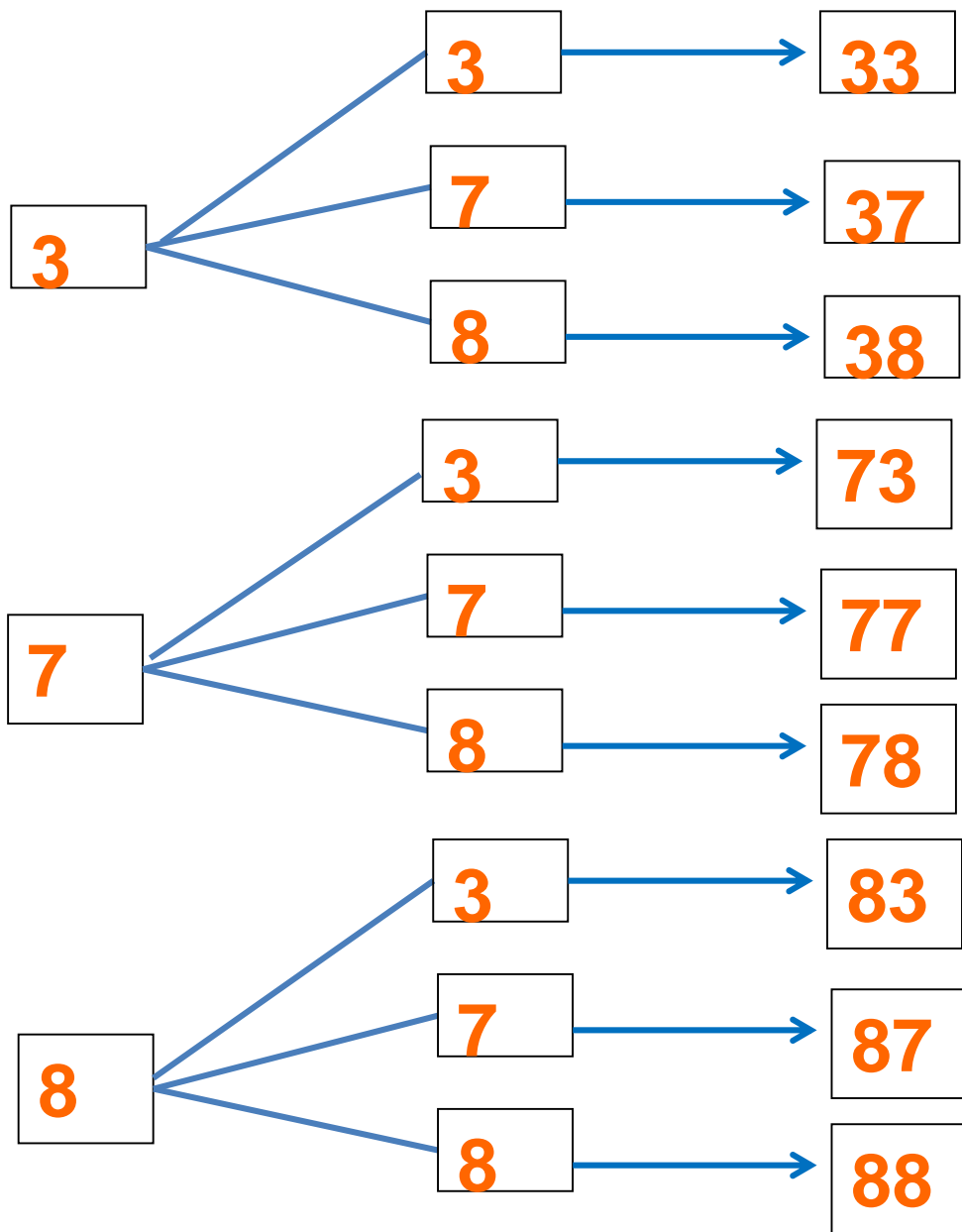
Số



Chục

Đơn vị

Số



A cartoon illustration featuring Tom the cat and Jerry the mouse. Tom is on the top left, peeking over a horizontal line. Jerry is on the bottom right, holding a vertical line. The background is light green with stylized white and pink flowers. The text is centered in the middle.

**TIẾT HỌC ĐẾN ĐÂY LÀ
KẾT THÚC !**