

CHÀO MỪNG CÁC EM ĐẾN VỚI TIẾT

TOÁN LỚP 1



Giáo viên:





luyện tập


1 Tìm số thích hợp (theo mẫu).

a) $35 - 2 = ?$



$$35 - 2 = 33$$

b) $18 - 3 = ?$



$$18 - 3 = 15$$


c) $16 - 4 = ?$



$$16 - 4 = 12$$

2 Đ, S ?

KẾT NỐI TRI THỨC
VỚI CUỘC SỐNG



a)

$$\begin{array}{r} 49 \\ - 3 \\ \hline 46 \end{array}$$

Đ

b)

$$\begin{array}{r} 88 \\ - 5 \\ \hline 73 \end{array}$$

S

c)

$$\begin{array}{r} 35 \\ - 2 \\ \hline 15 \end{array}$$

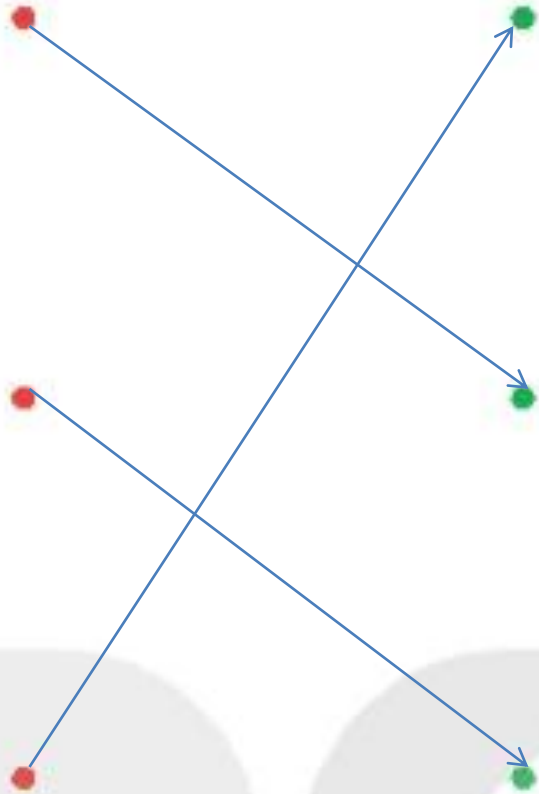
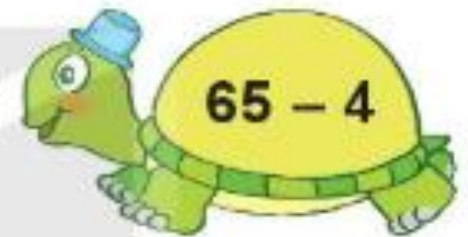
S

d)

$$\begin{array}{r} 56 \\ - 4 \\ \hline 52 \end{array}$$

Đ

3 Hai phép tính nào có cùng kết quả?



- 4 Có 18 bạn rùa và thỏ chơi trốn tìm, trong đó có 8 bạn rùa. Hỏi có bao nhiêu bạn thỏ?

$$18 - 8 = 10$$



Củng cố bài học



A

B