

CHÀO MỪNG CÁC EM ĐẾN VỚI TIẾT

TOÁN LỚP 1



Giáo viên:





luyện tập

1 Đặt tính rồi tính.

a) $53 + 4$

$57 - 4$

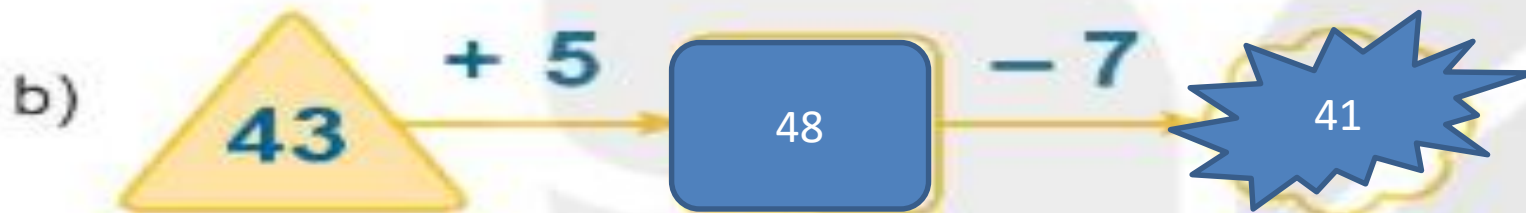

b) $65 + 3$

$68 - 3$

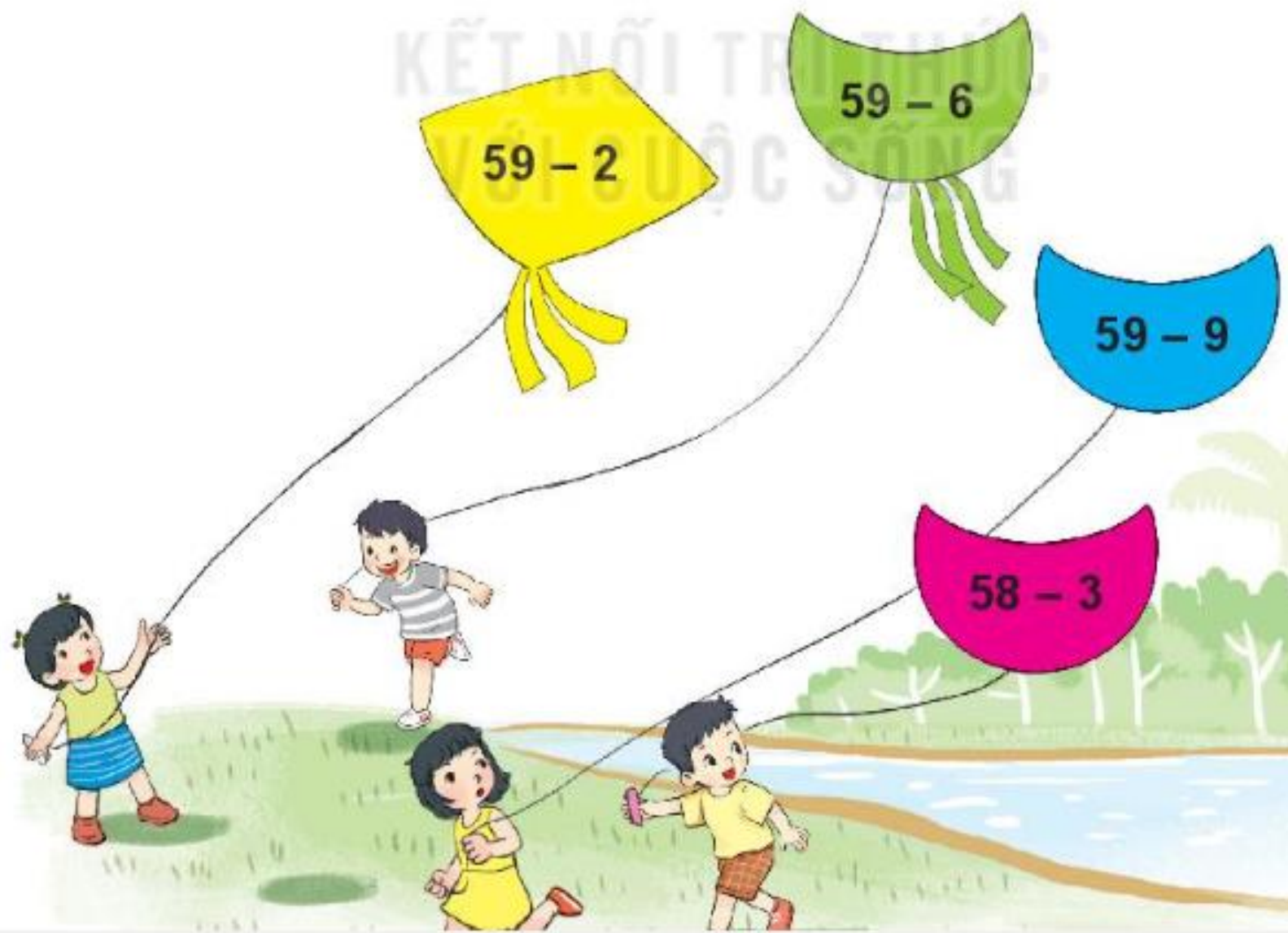
c) $95 + 2$

$97 - 2$

2 Số ?



3 Điều nào ghi phép tính có kết quả lớn hơn 55?



4 Cây dừa có 48 quả. Các bạn đã hái xuống 5 quả.
Hỏi trên cây còn lại bao nhiêu quả dừa?

$$48 - 5 = 43$$



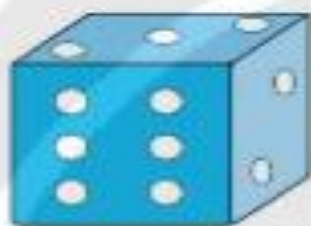


Trò chơi

Lấy đồ chơi nào?

Cách chơi:

$$49 - \boxed{?}$$



- Chơi theo nhóm.
- Khi đến lượt, người chơi gieo xúc xắc. Đếm số chấm nhận được ở mặt trên xúc xắc. Lấy 49 trừ đi số nhận được. Lấy các đồ chơi ghi số bằng kết quả phép tính đó.
- Trò chơi kết thúc khi lấy được 6 đồ chơi.



Củng cố bài học



A



B