

# KHƠI ĐÔNG



# ĐỒ VUI CÓ THƯỞNG




## Luật chơi

- Quan sát câu hỏi và ghi đáp án vào bảng con.
- Trả lời đúng được 1 bông hoa điểm cộng.

Làm tròn số sau ở  
hàng nghìn: 63 252

63 000


+1





Làm tròn số sau ở hàng  
chục nghìn: 58 632


60 000

+1





Làm tròn số sau ở hàng  
chục nghìn : 12 345



**10 000**





KẾT NỐI TRI THỨC  
VỚI CUỘC SỐNG

Bài 62:

Toán 3

# Luyện tập chung



LUYỆN

TẬP



## Bài 1

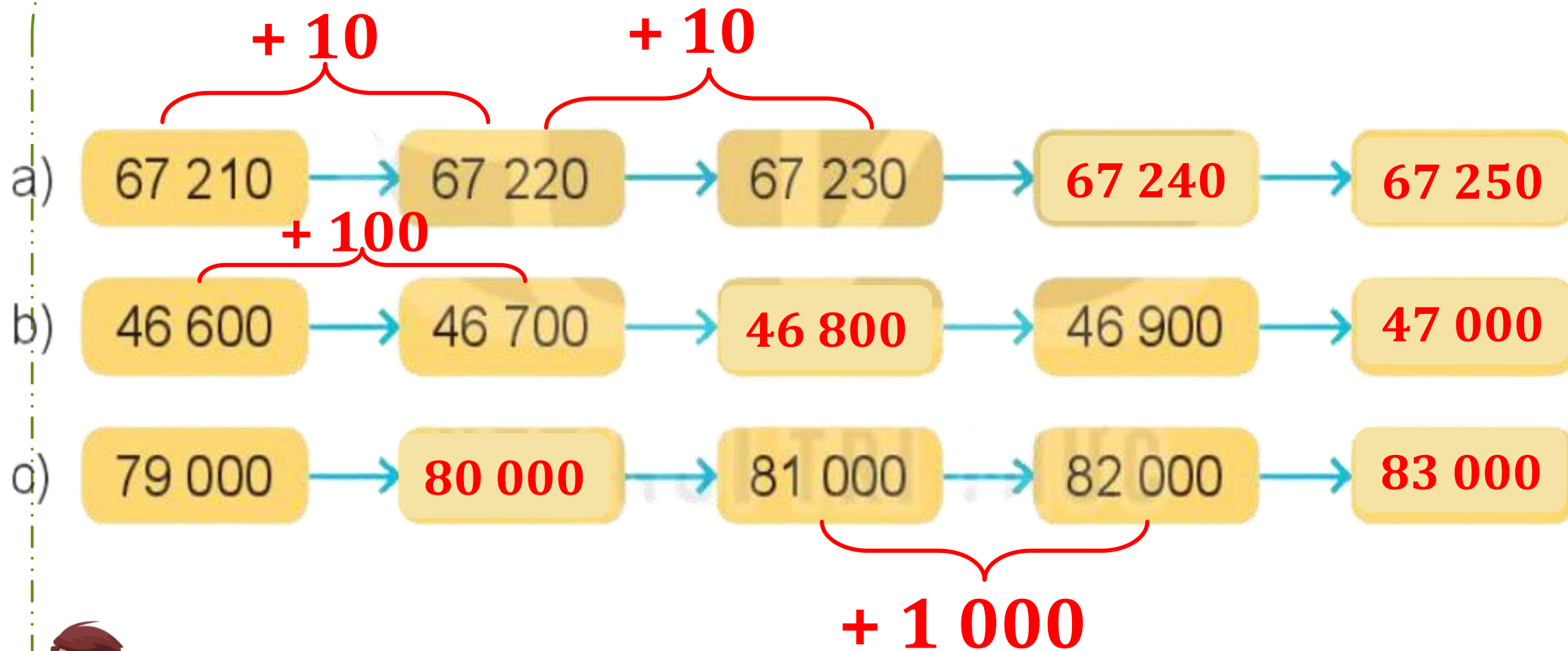
# Hoàn thành bảng sau

Viết số	Đọc số
51 254	<b>Năm mươi một nghìn hai trăm năm mươi tư</b>
<b>38 519</b>	Ba mươi tám nghìn năm trăm mười chín
26 856	<b>Hai mươi sáu nghìn tám trăm năm mươi sáu</b>
<b>79 600</b>	Bảy mươi chín nghìn sáu trăm



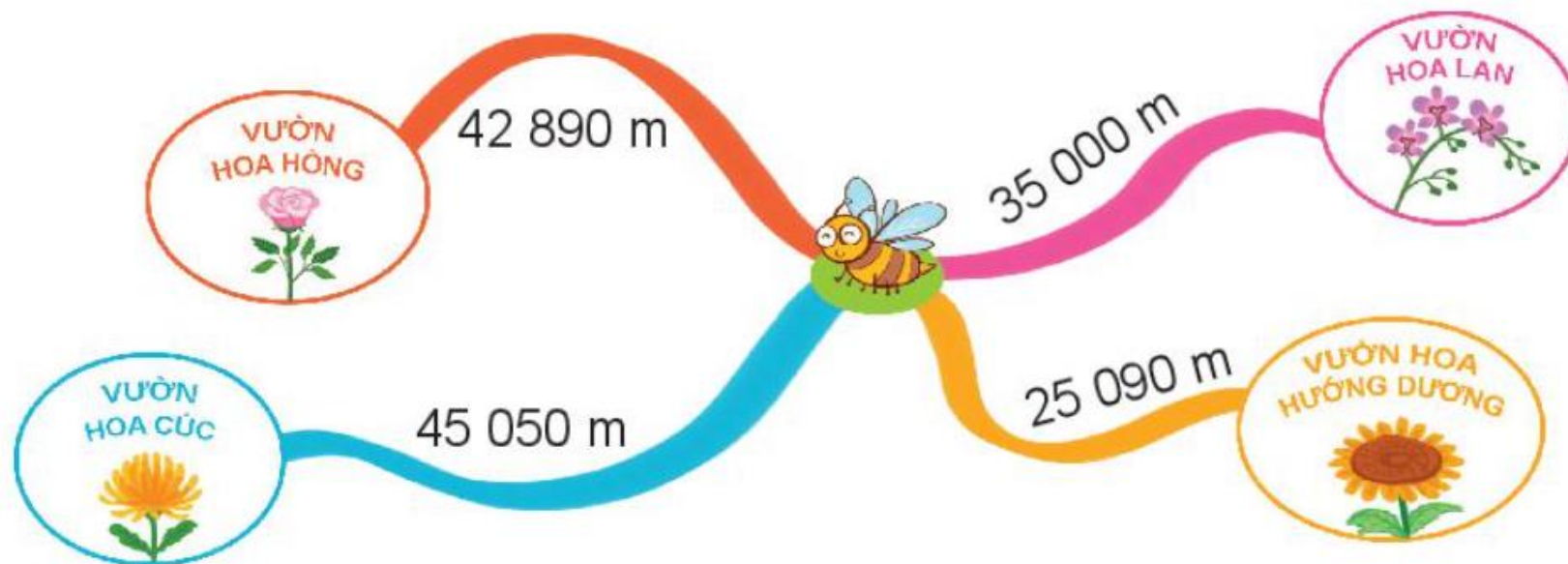


## Bài 2: Số



### Bài 3

**Khoảng cách từ vị trí ong vàng đến các vườn hoa được cho như hình sau:**




**Từ vị trí ong vàng đến vườn hoa nào xa nhất? Từ vị trí ong vàng đến vườn hoa nào gần nhất?**

**So sánh:  $25\ 090\ m < 35\ 000\ m < 42\ 890\ m < 45\ 050\ m$**

**Từ vị trí ong vàng đến vườn hoa cúc xa nhất.**

**Từ vị trí ong vàng đến vườn hoa hướng dương gần nhất.**



**4 Đ, S?**

a)  $62\ 820 > 7\ 382$  **Đ**

b)  $52\ 794 < 60\ 000$  **Đ**

c)  $8\ 000 + 400 > 9\ 000$  **S**  
 $8\ 400$

d)  $5\ 400 - 400 = 5\ 000$  **Đ**  
 $5\ 000$



# Dặn dò



GV ĐIỀN VÀO ĐÂY



GV ĐIỀN VÀO ĐÂY



GV ĐIỀN VÀO ĐÂY



GV ĐIỀN VÀO ĐÂY



CẢM ƠN QUÍ THẦY CÔ  
VÀ CÁC EM HỌC SINH  
THÂN MẾN!

