

Toán

BÀI 62: LUYỆN TẬP CHUNG

(Tiết 3)



Yêu cầu cần



đạt



Củng cố về so sánh và làm tròn số trong phạm vi 100 000



KHƠI ĐỘNG



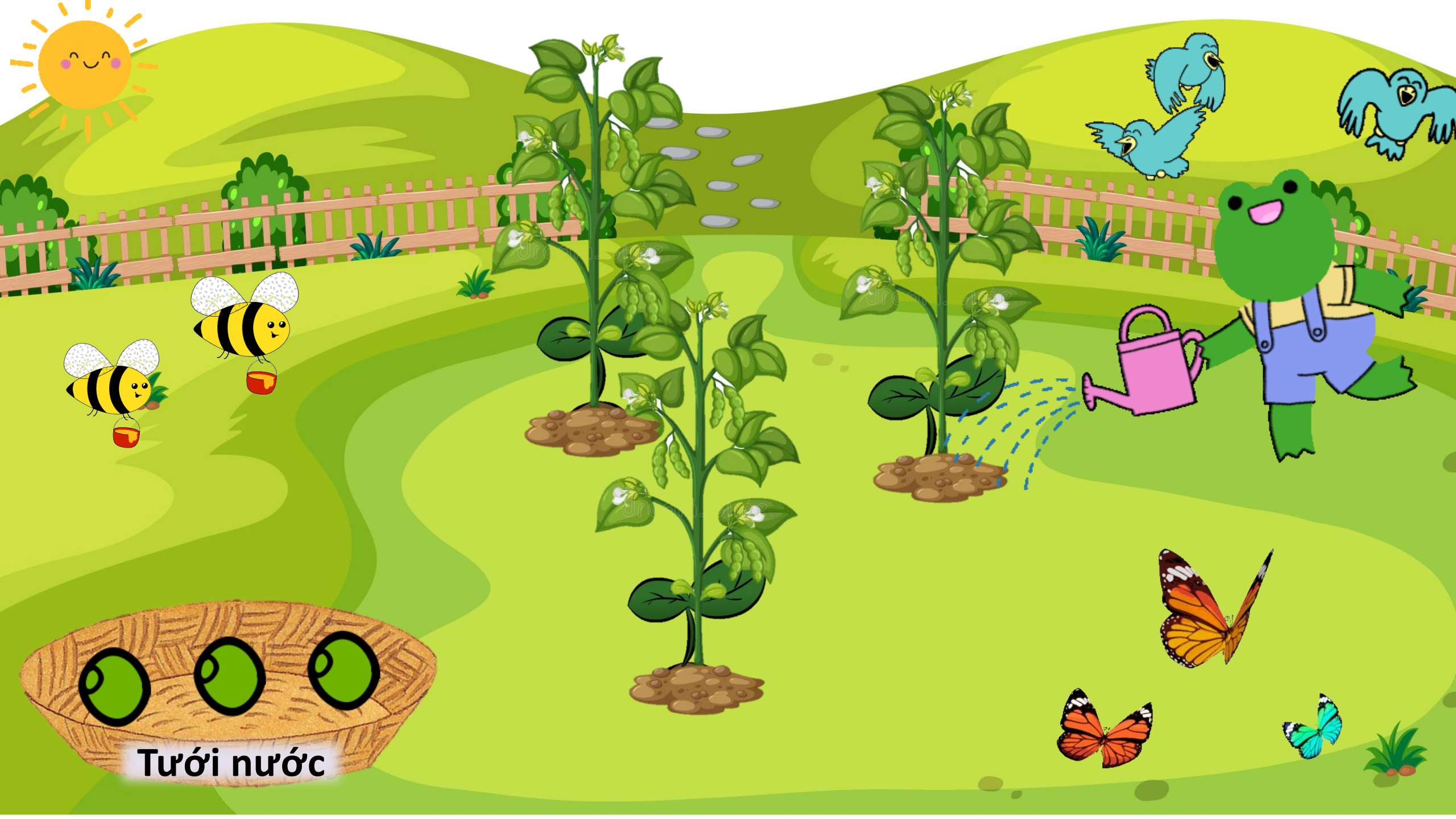
GAME: GIEO HẠT - LÀM ĐẸP KHU VƯỜN

Để làm đẹp khu vườn, chúng mình chọn các hạt đậu bất kì gieo xuống đất. Ở các câu hỏi, chúng mình click vào mặt trời để quay về khu vườn.

Sau khi gieo xong các hạt, chúng mình click vào "tưới nước" để khám phá điều kì diệu nhé!

Làm đẹp khu vườn xong rồi, chúng mình click vào mặt trời để đi tới nhiệm vụ học tập tiếp thôi nào!





Tưới nước



Làm tròn số 2 345 đến hàng chục

A. 2 350



B. 2 340



C. 2 400





Làm tròn số 2 345 đến hàng trăm

A. 2 400



B. 2 300



C. 2 340





Làm tròn số 2 345 đến hàng nghìn

A. 2 300



B. 3 000



C. 2 000



LUYỆN TẬP



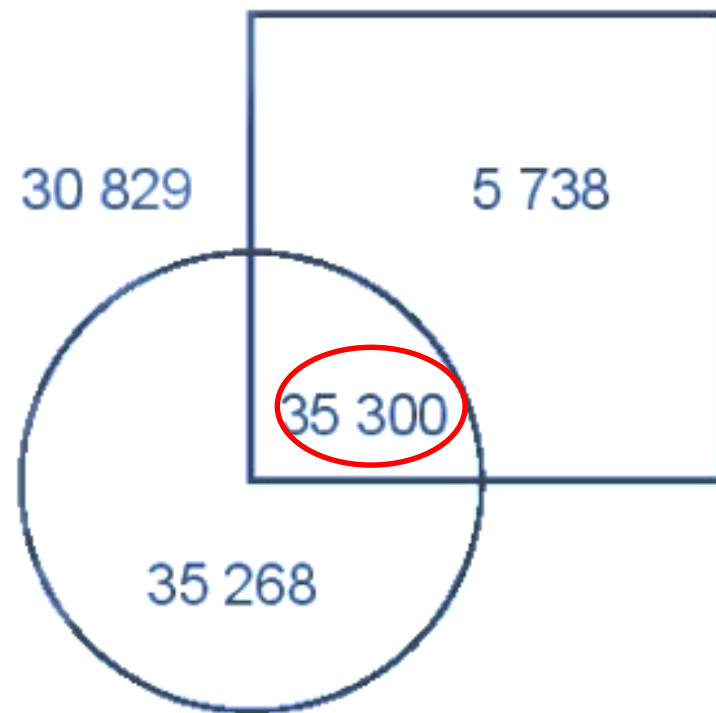
1 Quan sát hình rồi chọn câu trả lời đúng.

Số lớn nhất nằm ở vị trí nào?


- A. Ở trong hình tròn và ở trong hình vuông.
- B. Ở trong hình vuông nhưng ở ngoài hình tròn.
- C. Ở trong hình tròn nhưng ở ngoài hình vuông.



Trong các số trên số nào lớn nhất



2



a) Dựa vào số lượng ong, chọn câu trả lời đúng:
Làm tròn đến hàng nghìn, đàn ong có khoảng:

A. 26 000 con ong

B. 27 000 con ong

C. 25 000 con ong



**Thảo luận
nhóm 2**

Khi làm tròn số đến hàng nghìn, ta so sánh chữ số hàng trăm với 5. Nếu chữ số hàng trăm bé hơn 5 thì làm tròn xuống, còn lại thì làm tròn lên.



2



b) Làm tròn số lượng ong đến hàng trăm, đến hàng chục nghìn.

Làm tròn đến hàng trăm

$$26\ 781 \xrightarrow[\text{làm tròn lên}]{\text{vì } 7 > 5} 26\ 800$$

Làm tròn đến chục nghìn

$$26\ 781 \xrightarrow[\text{làm tròn lên}]{\text{vì } 6 > 5} 30\ 000$$



- **Cách thức:** Chơi theo nhóm.

Chuẩn bị: Mỗi nhóm 1 xúc xắc và 5 quân cờ.

Cách chơi:

- Khi đến lượt, người chơi gieo xúc xắc và đọc số chấm xuất hiện ở mặt trên xúc xắc. Sau đó, người chơi tìm số tương ứng với mặt xúc xắc đó ở trong bảng (ví dụ số thích hợp với mặt lá 37 542). Người chơi đặt một quân cờ vào quả bóng ghi số vừa tìm được.
- Hai người chơi luân phiên nhau.
- Trò chơi kết thúc khi đặt được hết 5 quân cờ.



Số gồm



3 chục nghìn, 7 nghìn, 5 trăm, 4 chục, 2 đơn vị



2 chục nghìn, 5 nghìn, 3 trăm, 6 chục



6 chục nghìn, 8 nghìn, 5 trăm, 1 đơn vị



8 chục nghìn, 6 trăm, 5 chục, 7 đơn vị



7 chục nghìn, 9 nghìn, 4 chục



9 chục nghìn, 2 nghìn, 4 chục, 8 đơn vị



**TẠM BIỆT
VÀ
HẸN GẶP LẠI**

