

# Bài 33: LUYỆN TẬP CHUNG

**Giáo viên:**



# Tiết 1





Cây gia đình

Nhạc Quỳnh Hợp  
Lời thơ Nguyễn Thị Mai

Karaoke D



1 a) Tính:

$20 + 5$

$36 + 1$

$57 - 40$

$74 - 24$

b) Tính nhẩm.

$20 + 30$

$40 + 10$

$70 - 20$

$90 - 40$

# TRÒ CHƠI HÁI DỪA



**Bấm vào chú khỉ sẽ ra câu hỏi, đội nào trả lời đúng, bấm vào chữ hái. Đội nào hái nhiều hơn bấm vào ngôi sao Dưới màn hình.**



Sản phẩm của TRỢ GIANG



$40 + 10 =$

$20 + 5 =$

$70 - 20 =$

$36 + 1 =$

$90 - 40 =$

$57 - 40 =$

$74 - 24 =$

$20 + 30 =$

Chúc mừng đội A Chúc mừng đội B

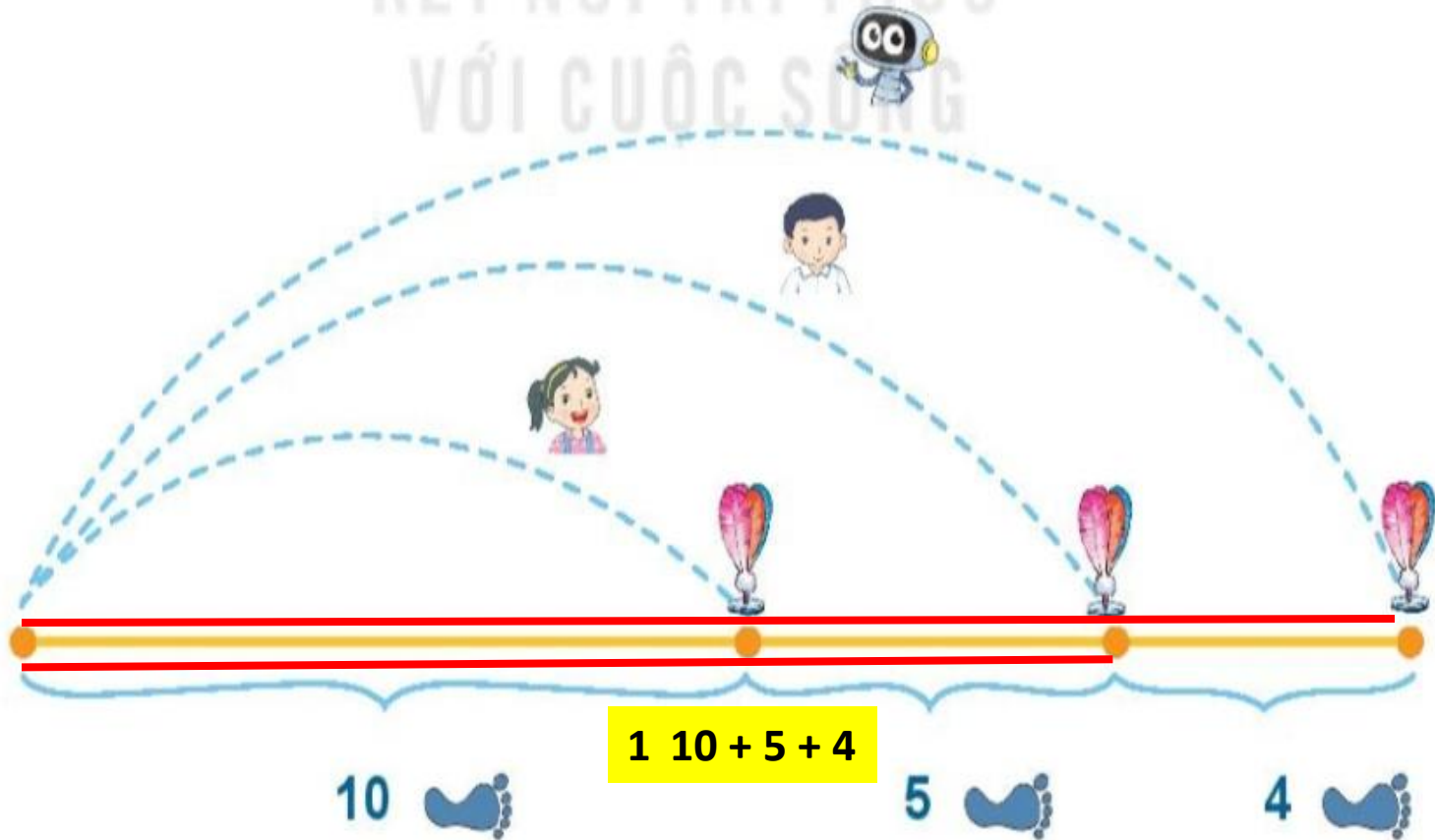


Sản phẩm của TRỢ GIẢNG



2 Mai, Việt và Rô-bốt chơi đá cầu. Em hãy tìm số bước chân thích hợp.

KẾT NỐI TRI THỨC  
VỚI CUỘC SỐNG



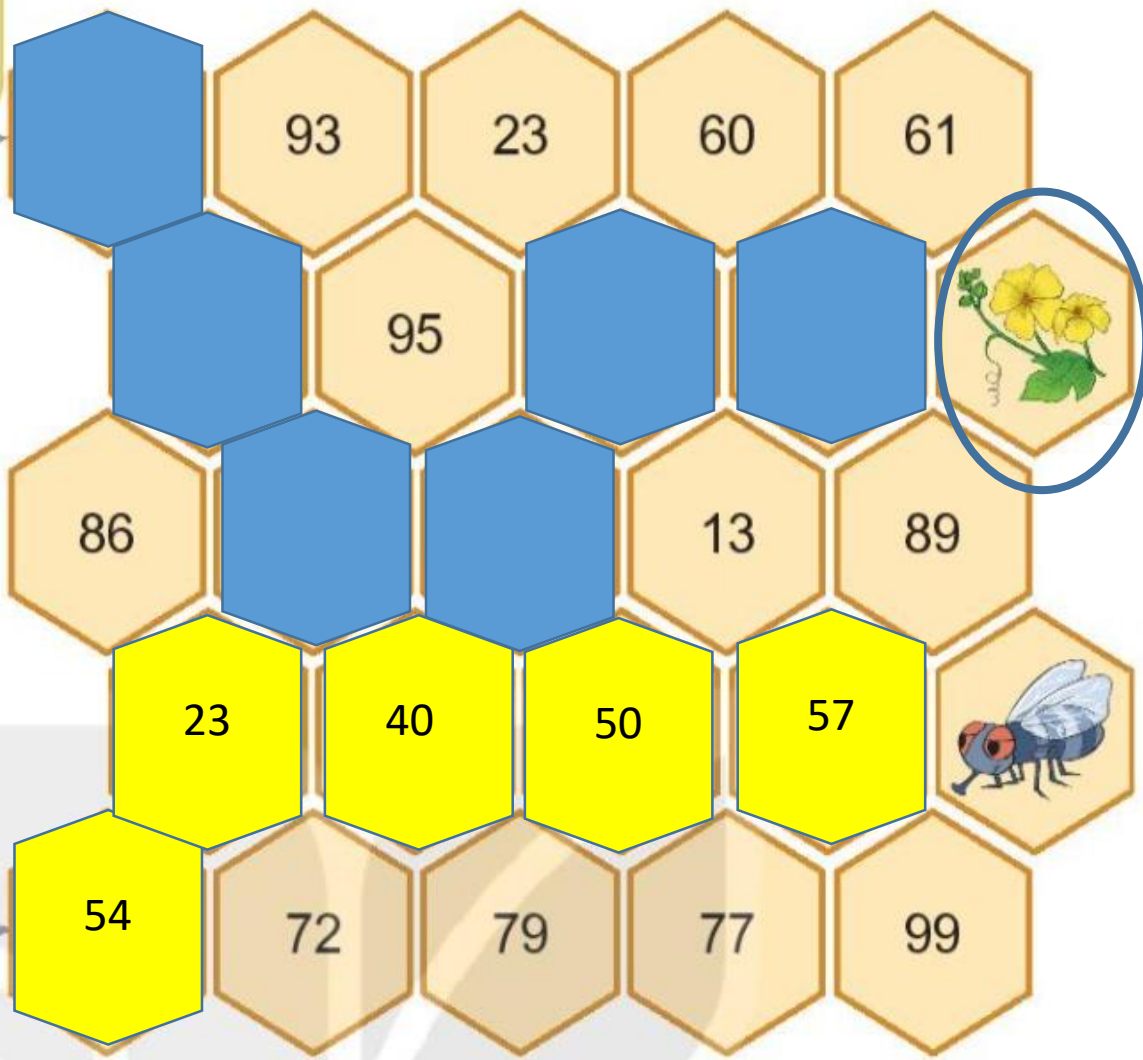
 : **10**   
 : **15**   
 : **19** 

### 3 Chú ếch nào được ăn hoa mướp?

Tớ đi theo các ô có số bằng  $20 + 40$ .



Tớ đi theo các ô có số bé hơn 60.








- 4 Anh Khoai phải sắp xếp các đốt tre thành phép tính đúng. Nhưng do vội quá nên anh xếp nhầm hai đốt tre. Em hãy xếp lại giúp anh Khoai nhé!

VỚI CUỘC SỐNG



# Tiết 2



## 1. Đặt tính rồi tính

$$23 + 5$$

$$\begin{array}{r} 23 \\ + 5 \\ \hline 28 \end{array}$$

$$67 + 2$$

$$\begin{array}{r} 67 \\ + 2 \\ \hline 69 \end{array}$$

$$48 - 3$$

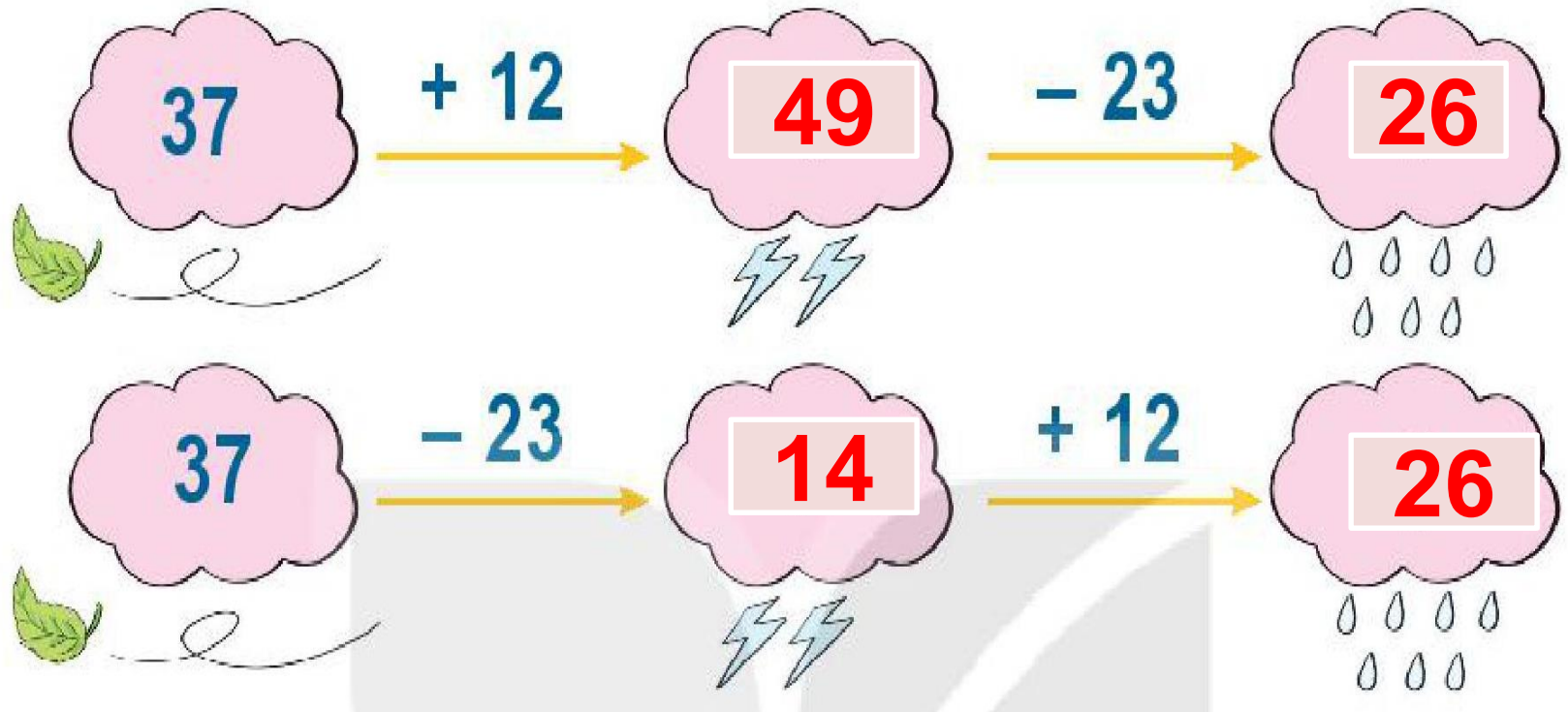
$$\begin{array}{r} 48 \\ - 3 \\ \hline 45 \end{array}$$

$$95 - 41$$

$$\begin{array}{r} 95 \\ - 41 \\ \hline 54 \end{array}$$



2 Số ?





# luyện tập

3 Số ?

$$\begin{array}{r} 12 \\ + 24 \\ \hline 36 \end{array}$$

$$\begin{array}{r} 43 \\ + 13 \\ \hline 56 \end{array}$$

$$\begin{array}{r} 68 \\ - 21 \\ \hline 47 \end{array}$$



# luyện tập

- 4 Trên cây thị có 74 quả. Gió lay làm rụng 21 quả. Hỏi trên cây còn lại bao nhiêu quả thị?

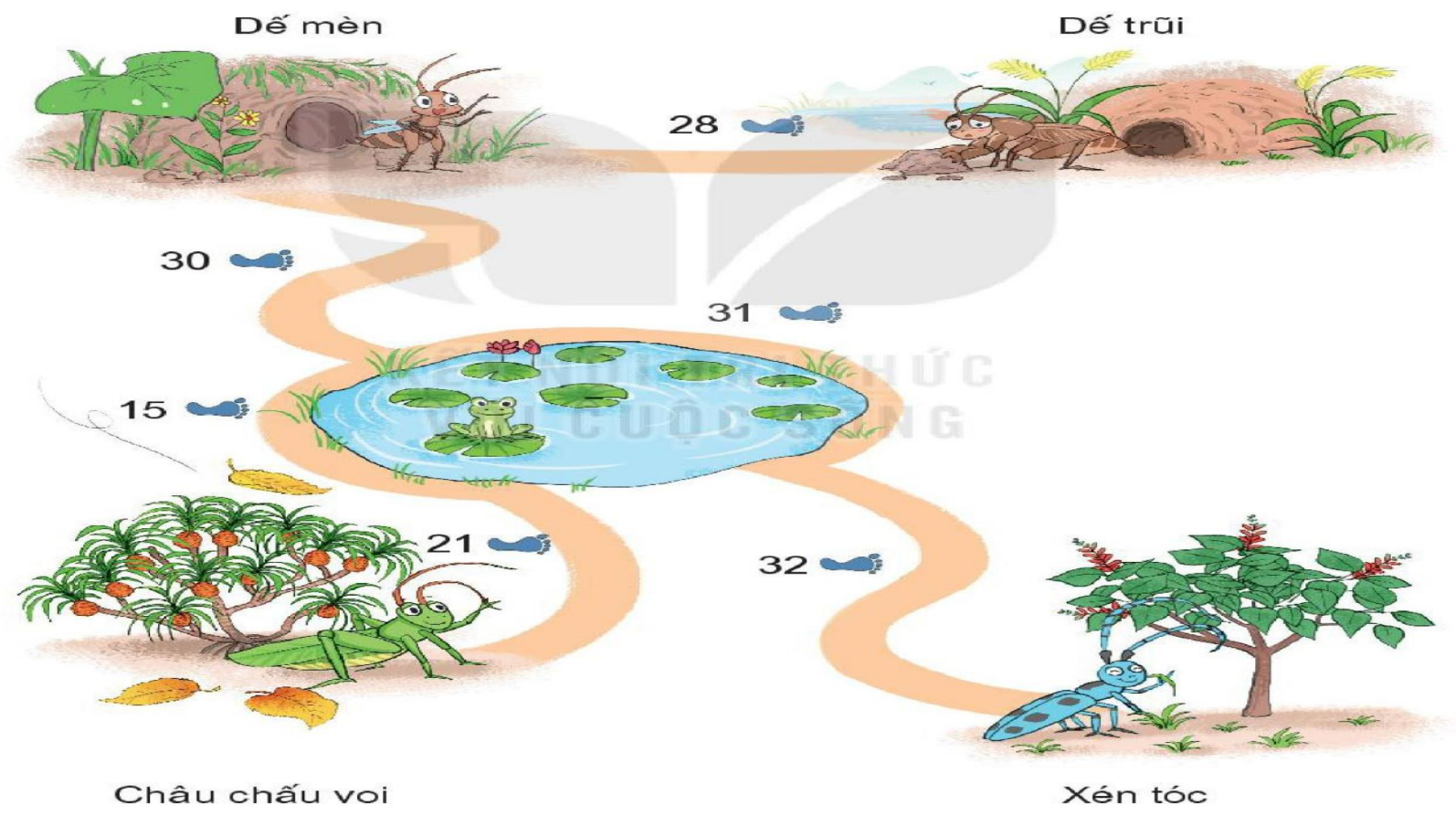
74	-	21	=	53
----	---	----	---	----

Em hãy nêu câu trả lời.

**Trên cây còn lại 53 quả thị.**



- 5** Đế mèn phiêu lưu kí.
- a) Xem tranh rồi tính:
- Từ nhà đế mèn đến nhà bác xén tóc dài bao nhiêu bước chân?
  - Từ nhà đế mèn đến nhà châu chấu voi dài bao nhiêu bước chân?
- b) Nhà ai gần nhà đế mèn nhất?



# Tiết 3







1 Đặt tính rồi tính.

$$31 + 7$$

$$\begin{array}{r} 31 \\ + \quad 7 \\ \hline \end{array}$$

**38**

$$23 + 64$$

$$\begin{array}{r} 23 \\ + 64 \\ \hline \end{array}$$

**87**

$$86 - 15$$

$$\begin{array}{r} 86 \\ - 15 \\ \hline \end{array}$$

**71**

$$95 - 3$$

$$\begin{array}{r} 95 \\ - \quad 3 \\ \hline \end{array}$$

**92**

- 2** Trong hai ngày, tráng sĩ uống hết 49 bầu nước. Ngày thứ nhất, tráng sĩ uống hết 25 bầu nước. ~~Hỏi~~ Ngày thứ hai, tráng sĩ uống hết ~~bao nhiêu~~ bầu nước?

49	-	25	=	24
----	---	----	---	----

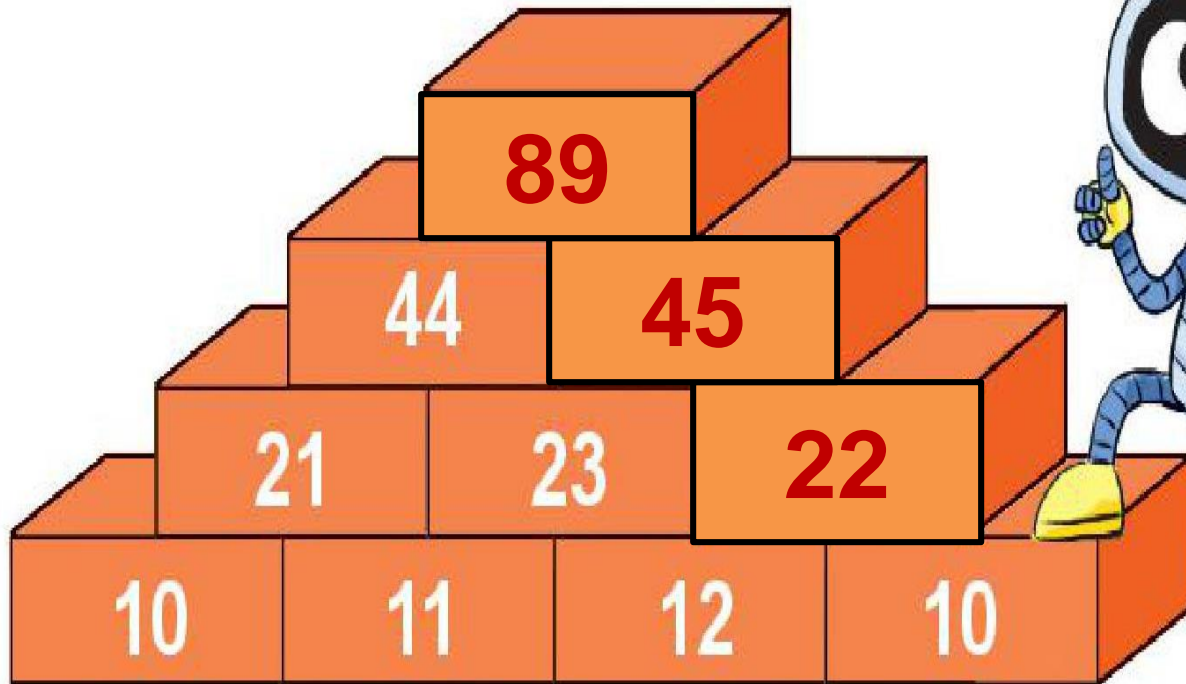
**Ngày thứ hai, tráng sĩ uống hết 24 bầu nước.**



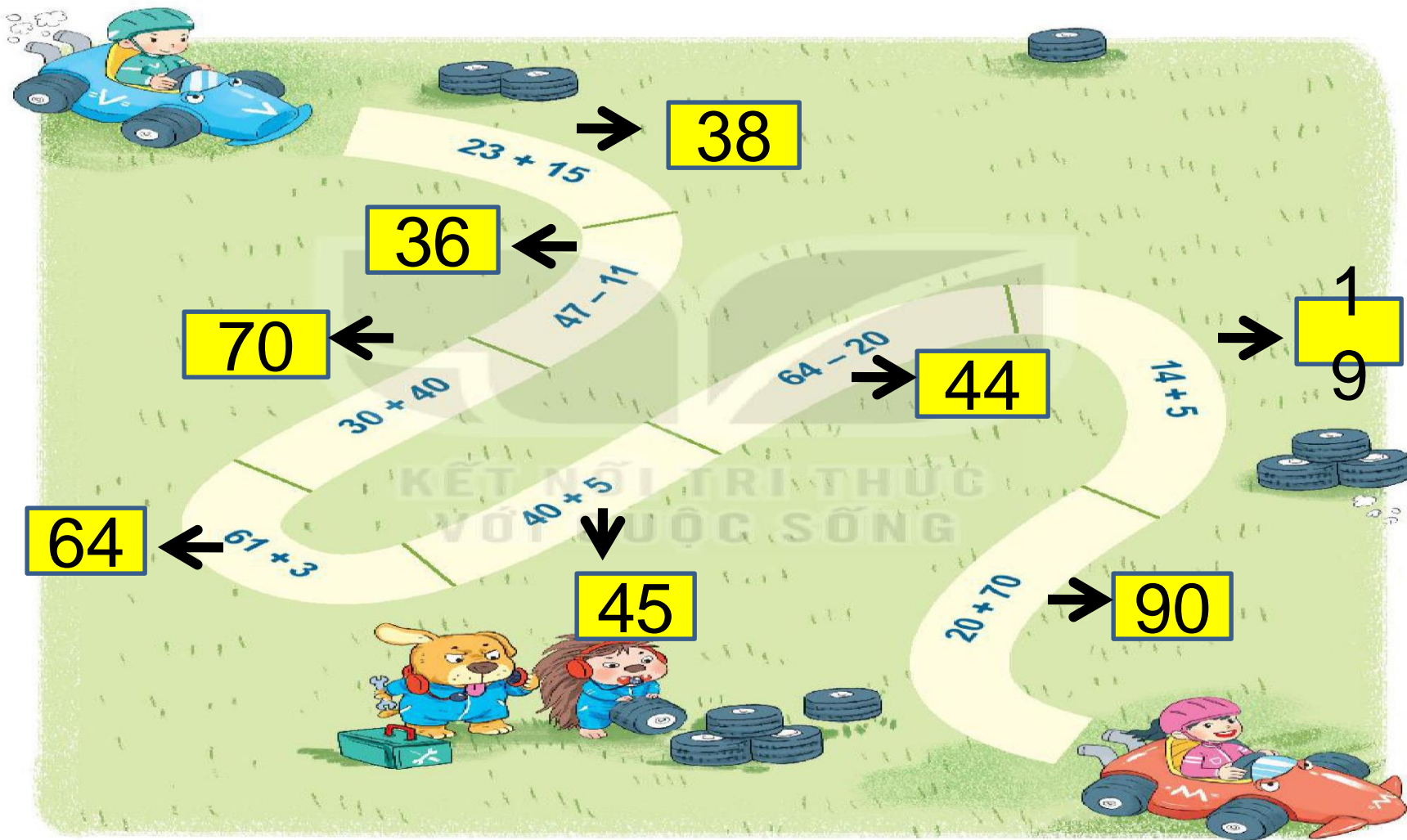


# luyện tập

3 Số ?



4 Tính:



38

$23 + 15$

36

$47 - 11$

70

$30 + 40$

44

$64 - 20$

19

$14 + 5$

64

$61 + 3$

45

$40 + 5$

90

$20 + 70$

# Tiết 4





1 Tính:

$$25 + 40$$

$$41 + 8$$

$$99 - 9$$

$$65 - 62$$

$$25 + 40 = 65$$

$$99 - 9 = 90$$

$$41 + 8 = 49$$

$$65 - 62 = 3$$



# luyện tập

2 Số ?

$$\begin{array}{r} 18 \\ + 50 \\ \hline 68 \end{array}$$

$$\begin{array}{r} 40 \\ - 10 \\ \hline 30 \end{array}$$

$$\begin{array}{r} 35 \\ + 33 \\ \hline 68 \end{array}$$



# luyện tập

- 3 Số quả thông ở hai bên bằng nhau. Hỏi trong túi màu đỏ có bao nhiêu quả thông?



45	+	33	=	78
----	---	----	---	----

Trong túi màu đỏ có 78 quả thông.





4 Tính:

a)  $\cancel{20} + \cancel{40} + \cancel{40} + 1 = 61$

b)  $\cancel{15} - \cancel{15} - \cancel{60} - \cancel{2} + 11 = 12$

c)  $\cancel{40} + \cancel{15} + \cancel{2} + 2 = 57$



**5** Trên ga có 3 đoàn tàu.

a) Đoàn tàu A có 10 toa. Đoàn tàu B có 12 toa. Hỏi cả hai đoàn tàu có bao nhiêu toa?

$$10 + 12 = 22$$

Cả hai đoàn tàu có 22 toa.

b) Đoàn tàu C có 15 toa chở khách và chở hàng. Trong đó có 3 toa chở hàng. Hỏi đoàn tàu C có bao nhiêu toa chở khách?

$$15 - 3 = 12$$

Đoàn tàu C có 12 toa chở khách.



**Củng cố**

