

PHÒNG GIÁO DỤC VÀ ĐÀO TẠO QUẬN LONG BIÊN
TRƯỜNG MẦM NON HOA MỘC LAN



LĨNH VỰC PHÁT TRIỂN NHẬN THỨC
HOẠT ĐỘNG LÀM QUEN VỚI TOÁN

Đề tài: Dạy trẻ nhận biết chữ số 7, số lượng và số thứ tự
trong phạm vi 7

Lứa tuổi: Mẫu giáo lớn 5 - 6 tuổi



Mục đích yêu cầu

* Kiến thức:

- Trẻ ôn nhận biết chữ số từ 1 đến 6, ôn số lượng trong phạm vi 6.
- Trẻ nhận biết chữ số 7, biết tạo nhóm có số lượng là 7. Nhận biết các nhóm đối tượng có số lượng là 7, số thứ tự trong phạm vi 7.

* Kỹ năng:

- Rèn kỹ năng đếm lần lượt từ trái qua phải, đếm không bỏ sót.
- Rèn kỹ năng quan sát, so sánh, ghi nhớ.
- Rèn trẻ nói to, rõ ràng, đủ câu.
- Trẻ chơi trò chơi đúng luật.

* Thái độ:

- Trẻ hứng thú tham gia vào hoạt động.




Hoạt động 1

Ôn nhận biết số 6, số lượng trong phạm vi 6

4




5



The illustration depicts a vibrant classroom. On the left, a stack of colorful books is topped with a red apple. A boy in a blue shirt and yellow backpack carries a large stack of books. Next to him, a boy in a blue cap and purple shirt holds a large orange backpack. In the center, a boy in a blue shirt with a yellow smiley face on it is jumping joyfully. To his right, a girl in a pink dress with a crown on her head sits at a desk. Further right, a girl in a red and white striped shirt sits at another desk with a pink backpack. On the far right, a teacher in a blue shirt stands behind a green chalkboard. The background is a white wall with a blue border, decorated with a blue pen writing on an open book in the top left and several colorful paper airplanes in the top right.

**Các con cùng tiếp tục ôn luyện với
anh Kiến tím nhé**






Hoạt động 2

Nhận biết chữ số 7, số lượng và số thứ tự trong phạm vi 7





6

7



Ngoài nhóm thỏ và cà rốt, cô còn có thêm một số nhóm nữa. Nhóm gì đây hả các con?



7



7



7





Các con cùng gặp lại anh Kiến tím nhé!



VTV7 123 TA CÙNG ĐEM
ONLINE SỐ 7



*Cô có một dãy số tự nhiên, các con
hãy cùng đọc to với cô nào!*



1

2

3




4

5

6

7





1

2

3




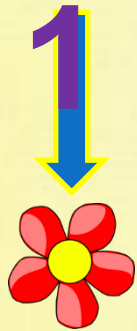
4

5

6

7





1

2

3





4

5

6

7





1

2

3

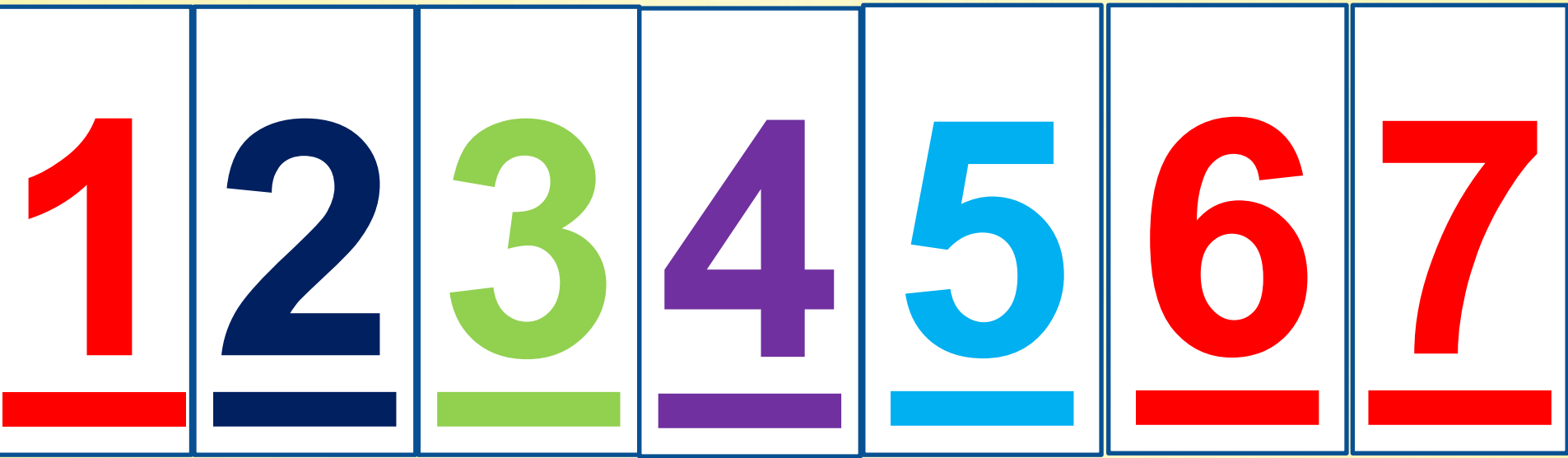
4

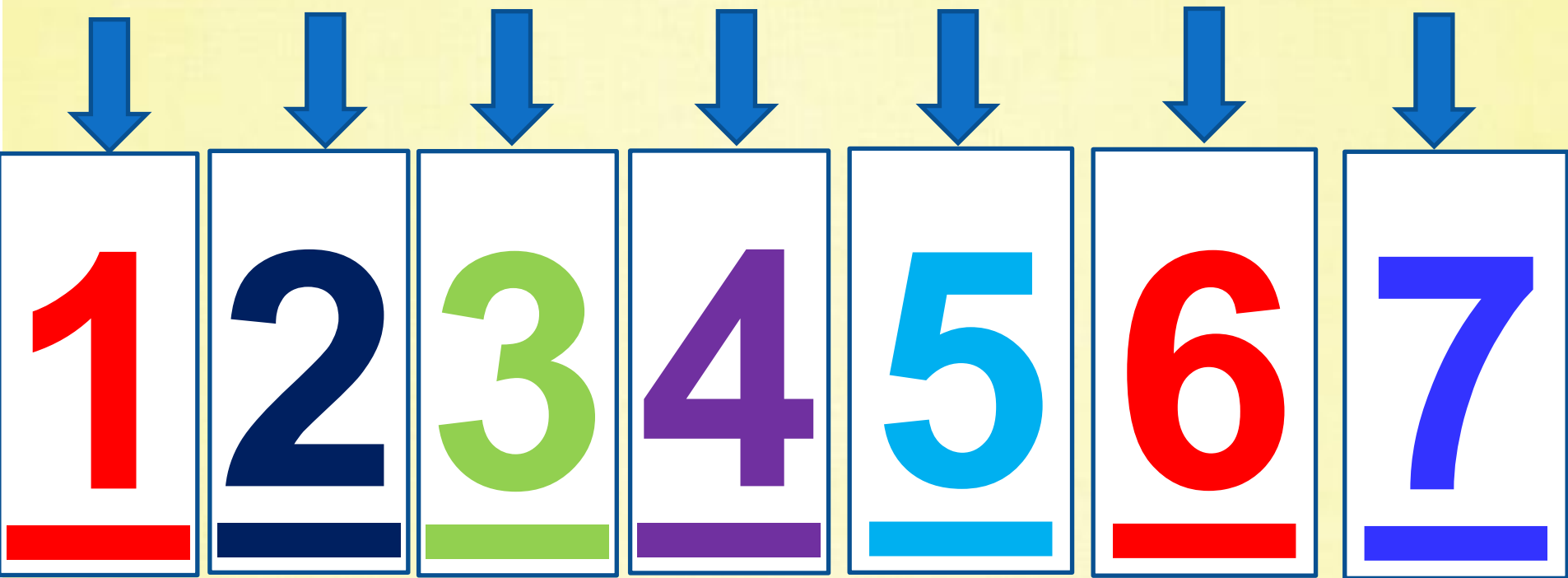
5

6

7







Các con nhìn thấy số 7 ở những đâu?



0917102283





Trò chơi: Bé thông minh



A

B




C

D

E



Câu 1: Bé hãy tìm xem nhóm quả nào có số lượng là 7?



Hết giờ

Câu 2: Các con hãy tìm xem những số 7 và nhóm số lượng 7 có ở đâu trong phòng nhé?



7

A. Số 7 trên đồng hồ

B. Bức tranh lọ hoa sen có 7 bông hoa sen

C. Bức tranh có 7 người

D. Số 7 phía sau ghế sofa

E. Tất cả các đáp án trên



Câu 3: Đố bé số còn thiếu trong ô trống là số nào?



Đáp án:

A. 5; 7

B. 2; 6

C. 3; 4

D. 1; 7



Cô chào và hẹn gặp lại các con!

