

PHÒNG GIÁO DỤC VÀ ĐÀO TẠO QUẬN LONG BIÊN
TRƯỜNG MẦM NON SƠN CA



LĨNH VỰC PHÁT TRIỂN NHẬN THỨC
HOẠT ĐỘNG LÀM QUEN VỚI TOÁN

**Đề tài: Dạy trẻ nhận biết chữ số 8, số lượng và số thứ tự
trong phạm vi 8**

Lứa tuổi: Mẫu giáo lớn 5 - 6 tuổi

Năm học: 2022 - 2023

Mục đích yêu cầu

* Kiến thức:

- Trẻ ôn nhận biết chữ số từ 1 đến 7, ôn số lượng trong phạm vi 7.
- Trẻ nhận biết chữ số 8, biết tạo nhóm có số lượng là 8. Nhận biết các nhóm đối tượng có số lượng là 8, số thứ tự trong phạm vi 8.

* Kỹ năng:

- Rèn kỹ năng đếm lần lượt từ trái qua phải, đếm không bỏ sót.
- Rèn kỹ năng quan sát, so sánh, ghi nhớ.
- Rèn trẻ nói to, rõ ràng, đủ câu.
- Trẻ chơi trò chơi đúng luật.

* Thái độ:

- Trẻ hứng thú tham gia vào hoạt động.

Hoạt động 1

Ôn nhận biết số 7, số lượng trong phạm vi 7





1

2

3

4

5

5

6



The illustration depicts a vibrant classroom. On the left, a stack of colorful books is topped with a red apple. A boy with a yellow backpack and a girl with a blue cap and orange backpack stand nearby. In the center, a boy in a blue shirt with arms raised, a girl in a pink dress with a crown, and a girl in a red striped shirt with a pink backpack are seated at desks. A teacher in a blue dress stands behind the desks. On the right, a large green blackboard on a wooden stand holds a stack of yellow books and a white eraser. The background is a white sheet of paper with a blue border, featuring a blue pen writing on an open book in the top left and several colorful paper airplanes in the top right.

**Các con cùng tiếp tục ôn luyện với
anh Kiến tím nhé**


VTV7 123 TA CÙNG ĐEM
ONLINE SỐ 7






Hoạt động 2

Nhận biết chữ số 8, số lượng và số thứ tự trong phạm vi 8




8



8

Ngoài nhóm táo và cam, cô còn có thêm một số nhóm nữa. Đố các con biết đây là nhóm gì?



8



VTV7 123 TA CÙNG ĐẾM
ONLINE SỐ 8



The image features a white background with a faint grid pattern. In the top right corner, there are several green leaves and branches, likely from a tree or shrub, extending into the frame. The leaves are vibrant green and have a natural, slightly irregular shape.

Các con cùng gặp lại anh Kiến tím nhé!

VTV7 123 TA CÙNG ĐẾM
ONLINE SỐ 8



*Cô có một dãy số tự nhiên, các con
hãy cùng đọc to với cô nào!*

1

2

3


4

5

6

7

8



1

2

3

4

5

6

7

8



1

2

3

4

5

6

7

8



1

2

3


4

5


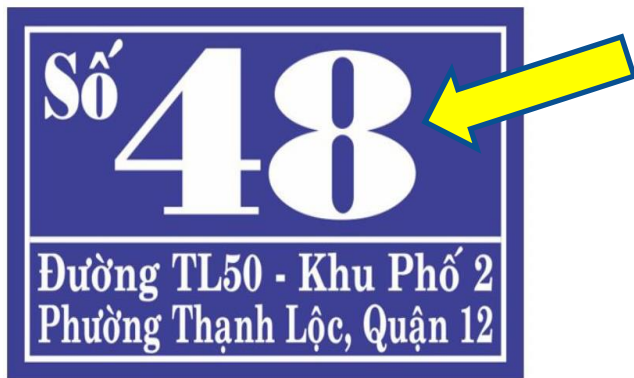
6

7

8



Các con nhìn thấy số 8 ở những đâu?



0982349639





Trò chơi: Bé thông minh



A

B

C

D



A: 8

B: 5

C: 3


D: 7

A: 6


B: 5

C: 8


D: 9




Câu 1: Bé hãy tìm xem nhóm quả nào có số lượng là 7?



A. Nhóm những quả táo



B. Nhóm những quả cam



C. Nhóm những quả dưa hấu



D. Nhóm những quả đào

Câu 3: Đố bé số còn thiếu trong ô trống là số nào?



Đáp án:

A. 5; 7

B. 2; 6

C. 3; 4

D. 1; 7



Cô chào và hẹn gặp lại các con!

