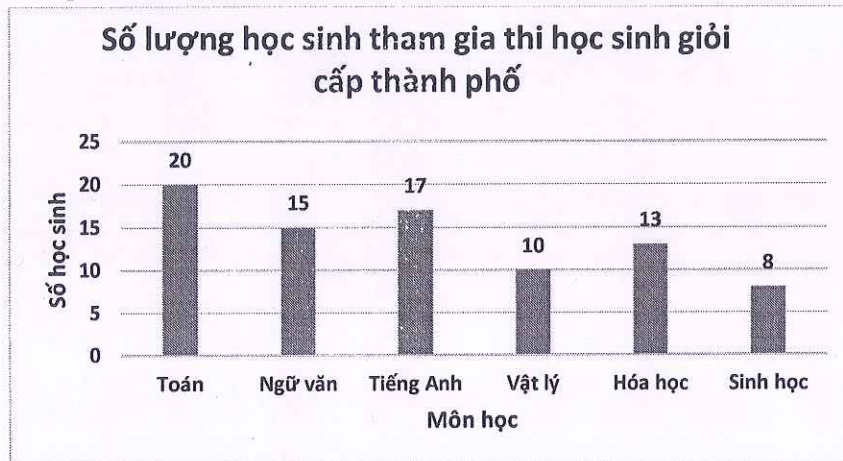


Phần I: Trắc nghiệm khách quan (3 điểm):

Hãy chọn chữ cái đứng trước câu trả lời đúng rồi ghi vào bài làm.

Câu 1. Dựa vào biểu đồ dưới đây, cho biết môn học nào có số học sinh tham gia dự thi học sinh giỏi cấp thành phố nhiều nhất?



- A. Toán B. Ngữ Văn C. Hóa D. Tiếng Anh

Câu 2. Tung đồng xu 32 lần liên tiếp, có 18 lần xuất hiện mặt sấp thì xác suất thực nghiệm xuất hiện mặt ngửa là:

- A. $\frac{18}{32}$ B. $\frac{7}{16}$ C. $\frac{12}{32}$ D. $\frac{3}{8}$

Câu 3. Làm tròn số thập phân 23,4567 đến hàng phần trăm ta được số:

- A. 22,45 B. 23,5 C. 23,46 D. 23,457

Câu 4. Kết quả của phép tính $0,35 - 4,5 + 1,65 - 5,5$ là:

- A. 8 B. - 8 C. - 12 D. 6.

Câu 5. Số đối của số $\frac{5}{11}$ là :

- A. $\frac{-11}{5}$ B. $\frac{5}{-11}$ C. $\frac{11}{5}$ D. $\frac{-5}{-11}$

Câu 6. Phân số $\frac{16}{11}$ được viết dưới dạng hỗn số là :

- A. $5\frac{1}{11}$ B. $1\frac{5}{11}$ C. $11\frac{1}{5}$ D. $1\frac{11}{5}$

Câu 7: Phân số rút gọn của phân số $\frac{-48}{60}$ là:

- A. $\frac{4}{5}$ B. $\frac{-24}{30}$ C. $\frac{-4}{5}$ D. $\frac{-12}{15}$

Câu 8. Giá trị của x thỏa mãn $\frac{-8}{12} = \frac{2}{x}$ là:

- A. 4 B. - 4 C. 3 D. - 3

Câu 9. Một ngôi nhà 4 tầng cao 14m. Mỗi tầng của ngôi nhà cao:

- A. 56m B. 3,5m C. 65m D. 5,3m

Câu 10. Góc vuông là góc có số đo:

- A. Bằng 90^0 . B. Nhỏ hơn 90^0 . C. Lớn hơn 90^0 . D. Bằng 180^0 .

Câu 11. Cho hình vẽ dưới đây, khẳng định nào dưới đây sai?

- A. AB và AC là hai tia trùng nhau.
B. AB và AD là hai tia đối nhau.
C. AC và AB là hai tia đối nhau.
D. BA và BD là hai tia trùng nhau.



Câu 12. Trong hình vẽ bên, cho H là trung điểm của MN.

Nếu $MN = 4$ cm thì độ dài đoạn thẳng MH là:

- A. 4cm B. 2cm C. 8cm D. 5cm



Phần II: Tự luận (7 điểm)

Bài 1 (1 điểm): Thực hiện phép tính (hợp lí nếu có):

a) $3,58.24,45 + 3,58.75,55$ b) $\frac{4}{19} \cdot \frac{-5}{12} + \frac{4}{19} \cdot \frac{-7}{12}$

Bài 2 (1,5 điểm): Tìm x:

a) $x - \frac{3}{4} = \frac{7}{6}$ b) $\left(x - \frac{1}{2}\right) : \frac{5}{11} = \frac{11}{4}$ c) $(x+1)^3 + 0,2 = 8\frac{1}{5}$

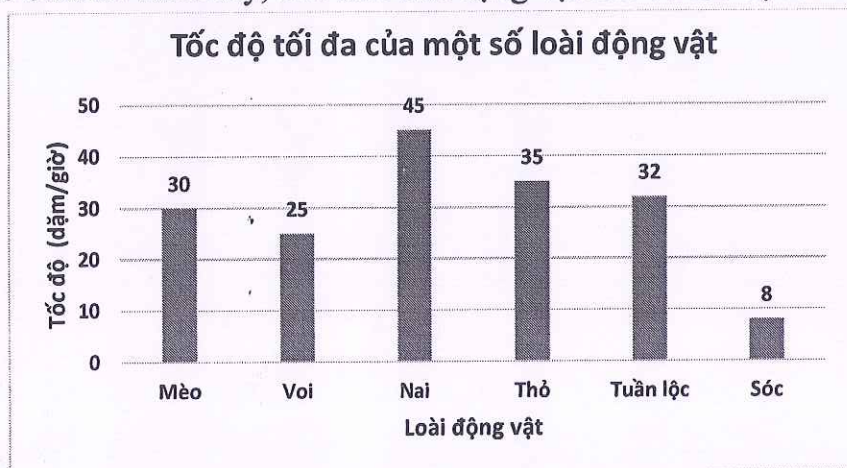
Bài 3 (2 điểm): Bạn Linh đọc một cuốn sách dày 240 trang trong 3 ngày. Ngày thứ nhất bạn đọc $\frac{1}{3}$ tổng số trang sách. Ngày thứ hai bạn đọc được $\frac{2}{5}$ số trang sách còn lại.

- a) Hỏi mỗi ngày bạn đọc được bao nhiêu trang sách?
b) Tính tỉ số phần trăm của số trang sách đọc được trong ngày thứ 3 với tổng số trang của cuốn sách.

Bài 4 (2 điểm) : Trên tia Ox lấy hai điểm A và B sao cho $OA = 3$ cm ; $OB = 6$ cm

- a) Tính độ dài đoạn thẳng AB.
b) Điểm A có là trung điểm của OB không ? Vì sao?
c) Gọi I là trung điểm của AB. Tính độ dài đoạn thẳng OI.

Bài 5 (0,5 điểm): Cho: $A = \frac{12}{(2.4)^2} + \frac{20}{(4.6)^2} + \dots + \frac{388}{(96.98)^2} + \frac{396}{(98.100)^2}$. Hãy so sánh A với $\frac{1}{4}$

Phần I: Trắc nghiệm khách quan (3 điểm):*Hãy chọn chữ cái đứng trước câu trả lời đúng rồi ghi vào bài làm.***Câu 1.** Dựa vào biểu đồ dưới đây, cho biết loài động vật nào có tốc độ tối đa nhanh nhất?

- A. Nai B. Mèo C. Thỏ D. Sóc

Câu 2. Tung đồng xu 44 lần liên tiếp, có 16 lần xuất hiện mặt sấp thì xác suất thực nghiệm xuất hiện mặt ngửa là:

- A. $\frac{16}{44}$ B. $\frac{7}{11}$ C. $\frac{12}{44}$ D. $\frac{4}{11}$

Câu 3. Làm tròn số thập phân 15,7668 đến hàng phần trăm ta được số:

- A. 14,77 B. 15,8 C. 15,77 D. 15,767

Câu 4. Kết quả của phép tính $1,25 - 8,5 + 1,75 - 1,5$ là:

- A. 7 B. - 7 C. - 12 D. 5.

Câu 5. Số đối của số $\frac{8}{15}$ là :

- A. $\frac{-15}{8}$ B. $\frac{8}{-15}$ C. $\frac{15}{8}$ D. $\frac{-8}{-15}$

Câu 6. Phân số $\frac{19}{12}$ được viết dưới dạng hỗn số là :

- A. $7\frac{1}{12}$ B. $1\frac{7}{12}$ C. $12\frac{1}{7}$ D. $1\frac{12}{7}$

Câu 7: Phân số rút gọn của phân số $\frac{-35}{50}$ là:

- A. $\frac{7}{10}$ B. $\frac{-35}{25}$ C. $\frac{-7}{10}$ D. $\frac{-5}{25}$

Câu 8. Giá trị của x thỏa mãn $\frac{-9}{15} = \frac{3}{x}$ là:

- A. 6 B. - 6 C. 5 D. - 5

Câu 9. Một ngôi nhà 4 tầng cao 14m. Mỗi tầng của ngôi nhà cao:

- A. 56m B. 3,5m C. 65m D. 5,3m

Câu 10. Góc bẹt là góc có số đo:

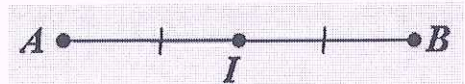
- A. Bằng 90° . B. Nhỏ hơn 90° . C. Lớn hơn 90° . D. Bằng 180° .

Câu 11. Cho hình vẽ dưới đây, khẳng định nào dưới đây sai?

- A. PM và PN là hai tia trùng nhau.
 B. PN và PQ là hai tia đối nhau.
 C. PM và PN là hai tia đối nhau.
 D. PN và PQ là hai tia trùng nhau.



Câu 12. Trong hình vẽ bên, cho I là trung điểm của AB. Nếu $AB = 12$ cm thì độ dài đoạn thẳng AI là:



- A. 4cm B. 2cm C. 6cm D. 5cm

Phần II: Tự luận (7 điểm)

Bài 1 (1 điểm): Thực hiện phép tính (hợp lí nếu có):

- a) $1,67.36,65 + 1,67.63,35$ b) $\frac{3}{16} \cdot \frac{-8}{15} + \frac{3}{16} \cdot \frac{-7}{15}$

Bài 2 (1,5 điểm): Tìm x:

- a) $x - \frac{5}{4} = \frac{2}{3}$ b) $\left(x - \frac{4}{3}\right) : \frac{11}{13} = \frac{13}{6}$ c) $(x+1)^3 + 1,4 = 9\frac{2}{5}$

Bài 3 (2 điểm): Một cửa hàng bán 200 tấn gạo trong 3 ngày. Ngày thứ nhất bán được $\frac{1}{4}$ tổng số gạo của cửa hàng. Ngày thứ hai bán được $\frac{3}{5}$ số gạo còn lại.

- a) Hỏi mỗi ngày cửa hàng bán được bao nhiêu tấn gạo?
 b) Tính tỉ số phần trăm của số gạo bán được trong ngày thứ 3 với tổng số gạo của cửa hàng.

Bài 4 (2 điểm): Trên tia Oy lấy hai điểm M và N sao cho $OM = 4$ cm ; $ON = 8$ cm

- a) Tính độ dài đoạn thẳng MN.
 b) Điểm M có là trung điểm của ON không ? Vì sao?
 c) Gọi E là trung điểm của MN. Tính độ dài đoạn thẳng OE.

Bài 5 (0,5 điểm): Cho: $B = \frac{16}{(3.5)^2} + \frac{24}{(5.7)^2} + \dots + \frac{384}{(95.97)^2} + \frac{392}{(97.99)^2}$. Hãy so sánh B với $\frac{1}{9}$

I. TRẮC NGHIỆM KHÁCH QUAN (5 điểm):

Hãy chọn chữ cái đứng trước câu trả lời đúng rồi ghi vào bài làm:

Câu 1: Để chèn một bảng có 30 hàng và 10 cột, em sử dụng thao tác nào?

- A. Chọn lệnh Insert\Table, kéo thả chuột chọn 30 hàng, 10 cột.
- B. Chọn lệnh Insert\Table\Table Tools, nhập 30 hàng, 10 cột.
- C. Chọn lệnh Insert\Table\Insert Table, nhập 30 hàng, 10 cột.
- D. Chọn lệnh Table Tools\Layout, nhập 30 hàng, 10 cột.

Câu 2: Cách di chuyển con trỏ soạn thảo trong bảng là:

- A. Chỉ sử dụng các phím mũi tên trên bàn phím.
- B. Chỉ sử dụng chuột.
- C. Sử dụng thanh cuộn ngang, thanh cuộn dọc dọc.
- D. Có thể sử dụng chuột, phím Tab hoặc các phím mũi tên trên bàn phím.

Câu 3: Thông tin trong sơ đồ tư duy thường được tổ chức thành:

- A. Tiêu đề, đoạn văn.
- B. Chủ đề chính, chủ đề nhánh.
- C. Mở bài, thân bài, kết luận.
- D. Chương, bài, mục.

Câu 4: Nhược điểm của việc tạo sơ đồ tư duy theo cách thủ công là gì?

- A. Khó sắp xếp, bố trí nội dung.
- B. Hạn chế khả năng sáng tạo.
- C. Không linh hoạt để có thể làm ở bất cứ đâu, đòi hỏi công cụ khó tìm kiếm.
- D. Không dễ dàng trong việc mở rộng, sửa chữa và chia sẻ cho nhiều người

Câu 5: Trong phần mềm soạn thảo văn bản Word, lệnh Portrait dùng để:

- A. Chọn hướng trang đứng.
- B. Chọn hướng trang ngang.
- C. Chọn lề trang.
- D. Chọn lề đoạn văn bản.

Câu 6: Lệnh Find được sử dụng khi nào?

- A. Khi muốn định dạng chữ in nghiêng cho một đoạn văn bản.
- B. Khi muốn tìm kiếm một từ hoặc cụm từ trong văn bản.
- C. Khi muốn thay thế một từ hoặc cụm từ trong văn bản.
- D. Khi cần thay đổi phong chữ của văn bản.

Câu 7: Bạn An đang viết về đặc sản cốm Làng Vòng để giới thiệu ẩm thực Hà Nội cho các bạn ở Tuyên Quang. Tuy nhiên, bạn muốn sửa lại văn bản, thay thế tất cả các từ “món ngon” bằng từ “đặc sản”. Bạn sẽ sử dụng lệnh nào trong hộp thoại “Find and Replace”?

- A. Replace all.
- B. Replace.
- C. Find next.
- D. Cancel.

Câu 8: Em truy cập mạng để xem tin tức thì ngẫu nhiên xem được một video có hình ảnh bạo lực mà em rất sợ. Em nên làm gì?

- A. Mở video đó và xem.
- B. Chia sẻ cho bạn bè để dọa các bạn.
- C. Đóng video lại và tiếp tục xem tin tức coi như không có chuyện gì.
- D. Thông báo cho cha mẹ và thầy cô giáo về điều đó.

Câu 9: Các phần văn bản được phân cách nhau bởi dấu ngắt đoạn được gọi là:

- A. Dòng.
- B. Trang.
- C. Đoạn.
- D. Câu.

Câu 10: Thao tác nào không phải là thao tác định dạng văn bản?

- A. Thay đổi kiểu chữ thành chữ nghiêng.
- B. Chọn chữ màu xanh.
- C. Cắn giữa đoạn văn bản.
- D. Thêm hình ảnh vào văn bản.

Câu 11: Việc phải làm đầu tiên khi muốn thiết lập định dạng cho một đoạn văn bản là:

- A. Vào thẻ Home, chọn nhóm lệnh Paragraph.
- B. Cần phải chọn toàn bộ đoạn văn bản.
- C. Đưa con trỏ soạn thảo vào vị trí bất kì trong đoạn văn bản.
- D. Nhấn phím Enter.

Câu 12: Em thường xuyên nhận được các tin nhắn trên mạng có nội dung không lành mạnh từ một người lớn mà em quen. Em nên làm gì?

- A. Gặp thẳng người đó hỏi tại sao lại làm thế và yêu cầu dừng ngay.
- B. Nói chuyện với thầy cô giáo, bố mẹ về sự việc để xin ý kiến giải quyết.
- C. Nhắn tin lại cho người đó các nội dung tương tự.
- D. Bỏ qua, chắc họ chỉ trêu thôi.

Câu 13: Phát biểu nào *không phải* là ưu điểm của việc tạo sơ đồ tư duy bằng phần mềm máy tính?

- A. Có thể sắp xếp, bố trí với không gian mở rộng, dễ dàng sửa chữa, thêm bớt nội dung.
- B. Có thể chia sẻ được cho nhiều người.
- C. Có thể làm ở bất cứ đâu, không cần công cụ hỗ trợ.
- D. Có thể kết hợp và chia sẻ để sử dụng cho các phần mềm máy tính khác.

Câu 14: Để đặt hướng cho trang văn bản, trên thẻ Page Layout vào nhóm lệnh Page Setup sử dụng lệnh:


- A. Orientation.
- B. Size.
- C. Margins.
- D. Columns.

Câu 15: Lời khuyên nào *sai* khi em muốn bảo vệ máy tính và thông tin trong máy tính của mình?

- A. Đừng bao giờ mở thư điện tử và mở tệp đính kèm thư từ những người không quen biết.
- B. Chẳng cần làm gì vì máy tính đã được cài đặt sẵn các thiết bị bảo vệ từ nhà sản xuất.
- C. Nên cài đặt phần mềm bảo vệ máy tính khỏi virus và thường xuyên cập nhật phần mềm bảo vệ.
- D. Luôn nhớ đăng xuất khi sử dụng xong máy tính, thư điện tử.

Câu 16: Các nút lệnh định dạng đoạn văn bản nằm trong nhóm thẻ nào?

- A. Insert
- B. Design
- C. File
- D. Home

Câu 17: Nêu ý nghĩa của nút lệnh  sau:

- A. Giảm mức thụt lề trái
- B. Tăng mức thụt lề trái
- C. Khoảng cách giữa các kí tự trong đoạn
- D. Khoảng cách giữa các dòng trong đoạn

Câu 18: Để tạo một bảng mới vẽ sơ đồ tư duy trên phần mềm em chọn lệnh nào?

- A. File/Close
- B. File/Save
- C. File/New
- D. File/Open

Câu 19: Các nút lệnh định dạng đoạn văn bản nằm trong nhóm lệnh nào?

- A. Clipboard
- B. Font
- C. Paragraph
- D. Styles

Câu 20: Sau khi vẽ xong sơ đồ tư duy trên phần mềm em chọn lệnh nào để lưu?

- A. File/Save
- B. File/New
- C. File/Open
- D. File/Close

II. TỰ LUẬN (5 điểm):

Câu 1 (2 điểm): Em hãy nêu những tác hại và nguy cơ khi sử dụng internet.

Câu 2 (2 điểm): Trình bày các bước tạo sơ đồ tư duy.

Câu 3 (1 điểm): Nếu muốn tạo bảng có nhiều hơn 8 hàng và nhiều hơn 10 cột thì em sẽ làm như thế nào?

I. TRẮC NGHIỆM KHÁCH QUAN (5 điểm):

Hãy chọn chữ cái đứng trước câu trả lời đúng rồi ghi vào bài làm:

Câu 1: Để tạo một bảng mới vẽ sơ đồ tư duy trên phần mềm em chọn lệnh nào?

- A. File/Close B. File/Save C. File/New D. File/Open

Câu 2: Các nút lệnh định dạng đoạn văn bản nằm trong nhóm lệnh nào?

- A. Clipboard B. Font C. Paragraph D. Styles

Câu 3: Sau khi vẽ xong sơ đồ tư duy trên phần mềm em chọn lệnh nào để lưu?

- A. File/Save B. File/New C. File/Open D. File/Close

Câu 4: Trong phần mềm soạn thảo văn bản Word, lệnh Portrait dùng để:

- A. Chọn hướng trang đứng. B. Chọn hướng trang ngang.
C. Chọn lề trang. D. Chọn lề đoạn văn bản.

Câu 5: Lệnh Find được sử dụng khi nào?

- A. Khi muốn định dạng chữ in nghiêng cho một đoạn văn bản.
B. Khi muốn tìm kiếm một từ hoặc cụm từ trong văn bản.
C. Khi muốn thay thế một từ hoặc cụm từ trong văn bản.
D. Khi cần thay đổi phông chữ của văn bản.

Câu 6: Bạn An đang viết về đặc sản xóm Làng Vòng để giới thiệu ẩm thực Hà Nội cho các bạn ở Tuyên Quang. Tuy nhiên, bạn muốn sửa lại văn bản, thay thế tất cả các từ “món ngon” bằng từ “đặc sản”. Bạn sẽ sử dụng lệnh nào trong hộp thoại “Find and Replace”?

- A. Replace all. B. Replace. C. Find next. D. Cancel.

Câu 7: Em truy cập mạng để xem tin tức thì ngẫu nhiên xem được một video có hình ảnh bạo lực mà em rất sợ. Em nên làm gì?

- A. Mở video đó và xem.
B. Chia sẻ cho bạn bè để dọa các bạn.
C. Đóng video lại và tiếp tục xem tin tức coi như không có chuyện gì.
D. Thông báo cho cha mẹ và thầy cô giáo về điều đó.

Câu 8: Các phần văn bản được phân cách nhau bởi dấu ngắt đoạn được gọi là:

- A. Dòng. B. Trang. C. Đoạn. D. Câu.

Câu 9: Thao tác nào không phải là thao tác định dạng văn bản?

- A. Thay đổi kiểu chữ thành chữ nghiêng.
B. Chọn chữ màu xanh.
C. Căn giữa đoạn văn bản.
D. Thêm hình ảnh vào văn bản.

Câu 10: Việc phải làm đầu tiên khi muốn thiết lập định dạng cho một đoạn văn bản là:

- A. Vào thẻ Home, chọn nhóm lệnh Paragraph.
B. Cần phải chọn toàn bộ đoạn văn bản.
C. Đưa con trỏ soạn thảo vào vị trí bất kì trong đoạn văn bản.
D. Nhấn phím Enter.

Câu 11: Em thường xuyên nhận được các tin nhắn trên mạng có nội dung không lành mạnh từ một người lớn mà em quen. Em nên làm gì?

- A. Gặp thẳng người đó hỏi tại sao lại làm thế và yêu cầu dừng ngay.
B. Nói chuyện với thầy cô giáo, bố mẹ về sự việc để xin ý kiến giải quyết.
C. Nhắn tin lại cho người đó các nội dung tương tự.
D. Bỏ qua, chắc họ chỉ trêu thôi.

Câu 12: Để chèn một bảng có 30 hàng và 10 cột, em sử dụng thao tác nào?

- A. Chọn lệnh Insert\Table, kéo thả chuột chọn 30 hàng, 10 cột.
- B. Chọn lệnh Insert\Table\Table Tools, nhập 30 hàng, 10 cột.
- C. Chọn lệnh Insert\Table\Insert Table, nhập 30 hàng, 10 cột.
- D. Chọn lệnh Table Tools\Layout, nhập 30 hàng, 10 cột.

Câu 13: Cách di chuyển con trỏ soạn thảo trong bảng là:

- A. Chỉ sử dụng các phím mũi tên trên bàn phím.
- B. Chỉ sử dụng chuột.
- C. Sử dụng thanh cuộn ngang, thanh cuộn dọc.
- D. Có thể sử dụng chuột, phím Tab hoặc các phím mũi tên trên bàn phím.

Câu 14: Thông tin trong sơ đồ tư duy thường được tổ chức thành:

- A. Tiêu đề, đoạn văn.
- B. Chủ đề chính, chủ đề nhánh.
- C. Mở bài, thân bài, kết luận.
- D. Chương, bài, mục.

Câu 15: Nhược điểm của việc tạo sơ đồ tư duy theo cách thủ công là gì?

- A. Khó sắp xếp, bố trí nội dung.
- B. Hạn chế khả năng sáng tạo.
- C. Không linh hoạt để có thể làm ở bất cứ đâu, đòi hỏi công cụ khó tìm kiếm.
- D. Không dễ dàng trong việc mở rộng, sửa chữa và chia sẻ cho nhiều người

Câu 16: Phát biểu nào *không phải* là ưu điểm của việc tạo sơ đồ tư duy bằng phần mềm máy tính?

- A. Có thể sắp xếp, bố trí với không gian mở rộng, dễ dàng sửa chữa, thêm bớt nội dung.
- B. Có thể chia sẻ được cho nhiều người.
- C. Có thể làm ở bất cứ đâu, không cần công cụ hỗ trợ.
- D. Có thể kết hợp và chia sẻ để sử dụng cho các phần mềm máy tính khác.

Câu 17: Để đặt hướng cho trang văn bản, trên thẻ Page Layout vào nhóm lệnh Page Setup sử dụng lệnh:


- A. Orientation.
- B. Size.
- C. Margins.
- D. Columns.

Câu 18: Lời khuyên nào *sai* khi em muốn bảo vệ máy tính và thông tin trong máy tính của mình?

- A. Đừng bao giờ mở thư điện tử và mở tệp đính kèm thư từ những người không quen biết.
- B. Chẳng cần làm gì vì máy tính đã được cài đặt sẵn các thiết bị bảo vệ từ nhà sản xuất.
- C. Nên cài đặt phần mềm bảo vệ máy tính khỏi virus và thường xuyên cập nhật phần mềm bảo vệ.
- D. Luôn nhớ đăng xuất khi sử dụng xong máy tính, thư điện tử.

Câu 19: Các nút lệnh định dạng đoạn văn bản nằm trong nhóm thẻ nào?

- A. Insert
- B. Design
- C. File
- D. Home

Câu 20: Nêu ý nghĩa của nút lệnh  sau:

- A. Giảm mức thụt lề trái
- B. Tăng mức thụt lề trái
- C. Khoảng cách giữa các kí tự trong đoạn
- D. Khoảng cách giữa các dòng trong đoạn

II. TỰ LUẬN (5 điểm):

Câu 1 (2 điểm): Em hãy nêu một số quy tắc an toàn khi sử dụng internet.

Câu 2 (2 điểm): Trình bày các bước tạo sơ đồ tư duy.

Câu 3 (1 điểm): Nếu muốn tạo bảng có 20 hàng và 15 cột thì em sẽ làm như thế nào?

I. TRẮC NGHIỆM KHÁCH QUAN (5 điểm):

Hãy chọn chữ cái đứng trước câu trả lời đúng rồi ghi vào bài làm:

- Câu 1:** Bạn An đang viết về đặc sản cốm Làng Vòng để giới thiệu ẩm thực Hà Nội cho các bạn ở Tuyên Quang. Tuy nhiên, bạn muốn sửa lại văn bản, thay thế tất cả các từ “món ngon” bằng từ “đặc sản”. Bạn sẽ sử dụng lệnh nào trong hộp thoại “Find and Replace”?
- A. Replace all. B. Replace. C. Find next. D. Cancel.
- Câu 2:** Em truy cập mạng để xem tin tức thì ngẫu nhiên xem được một video có hình ảnh bạo lực mà em rất sợ. Em nên làm gì?
- A. Mở video đó và xem.
B. Chia sẻ cho bạn bè để dọa các bạn.
C. Đóng video lại và tiếp tục xem tin tức coi như không có chuyện gì.
D. Thông báo cho cha mẹ và thầy cô giáo về điều đó.
- Câu 3:** Các phần văn bản được phân cách nhau bởi dấu ngắt đoạn được gọi là:
- A. Dòng. B. Trang. C. Đoạn. D. Câu.
- Câu 4:** Thao tác nào không phải là thao tác định dạng văn bản?
- A. Thay đổi kiểu chữ thành chữ nghiêng.
B. Chọn chữ màu xanh.
C. Căn giữa đoạn văn bản.
D. Thêm hình ảnh vào văn bản.
- Câu 5:** Để tạo một bảng mới vẽ sơ đồ tư duy trên phần mềm em chọn lệnh nào?
- A. File/Close B. File/Save C. File/New D. File/Open
- Câu 6:** Các nút lệnh định dạng đoạn văn bản nằm trong nhóm lệnh nào?
- A. Clipboard B. Font C. Paragraph D. Styles
- Câu 7:** Sau khi vẽ xong sơ đồ tư duy trên phần mềm em chọn lệnh nào để lưu?
- A. File/Save B. File/New C. File/Open D. File/Close
- Câu 8:** Trong phần mềm soạn thảo văn bản Word, lệnh Portrait dùng để:
- A. Chọn hướng trang đứng. B. Chọn hướng trang ngang.
C. Chọn lề trang. D. Chọn lề đoạn văn bản.
- Câu 9:** Lệnh Find được sử dụng khi nào?
- A. Khi muốn định dạng chữ in nghiêng cho một đoạn văn bản.
B. Khi muốn tìm kiếm một từ hoặc cụm từ trong văn bản.
C. Khi muốn thay thế một từ hoặc cụm từ trong văn bản.
D. Khi cần thay đổi phong chữ của văn bản.
- Câu 10:** Việc phải làm đầu tiên khi muốn thiết lập định dạng cho một đoạn văn bản là:
- A. Vào thẻ Home, chọn nhóm lệnh Paragraph.
B. Cần phải chọn toàn bộ đoạn văn bản.
C. Đưa con trỏ soạn thảo vào vị trí bất kì trong đoạn văn bản.
D. Nhấn phím Enter.
- Câu 11:** Em thường xuyên nhận được các tin nhắn trên mạng có nội dung không lành mạnh từ một người lớn mà em quen. Em nên làm gì?
- A. Gặp thẳng người đó hỏi tại sao lại làm thế và yêu cầu dừng ngay.
B. Nói chuyện với thầy cô giáo, bố mẹ về sự việc để xin ý kiến giải quyết.
C. Nhắn tin lại cho người đó các nội dung tương tự.
D. Bỏ qua, chắc họ chỉ trêu thôi.

Câu 12: Để chèn một bảng có 30 hàng và 10 cột, em sử dụng thao tác nào?

- A. Chọn lệnh Insert\Table, kéo thả chuột chọn 30 hàng, 10 cột.
- B. Chọn lệnh Insert\Table\Table Tools, nhập 30 hàng, 10 cột.
- C. Chọn lệnh Insert\Table\Insert Table, nhập 30 hàng, 10 cột.
- D. Chọn lệnh Table Tools/Layout, nhập 30 hàng, 10 cột.

Câu 13: Cách di chuyển con trỏ soạn thảo trong bảng là:

- A. Chỉ sử dụng các phím mũi tên trên bàn phím.
- B. Chỉ sử dụng chuột.
- C. Sử dụng thanh cuộn ngang, thanh cuộn dọc.
- D. Có thể sử dụng chuột, phím Tab hoặc các phím mũi tên trên bàn phím.

Câu 14: Thông tin trong sơ đồ tư duy thường được tổ chức thành:

- A. Tiêu đề, đoạn văn.
- B. Chủ đề chính, chủ đề nhánh.
- C. Mở bài, thân bài, kết luận.
- D. Chương, bài, mục.

Câu 15: Nhược điểm của việc tạo sơ đồ tư duy theo cách thủ công là gì?


- A. Khó sắp xếp, bố trí nội dung.
- B. Hạn chế khả năng sáng tạo.
- C. Không linh hoạt để có thể làm ở bất cứ đâu, đòi hỏi công cụ khó tìm kiếm.
- D. Không dễ dàng trong việc mở rộng, sửa chữa và chia sẻ cho nhiều người

Câu 16: Phát biểu nào *không phải* là ưu điểm của việc tạo sơ đồ tư duy bằng phần mềm máy tính?

- A. Có thể sắp xếp, bố trí với không gian mở rộng, dễ dàng sửa chữa, thêm bớt nội dung.
- B. Có thể chia sẻ được cho nhiều người.
- C. Có thể làm ở bất cứ đâu, không cần công cụ hỗ trợ.
- D. Có thể kết hợp và chia sẻ để sử dụng cho các phần mềm máy tính khác.

Câu 17: Các nút lệnh định dạng đoạn văn bản nằm trong nhóm thẻ nào?

- A. Insert
- B. Design
- C. File
- D. Home

Câu 18: Nêu ý nghĩa của nút lệnh  sau:

- A. Giảm mức thụt lề trái
- B. Tăng mức thụt lề trái
- C. Khoảng cách giữa các ký tự trong đoạn
- D. Khoảng cách giữa các dòng trong đoạn

Câu 19: Để đặt hướng cho trang văn bản, trên thẻ Page Layout vào nhóm lệnh Page Setup sử dụng lệnh:

- A. Orientation.
- B. Size.
- C. Margins.
- D. Columns.

Câu 20: Lời khuyên nào *sai* khi em muốn bảo vệ máy tính và thông tin trong máy tính của mình?

- A. Đừng bao giờ mở thư điện tử và mở tệp đính kèm thư từ những người không quen biết.
- B. Chẳng cần làm gì vì máy tính đã được cài đặt sẵn các thiết bị bảo vệ từ nhà sản xuất.
- C. Nên cài đặt phần mềm bảo vệ máy tính khỏi virus và thường xuyên cập nhật phần mềm bảo vệ.
- D. Luôn nhớ đăng xuất khi sử dụng xong máy tính, thư điện tử.

II. TỰ LUẬN (5 điểm):

Câu 1 (2 điểm): Sử dụng sơ đồ tư duy có lợi ích gì?

Câu 2 (2 điểm): Em hãy nêu những tác hại và nguy cơ khi sử dụng internet.

Câu 3 (1 điểm): Nếu muốn tạo bảng có 24 hàng và 14 cột thì em sẽ làm như thế nào?

I. TRẮC NGHIỆM KHÁCH QUAN (5 điểm):

Hãy chọn chữ cái đứng trước câu trả lời đúng rồi ghi vào bài làm:

- Câu 1:** Trong phần mềm soạn thảo văn bản Word, lệnh Portrait dùng để:
A. Chọn hướng trang đứng. B. Chọn hướng trang ngang.
C. Chọn lề trang. D. Chọn lề đoạn văn bản.
- Câu 2:** Lệnh Find được sử dụng khi nào?
A. Khi muốn định dạng chữ in nghiêng cho một đoạn văn bản.
B. Khi muốn tìm kiếm một từ hoặc cụm từ trong văn bản.
C. Khi muốn thay thế một từ hoặc cụm từ trong văn bản.
D. Khi cần thay đổi phông chữ của văn bản.
- Câu 3:** Việc phải làm đầu tiên khi muốn thiết lập định dạng cho một đoạn văn bản là:
A. Vào thẻ Home, chọn nhóm lệnh Paragraph.
B. Cần phải chọn toàn bộ đoạn văn bản.
C. Đưa con trỏ soạn thảo vào vị trí bất kì trong đoạn văn bản.
D. Nhấn phím Enter.
- Câu 4:** Em thường xuyên nhận được các tin nhắn trên mạng có nội dung không lành mạnh từ một người lớn mà em quen. Em nên làm gì?
A. Gặp thẳng người đó hỏi tại sao lại làm thế và yêu cầu dừng ngay.
B. Nói chuyện với thầy cô giáo, bố mẹ về sự việc để xin ý kiến giải quyết.
C. Nhắn tin lại cho người đó các nội dung tương tự.
D. Bỏ qua, chắc họ chỉ trêu thôi.
- Câu 5:** Bạn An đang viết về đặc sản cốm Làng Vòng để giới thiệu ẩm thực Hà Nội cho các bạn ở Tuyên Quang. Tuy nhiên, bạn muốn sửa lại văn bản, thay thế tất cả các từ “món ngon” bằng từ “đặc sản”. Bạn sẽ sử dụng lệnh nào trong hộp thoại “Find and Replace”?
A. Replace all. B. Replace. C. Find next. D. Cancel.
- Câu 6:** Em truy cập mạng để xem tin tức thì ngẫu nhiên xem được một video có hình ảnh bạo lực mà em rất sợ. Em nên làm gì?
A. Mở video đó và xem.
B. Chia sẻ cho bạn bè để dọa các bạn.
C. Đóng video lại và tiếp tục xem tin tức coi như không có chuyện gì.
D. Thông báo cho cha mẹ và thầy cô giáo về điều đó.
- Câu 7:** Các phần văn bản được phân cách nhau bởi dấu ngắt đoạn được gọi là:
A. Dòng. B. Trang. C. Đoạn. D. Câu.
- Câu 8:** Thao tác nào không phải là thao tác định dạng văn bản?
A. Thay đổi kiểu chữ thành chữ nghiêng.
B. Chọn chữ màu xanh.
C. Cắn giữa đoạn văn bản.
D. Thêm hình ảnh vào văn bản.
- Câu 9:** Để tạo một bảng mới vẽ sơ đồ tư duy trên phần mềm em chọn lệnh nào?
A. File/Close B. File/Save C. File/New D. File/Open
- Câu 10:** Các nút lệnh định dạng đoạn văn bản nằm trong nhóm lệnh nào?
A. Clipboard B. Font C. Paragraph D. Styles
- Câu 11:** Sau khi vẽ xong sơ đồ tư duy trên phần mềm em chọn lệnh nào để lưu?
A. File/Save B. File/New C. File/Open D. File/Close

Câu 12: Để chèn một bảng có 30 hàng và 10 cột, em sử dụng thao tác nào?

- A. Chọn lệnh Insert\Table, kéo thả chuột chọn 30 hàng, 10 cột.
- B. Chọn lệnh Insert\Table\Table Tools, nhập 30 hàng, 10 cột.
- C. Chọn lệnh Insert\Table\Insert Table, nhập 30 hàng, 10 cột.
- D. Chọn lệnh Table Tools/Layout, nhập 30 hàng, 10 cột.

Câu 13: Cách di chuyển con trỏ soạn thảo trong bảng là:


- A. Chỉ sử dụng các phím mũi tên trên bàn phím.
- B. Chỉ sử dụng chuột.
- C. Sử dụng thanh cuộn ngang, thanh cuộn dọc dọc.
- D. Có thể sử dụng chuột, phím Tab hoặc các phím mũi tên trên bàn phím.

Câu 14: Thông tin trong sơ đồ tư duy thường được tổ chức thành:

- A. Tiêu đề, đoạn văn.
- B. Chủ đề chính, chủ đề nhánh.
- C. Mở bài, thân bài, kết luận.
- D. Chương, bài, mục.

Câu 15: Các nút lệnh định dạng đoạn văn bản nằm trong nhóm thẻ nào?

- A. Insert
- B. Design
- C. File
- D. Home

Câu 16: Nêu ý nghĩa của nút lệnh  sau:

- A. Giảm mức thụt lề trái
- B. Tăng mức thụt lề trái
- C. Khoảng cách giữa các kí tự trong đoạn
- D. Khoảng cách giữa các dòng trong đoạn

Câu 17: Để đặt hướng cho trang văn bản, trên thẻ Page Layout vào nhóm lệnh Page Setup sử dụng lệnh:

- A. Orientation.
- B. Size.
- C. Margins.
- D. Columns.

Câu 18: Lời khuyên nào *sai* khi em muốn bảo vệ máy tính và thông tin trong máy tính của mình?

- A. Đừng bao giờ mở thư điện tử và mở tệp đính kèm thư từ những người không quen biết.
- B. Chẳng cần làm gì vì máy tính đã được cài đặt sẵn các thiết bị bảo vệ từ nhà sản xuất.
- C. Nên cài đặt phần mềm bảo vệ máy tính khỏi virus và thường xuyên cập nhật phần mềm bảo vệ.
- D. Luôn nhớ đăng xuất khi sử dụng xong máy tính, thư điện tử.

Câu 19: Nhược điểm của việc tạo sơ đồ tư duy theo cách thủ công là gì?

- A. Khó sắp xếp, bố trí nội dung.
- B. Hạn chế khả năng sáng tạo.
- C. Không linh hoạt để có thể làm ở bất cứ đâu, đòi hỏi công cụ khó tìm kiếm.
- D. Không dễ dàng trong việc mở rộng, sửa chữa và chia sẻ cho nhiều người

Câu 20: Phát biểu nào *không phải* là ưu điểm của việc tạo sơ đồ tư duy bằng phần mềm máy tính?

- A. Có thể sắp xếp, bố trí với không gian mở rộng, dễ dàng sửa chữa, thêm bớt nội dung.
- B. Có thể chia sẻ được cho nhiều người.
- C. Có thể làm ở bất cứ đâu, không cần công cụ hỗ trợ.
- D. Có thể kết hợp và chia sẻ để sử dụng cho các phần mềm máy tính khác.

II. TỰ LUẬN (5 điểm):

Câu 1 (2 điểm): Trình bày các bước tạo sơ đồ tư duy.

Câu 2 (2 điểm): Em hãy nêu một số quy tắc an toàn khi sử dụng internet.

Câu 3 (1 điểm): Nếu muốn tạo bảng có nhiều hơn 8 hàng và nhiều hơn 10 cột thì em sẽ làm như thế nào?

I. TRẮC NGHIỆM KHÁCH QUAN (5 điểm)

Viết lại chữ cái đứng trước câu trả lời đúng vào giấy kiểm tra:

Câu 1. (0,25đ) Đồ dùng điện nào có công dụng làm sạch bụi bẩn?

- A. Máy xay. B. Máy hút bụi.
C. Đèn ngủ. D. Quạt treo tường.

Câu 2. (0,25đ) Cấu tạo bóng đèn sợi đốt gồm:

- A. Sợi đốt, bảng mạch LED, đuôi đèn.
B. Bóng thủy tinh, bảng mạch LED, đuôi đèn.
C. Hai điện cực, ống thủy tinh, đuôi đèn.
D. Bóng thủy tinh, sợi đốt, đuôi đèn.

Câu 3. (0,25đ) Một bóng đèn LED có thông số kĩ thuật như sau: 110V – 5W. Hỏi bóng đèn đó có công suất định mức là bao nhiêu?

- A. 110W. B. 110W và 5W. C. 110W hoặc 5W. D. 5W.

Câu 4. (0,25đ) “Cách mặc trang phục có thiết kế đơn giản, đường nét tạo cảm giác khỏe khoắn, mạnh mẽ, thoải mái vận động” được gọi là phong cách:

- A. Cổ điển. B. Thể thao. C. Lãng mạn. D. Dân gian.

Câu 5. (0,25đ) Đầu là phương án an toàn khi sử dụng điện?

- A. Đun nồi nước đầy bằng bếp điện.
B. Dùng tay chặn lỗ thoát hơi nồi cơm điện khi đang nấu.
C. Ngắt nguồn điện trước khi sửa chữa.
D. Cắm sạc điện thoại khi đang sử dụng.

Câu 6. (0,25đ) Bộ phận sinh nhiệt của nồi cơm điện có tác dụng gì?

- A. Điều chỉnh áp suất B. Liên kết các bộ phận khác của nồi.
C. Bảo vệ nồi. D. Cung cấp nhiệt cho nồi.

Câu 7. (0,25đ) Bếp hồng ngoại gồm các bộ phận chính nào?

- A. Mặt bếp, bảng điều khiển, nồi nấu, thân nồi.
B. Nồi nấu, thân nồi, nắp nồi, bảng điều khiển
C. Mặt bếp, bảng điều khiển, mâm nhiệt hồng ngoại, thân bếp.
D. Bảng điều khiển, thân bếp, bộ phận sinh nhiệt, thân nồi.

Câu 8. (0,25đ) Loại đèn điện nào sau đây tiết kiệm điện năng nhất?

- A. Đèn sợi đốt. B. Đèn compact.
C. Đèn huỳnh quang. D. Đèn Led.

Câu 9. (0,25đ) Vị trí của thân bếp hồng ngoại:

- A. Nằm phía dưới mặt bếp.
- B. Nằm ở phía trên bảng điều khiển.
- C. Nằm ở phía dưới bảng điều khiển.
- D. Nằm ở phía dưới mặt bếp và bảng điều khiển

Câu 10. (0,25đ) Khi nấu, mặt bếp hồng ngoại có đặc điểm gì?

- A. Nhiệt độ cao và không có ánh sáng.
- B. Nhiệt độ thấp và ánh sáng màu đỏ.
- C. Nhiệt độ cao và ánh sáng màu đỏ.
- D. Nhiệt độ cao hoặc ánh sáng màu đỏ.

Câu 11. (0,25đ) Cho thông số quạt điện có số liệu: 400mm – 46W – 220V. Hãy cho biết 46W nghĩa là gì?

- A. Công suất định mức.
- B. Dòng điện định mức.
- C. Độ dài cánh quạt.
- D. Điện áp định mức.

Câu 12. (0,25đ) Chức năng của thân nồi là:

- A. Bao kín, giữ nhiệt và liên kết các bộ phận khác của nồi.
- B. Cung cấp nhiệt cho nồi.
- C. Dùng để bật, tắt, chọn chế độ nấu.
- D. Bao kín và giữ nhiệt.

Câu 13. (0,25đ) Đơn vị của công suất định mức ký hiệu là:

- A. W
- B. A
- C. KV
- D. V

Câu 14. (0,25đ) Nhận xét nào không đúng khi nói về bóng đèn huỳnh quang?

- A. Phát ra ánh sáng nhấp nháy.
- B. Giá thành thấp.
- C. Tuổi thọ cao.
- D. Tiết kiệm điện.

Câu 15. (0,25đ) Đâu không là đặc điểm của đèn sợi đốt?

- A. Gần với ánh sáng tự nhiên.
- B. Tạo ra ánh sáng liên tục.
- C. Hiệu suất phát quang thấp.
- D. Tuổi thọ cao.

Câu 16. (0,25đ) Cách sử dụng nồi cơm điện nào sau đây chưa đúng cách?

- A. Hạn chế vệ sinh nồi.
- B. Sử dụng đúng điện áp định mức.
- C. Sử dụng đúng dung tích.
- D. Đọc kỹ thông tin ghi trên nồi.

Câu 17. (0,25đ) Gia đình bạn Linh có ba người: Bố, mẹ và Linh. Em hãy giúp bạn Linh lựa chọn một chiếc nồi cơm điện phù hợp nhất với gia đình bạn có dung tích bao nhiêu?

- A. 2 – 2,5 lít.
- B. 0,6 lít.
- C. 1,8 – 2 lít.
- D. 1 lít.

Câu 18. (0,25đ) Sử dụng bếp hồng ngoại không được làm việc nào sau đây?

- A. Sử dụng khăn mềm để lau bề mặt bếp.
- B. Đặt bếp nơi thoáng mát.
- C. Sử dụng chất tẩy rửa phù hợp để lau mặt bếp
- D. Có thể chạm tay lên mặt bếp khi vừa nấu xong.

Câu 19. (0,25đ) Sơ đồ nguyên lí làm việc của bếp hồng ngoại là:

- A. Mâm nhiệt hồng ngoại → Bảng điều khiển → Nguồn điện.
- B. Mâm nhiệt hồng ngoại → Nguồn điện → Bảng điều khiển.
- C. Nguồn điện → Mâm nhiệt hồng ngoại → Bảng điều khiển.
- D. Nguồn điện → Bảng điều khiển → Mâm nhiệt hồng ngoại.

Câu 20. (0,25đ) Công dụng của quạt điện treo tường là gì?

- A. Sưởi ấm.
- B. Chiếu sáng.
- C. Làm mát.
- D. Làm chín thức ăn.

II. TỰ LUẬN (5 điểm)

Câu 1. (2đ) Em hãy nêu cấu tạo, nguyên lí làm việc và thông số kĩ thuật của bóng đèn sợi đốt.

Câu 2. (3đ) Em hãy tìm hiểu nguyên nhân gây ra hiện tượng trong quá trình nấu cơm sau:

- a, Cơm sau khi nấu bị nhão.
- b, Cơm sau khi nấu bị sống.
- c, Khi mới bắt đầu cắm điện, nồi cơm phát ra tiếng nổ lách tách.

----- **HẾT** -----

Câu 9. (0,25đ) “Cách mặc trang phục có thiết kế đơn giản, đường nét tạo cảm giác khỏe khoắn, mạnh mẽ, thoải mái vận động” được gọi là phong cách:

- A. Lãng mạn. B. Dân gian C. Cổ điển. D. Thể thao.

Câu 10. (0,25đ) Loại đèn điện nào sau đây tiết kiệm điện năng nhất?

- A. Đèn Led B. Đèn huỳnh quang.
C. Đèn sợi đốt. D. Đèn compact.

Câu 11. (0,25đ) Chức năng của thân nồi là:

- A. Cung cấp nhiệt cho nồi.
B. Bao kín và giữ nhiệt.
C. Bao kín, giữ nhiệt và liên kết các bộ phận khác của nồi.
D. Dùng để bật, tắt, chọn chế độ nấu.

Câu 12. (0,25đ) Bếp hồng ngoại gồm các bộ phận chính nào?

- A. Mặt bếp, bảng điều khiển, nồi nấu, thân nồi.
B. Bảng điều khiển, thân bếp, bộ phận sinh nhiệt, thân nồi.
C. Mặt bếp, bảng điều khiển, mâm nhiệt hồng ngoại, thân bếp.
D. Nồi nấu, thân nồi, nắp nồi, bảng điều khiển

Câu 13. (0,25đ) Đơn vị của công suất định mức ký hiệu là:

- A. W B. A C. KV D. V

Câu 14. (0,25đ) Cho thông số quạt điện có số liệu: 400mm – 46W – 220V. Hãy cho biết 46W nghĩa là gì?

- A. Dòng điện định mức. B. Điện áp định mức.
C. Độ dài cánh quạt. D. Công suất định mức.

Câu 15. (0,25đ) Cách sử dụng nồi cơm điện nào sau đây chưa đúng cách?

- A. Sử dụng đúng dung tích. B. Hạn chế vệ sinh nồi.
C. Đọc kỹ thông tin ghi trên nồi. D. Sử dụng đúng điện áp định mức.

Câu 16. (0,25đ) Nhận xét nào không đúng khi nói về bóng đèn huỳnh quang?

- A. Phát ra ánh sáng nhấp nháy. B. Giá thành thấp.
C. Tiết kiệm điện. D. Tuổi thọ cao.

Câu 17. (0,25đ) Đồ dùng điện nào có công dụng làm sạch bụi bẩn?

- A. Quạt treo tường. B. Máy hút bụi. C. Máy xay. D. Đèn ngủ.

Câu 18. (0,25đ) Khi nấu, mặt bếp hồng ngoại có đặc điểm gì?

- A. Nhiệt độ cao hoặc ánh sáng màu đỏ. B. Nhiệt độ cao và không có ánh sáng.
C. Nhiệt độ thấp và ánh sáng màu đỏ. D. Nhiệt độ cao và ánh sáng màu đỏ.

Câu 19. (0,25đ) Đầu là phương án an toàn khi sử dụng điện?

- A. Cắm sạc điện thoại khi đang sử dụng.
B. Ngắt nguồn điện trước khi sửa chữa.
C. Đun nồi nước đầy bằng bếp điện.
D. Dùng tay chặn lỗ thoát hơi nồi cơm điện khi đang nấu.

Câu 20. (0,25đ) Một bóng đèn LED có thông số kĩ thuật như sau: 110V – 5W. Hỏi bóng đèn đó có công suất định mức là bao nhiêu?

- A. 110W và 5W. B. 5W. C. 110W hoặc 5W. D. 110W.

II. TỰ LUẬN (5 điểm)

Câu 1. (2đ) Em hãy nêu cấu tạo, nguyên lí làm việc và thông số kĩ thuật của bóng đèn huỳnh quang.

Câu 2. (3đ) Em hãy tìm hiểu nguyên nhân gây ra hiện tượng trong quá trình nấu cơm sau:

- a, Cơm sau khi nấu bị nhão.
- b, Cơm sau khi nấu bị sống.
- c, Khi mới bắt đầu cắm điện, nồi cơm phát ra tiếng nổ lách tách.

----- **HẾT** -----

Câu 11. (0,25đ) Nhận xét nào không đúng khi nói về bóng đèn huỳnh quang?

- A. Giá thành thấp.
- B. Tiết kiệm điện.
- C. Tuổi thọ cao.
- D. Phát ra ánh sáng nhấp nháy.

Câu 12. (0,25đ) Chức năng của thân nồi là:

- A. Bao kín và giữ nhiệt.
- B. Cung cấp nhiệt cho nồi.
- C. Dùng để bật, tắt, chọn chế độ nấu.
- D. Bao kín, giữ nhiệt và liên kết các bộ phận khác của nồi.

Câu 13. (0,25đ) Vị trí của thân bếp hồng ngoại:

- A. Nằm ở phía dưới bảng điều khiển.
- B. Nằm ở phía dưới mặt bếp và bảng điều khiển
- C. Nằm ở phía trên bảng điều khiển.
- D. Nằm phía dưới mặt bếp.

Câu 14. (0,25đ) Gia đình bạn Linh có ba người: Bố, mẹ và Linh. Em hãy giúp bạn Linh lựa chọn một chiếc nồi cơm điện phù hợp nhất với gia đình bạn có dung tích bao nhiêu?

- A. 1,8 – 2 lít.
- B. 1 lít.
- C. 2 – 2,5 lít.
- D. 0,6 lít.

Câu 15. (0,25đ) Sơ đồ nguyên lí làm việc của bếp hồng ngoại là:

- A. Nguồn điện → Bảng điều khiển → Mâm nhiệt hồng ngoại.
- B. Mâm nhiệt hồng ngoại → Bảng điều khiển → Nguồn điện.
- C. Mâm nhiệt hồng ngoại → Nguồn điện → Bảng điều khiển.
- D. Nguồn điện → Mâm nhiệt hồng ngoại → Bảng điều khiển.

Câu 16. (0,25đ) Công dụng của quạt điện treo tường là gì?

- A. Làm mát.
- B. Chiếu sáng.
- C. Làm chín thức ăn.
- D. Sưởi ấm.

Câu 17. (0,25đ) Cho thông số quạt điện có số liệu: 400mm – 46W – 220V. Hãy cho biết 46W nghĩa là gì?

- A. Điện áp định mức.
- B. Công suất định mức.
- C. Dòng điện định mức.
- D. Độ dài cánh quạt.

Câu 18. (0,25đ) Cách sử dụng nồi cơm điện nào sau đây chưa đúng cách?

- A. Sử dụng đúng điện áp định mức.
- B. Hạn chế vệ sinh nồi.
- C. Đọc kĩ thông tin ghi trên nồi.
- D. Sử dụng đúng dung tích.

Câu 19. (0,25đ) Cấu tạo bóng đèn sợi đốt gồm:

- A. Sợi đốt, bảng mạch LED, đuôi đèn.
- B. Hai điện cực, ống thủy tinh, đuôi đèn.
- C. Bóng thủy tinh, bảng mạch LED, đuôi đèn.
- D. Bóng thủy tinh, sợi đốt, đuôi đèn.

Câu 20. (0,25đ) Sử dụng bếp hồng ngoại không được làm việc nào sau đây?

- A. Sử dụng chất tẩy rửa phù hợp để lau mặt bếp
- B. Đặt bếp nơi thoáng mát.
- C. Có thể chạm tay lên mặt bếp khi vừa nấu xong.
- D. Sử dụng khăn mềm để lau bề mặt bếp.

II. TỰ LUẬN (5 điểm)

Câu 1. (2đ) Em hãy nêu cấu tạo, nguyên lí làm việc và thông số kĩ thuật của bóng đèn sợi đốt.

Câu 2. (3đ) Em hãy tìm hiểu nguyên nhân gây ra hiện tượng trong quá trình nấu cơm sau:

- a, Cơm sau khi nấu bị nhão.
- b, Cơm sau khi nấu bị sống.
- c, Khi mới bắt đầu cắm điện, nồi cơm phát ra tiếng nổ lách tách.

----- **HẾT** -----

I. TRẮC NGHIỆM KHÁCH QUAN (5 điểm)

Viết lại chữ cái đứng trước câu trả lời đúng vào giấy kiểm tra:

Câu 1. (0,25đ) Khi nấu, mặt bếp hồng ngoại có đặc điểm gì?

- A. Nhiệt độ cao và ánh sáng màu đỏ. B. Nhiệt độ thấp và ánh sáng màu đỏ.
C. Nhiệt độ cao hoặc ánh sáng màu đỏ. D. Nhiệt độ cao và không có ánh sáng.

Câu 2. (0,25đ) Một bóng đèn LED có thông số kỹ thuật như sau: 110V – 5W. Hỏi bóng đèn đó có công suất định mức là bao nhiêu?

- A. 5W. B. 110W. C. 110W hoặc 5W. D. 110W và 5W.

Câu 3. (0,25đ) Vị trí của thân bếp hồng ngoại:

- A. Nằm ở phía trên bảng điều khiển.
B. Nằm ở phía dưới mặt bếp và bảng điều khiển
C. Nằm phía dưới mặt bếp.
D. Nằm ở phía dưới bảng điều khiển.

Câu 4. (0,25đ) Gia đình bạn Linh có ba người: Bố, mẹ và Linh. Em hãy giúp bạn Linh lựa chọn một chiếc nồi cơm điện phù hợp nhất với gia đình bạn có dung tích bao nhiêu?

- A. 2 – 2,5 lít. B. 0,6 lít. C. 1,8 – 2 lít. D. 1 lít.

Câu 5. (0,25đ) “Cách mặc trang phục có thiết kế đơn giản, đường nét tạo cảm giác khỏe khoắn, mạnh mẽ, thoải mái vận động” được gọi là phong cách:

- A. Cổ điển. B. Dân gian C. Thể thao. D. Lãng mạn.

Câu 6. (0,25đ) Đồ dùng điện nào có công dụng làm sạch bụi bẩn?

- A. Đèn ngủ. B. Quạt treo tường. C. Máy hút bụi. D. Máy xay.

Câu 7. (0,25đ) Cho thông số quạt điện có số liệu: 400mm – 46W – 220V. Hãy cho biết 46W nghĩa là gì?

- A. Dòng điện định mức. B. Công suất định mức.
C. Độ dài cánh quạt. D. Điện áp định mức.

Câu 8. (0,25đ) Loại đèn điện nào sau đây tiết kiệm điện năng nhất?

- A. Đèn Led C. Đèn sợi đốt.
B. Đèn compact. D. Đèn huỳnh quang.

Câu 9. (0,25đ) Đơn vị của công suất định mức ký hiệu là:

- A. W B. A C. V D. KV

Câu 10. (0,25đ) Bếp hồng ngoại gồm các bộ phận chính nào?

- A. Bảng điều khiển, thân bếp, bộ phận sinh nhiệt, thân nồi.
B. Mặt bếp, bảng điều khiển, nồi nấu, thân nồi.

- C. Nồi nấu, thân nồi, nắp nồi, bảng điều khiển
- D. Mặt bếp, bảng điều khiển, mâm nhiệt hồng ngoại, thân bếp.

Câu 11. (0,25đ) Bộ phận sinh nhiệt của nồi cơm điện có tác dụng gì?

- A. Bảo vệ nồi.
- B. Điều chỉnh áp suất
- C. Cung cấp nhiệt cho nồi.
- D. Liên kết các bộ phận khác của nồi.

Câu 12. (0,25đ) Sơ đồ nguyên lí làm việc của bếp hồng ngoại là:

- A. Nguồn điện → Mâm nhiệt hồng ngoại → Bảng điều khiển.
- B. Nguồn điện → Bảng điều khiển → Mâm nhiệt hồng ngoại.
- C. Mâm nhiệt hồng ngoại → Nguồn điện → Bảng điều khiển.
- D. Mâm nhiệt hồng ngoại → Bảng điều khiển → Nguồn điện.

Câu 13. (0,25đ) Cách sử dụng nồi cơm điện nào sau đây chưa đúng cách?

- A. Sử dụng đúng dung tích.
- B. Đọc kĩ thông tin ghi trên nồi.
- C. Sử dụng đúng điện áp định mức.
- D. Hạn chế vệ sinh nồi.

Câu 14. (0,25đ) Chức năng của thân nồi là:

- A. Bao kín, giữ nhiệt và liên kết các bộ phận khác của nồi.
- B. Bao kín và giữ nhiệt.
- C. Dùng để bật, tắt, chọn chế độ nấu.
- D. Cung cấp nhiệt cho nồi.

Câu 15. (0,25đ) Nhận xét nào không đúng khi nói về bóng đèn huỳnh quang?

- A. Phát ra ánh sáng nhấp nháy.
- B. Giá thành thấp.
- C. Tiết kiệm điện.
- D. Tuổi thọ cao.

Câu 16. (0,25đ) Đâu là phương án an toàn khi sử dụng điện?

- A. Đun nồi nước đầy bằng bếp điện.
- B. Ngắt nguồn điện trước khi sửa chữa.
- C. Cắm sạc điện thoại khi đang sử dụng.
- D. Dùng tay chặn lỗ thoát hơi nồi cơm điện khi đang nấu.

Câu 17. (0,25đ) Công dụng của quạt điện treo tường là gì?

- A. Chiếu sáng.
- B. Sưởi ấm.
- C. Làm chín thức ăn.
- D. Làm mát.

Câu 18. (0,25đ) Cấu tạo bóng đèn sợi đốt gồm:

- A. Hai điện cực, ống thủy tinh, đuôi đèn.
- B. Bóng thủy tinh, bảng mạch LED, đuôi đèn.
- C. Sợi đốt, bảng mạch LED, đuôi đèn.
- D. Bóng thủy tinh, sợi đốt, đuôi đèn.

Câu 19. (0,25đ) Sử dụng bếp hồng ngoại không được làm việc nào sau đây?

- A. Sử dụng khăn mềm để lau bề mặt bếp.
- B. Có thể chạm tay lên mặt bếp khi vừa nấu xong.
- C. Sử dụng chất tẩy rửa phù hợp để lau mặt bếp
- D. Đặt bếp nơi thoáng mát.

Câu 20. (0,25đ) Đâu không là đặc điểm của đèn sợi đốt?

A. Tạo ra ánh sáng liên tục.

B. Hiệu suất phát quang thấp.

C. Tuổi thọ cao.

D. Gần với ánh sáng tự nhiên.

II. TỰ LUẬN (5 điểm)

Câu 1. (2đ) Em hãy nêu cấu tạo, nguyên lí làm việc và thông số kĩ thuật của bóng đèn huỳnh quang.

Câu 2. (3đ) Em hãy tìm hiểu nguyên nhân gây ra hiện tượng trong quá trình nấu cơm sau:

a, Cơm sau khi nấu bị nhão.

b, Cơm sau khi nấu bị sũng.

c, Khi mới bắt đầu cắm điện, nồi cơm phát ra tiếng nổ lách tách.

----- **HẾT** -----

Đề 1

PHẦN I : ĐỌC – HIỂU (6 ĐIỂM)

Đọc văn bản và trả lời các câu hỏi bằng cách ghi lại đáp án của câu trả lời đúng vào giấy kiểm tra:

Đầu tiên, đó chính là sự thiếu ý thức nghiêm trọng và thờ ơ của người dân. Nhiều người cho rằng những việc mình làm là quá nhỏ bé, không đủ để làm hại môi trường. Một số người lại cho rằng việc bảo vệ môi trường là trách nhiệm của nhà nước, của các cấp chính quyền...trong khi số khác lại nghĩ rằng việc môi trường đã bị ô nhiễm thì có làm gì cũng "chẳng ăn thua", và ô nhiễm môi trường cũng không ảnh hưởng đến mình nhiều. Và chính những suy nghĩ này sẽ ảnh hưởng không nhỏ đến việc giáo dục cũng như tư duy bảo vệ môi trường của các thế hệ trẻ về sau...

...Nói cách khác, thực trạng ô nhiễm môi trường nước tại Việt Nam có sự đóng góp rất lớn từ chính ý thức kém của một bộ phận người dân. Tình trạng này thậm chí còn tồi tệ hơn ở các bãi biển tự nhiên. Theo thống kê mới nhất của Bộ Tài nguyên và Môi trường, tại Việt Nam rác thải nhựa chiếm 7% tổng lượng chất thải rắn thải ra, tương đương gần 2.500 tấn/ngày. Bạn có biết rằng Việt Nam đang đứng thứ 4 trên thế giới về lượng chất thải nhựa xả ra đại dương hàng năm lên đến 0,28 - 0,73 triệu tấn rác thải nhựa (chiếm 6% toàn thế giới), chỉ đứng sau Trung Quốc, Indonesia và Philippines.

Indonesia và Philippines. (Nguồn internet)

1: Phương thức biểu đạt chính của văn bản trên là gì ?

- A. Tự sự B. Miêu tả C. Nghị luận D. Biểu cảm

2: Dấu ngoặc kép trong câu: *Một số người lại cho rằng việc bảo vệ môi trường là trách nhiệm của nhà nước, của các cấp chính quyền...trong khi số khác lại nghĩ rằng việc môi trường đã bị ô nhiễm thì có làm gì cũng "chẳng ăn thua", và ô nhiễm môi trường cũng không ảnh hưởng đến mình nhiều. Có tác dụng gì?*

- A. Đánh dấu tên tài liệu, sách, báo dẫn trong câu.
B. Trích dẫn lời nói được thuật lại theo lối trực tiếp.
C. Đóng khung tên riêng tác phẩm.
D. Đóng khung một từ hoặc cụm từ cần chú ý, hay hiểu theo một nghĩa đặc biệt.

3: Nghĩa của từ “môi trường” là:

- A. Tập hợp tất cả các yếu tố tự nhiên và nhân tạo bao quanh con người, ảnh hưởng tới con người và tác động đến các hoạt động sống của con người.
B. Nơi sinh sống của con người
C. Nơi sinh sống của các loài vật.
D. Nơi sinh sống của con người và muôn loài.

4: Trạng ngữ trong câu “Đầu tiên, đó chính là sự thiếu ý thức nghiêm trọng và thờ ơ của người dân” có ý nghĩa gì?

- A. Chỉ thời gian B. Chỉ nguyên nhân
C. Chỉ mục đích D. Chỉ địa điểm

5: Từ nào trong dãy từ sau được mượn từ ngôn ngữ châu Âu?

A. khẩu hiệu B. nylon C. tấm biển D. đại dương

6. Theo tác giả bài viết Việt Nam đang đứng thứ mấy trên thế giới về lượng chất thải nhựa xả ra đại dương hàng năm?

A. 1. B. 2. C. 3. D. 4.

7. Theo tác giả thực trạng ô nhiễm môi trường hiện nay đầu tiên là do?

A. Sản xuất công nghiệp phát triển B. Đất nước còn nghèo
C. Ý thức của con người D. Chất thải sinh hoạt

8. Văn bản trên có mấy đoạn văn?

A. Một đoạn văn B. Hai đoạn văn C. Ba đoạn văn A. Bốn đoạn văn

9. Xác định nội dung chính của văn bản trên? Việc đưa ra các bằng chứng trong đoạn trích có tác dụng gì?

10. Theo em, thông điệp mà văn bản muốn gửi tới chúng ta là gì? (Trình bày bằng 1 đoạn văn khoảng 5-7 câu, gạch chân 1 trạng ngữ có sử dụng trong đoạn văn)

II. VIẾT: (4 ĐIỂM)

Học sinh chọn 1 trong 2 đề sau để làm bài:

Đề 1: Vào vai 1 nhân vật trong truyện truyền thuyết hoặc truyện cổ tích mà em yêu thích, kể lại câu chuyện đó.

Đề 2: Trường học là ngôi nhà thứ hai với biết bao điều đáng để các em quan tâm: *tình thầy trò, quan hệ bạn bè, bạo lực học đường, rác thải, gian lận trong kiểm tra, chơi game...* Em hãy viết một bài văn trình bày ý kiến về một hiện tượng mà em quan tâm nhất trong nhà trường hiện nay.

Chúc các trò Bình tĩnh – Làm bài thật tốt!

Đề 2

PHẦN I : ĐỌC – HIỂU (6 ĐIỂM)

Đọc văn bản và trả lời các câu hỏi bằng cách ghi lại đáp án của câu trả lời đúng vào giấy kiểm tra:

Năm 2009, Tổ chức Giáo dục, Khoa học và Văn hoá của Liên hợp quốc (UNESCO) đã chính thức lấy ngày 22 tháng 4 hằng năm làm Ngày Trái Đất. Từ mốc thời gian ấy, Ngày Trái Đất được coi là một sự kiện thường niên của các quốc gia trên thế giới, hướng tới mục tiêu bảo vệ môi trường, bảo vệ hành tinh xanh. Điều gì đang diễn ra với môi trường sống trên Trái Đất và vì sao vấn đề bảo vệ môi trường lại trở nên cấp thiết đến thế?

Cần nhìn thẳng vào một sự thực: môi trường trên Trái Đất đang bị huỷ hoại và xuống cấp nghiêm trọng. Những nghiên cứu và cảnh báo về môi trường hiện nay tập trung vào các vấn đề: biến đổi khí hậu, hiệu ứng nhà kính, tình trạng ô nhiễm không khí, rác thải nhựa, sự cạn kiệt các tài nguyên thiên nhiên, sự suy giảm tính đa dạng sinh học,... Nói riêng về sự suy giảm tính đa dạng sinh học, theo báo cáo của Liên đoàn Bảo tồn thế giới (IUCN), kể từ năm 1500, đã có 953 loài động vật, thực vật biến mất trên Trái Đất. Trung bình mỗi năm hành tinh của chúng ta chứng kiến từ 1 đến 5 loài tuyệt chủng. Không chỉ thế, theo ước tính của các nhà khoa học, tốc độ biến mất của các loài có thể diễn ra nhanh hơn, gấp 1000 lần, thậm chí gấp 10 000 lần so với tốc độ bình thường. Nhìn chung, tất cả các vấn đề này đều có quan hệ với nhau và đều liên quan (tùy mức độ) tới những hoạt động của con người như: phát triển sản xuất công nghiệp và nông nghiệp thiếu bền vững; khai thác và sử dụng tài nguyên lãng phí; đánh bắt bừa bãi thủy hải sản và động vật hoang dã; xả khí thải, xả rác vô độ;...

(Báo điện tử Đất Việt - Diễn đàn của Liên hiệp các Hội Khoa học và Kỹ thuật Việt Nam, tháng 10/2020)

1: Phương thức biểu đạt chính của văn bản trên là gì ?

- A. Tự sự B. Miêu tả C. Nghị luận D. Biểu cảm

2. Dấu phẩy trong câu “*Những nghiên cứu và cảnh báo về môi trường hiện nay tập trung vào các vấn đề: biến đổi khí hậu, hiệu ứng nhà kính, tình trạng ô nhiễm không khí, rác thải nhựa, sự cạn kiệt các tài nguyên thiên nhiên, sự suy giảm tính đa dạng sinh học,...*” Có tác dụng gì?

- A. Ngăn cách thành phần chính với thành phần phụ của câu.
B. Ngăn cách các vế trong câu ghép.
C. Liên kết các yếu tố đồng chức năng.
D. Ngăn cách các thành phần chú thích với thành phần khác trong câu.

3: Nghĩa của từ “*Môi trường*” trong câu “*Cần nhìn thẳng vào một sự thực: môi trường trên Trái Đất đang bị huỷ hoại và xuống cấp nghiêm trọng.*” là:

A. Nơi sinh sống của con người.

B. Bầu khí quyển, rừng và biển.

C. Các yếu tố tự nhiên và yếu tố vật chất nhân tạo quan hệ mật thiết với nhau, bao quanh con người, có ảnh hưởng tới đời sống sản xuất, sự tồn tại, phát triển của con người và thiên nhiên.

D. Hệ sinh thái, cảnh quan thiên nhiên trên trái đất.

4: Trạng ngữ trong câu “Năm 2009, Tổ chức Giáo dục, Khoa học và Văn hoá của Liên hợp quốc (UNESCO) đã chính thức lấy ngày 22 tháng 4 hằng năm làm Ngày Trái Đất..”, có ý nghĩa gì?

A. Chỉ thời gian

B. Chỉ nguyên nhân

C. Chỉ mục đích

D. Chỉ địa điểm

5: Các số liệu được nêu trong văn bản cho biết điều gì?

A. Số lượng các loài sinh vật bị tuyệt chủng và tốc độ biến mất của chúng

B. Sự cạn kiệt tài nguyên thiên nhiên trên Trái Đất

C. Sự xuống cấp của môi trường sống trên Trái Đất

D. Tốc độ biến mất ngày càng nhanh của các loài động vật hoang dã

6: Từ “hành tinh” trong câu “Trung bình mỗi năm hành tinh của chúng ta chứng kiến từ 1 đến 5 loài tuyệt chủng.” có nguồn gốc là?

A. Từ thuần Việt

B. Từ mượn Tiếng Hán

C. Từ mượn tiếng Anh

D. Từ mượn tiếng Pháp

7: Theo tác giả, vì sao môi trường trên Trái Đất đang bị huỷ hoại và xuống cấp nghiêm trọng?

A. Do biến đổi khí hậu

B. Sự cạn kiệt tài nguyên thiên nhiên

C. Sự suy giảm đa dạng sinh học

D. Do con người, thiếu ý thức bảo vệ môi trường: phát triển sản xuất, khai thác, sử dụng tài nguyên thiên nhiên lãng phí, xả rác thải bừa bãi...

8: Văn bản trên có mấy đoạn văn?

A. Một đoạn văn

B. Hai đoạn văn

C. Ba đoạn văn

D. Bốn đoạn văn

9: Xác định nội dung chính của văn bản trên?

10: Theo em, thông điệp mà văn bản muốn gửi tới chúng ta là gì? (Trình bày bằng 1 đoạn văn khoảng 5-7 câu, gạch chân 1 trạng ngữ có sử dụng trong đoạn văn)

II. VIẾT: (4 ĐIỂM)

Học sinh chọn 1 trong 2 đề sau để làm bài:

Đề 1: Vào vai 1 nhân vật trong truyện truyền thuyết hoặc truyện cổ tích mà em yêu thích, kể lại câu chuyện đó.

Đề 2: Trường học là ngôi nhà thứ hai với biết bao điều đáng để các em quan tâm: tình thầy trò, quan hệ bạn bè, bạo lực học đường, rác thải, gian lận trong kiểm tra, chơi game... Em hãy viết một bài văn trình bày ý kiến về một hiện tượng mà em quan tâm nhất trong nhà trường hiện nay.

Chúc các trò Bình tĩnh – Làm bài thật tốt!

I. TRẮC NGHIỆM: (5.0 điểm): Em hãy chọn và ghi lại chữ cái đứng trước đáp án đúng nhất vào giấy kiểm tra

Phân môn Lịch sử

Câu 1. Trong suốt thời kì Bắc thuộc, người Việt vẫn nghe và nói hoàn toàn bằng

- A. tiếng Hán. B. tiếng Việt. C. tiếng Anh. D. tiếng Thái.

Câu 2. Tín ngưỡng truyền thống nào vẫn được người Việt duy trì trong suốt thời Bắc thuộc?

- A. Thờ cúng tổ tiên. B. Thờ thần tài. C. Thờ Đức Phật. D. Thờ thánh A-la.

Câu 3. Khi du nhập vào Việt Nam, tết Đoan Ngọ (ngày 5/5 âm lịch) mang ý nghĩa là

- A. tết diệt sâu bọ. B. tết đoàn viên. C. tết báo hiếu. D. tết thiếu nhi.

Câu 4. Nội dung nào dưới đây không đúng khi nói về sức sống bền bỉ của văn hóa bản địa Việt Nam dưới thời Bắc thuộc?

- A. Tín ngưỡng thờ cúng tổ tiên tiếp tục được duy trì.
B. Phong tục ăn trầu... được truyền từ đời này sang đời khác.
C. Người Việt tiếp thu tiếng Hán để thay thế tiếng mẹ đẻ.
D. Người Việt vẫn hoàn toàn nghe – nói bằng tiếng Việt.

Câu 5. Nội dung nào dưới đây không phản ánh đúng sự tiếp thu có chọn lọc văn hóa Trung Quốc của người Việt dưới thời bắc thuộc?

- A. Học một số phát minh kĩ thuật như: làm giấy, chế tạo đồ thủy tinh.
B. Tiếp thu một số lễ tết nhưng đã có sự vận dụng cho phù hợp.
C. Tiếp thu tư tưởng, phụ quyền nhưng vẫn tôn trọng phụ nữ.
D. Chủ động tiếp thu chữ Hán và tiếng Hán để thay thế ngôn ngữ mẹ đẻ.

Câu 6. Nội dung nào dưới đây không đúng khi nói về sức sống bền bỉ của văn hóa bản địa Việt Nam dưới thời Bắc thuộc?

- A. Tiếng Việt vẫn được người dân truyền dạy cho con cháu.
B. Tín ngưỡng thờ các vị thần tự nhiên tiếp tục được duy trì.
C. Tục nhuộm răng đen... được truyền từ đời này sang đời khác.
D. Tiếp thu tư tưởng gia trưởng, “trọng nam – kinh nữ” trong Nho giáo.

Câu 7. Đầu năm 544, Lý Bí tự xưng là Lý Nam Đế, lập ra nhà nước Vạn Xuân, đóng đô ở

- A. vùng cửa sông Bạch Đằng. B. Phong Châu
C. vùng cửa sông Tô Lịch. D. Phong Khê.

Câu 8. Năm 40, Hai Bà Trưng phát cờ khởi nghĩa ở

- A. Hát Môn (Phúc Thọ - Hà Nội).
B. đầm Dạ Trạch (Hung Yên).
C. núi Nưa (Triệu Sơn – Thanh Hóa).

D. Hoan Châu (thuộc Nghệ An – Hà Tĩnh hiện nay).

Câu 9. Anh hùng dân tộc nào được đề cập đến trong câu đố dân gian sau:

“Vua nào xưng “đế” đầu tiên

Vạn Xuân tên nước vững an nhà nhà?"

A. Mai Thúc Loan. B. Lý Bí C. Triệu Quang Phục. D. Phùng Hưng.

Câu 10. Cuộc khởi nghĩa Hai Bà Trưng (40 – 43) đã

A. mở ra thời kì độc lập, tự chủ lâu dài trong lịch sử dân tộc Việt Nam.

B. mở ra thời kì đấu tranh giành độc lập, tự chủ của người Việt.

C. làm rung chuyển chính quyền đô hộ của nhà Ngô.

D. giành và giữ được chính quyền độc lập trong khoảng gần 10 năm.

Phân môn Địa lí

Câu 11. Đặc điểm nào sau đây không đúng với đặc điểm thành phần hữu cơ trong đất?

A. Chiếm một tỉ lệ nhỏ trong lớp đất.

B. Thành phần quan trọng nhất của đất.

C. Đá mẹ là sinh ra thành phần hữu cơ.

D. Thường ở tầng trên cùng của đất.

Câu 12. Ở nước ta, kiểu rừng khộp phân bố chủ yếu ở vùng

A. Tây Nguyên.

B. Cúc Phương, Ba Bể

C. Việt Bắc.

D. Hoàng Liên Sơn.

Câu 13. Một trong những biểu hiện của biến đổi khí hậu là

A. thiên tai bất thường, đột ngột.

B. thực vật đột biến gen tăng.

C. quy mô kinh tế thế giới tăng.

D. dân số thế giới tăng nhanh.

Câu 14. Những loài thực vật tiêu biểu ở khu vực có khí hậu lạnh giá là

A. cây lá kim

B. cây lá cứng

C. rêu, địa y

D. sồi, dẻ, lim

Câu 15. Rừng nhiệt đới gió mùa không có đặc điểm nào sau đây?

A. Cây đặc trưng là họ vang, đậu.

B. Các loài động vật phong phú.

C. Rừng thường có 3-4 tầng cây.

D. Phân bố ở gần vòng cực

Câu 16. Nhóm đất điển hình chiếm diện tích lớn nhất ở nước ta là

A. Đất đỏ hoặc đất nâu đỏ xavan.

B. Đất đỏ vàng nhiệt đới.

C. Đất pôtdôn hoặc đất đai nguyên.

D. Đất đỏ vàng cận nhiệt ẩm, đất đen.

Câu 17. Việt Nam nằm trong môi trường

A. đới ôn hòa.

B. đới lạnh.

C. đới nóng

D. hoang mạc.

Câu 18. Nhân tố tự nhiên nào sau đây có ảnh hưởng rõ rệt nhất đến sự phân bố sinh vật trên Trái Đất?

A. Địa hình.

B. Nguồn nước.

C. Thổ nhưỡng.

D. Khí hậu.

Câu 19. Khu vực nào sau đây có rừng mưa nhiệt đới điển hình nhất trên thế giới?

A. In-đô-nê-xi-a.

B. Nga.

C. lưu vực sông A-ma-dôn.

D. Đông Ấn Độ.

Câu 20. Nhân tố nào sau đây là nguồn gốc sinh ra thành phần khoáng trong đất?

A. Đá mẹ.

B. Địa hình.

C. Khí hậu.

D. Sinh vật.

II. TỰ LUẬN (5.0 điểm)

Phân môn Lịch sử

Câu 1. (1.5 điểm) Nêu những biểu hiện của sức sống nền văn hóa bản địa?

Câu 2. (1.0 điểm) Hãy kể tên một số phong tục tập quán của cha ông ta thời Bắc thuộc còn duy trì cho tới ngày nay?

Phân môn Địa lí

Câu 3. (1.5 điểm) Trình bày đặc điểm phạm vi, khí hậu, cảnh quan của đới nóng?

Câu 4. (1.0 điểm) Trình bày vai trò và các biện pháp bảo vệ rừng nhiệt đới?

I. TRẮC NGHIỆM: (5.0 điểm): Em hãy chọn và ghi lại chữ cái đứng trước đáp án đúng nhất vào giấy kiểm tra

Phân môn Lịch sử

Câu 1. Khi du nhập vào Việt Nam, tết Đoan Ngọ (ngày 5/5 âm lịch) mang ý nghĩa là

- A. tết diệt sâu bọ. B. tết đoàn viên. C. tết báo hiếu. D. tết thiếu nhi.

Câu 2. Nội dung nào dưới đây không đúng khi nói về sức sống bền bỉ của văn hóa bản địa Việt Nam dưới thời Bắc thuộc?

- A. Tín ngưỡng thờ cúng tổ tiên tiếp tục được duy trì.
B. Phong tục ăn trâu... được truyền từ đời này sang đời khác.
C. Người Việt tiếp thu tiếng Hán để thay thế tiếng mẹ đẻ.
D. Người Việt vẫn hoàn toàn nghe – nói bằng tiếng Việt.

Câu 3. Nội dung nào dưới đây không phản ánh đúng sự tiếp thu có chọn lọc văn hóa Trung Quốc của người Việt dưới thời bắc thuộc?

- A. Học một số phát minh kĩ thuật như: làm giấy, chế tạo đồ thủy tinh.
B. Tiếp thu một số lễ tết nhưng đã có sự vận dụng cho phù hợp.
C. Tiếp thu tư tưởng, phụ quyền nhưng vẫn tôn trọng phụ nữ.
D. Chủ động tiếp thu chữ Hán và tiếng Hán để thay thế ngôn ngữ mẹ đẻ.

Câu 4. Nội dung nào dưới đây không đúng khi nói về sức sống bền bỉ của văn hóa bản địa Việt Nam dưới thời Bắc thuộc?

- A. Tiếng Việt vẫn được người dân truyền dạy cho con cháu.
B. Tín ngưỡng thờ các vị thần tự nhiên tiếp tục được duy trì.
C. Tục nhuộm răng đen... được truyền từ đời này sang đời khác.
D. Tiếp thu tư tưởng gia trưởng, “trọng nam – kinh nữ” trong Nho giáo.

Câu 5. Đầu năm 544, Lý Bí tự xưng là Lý Nam Đế, lập ra nhà nước Vạn Xuân, đóng đô ở

- A. vùng cửa sông Bạch Đằng. B. Phong Châu.
C. vùng cửa sông Tô Lịch. D. Phong Khê.

Câu 6. Năm 40, Hai Bà Trưng phát cờ khởi nghĩa ở

- A. Hát Môn (Phúc Thọ - Hà Nội). B. đầm Dạ Trạch (Hung Yên).
C. núi Nưa (Triệu Sơn – Thanh Hóa). D. Hoan Châu (thuộc Nghệ An – Hà Tĩnh hiện nay).

Câu 7. Anh hùng dân tộc nào được đề cập đến trong câu đố dân gian sau:

“Vua nào xưng “đế” đầu tiên

Vạn Xuân tên nước vững an nhà nhà?”

- A. Mai Thúc Loan. B. Lý Bí C. Triệu Quang Phục. D. Phùng Hưng.

Câu 8. Cuộc khởi nghĩa Hai Bà Trưng (40 – 43) đã

- A. mở ra thời kì độc lập, tự chủ lâu dài trong lịch sử dân tộc Việt Nam.
B. mở ra thời kì đấu tranh giành độc lập, tự chủ của người Việt.
C. làm rung chuyển chính quyền đô hộ của nhà Ngô.
D. giành và giữ được chính quyền độc lập trong khoảng gần 10 năm.

Câu 9. Trong suốt thời kì Bắc thuộc, người Việt vẫn nghe và nói hoàn toàn bằng

- A. tiếng Hán. B. tiếng Việt. C. tiếng Anh. D. tiếng Thái.

Câu 10. Tín ngưỡng truyền thống nào vẫn được người Việt duy trì trong suốt thời Bắc thuộc?

- A. Thờ cúng tổ tiên. B. Thờ thần tài. C. Thờ Đức Phật. D. Thờ thánh A-la.

Phân môn Địa lí

Câu 11. Đặc điểm nào sau đây không đúng với đặc điểm thành phần hữu cơ trong đất?

- A. Thành phần quan trọng nhất của đất. B. Đá mẹ là sinh ra thành phần hữu cơ.
C. Chiếm một tỉ lệ nhỏ trong lớp đất. D. Thường ở tầng trên cùng của đất.

Câu 12. Loại đất nào sau đây thường được dùng để trồng cây lúa nước?

- A. Đất phù sa. B. Đất đỏ badan. C. Đất feralit. D. Đất đen, xám.

Câu 13. Một trong những biểu hiện của biến đổi khí hậu là

- A. thực vật đột biến gen tăng. B. dân số thế giới tăng nhanh.
C. quy mô kinh tế thế giới tăng. D. thiên tai bất thường, đột ngột.

Câu 14. Chi lưu của một con sông là gì?

- A. Các con sông đổ nước vào con sông chính và sông phụ.
B. Các con sông làm nhiệm vụ thoát nước cho sông chính.
C. Lượng nước chảy tạo ra mặt cắt ngang lòng ở con sông.
D. Diện tích đất đai cung cấp nước thường xuyên cho sông.

Câu 15. Nhân tố tự nhiên nào sau đây có ảnh hưởng rõ rệt nhất đến sự phân bố sinh vật trên Trái Đất?

- A. Khí hậu. B. Địa hình. C. Thổ nhưỡng. D. Nguồn nước.

Câu 16. Việt Nam nằm trong môi trường

- A. hoang mạc. B. đới ôn hòa. C. đới nóng. D. đới lạnh.

Câu 17. Rừng nhiệt đới gió mùa không có đặc điểm nào sau đây?

- A. Cây đặc trưng là họ vang, đậu. B. Rừng thường có 3-4 tầng cây.
C. Phân bố ở gần vòng cực. D. Các loài động vật phong phú.

Câu 18. Loại gió nào sau đây thổi thường xuyên trong khu vực đới nóng?

- A. Gió Tín phong. B. Gió Đông cực. C. Gió địa phương. D. Gió Tây ôn đới.

Câu 19. Những loài thực vật tiêu biểu ở khu vực có khí hậu lạnh giá là

- A. cây lá kim. B. cây lá cứng. C. sồi, dẻ, lim. D. rêu, địa y

Câu 20. Khu vực nào sau đây có rừng mưa nhiệt đới điển hình nhất trên thế giới?

- A. In-đô-nê-xi-a. B. Nga.
C. Đông Ấn Độ. D. lưu vực sông A-ma-dôn.

II. TỰ LUẬN (5.0 điểm)

Phân môn Lịch sử

Câu 1. (1.5 điểm) Nêu những biểu hiện của sức sống nền văn hóa bản địa?

Câu 2. (1.0 điểm) Là học sinh em sẽ làm gì để giữ gìn và phát huy nền văn hóa dân tộc?

Phân môn Địa lí

Câu 3. (1.5 điểm) Trình bày đặc điểm phạm vi, khí hậu, cảnh quan của đới ôn hòa?

Câu 4. (1.0 điểm) Trình bày vai trò và các biện pháp bảo vệ rừng nhiệt đới?

I. TRẮC NGHIỆM: (5.0 điểm): Em hãy chọn và ghi lại chữ cái đứng trước đáp án đúng nhất vào giấy kiểm tra

Phân môn Lịch sử

Câu 1. Nội dung nào dưới đây **không** phản ánh đúng sự tiếp thu có chọn lọc văn hóa Trung Quốc của người Việt dưới thời Bắc thuộc?

- A. Học một số phát minh kỹ thuật như: làm giấy, chế tạo đồ thủy tinh.
- B. Tiếp thu một số lễ tết nhưng đã có sự vận dụng cho phù hợp.
- C. Tiếp thu tư tưởng, phụ quyền nhưng vẫn tôn trọng phụ nữ.
- D. Chủ động tiếp thu chữ Hán và tiếng Hán để thay thế ngôn ngữ mẹ đẻ.

Câu 2. Nội dung nào dưới đây **không** đúng khi nói về sức sống bền bỉ của văn hóa bản địa Việt Nam dưới thời Bắc thuộc?

- A. Tiếng Việt vẫn được người dân truyền dạy cho con cháu.
- B. Tín ngưỡng thờ các vị thần tự nhiên tiếp tục được duy trì.
- C. Tục nhuộm răng đen... được truyền từ đời này sang đời khác.
- D. Tiếp thu tư tưởng gia trưởng, “trọng nam – kinh nữ” trong Nho giáo.

Câu 3. Đầu năm 544, Lý Bí tự xưng là Lý Nam Đế, lập ra nhà nước Vạn Xuân, đóng đô ở

- A. vùng cửa sông Bạch Đằng. B. Phong Châu.
- C. vùng cửa sông Tô Lịch. D. Phong Khê.

Câu 4. Năm 40, Hai Bà Trưng phát cờ khởi nghĩa ở

- A. Hát Môn (Phúc Thọ - Hà Nội). B. đầm Dạ Trạch (Hưng Yên).
- C. núi Nưa (Triệu Sơn – Thanh Hóa). D. Hoan Châu (thuộc Nghệ An – Hà Tĩnh hiện nay).

Câu 5. Anh hùng dân tộc nào được đề cập đến trong câu đố dân gian sau:

“Vua nào xưng “đế” đầu tiên

Vạn Xuân tên nước vững an nhà nhà?”

- A. Mai Thúc Loan. B. Lý Bí C. Triệu Quang Phục. D. Phùng Hưng.

Câu 6. Cuộc khởi nghĩa Hai Bà Trưng (40 – 43) đã

- A. mở ra thời kì độc lập, tự chủ lâu dài trong lịch sử dân tộc Việt Nam.
- B. mở ra thời kì đấu tranh giành độc lập, tự chủ của người Việt.
- C. làm rung chuyển chính quyền đô hộ của nhà Ngô.
- D. giành và giữ được chính quyền độc lập trong khoảng gần 10 năm.

Câu 7. Trong suốt thời kì Bắc thuộc, người Việt vẫn nghe và nói hoàn toàn bằng

- A. tiếng Hán. B. tiếng Việt. C. tiếng Anh. D. tiếng Thái.

Câu 8. Tín ngưỡng truyền thống nào vẫn được người Việt duy trì trong suốt thời Bắc thuộc?

- A. Thờ cúng tổ tiên. B. Thờ thần tài.
- C. Thờ Đức Phật. D. Thờ thánh A-la.

Câu 9. Khi du nhập vào Việt Nam, tết Đoan Ngọ (ngày 5/5 âm lịch) mang ý nghĩa là

- A. tết diệt sâu bọ. B. tết đoàn viên. C. tết báo hiếu. D. tết thiếu nhi.

Câu 10. Nội dung nào dưới đây **không** đúng khi nói về sức sống bền bỉ của văn hóa bản địa Việt Nam dưới thời Bắc thuộc?

- A. Tín ngưỡng thờ cúng tổ tiên tiếp tục được duy trì.
- B. Phong tục ăn trầu... được truyền từ đời này sang đời khác.
- C. Người Việt tiếp thu tiếng Hán để thay thế tiếng mẹ đẻ.
- D. Người Việt vẫn hoàn toàn nghe – nói bằng tiếng Việt.

Phân môn Địa lí

Câu 11. Việt Nam nằm trong môi trường

- A. đới nóng
- B. đới lạnh.
- C. hoang mạc.
- D. đới ôn hòa.

Câu 12. Nhân tố tự nhiên nào sau đây có ảnh hưởng rõ rệt nhất đến sự phân bố sinh vật trên Trái Đất?

- A. Nguồn nước.
- B. Thổ nhưỡng.
- C. Khí hậu.
- D. Địa hình.

Câu 13. Rừng nhiệt đới gió mùa không có đặc điểm nào sau đây?

- A. Các loài động vật phong phú.
- B. Phân bố ở gần vòng cực
- C. Rừng thường có 3-4 tầng cây.
- D. Cây đặc trưng là họ vang, đậu.

Câu 14. Khu vực nào sau đây có rừng mưa nhiệt đới điển hình nhất trên thế giới?

- A. Đông Ấn Độ.
- B. Nga.
- C. In- đô- nê- xi- a.
- D. lưu vực sông A-ma-dôn.

Câu 15. Đặc điểm nào sau đây không đúng với đặc điểm thành phần hữu cơ trong đất?

- A. Chiếm một tỉ lệ nhỏ trong lớp đất.
- B. Đá mẹ là sinh ra thành phần hữu cơ.
- C. Thành phần quan trọng nhất của đất.
- D. Thường ở tầng trên cùng của đất.

Câu 16. Nhóm đất điển hình chiếm diện tích lớn nhất ở nước ta là

- A. Đất pôtdôn hoặc đất đài nguyên.
- B. Đất đỏ vàng nhiệt đới.
- C. Đất đỏ hoặc đất nâu đỏ xavan.
- D. Đất đỏ vàng cận nhiệt ẩm, đất đen.

Câu 17. Chi lưu của một con sông là gì?

- A. Lượng nước chảy tạo ra mặt cắt ngang lòng ở con sông.
- B. Các con sông đổ nước vào con sông chính và sông phụ.
- C. Các con sông làm nhiệm vụ thoát nước cho sông chính.
- D. Diện tích đất đai cung cấp nước thường xuyên cho sông.

Câu 18. Ở nước ta, kiểu rừng khộp phân bố chủ yếu ở vùng

- A. Tây Nguyên.
- B. Cúc Phương, Ba Bể
- C. Việt Bắc.
- D. Hoàng Liên Sơn.

Câu 19. Một trong những biểu hiện của biến đổi khí hậu là

- A. quy mô kinh tế thế giới tăng.
- B. thiên tai bất thường, đột ngột.
- C. dân số thế giới tăng nhanh.
- D. thực vật đột biến gen tăng.

Câu 20. Loại gió nào sau đây thổi thường xuyên trong khu vực đới nóng?

- A. Gió Tín phong.
- B. Gió Đông cực.
- C. Gió địa phương.
- D. Gió Tây ôn đới.

II. TỰ LUẬN (5.0 điểm)

Phân môn Lịch sử

Câu 1. (1.5 điểm) Nêu những biểu hiện của việc tiếp thu có chọn lọc văn hóa Trung Hoa ?

Câu 2. (1.0 điểm) Hãy kể tên một số phong tục tập quán của cha ông ta thời Bắc thuộc còn duy trì cho tới ngày nay?

Phân môn Địa lí

Câu 3. (1.5 điểm) Trình bày đặc điểm phạm vi, khí hậu, cảnh quan của đới lạnh?

Câu 4. (1.0 điểm) Trình bày vai trò và các biện pháp bảo vệ rừng nhiệt đới?

I. TRẮC NGHIỆM: (5.0 điểm): Em hãy chọn và ghi lại chữ cái đứng trước đáp án đúng nhất vào giấy kiểm tra

Phân môn Lịch sử

Câu 1. Đầu năm 544, Lý Bí tự xưng là Lý Nam Đế, lập ra nhà nước Vạn Xuân, đóng đô ở

- A. vùng cửa sông Bạch Đằng. B. Phong Châu.
C. vùng cửa sông Tô Lịch. D. Phong Khê.

Câu 2. Năm 40, Hai Bà Trưng phát cờ khởi nghĩa ở

- A. Hát Môn (Phúc Thọ - Hà Nội). B. đầm Dạ Trạch (Hưng Yên).
C. núi Nưa (Triệu Sơn – Thanh Hóa). D. Hoan Châu (thuộc Nghệ An – Hà Tĩnh hiện nay).

Câu 3. Anh hùng dân tộc nào được đề cập đến trong câu đố dân gian sau:

“Vua nào xưng “đế” đầu tiên

Vạn Xuân tên nước vững an nhà nhà?”

- A. Mai Thúc Loan. B. Lý Bí
C. Triệu Quang Phục. D. Phùng Hưng..

Câu 4. Cuộc khởi nghĩa Hai Bà Trưng (40 – 43) đã

- A. mở ra thời kì độc lập, tự chủ lâu dài trong lịch sử dân tộc Việt Nam.
B. mở ra thời kì đấu tranh giành độc lập, tự chủ của người Việt.
C. làm rung chuyển chính quyền đô hộ của nhà Ngô.
D. giành và giữ được chính quyền độc lập trong khoảng gần 10 năm.

Câu 5. Trong suốt thời kì Bắc thuộc, người Việt vẫn nghe và nói hoàn toàn bằng

- A. tiếng Hán. B. tiếng Việt. C. tiếng Anh. D. tiếng Thái.

Câu 6. Tín ngưỡng truyền thống nào vẫn được người Việt duy trì trong suốt thời Bắc thuộc?

- A. Thờ cúng tổ tiên. B. Thờ thần tài. C. Thờ Đức Phật. D. Thờ thánh A-la.

Câu 7. Khi du nhập vào Việt Nam, tết Đoan Ngọ (ngày 5/5 âm lịch) mang ý nghĩa là

- A. tết diệt sâu bọ. B. tết đoàn viên. C. tết báo hiếu. D. tết thiếu nhi.

Câu 8. Nội dung nào dưới đây không đúng khi nói về sức sống bền bỉ của văn hóa bản địa Việt Nam dưới thời Bắc thuộc?

- A. Tín ngưỡng thờ cúng tổ tiên tiếp tục được duy trì.
B. Phong tục ăn trầu... được truyền từ đời này sang đời khác.
C. Người Việt tiếp thu tiếng Hán để thay thế tiếng mẹ đẻ.
D. Người Việt vẫn hoàn toàn nghe – nói bằng tiếng Việt.

Câu 9. Nội dung nào dưới đây không phản ánh đúng sự tiếp thu có chọn lọc văn hóa Trung Quốc của người Việt dưới thời bắc thuộc?

- A. Học một số phát minh kĩ thuật như: làm giấy, chế tạo đồ thủy tinh.
B. Tiếp thu một số lễ tết nhưng đã có sự vận dụng cho phù hợp.
C. Tiếp thu tư tưởng, phụ quyền nhưng vẫn tôn trọng phụ nữ.
D. Chủ động tiếp thu chữ Hán và tiếng Hán để thay thế ngôn ngữ mẹ đẻ.

Câu 10. Nội dung nào dưới đây không đúng khi nói về sức sống bền bỉ của văn hóa bản địa Việt Nam dưới thời Bắc thuộc?

- A. Tiếng Việt vẫn được người dân truyền dạy cho con cháu.
B. Tín ngưỡng thờ các vị thần tự nhiên tiếp tục được duy trì.
C. Tục nhuộm răng đen... được truyền từ đời này sang đời khác.
D. Tiếp thu tư tưởng gia trưởng, “trọng nam – kinh nữ” trong Nho giáo.

Phân môn Địa lí

Câu 11. Loại đất nào sau đây thường được dùng để trồng cây lúa nước?

A. Đất phù sa. B. Đất đỏ badan. C. Đất feralit. D. Đất đen, xám.

Câu 12. Rừng mưa nhiệt đới phân bố chủ yếu ở nơi có khí hậu

A. ít mưa, khô ráo, nhiều nắng. B. mưa nhiều, ít nắng, ẩm lớn.

C. nóng, khô, lượng mưa nhỏ. D. nóng, ẩm, lượng mưa lớn.

Câu 13. Một trong những biểu hiện của biến đổi khí hậu là

A. dân số thế giới tăng nhanh. B. thiên tai bất thường, đột ngột.

C. thực vật đột biến gen tăng. D. quy mô kinh tế thế giới tăng.

Câu 14. Rừng nhiệt đới gió mùa không có đặc điểm nào sau đây?

A. Rừng thường có 3-4 tầng cây. B. Phân bố ở gần vòng cực

C. Cây đặc trưng là họ vang, đậu. D. Các loài động vật phong phú.

Câu 15. Chi lưu của một con sông là gì?

A. Các con sông làm nhiệm vụ thoát nước cho sông chính.

B. Diện tích đất đai cung cấp nước thường xuyên cho sông.

C. Lượng nước chảy tạo ra mặt cắt ngang lòng ở con sông.

D. Các con sông đổ nước vào con sông chính và sông phụ.

Câu 16. Những loài thực vật tiêu biểu ở khu vực có khí hậu lạnh giá là

A. cây lá cứng B. rêu, địa y C. sồi, dẻ, lim D. cây lá kim

Câu 17. Việt Nam nằm trong môi trường

A. đới lạnh. B. đới nóng C. đới ôn hòa. D. hoang mạc.

Câu 18. Nhóm đất điển hình chiếm diện tích lớn nhất ở nước ta là

A. Đất pôtdôn hoặc đất đai nguyên. B. Đất đỏ hoặc đất nâu đỏ xavan.

C. Đất đỏ vàng cận nhiệt ẩm, đất đen. D. Đất đỏ vàng nhiệt đới.

Câu 19. Ở nước ta, kiểu rừng khộp phân bố chủ yếu ở vùng

A. Tây Nguyên. B. Cúc Phương, Ba Bể C. Việt Bắc. D. Hoàng Liên Sơn.

Câu 20. Nhân tố tự nhiên nào sau đây có ảnh hưởng rõ rệt nhất đến sự phân bố sinh vật trên Trái Đất?

A. Khí hậu. B. Thổ nhưỡng. C. Địa hình. D. Nguồn nước.

II. TỰ LUẬN (5.0 điểm)

Phân môn Lịch sử

Câu 1. (1.5 điểm) Nêu những biểu hiện của việc tiếp thu có chọn lọc văn hóa Trung Hoa?

Câu 2. (1.0 điểm) Là học sinh em sẽ làm gì để giữ gìn và phát huy nền văn hóa dân tộc?

Phân môn Địa lí

Câu 3. (1.5 điểm) Nêu tác động của con người đối với quá trình hình thành đất?

Câu 4. (1.0 điểm) Trình bày vai trò và các biện pháp bảo vệ rừng nhiệt đới?

Phần I. Trắc nghiệm (5 điểm)

Ghi lại chữ cái đầu trước câu trả lời đúng vào giấy kiểm tra:

Câu 1. Việt Nam gia nhập vào Công ước liên hợp quốc năm nào?

- A. Năm 1898. B. Năm 1989. C. Năm 1990. D. Năm 1999.

Câu 2. Việt Nam ban hành luật bảo vệ, chăm sóc, giáo dục trẻ em năm nào?

- A. 1989. B. 1992. C. 1990. D. 1991.

Câu 3. Được học tập, vui chơi giải trí thuộc nhóm quyền nào?

- A. Bảo vệ. B. Sống còn. C. Phát triển. D. Tham gia.

Câu 4. Thủ đô của quốc gia Việt Nam là:

- A. TP Hà Nội. B. TP Hồ Chí Minh. C. Tokyo. D. Bắc Kinh.

Câu 5. Quyền được chăm sóc sức khỏe của công dân thuộc nhóm quyền nào?

- A. Quyền chính trị. B. Quyền kinh tế.
C. Quyền dân sự. D. Quyền văn hóa, xã hội.

Câu 6. Quyền học tập của công dân thuộc nhóm quyền nào?

- A. Phát triển. B. Bảo vệ. C. Tham gia. D. Sống còn.

Câu 7. Quyền học tập được nêu tại điều nào trong Hiến pháp năm 2013?

- A. Điều 37. B. Điều 36. C. Điều 39. D. Điều 38.

Câu 8. Đến nay, Công ước về quyền trẻ em có bao nhiêu thành viên?

- A. 194. B. 195. C. 196. D. 197.

Câu 9. Quyền được tự do ngôn luận thuộc nhóm quyền nào ?

- A. Quyền kinh tế. B. Quyền văn hóa, xã hội.
C. Quyền chính trị. D. Quyền dân sự.

Câu 10. Thành ngữ : Đi một ngày đàng học một sàng khôn nói đến điều gì?

- A. Vai trò của tự học. B. Vai trò của tự nhận thức.
C. Vai trò của việc học. D. Vai trò của cá nhân.

Câu 11. Trang phục truyền thống của người Việt Nam là:

- A. Áo dài. B. Sườn xám. C. Hanbok. D. Kimono.

Câu 12. Công ước liên hợp quốc ra đời vào năm nào?

- A. Năm 1898. B. Năm 1990. C. Năm 1999. D. Năm 1989.

Câu 13. Quyền được đảm bảo an toàn và bí mật thư tín thuộc nhóm quyền nào ?

- A. Quyền kinh tế. B. Quyền chính trị.
C. Quyền dân sự. D. Quyền văn hóa, xã hội.

Câu 14. Tổ chức tiêm ngừa cho trẻ em là thể hiện nhóm quyền nào?

- A. Sống còn. B. Phát triển. C. Tham gia. D. Bảo vệ.

Câu 15. Không ai được tự ý vào chỗ ở của người khác nếu không được người đó đồng ý, trừ trường hợp cho phép.

- A. Tòa án B. Công an. C. Pháp luật. D. Cảnh sát.

Câu 16. Quyền được bảo vệ, chăm sóc sức khỏe thuộc nhóm quyền nào ?

- A. Quyền dân sự. B. Quyền văn hóa, xã hội.
C. Quyền kinh tế. D. Quyền chính trị.

Câu 17. Quyền xâm phạm vào chỗ ở là một trong những quyền của công dân được quy định trong Hiến Pháp của nước ta.

- A. Cơ bản. B. Cơ sở C. Thực chất. D. Bản chất.

Câu 18. Trong cuộc sống chúng ta phải biết tính mạng, thân thể, sức khỏe, ... của người khác. Đồng thời phải biết bảo vệ quyền lợi của mình.

- A. Yêu thương. B. Tìm hiểu. C. Bảo vệ. D. Tôn trọng.

Câu 19. Được sống và đáp ứng nhu cầu tồn tại thuộc nhóm quyền nào?

- A. Bảo vệ. B. Phát triển. C. Sống còn. D. Tham gia.

Câu 20. Việt Nam là nước thứ mấy trên thế giới công nhận Công ước trẻ em?

- A. Thứ 2. B. Thứ 1. C. Thứ 4. D. Thứ 3.

Phần II: Tự luận (5 điểm)

Câu 1. (3 điểm) Cho tình huống:

Mặc dù công việc của bố mẹ Hà rất vất vả nhưng Hà rất ít khi làm việc nhà để giúp đỡ bố mẹ vì nghĩ rằng mình chỉ cần có nghĩa vụ học giỏi là được.

- a) Em suy nghĩ gì về việc làm của Hà?
b) Theo em, Hà cần làm gì để thực hiện tốt quyền và nghĩa vụ của học sinh?

Câu 2. (2 điểm)

Thế nào quyền trẻ em? Em hãy nêu nội dung của nhóm quyền sống còn và nhóm quyền phát triển?

----- HẾT -----

Phần I. Trắc nghiệm (5 điểm)

Ghi lại chữ cái đầu trước câu trả lời đúng vào giấy kiểm tra:

Câu 1. Thực hiện nghĩa vụ bảo vệ môi trường được nêu tại điều nào trong Hiến pháp năm 2013?

- A. Điều 40. B. Điều 43. C. Điều 41. D. Điều 42.

Câu 2. Trong cuộc sống chúng ta phải biết tính mạng, thân thể, sức khỏe, ... của người khác. Đồng thời phải biết bảo vệ quyền lợi của mình.

- A. Tìm hiểu. B. Tôn trọng. C. Yêu thương. D. Bảo vệ.

Câu 3. Trang phục truyền thống của người Việt Nam là:

- A. Sườn xám. B. Hanbok. C. Kimono. D. Áo dài.

Câu 4. Quyền đảm bảo an toàn và bí mật cá nhân, điện thoại, điện tín được nêu tại điều nào trong Hiến pháp năm 2013?

- A. Điều 23. B. Điều 20. C. Điều 22. D. Điều 21.

Câu 5. Bậc học nền tảng trong hệ thống giáo dục Việt Nam là:

- A. Trung học. B. Tiểu học. C. Mầm non. D. Đại học

Câu 6. Thủ đô của quốc gia Việt Nam là:

- A. TP Hồ Chí Minh. B. Bắc Kinh. C. Tokyo. D. TP Hà Nội.

Câu 7. Công ước Liên Hợp Quốc chia làm mấy nhóm quyền nào?

- A. 2. B. 5. C. 4. D. 3.

Câu 8. Công ước liên hợp quốc ra đời vào năm nào?

- A. Năm 1999. B. Năm 1898. C. Năm 1989. D. Năm 1990.

Câu 9. Được học tập, vui chơi giải trí thuộc nhóm quyền nào?

- A. Sống còn. B. Phát triển. C. Bảo vệ. D. Tham gia.

Câu 10. Việt Nam ban hành luật bảo vệ, chăm sóc, giáo dục trẻ em năm nào?

- A. 1991. B. 1992. C. 1989. D. 1990.

Câu 11. Không ai được tự ý vào chỗ ở của người khác nếu không được người đó đồng ý, trừ trường hợp cho phép.

- A. Công an. B. Pháp luật. C. Tòa án D. Cảnh sát.

Câu 12. Thành ngữ : Đi một ngày đàng học một sàng khôn nói đến điều gì?

- A. Vai trò của tự nhận thức. B. Vai trò của cá nhân.
C. Vai trò của việc học. D. Vai trò của tự học.

Câu 13. Việt Nam là nước thứ mấy trên thế giới công nhận Công ước trẻ em?

- A. Thứ 4. B. Thứ 2. C. Thứ 1. D. Thứ 3.

Câu 14. Quyền được bảo vệ, chăm sóc sức khỏe thuộc nhóm quyền nào ?

- A. Quyền chính trị. B. Quyền dân sự.
C. Quyền văn hóa, xã hội. D. Quyền kinh tế.

Câu 15. Cơ quan nào được khám xét chỗ ở theo quy định của pháp luật?

- A. Tòa án. B. Công an.
C. Hàng xóm. D. Trưởng thôn.

Câu 16. Được sống và đáp ứng nhu cầu tồn tại thuộc nhóm quyền nào?

- A. Phát triển. B. Sống còn. C. Tham gia. D. Bảo vệ.

Câu 17. Việt Nam gia nhập vào Công ước liên hợp quốc năm nào?

- A. Năm 1999. B. Năm 1898. C. Năm 1990. D. Năm 1989.

Câu 18. Quyền được chăm sóc sức khỏe của công dân thuộc nhóm quyền nào?

- A. Quyền chính trị. B. Quyền kinh tế.
C. Quyền văn hóa, xã hội. D. Quyền dân sự.

Câu 19. Mọi công dân đều có quyền học không hạn chế, học bất cứ ngành nghề nào, nội dung này thể hiện quyền nào dưới đây?

- A. Quyền sáng tạo. B. Quyền học tập.
C. Quyền được phát triển. D. Quyền tác giả.

Câu 20. Quyền được tự do ngôn luận thuộc nhóm quyền nào ?

- A. Quyền dân sự. B. Quyền chính trị.
C. Quyền kinh tế. D. Quyền văn hóa, xã hội.

Phần II: Tự luận (5 điểm)

Câu 1. (3 điểm) Cho tình huống:

Lên học ở Trung học cơ sở, Lan đòi mẹ mua xe đạp mới để đi học. Mẹ bảo rằng, bao giờ mẹ để dành đủ tiền sẽ mua. Lan so sánh mình với mấy bạn có xe trong lớp và cảm thấy âm ức, nên oán trách mẹ.

Theo em

a/ Lan đúng hay sai ? Vì sao ?

b/ Nếu em là Lan, em sẽ ứng xử thế nào ?

Câu 2. (2 điểm)

Thế nào quyền trẻ em? Em hãy nêu nội dung của nhóm quyền bảo vệ và nhóm quyền phát triển?

----- HẾT -----

Phần I. Trắc nghiệm (5 điểm)

Ghi lại chữ cái đầu trước câu trả lời đúng vào giấy kiểm tra:

Câu 1. Thực hiện nghĩa vụ bảo vệ môi trường được nêu tại điều nào trong Hiến pháp năm 2013?

- A. Điều 43. B. Điều 40. C. Điều 41. D. Điều 42.

Câu 2. Quyền được pháp luật bảo hộ về tính mạng, sức khỏe, danh dự và nhân phẩm của công dân được ghi nhận tại điều nào trong Hiến pháp năm 2013?

- A. Điều 23. B. Điều 22. C. Điều 20. D. Điều 21.

Câu 3. Quyền được tự do ngôn luận thuộc nhóm quyền nào ?

- A. Quyền chính trị. B. Quyền văn hóa, xã hội.
C. Quyền dân sự. D. Quyền kinh tế.

Câu 4. Quyền xâm phạm vào chỗ ở là một trong những quyền của công dân được quy định trong Hiến Pháp của nước ta.

- A. Thực chất. B. Cơ bản. C. Bản chất. D. Cơ sở

Câu 5. Thực hiện nghĩa vụ quân sự là điều nào trong Hiến pháp năm 2013?

- A. Điều 46. B. Điều 47. C. Điều 44. D. Điều 45.

Câu 6. Không ai được tự ý vào chỗ ở của người khác nếu không được người đó đồng ý, trừ trường hợp cho phép.

- A. Cảnh sát. B. Công an. C. Pháp luật. D. Tòa án

Câu 7. Quyền được chăm sóc sức khỏe của công dân thuộc nhóm quyền nào?

- A. Quyền kinh tế. B. Quyền dân sự.
C. Quyền văn hóa, xã hội. D. Quyền chính trị.

Câu 8. Việt Nam là nước thứ mấy trên thế giới công nhận Công ước trẻ em?

- A. Thứ 3. B. Thứ 2. C. Thứ 4. D. Thứ 1.

Câu 9. Việt Nam ban hành luật bảo vệ, chăm sóc, giáo dục trẻ em năm nào?

- A. 1990. B. 1991. C. 1992. D. 1989.

Câu 10. Quyền được đảm bảo an toàn và bí mật thư tín, điện thoại, điện tín thuộc nhóm quyền nào ?

- A. Quyền dân sự. B. Quyền kinh tế.
C. Quyền văn hóa, xã hội. D. Quyền chính trị.

Câu 11. Quyền học tập được nêu tại điều nào trong Hiến pháp năm 2013?

- A. Điều 38. B. Điều 37. C. Điều 39. D. Điều 36.

Câu 12. Trang phục truyền thống của người Việt Nam là:

- A. Sườn xám. B. Hanbok. C. Áo dài. D. Kimono.

Câu 13. Được sống và đáp ứng nhu cầu tồn tại thuộc nhóm quyền nào?

- A. Sống còn. B. Bảo vệ. C. Phát triển. D. Tham gia.

Câu 14. Quyền đảm bảo an toàn và bí mật cá nhân, điện thoại, điện tín được nêu tại điều nào trong Hiến pháp năm 2013?

- A. Điều 23. B. Điều 22. C. Điều 21. D. Điều 20.

Câu 15. Thủ đô của quốc gia Việt Nam là:

- A. TP Hà Nội. B. Tokyo.
C. Bắc Kinh. D. TP Hồ Chí Minh.

Câu 16. Công ước Liên Hợp Quốc chia làm mấy nhóm quyền nào?

- A. 5. B. 4. C. 3. D. 2.

Câu 17. Trong cuộc sống chúng ta phải biết tính mạng, thân thể, sức khỏe, ... của người khác. Đồng thời phải biết bảo vệ quyền lợi của mình.

- A. Bảo vệ. B. Yêu thương. C. Tìm hiểu. D. Tôn trọng.

Câu 18. Bậc học nền tảng trong hệ thống giáo dục Việt Nam là:

- A. Mầm non. B. Trung học. C. Đại học D. Tiểu học.

Câu 19. Tổ chức tiêm ngừa cho trẻ em là thể hiện nhóm quyền nào?

- A. Tham gia. B. Phát triển. C. Sống còn. D. Bảo vệ.

Câu 20. Đến nay, Công ước về quyền trẻ em có bao nhiêu thành viên?

- A. 194. B. 196. C. 197. D. 195.

Phần II: Tự luận (5 điểm)

Câu 1. (3 điểm) Cho tình huống:

Mặc dù công việc của bố mẹ Hà rất vất vả nhưng Hà rất ít khi làm việc nhà để giúp đỡ bố mẹ vì nghĩ rằng mình chỉ cần có nghĩa vụ học giỏi là được.

a) Em suy nghĩ gì về việc làm của Hà?

b) Theo em, Hà cần làm gì để thực hiện tốt quyền và nghĩa vụ của học sinh?

Câu 2. (2 điểm)

Thế nào công dân Việt Nam? Em hãy nêu các nhóm quyền của công dân Việt Nam được hưởng?

----- HẾT -----

Question 17. There _____ not any eggs in the packet when I _____ to the kitchen.
A. were/ come B. was/ came C. were/ came D. was/ come

Circle the letter A, B, C or D to indicate the word(s) OPPOSITE in meaning to the underlined word(s) in the following question.

Question 18. Thank God, you're here is a very entertaining comedy programme based on an Australian TV show.

- A. unhappy B. sad C. interesting D. boring

Read the following passage and circle the letter A, B, C or D to indicate the correct word or phrase that best fits each of the numbered blanks.

Visitors to San Francisco usually bring back with them a photo of the Golden Gate Bridge. This (19) _____ has been there since 1937. At first, almost no one believed that the building of this 4.8 kilometer long bridge was possible. It (20) _____ four years to complete. In 1937, it was the (21) _____ suspension bridge in the world. Its red color is painted regularly. It helps people move easily (22) _____ Marin Headlands and the city of San Francisco. Because of this, San Francisco has developed very (23) _____.

Question 19. A. building B. picture C. landmark D. image

Question 20. A. take B. takes C. will take D. took

Question 21. A. longer B. long C. the longest D. longest

Question 22. A. from B. at C. between D. in

Question 23. A. carefully B. slowly C. quickly D. badly

Circle the word or phrase that is CLOSEST in meaning to the underlined part in the following sentence.

Question 24. Home appliances have changed very much during the past few years.

- A. machine B. furniture C. toys D. devices

Circle the letter A, B, C or D to indicate the most suitable response to complete the following conversation.

Question 25. Phong: "The car of the future will probably run on water". - Ba: " _____ "

- A. Well done! B. How fantastic! C. Good idea! D. Good job!

Read the following passage and circle the letter A, B, C, or D to indicate the correct answer to each of the following questions.

The Future Houses Exhibition

Helen Karter, November 12

Last weekend, my family went to the Future Houses Exhibition. It was really interesting to see how homes will change in the future. People might live in a lot of different places, like underground or under the sea. Many homes will be smart homes with robot helpers that do the chores. Other smart devices will even cook for us. I do not think I would like to live in a smart home. The technology might not work well. Now, you go to the toilet. In the future, you will use a smart toilet. What if the computer breaks? No, thanks! I really want to live in an eco-friendly home somewhere in the country.

Question 26. What kind of home does Helen want?

- A. one that is good for the environment B. one with a smart toilet
C. a cozy house D. a smart home

Question 27. Why does Helen think living in a smart home is a bad idea?

- A. She becomes lazy B. She cannot afford one.
C. She thinks that some devices might break. D. She doesn't like robots.

Question 28. Where does Helen want to live?

- A. under the sea B. underground C. in the country D. in the city

Question 29. What will other smart devices do?

- A. order the food
- B. make food
- C. do the shopping
- D. play video games

Question 30. What will robot helpers do?

- A. nothing
- B. exercises
- C. homework
- D. housework

Circle the letter A, B, C or D to indicate the word that differs from the other three in the position of primary stress in each of the following questions.

Question 31. A. control B. rubbish C. reuse D. pollute

Question 32. A. appliance B. village C. palace D. skyscraper

PART II: WRITING

Arrange the words or phrases to make meaningful sentences.

Question 33. Tina/ time/ television/ does/ How much/ spend/ watching?

=>

Question 34. is / the ways / to save / paragraph / She / a / about / writing / our environment.

=>

Question 35. The / Toronto / wonderful/ weather / is / in.

=>

Question 36. when/ played/ My father/ volleyball/ he/ young/ was.

=>

Finish the second sentence so that it has a similar meaning to the first one, beginning with the given words

Question 37. There will be a big swimming pool in her new villa.

=> Her new flat

Question 38. Hoa missed the first part of the film because she was late.

=> Hoa was

Question 39. We will probably go to the Moon for our summer holidays in 2050.

=> We might.....

Question 40. Take an umbrella or you will be wet.

=> If.....

----- **THE END** -----

Name:

Time allowed: 60 minutes

Class: 6A

School year: 2022- 2023

Code 602

PART I: MULTIPLE CHOICE

Listen a girl describing an event and circle the letter A, B, C or D that best answers each of the following sentences

Question 1. The speaker is joining a "Green Day" _____.

- A. at her school
- B. in her neighborhood
- C. in a workplace
- D. in a club

Question 2. There are _____ colors for the bins.

- A. Four
- B. One
- C. Two
- D. Three

Question 3. The bins are in red, _____, white or yellow.

- A. pink
- B. blue
- C. green
- D. black

Question 4. _____ should go in the compost bins.

- A. Plastic bottles
- B. Tree leaves and food waste
- C. Paper things
- D. Plastic bags

Listen to someone describing a new resort and circle the letter A, B, C or D that best answers each of the following sentences

Question 5. Where is the resort located?

- A. In space
- B. in the city
- C. At sea
- D. In the mountains

Question 6. How many people can the resort welcome?

- A. 1,000 people
- B. 10,000 people
- C. 500 people
- D. 100 people

Question 7. Which of the following can the guest enjoy?

- A. Researching plants
- B. See different kinds of fish
- C. Performing in a theater
- D. Swimming with dolphins

Question 8. How many cinemas are there in the resort?

- A. Three
- B. Five
- C. Four
- D. Two

Circle the letter A, B, C or D to indicate the word that differs from the other three in the position of primary stress in each of the following questions.

Question 9. A. skyscraper B. village C. palace D. appliance

Question 10. A. control B. rubbish C. reuse D. pollute

Circle the letter A, B, C, or D to indicate the underlined part that needs correction in each of the following questions.

Question 11. Not forget to turn off the light when you leave the room.

- A. off
- B. when
- C. leave
- D. Not forget

Question 12. Ha Noi is really impressive with it's night markets and street food.

- A. street food
- B. is
- C. with
- D. it's

Circle the letter A, B, C or D to indicate the correct answer to each of the following questions.

Question 13. If we all use _____ bags, we'll be green.

- A. reused
- B. reuse
- C. reusing
- D. reusable

Question 14. _____ a nice day! Shall we go swimming?

- A. Which
- B. What
- C. How
- D. When

Question 15. There _____ not any eggs in the packet when I _____ to the kitchen.

- A. were/ come
- B. was/ come
- C. were/ came
- D. was/ came

Question 16. "Do you think that our houses will be _____ space?"

- A. in B. to C. at D. on

Question 17. My brother has many books. _____ books are mostly about English grammar.

- A. X B. An C. A D. The

Circle the letter A, B, C or D to indicate the most suitable response to complete the following conversation.

Question 18. Phong: "The car of the future will probably run on water". - Ba: " _____ "

- A. Good idea! B. Well done! C. How fantastic! D. Good job!

Circle the letter A, B, C or D to indicate the word(s) OPPOSITE in meaning to the underlined word(s) in the following question.

Question 19. Thank God, you're here is a very entertaining comedy programme based on an Australian TV show.

- A. unhappy B. interesting C. boring D. sad

Read the following passage and circle the letter A, B, C or D to indicate the correct word or phrase that best fits each of the numbered blanks.

Visitors to San Francisco usually bring back with them a photo of the Golden Gate Bridge. This (20) _____ has been there since 1937. At first, almost no one believed that the building of this 4.8 kilometer long bridge was possible. It (21) _____ four years to complete. In 1937, it was the (22) _____ suspension bridge in the world. Its red color is painted regularly. It helps people move easily (23) _____ Marin Headlands and the city of San Francisco. Because of this, San Francisco has developed very (24) _____.

Question 20. A. landmark B. image C. picture D. building

Question 21. A. takes B. will take C. took D. take

Question 22. A. the longest B. longest C. long D. longer

Question 23. A. in B. at C. between D. from

Question 24. A. badly B. quickly C. carefully D. slowly

Circle the letter A, B, C or D to indicate the word whose underlined part differs from the other three in pronunciation in each of the following questions.

Question 25. A. landmark B. channel C. waste D. natural

Question 26. A. solar B. tower C. postcard D. hotel

Read the following passage and circle the letter A, B, C, or D to indicate the correct answer to each of the following questions.

The Future Houses Exhibition

Helen Karter, November 12

Last weekend, my family went to the Future Houses Exhibition. It was really interesting to see how homes will change in the future. People might live in a lot of different places, like underground or under the sea. Many homes will be smart homes with robot helpers that do the chores. Other smart devices will even cook for us. I do not think I would like to live in a smart home. The technology might not work well. Now, you go to the toilet. In the future, you will use a smart toilet. What if the computer breaks? No, thanks! I really want to live in an eco-friendly home somewhere in the country.

Question 27. Why does Helen think living in a smart home is a bad idea?

- A. She cannot afford one. B. She doesn't like robots.
C. She becomes lazy D. She thinks that some devices might break.

Question 28. What will robot helpers do?

- A. housework B. homework C. nothing D. exercises

Question 29. Where does Helen want to live?

- A. under the sea B. in the country C. in the city D. underground

Question 30. What kind of home does Helen want?

- A. a cozy house B. one that is good for the environment
C. a smart home D. one with a smart toilet

Question 31. What will other smart devices do?

- A. order the food B. play video games C. do the shopping D. make food

Circle the word or phrase that is CLOSEST in meaning to the underlined part in the following sentence.

Question 32. Home appliances have changed very much during the past few years.

- A. machine B. furniture C. toys D. devices

PART II: WRITING

Arrange the words or phrases to make meaningful sentences.

Question 33. The / Toronto / wonderful/ weather / is / in.

=>

Question 34. is / the ways / to save / paragraph / She / a / about / writing / our environment.

=>

Question 35. when/ played/ My father/ volleyball/ he/ young/ was.

=>

Question 36. Tina/ time/ television/ does/ How much/ spend/ watching?

=>

Finish the second sentence so that it has a similar meaning to the first one, beginning with the given words

Question 37. Hoa missed the first part of the film because she was late.

=> Hoa was

Question 38. Take an umbrella or you will be wet.

=> If.....

Question 39. There will be a big swimming pool in her new villa.

=> Her new flat

Question 40. We will probably go to the Moon for our summer holidays in 2050.

=> We might.....

----- THE END -----

Circle the letter A, B, C, or D to indicate the underlined part that needs correction in each of the following questions.

Question 15. Not forget to turn off the light when you leave the room.

- A. Not forget B. off C. when D. leave

Question 16. Ha Noi is really impressive with it's night markets and street food.

- A. with B. is C. it's D. street food

Read the following passage and circle the letter A, B, C, or D to indicate the correct answer to each of the following questions.

The Future Houses Exhibition

Helen Karter, November 12

Last weekend, my family went to the Future Houses Exhibition. It was really interesting to see how homes will change in the future. People might live in a lot of different places, like underground or under the sea. Many homes will be smart homes with robot helpers that do the chores. Other smart devices will even cook for us. I do not think I would like to live in a smart home. The technology might not work well. Now, you go to the toilet. In the future, you will use a smart toilet. What if the computer breaks? No, thanks! I really want to live in an eco-friendly home somewhere in the country.

Question 17. What kind of home does Helen want?

- A. one with a smart toilet B. one that is good for the environment
C. a cozy house D. a smart home

Question 18. What will robot helpers do?

- A. homework B. housework C. nothing D. exercises

Question 19. Why does Helen think living in a smart home is a bad idea?

- A. She thinks that some devices might break. B. She becomes lazy
C. She cannot afford one. D. She doesn't like robots.

Question 20. What will other smart devices do?

- A. do the shopping B. play video games C. make food D. order the food

Question 21. Where does Helen want to live?

- A. in the country B. under the sea C. underground D. in the city

Circle the letter A, B, C or D to indicate the word that differs from the other three in the position of primary stress in each of the following questions.

Question 22. A. pollute B. reuse C. control D. rubbish

Question 23. A. palace B. village C. appliance D. skyscraper

Circle the letter A, B, C or D to indicate the word whose underlined part differs from the other three in pronunciation in each of the following questions.

Question 24. A. tower B. postcard C. solar D. hotel

Question 25. A. landmark B. natural C. channel D. waste

Circle the letter A, B, C or D to indicate the correct answer to each of the following questions.

Question 26. If we all use _____ bags, we'll be green.

- A. reuse B. reusable C. reused D. reusing

Question 27. _____ a nice day! Shall we go swimming?

- A. When B. How C. Which D. What

Question 28. There _____ not any eggs in the packet when I _____ to the kitchen.

- A. was/ come B. were/ came C. were/ come D. was/ came

Question 29. My brother has many books. _____ books are mostly about English grammar.

- A. The B. A C. An D. X

Question 30. "Do you think that our houses will be _____ space?"

- A. at B. on C. to D. in

Circle the word or phrase that is **CLOSEST** in meaning to the underlined part in the following sentence.

Question 31. Home appliances have changed very much during the past few years.

- A. furniture B. machine C. devices D. toys

Circle the letter **A, B, C or D** to indicate the word(s) **OPPOSITE** in meaning to the underlined word(s) in the following question.

Question 32. Thank God, you're here is a very entertaining comedy programme based on an Australian TV show.

- A. boring B. interesting C. sad D. unhappy

PART II: WRITING

Arrange the words or phrases to make meaningful sentences.

Question 33. when/ played/ My father/ volleyball/ he/ young/ was.

=>

Question 34. is / the ways / to save / paragraph / She / a / about / writing / our environment.

=>

Question 35. Tina/ time/ television/ does/ How much/ spend/ watching?

=>

Question 36. The / Toronto / wonderful/ weather / is / in.

=>

Finish the second sentence so that it has a similar meaning to the first one, beginning with the given words

Question 37. We will probably go to the Moon for our summer holidays in 2050.

=> We might.....

Question 38. Take an umbrella or you will be wet.

=> If.....

Question 39. There will be a big swimming pool in her new villa.

=> Her new flat

Question 40. Hoa missed the first part of the film because she was late.

=> Hoa was

----- THE END -----

C. She thinks that some devices might break.

D. She becomes lazy

Question 14. What kind of home does Helen want?

A. a smart home

B. one with a smart toilet

C. one that is good for the environment

D. a cozy house

Question 15. What will other smart devices do?

A. play video games

B. order the food

C. do the shopping

D. make food

Read the following passage and circle the letter A, B, C or D to indicate the correct word or phrase that best fits each of the numbered blanks.

Visitors to San Francisco usually bring back with them a photo of the Golden Gate Bridge. This (16) _____ has been there since 1937. At first, almost no one believed that the building of this 4.8 kilometer long bridge was possible. It (17) _____ four years to complete. In 1937, it was the (18) _____ suspension bridge in the world. Its red color is painted regularly. It helps people move easily (19) _____ Marin Headlands and the city of San Francisco. Because of this, San Francisco has developed very (20) _____.

Question 16. A. landmark

B. picture

C. image

D. building

Question 17. A. takes

B. take

C. will take

D. took

Question 18. A. longest

B. long

C. longer

D. the longest

Question 19. A. from

B. at

C. in

D. between

Question 20. A. badly

B. quickly

C. slowly

D. carefully

Circle the letter A, B, C, or D to indicate the underlined part that needs correction in each of the following questions.

Question 21. Not forget to turn off the light when you leave the room.

A. Not forget

B. leave

C. off

D. when

Question 22. Ha Noi is really impressive with it's night markets and street food.

A. with

B. is

C. it's

D. street food

Circle the letter A, B, C or D to indicate the word that differs from the other three in the position of primary stress in each of the following questions.

Question 23. A. rubbish

B. reuse

C. control

D. pollute

Question 24. A. skyscraper

B. village

C. palace

D. appliance

Circle the letter A, B, C or D to indicate the correct answer to each of the following questions.

Question 25. There _____ not any eggs in the packet when I _____ to the kitchen.

A. were/ come

B. was/ come

C. were/ came

D. was/ came

Question 26. _____ a nice day! Shall we go swimming?

A. How

B. What

C. Which

D. When

Question 27. If we all use _____ bags, we'll be green.

A. reused

B. reuse

C. reusable

D. reusing

Question 28. My brother has many books. _____ books are mostly about English grammar.

A. A

B. The

C. X

D. An

Question 29. "Do you think that our houses will be _____ space?"

A. to

B. in

C. at

D. on

Circle the letter A, B, C or D to indicate the word(s) OPPOSITE in meaning to the underlined word(s) in the following question.

Question 30. Thank God, you're here is a very entertaining comedy programme based on an Australian TV show.

A. boring

B. interesting

C. sad

D. unhappy

Circle the letter A, B, C or D to indicate the most suitable response to complete the following conversation.

Question 31. Phong: "The car of the future will probably run on water". - Ba: "_____"
A. How fantastic! B. Well done! C. Good idea! D. Good job!

Circle the word or phrase that is CLOSEST in meaning to the underlined part in the following sentence.

Question 32. Home appliances have changed very much during the past few years.
A. toys B. devices C. furniture D. machine

PART II: WRITING

Finish the second sentence so that it has a similar meaning to the first one, beginning with the given words

Question 33. There will be a big swimming pool in her new villa.
=> Her new flat

Question 34. Hoa missed the first part of the film because she was late.
=> Hoa was

Question 35. Take an umbrella or you will be wet.
=> If.....

Question 36. We will probably go to the Moon for our summer holidays in 2050.
=> We might.....

Arrange the words or phrases to make meaningful sentences.

Question 37. when/ played/ My father/ volleyball/ he/ young/ was.
=>

Question 38. Tina/ time/ television/ does/ How much/ spend/ watching?
=>

Question 39. The / Toronto / wonderful/ weather / is / in.
=>

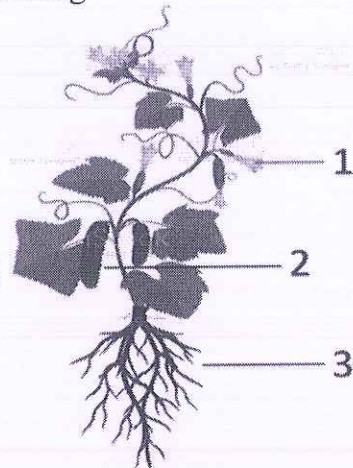
Question 40. is / the ways / to save / paragraph / She / a / about / writing / our environment.
=>

----- THE END -----

- A. Vừa làm biến dạng và vừa làm biến đổi chuyển động của quả bóng.
- B. Không làm biến dạng và cũng không làm biến đổi chuyển động của quả bóng.
- C. Chỉ làm biến dạng quả bóng.
- D. Chỉ làm biến đổi chuyển động của quả bóng.

Câu 19. Chú thích các bộ phận cấu tạo của cây dưa chuột trong hình

- A. (1) quả non, (2) quả chín, (3) rễ
- B. (1) hoa, (2) lá, (3) rễ
- C. (1) hoa đực, (2) hoa cái, (3) rễ
- D. (1) hoa, (2) quả, (3) rễ



Câu 20. Dạng năng lượng nào cần thiết để nước đá tan thành nước?

- A. Năng lượng âm thanh
- B. Năng lượng nhiệt
- C. Năng lượng ánh sáng
- D. Năng lượng hóa học

II. TỰ LUẬN (5 điểm):

Bài 1 (2,5 điểm):

- a) Trọng lượng của một vật là gì? Nêu đơn vị đo của trọng lượng?
- b) Một thùng hàng có khối lượng 10kg đặt đứng yên trên sàn nhà.
 - Xác định độ lớn lực hút Trái đất tác dụng lên thùng hàng?
 - Nêu rõ các đặc trưng và biểu diễn lực hút của Trái đất tác dụng lên thùng hàng?

Bài 2 (1 điểm): Năng lượng để một chiếc Tivi hoạt động được cung cấp từ đâu? Gọi tên các dạng năng lượng xuất hiện khi Tivi hoạt động?

Bài 3 (1 điểm): Việt Nam được ghi nhận là một trong những nước có đa dạng sinh học cao trên thế giới, với sự đa dạng các hệ sinh thái tự nhiên, các loài sinh vật phong phú và đặc hữu. Tuy nhiên, cũng như nhiều quốc gia khác, Việt Nam đang phải đối mặt với tình trạng suy thoái đa dạng sinh học đang diễn ra ngày càng lớn.

- a) Theo em, những nguyên nhân nào đã dẫn đến suy giảm đa dạng sinh học ở nước ta?
- b) Là học sinh, em sẽ làm gì để góp phần bảo vệ đa dạng sinh học?

Bài 4 (0,5 điểm): Cho một thanh nam châm và những chiếc kẹp giấy nhỏ như hình.



Khi đưa nam châm lại gần những chiếc kẹp giấy thì sẽ xuất hiện lực đẩy hay hút nhau? Lực xuất hiện khi đó là lực tiếp xúc hay không tiếp xúc?

----- Chúc các con làm bài tốt! -----

I. TRẮC NGHIỆM (5 điểm): Ghi ra giấy kiểm tra chữ cái đứng trước đáp án đúng

Câu 1. Loại thực vật nào dưới đây có chứa chất độc gây hại đến sức khỏe của con người?

- A. Vạn tuế B. Cây trúc đào C. Cây dương xỉ D. Cây tam thất

Câu 2. Động vật là những sinh vật

- A. có cơ thể đơn bào nhân thực, sống dị dưỡng, hầu hết không có khả năng di chuyển
B. có cơ thể đa bào nhân thực, sống dị dưỡng, hầu hết có khả năng di chuyển
C. có cơ thể đa bào nhân thực, sống tự dưỡng, hầu hết có khả năng di chuyển
D. có cơ thể đơn bào nhân thực, sống dị dưỡng, hầu hết không có khả năng di chuyển

Câu 3. Khi một quả bóng đập vào một bức tường thì lực mà bức tường tác dụng lên quả bóng sẽ gây ra tác dụng gì?

- A. Vừa làm biến dạng và vừa làm biến đổi chuyển động của quả bóng.
B. Chỉ làm biến đổi chuyển động của quả bóng.
C. Chỉ làm biến dạng quả bóng.
D. Không làm biến dạng và cũng không làm biến đổi chuyển động của quả bóng.

Câu 4. Nấm sinh sản chủ yếu theo hình thức nào?

- A. Sinh sản bằng cách phân đôi B. Sinh sản bằng hạt
C. Sinh sản bằng cách nảy chồi D. Sinh sản bằng bào tử

Câu 5. Có một lò xo được treo trên giá và một hộp các quả nặng khối lượng 100g. Treo một quả nặng vào đầu dưới của lò xo thì lò xo dài thêm 0,8cm. Khi treo 3 quả nặng vào lò xo, người ta đo được chiều dài của lò xo lúc này là 15cm. Hãy tính chiều dài tự nhiên của lò xo khi chưa treo quả nặng nào?

- A. 15,8cm B. 14,2cm C. 12cm D. 12,6cm

Câu 6. Đặc điểm nào không có ở lớp Cá?

- A. Hô hấp bằng phổi. B. Hình dạng khác nhau, phổ biến hình thoi.
C. Thích nghi với môi trường nước. D. Di chuyển bằng vây.

Câu 7. Lực giúp tay ta cầm nắm được các vật là

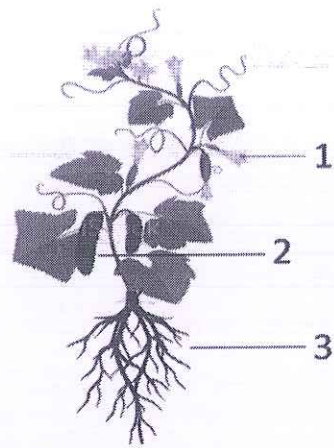
- A. lực ma sát nghỉ. B. lực ma sát lăn. C. lực ma sát trượt. D. trọng lực.

Câu 8. Đa dạng sinh học biểu hiện rõ nét nhất ở

- A. đặc điểm bộ xương B. số lượng cá thể C. môi trường sống D. số lượng loài

Câu 9. Chú thích các bộ phận cấu tạo của cây dưa chuột trong hình

- A. (1) hoa, (2) lá, (3) rễ
B. (1) quả non, (2) quả chín, (3) rễ
C. (1) hoa, (2) quả, (3) rễ
D. (1) hoa đực, (2) hoa cái, (3) rễ



Câu 10. Dạng năng lượng nào cần thiết để nước đá tan thành nước?

- A. Năng lượng ánh sáng
B. Năng lượng nhiệt
C. Năng lượng hóa học
D. Năng lượng âm thanh

Câu 11. Tại sao trên mặt lốp xe các phương tiện giao thông lại có nhiều rãnh?

- A. Vì các rãnh trên lốp xe làm tăng lực đàn hồi của lốp khi xe đi vào đường gồ ghề.
B. Vì các rãnh trên lốp xe làm giảm lực đàn hồi của lốp khi xe đi trên đường phẳng.
C. Vì các rãnh trên lốp xe làm tăng lực ma sát giữa bánh xe với mặt đường.
D. Vì các rãnh trên lốp xe làm giảm lực ma sát giữa bánh xe với mặt đường.

Câu 12. Hóa năng của vật là

- A. năng lượng do các phản ứng hóa học của hóa chất
B. năng lượng do độ cao của vật so với mặt đất.
C. năng lượng do dòng điện chạy qua.
D. năng lượng do chuyển động của vật.

Câu 13. Dụng cụ nào dùng để đo lực?

- A. Đồng hồ
B. Lò xo.
C. Cân
D. Lực kế

Câu 14. Thực vật góp phần làm giảm ô nhiễm môi trường bằng cách

- A. giảm bụi và khí độc, giảm hàm lượng O_2 .
B. giảm bụi và sinh vật gây bệnh, tăng hàm lượng CO_2 .
C. giảm bụi và khí độc, cân bằng hàm lượng CO_2 và O_2 .
D. giảm bụi và khí độc, tăng hàm lượng CO_2 .

Câu 15. Trường hợp nào sau đây là lực tiếp xúc?

- A. Lực hút của Trái đất làm quả táo rơi từ trên cây xuống.
B. Lực hút của nam châm hút đinh ghim đặt gần nó.
C. Lực của thủ môn bắt được bóng trước khung thành.
D. Lực hấp dẫn của một hành tinh trong chuyển động xung quanh một ngôi sao.

Câu 16. Biến dạng của lò xo là

- A. biến dạng uốn cong.
B. biến dạng đàn hồi.
C. biến dạng hoàn toàn.
D. biến dạng dẻo.

Câu 17. Đơn vị khối lượng là gì?

- A. Niu-ton B. Kilogam C. Lít D. Mét

Câu 18. Loài động vật nào khác với các động vật còn lại về đặc điểm xương sống?

- A. Bạch tuộc B. Linh dương C. Éch đồng D. Cá chép

Câu 19. Có một lò xo được treo thẳng trên giá và một hộp các quả nặng khối lượng 50g. Treo một quả nặng vào đầu dưới của lò xo thì lò xo dài thêm 0,5cm. Để lò xo dài thêm 2cm thì phải treo vào đầu dưới của lò xo bao nhiêu quả nặng?

- A. 5 quả nặng B. 2 quả nặng C. 4 quả nặng D. 3 quả nặng

Câu 20. Trường hợp nào sau đây lực xuất hiện không phải là lực ma sát?

- A. Lực xuất hiện giữa dây curoa với bánh xe truyền chuyển động.
B. Lực xuất hiện khi lốp xe trượt trên mặt đường.
C. Lực xuất hiện làm mòn đế giày.
D. Lực xuất hiện khi lò xo bị nén hay bị dãn.

II. TỰ LUẬN (5 điểm):

Bài 1 (2,5 điểm):

- a) Trọng lượng của một vật là gì? Nêu đơn vị đo của trọng lượng?
b) Một thùng hàng có khối lượng 10kg đặt đứng yên trên sàn nhà.
 - Xác định độ lớn lực hút Trái đất tác dụng lên thùng hàng?
 - Nêu rõ các đặc trưng và biểu diễn lực hút của Trái đất tác dụng lên thùng hàng?

Bài 2 (1 điểm): Năng lượng để một chiếc Tivi hoạt động được cung cấp từ đâu? Gọi tên các dạng năng lượng xuất hiện khi Tivi hoạt động?

Bài 3 (1 điểm): Việt Nam được ghi nhận là một trong những nước có đa dạng sinh học cao trên thế giới, với sự đa dạng các hệ sinh thái tự nhiên, các loài sinh vật phong phú và đặc hữu. Tuy nhiên, cũng như nhiều quốc gia khác, Việt Nam đang phải đối mặt với tình trạng suy thoái đa dạng sinh học đang diễn ra ngày càng lớn.

- a) Theo em, những nguyên nhân nào đã dẫn đến suy giảm đa dạng sinh học ở nước ta?
b) Là học sinh, em sẽ làm gì để góp phần bảo vệ đa dạng sinh học?

Bài 4 (0,5 điểm): Cho một thanh nam châm và những chiếc kẹp giấy nhỏ như hình.



Khi đưa nam châm lại gần những chiếc kẹp giấy thì sẽ xuất hiện lực đẩy hay hút nhau? Lực xuất hiện khi đó là lực tiếp xúc hay không tiếp xúc?

----- **Chúc các con làm bài tốt!** -----

I. TRẮC NGHIỆM (5 điểm): Ghi ra giấy kiểm tra chữ cái đứng trước đáp án đúng

Câu 1. Thực vật góp phần làm giảm ô nhiễm môi trường bằng cách

- A. giảm bụi và khí độc, cân bằng hàm lượng CO_2 và O_2 .
- B. giảm bụi và sinh vật gây bệnh, tăng hàm lượng CO_2 .
- C. giảm bụi và khí độc, tăng hàm lượng CO_2 .
- D. giảm bụi và khí độc, giảm hàm lượng O_2 .

Câu 2. Loại thực vật nào dưới đây có chứa chất độc gây hại đến sức khỏe của con người?

- A. Cây dương xỉ
- B. Vụn tuế
- C. Cây tam thất
- D. Cây trúc đào

Câu 3. Dụng cụ nào dùng để đo lực?

- A. Cân
- B. Lực kế
- C. Lò xo.
- D. Đồng hồ

Câu 4. Lực giúp tay ta cầm nắm được các vật là

- A. lực ma sát lăn.
- B. lực ma sát trượt.
- C. lực ma sát nghỉ.
- D. trọng lực.

Câu 5. Động vật là những sinh vật

- A. có cơ thể đơn bào nhân thực, sống dị dưỡng, hầu hết không có khả năng di chuyển
- B. có cơ thể đơn bào nhân thực, sống dị dưỡng, hầu hết không có khả năng di chuyển
- C. có cơ thể đa bào nhân thực, sống tự dưỡng, hầu hết có khả năng di chuyển
- D. có cơ thể đa bào nhân thực, sống dị dưỡng, hầu hết có khả năng di chuyển

Câu 6. Loài động vật nào khác với các động vật còn lại về đặc điểm xương sống?

- A. Bạch tuộc
- B. Linh dương
- C.Ếch đồng
- D. Cá chép

Câu 7. Biến dạng của lò xo là

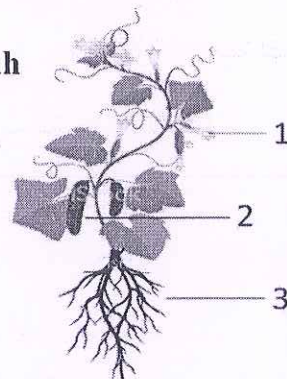
- A. biến dạng đàn hồi.
- B. biến dạng uốn cong.
- C. biến dạng hoàn toàn.
- D. biến dạng dẻo.

Câu 8. Trường hợp nào sau đây là lực tiếp xúc?

- A. Lực hút của Trái đất làm quả táo rơi từ trên cây xuống.
- B. Lực hút của nam châm hút đinh ghim đặt gần nó.
- C. Lực hấp dẫn của một hành tinh trong chuyển động xung quanh một ngôi sao.
- D. Lực của thủ môn bắt được bóng trước khung thành.

Câu 9. Chú thích các bộ phận cấu tạo của cây dưa chuột trong hình

- A. (1) hoa, (2) lá, (3) rễ
- B. (1) hoa, (2) quả, (3) rễ
- C. (1) quả non, (2) quả chín, (3) rễ
- D. (1) hoa đực, (2) hoa cái, (3) rễ



Câu 10. Có một lò xo được treo trên giá và một hộp các quả nặng khối lượng 100g. Treo một quả nặng vào đầu dưới của lò xo thì lò xo dài thêm 0,8cm. Khi treo 3 quả nặng vào lò xo, người ta đo được chiều dài của lò xo lúc này là 15cm. Hãy tính chiều dài tự nhiên của lò xo khi chưa treo quả nặng nào?

- A. 12,6cm B. 15,8cm C. 14,2cm D. 12cm

Câu 11. Dạng năng lượng nào cần thiết để nước đá tan thành nước?

- A. Năng lượng âm thanh B. Năng lượng nhiệt
C. Năng lượng hóa học D. Năng lượng ánh sáng

Câu 12. Hóa năng của vật là

- A. năng lượng do chuyển động của vật.
B. năng lượng do dòng điện chạy qua.
C. năng lượng do các phản ứng hóa học của hóa chất
D. năng lượng do độ cao của vật so với mặt đất.

Câu 13. Có một lò xo được treo thẳng trên giá và một hộp các quả nặng khối lượng 50g. Treo một quả nặng vào đầu dưới của lò xo thì lò xo dài thêm 0,5cm. Để lò xo dài thêm 2cm thì phải treo vào đầu dưới của lò xo bao nhiêu quả nặng?

- A. 3 quả nặng B. 5 quả nặng C. 2 quả nặng D. 4 quả nặng

Câu 14. Khi một quả bóng đập vào một bức tường thì lực mà bức tường tác dụng lên quả bóng sẽ gây ra tác dụng gì?

- A. Chỉ làm biến dạng quả bóng.
B. Không làm biến dạng và cũng không làm biến đổi chuyển động của quả bóng.
C. Vừa làm biến dạng và vừa làm biến đổi chuyển động của quả bóng.
D. Chỉ làm biến đổi chuyển động của quả bóng.

Câu 15. Nấm sinh sản chủ yếu theo hình thức nào?

- A. Sinh sản bằng cách phân đôi B. Sinh sản bằng cách nảy chồi
C. Sinh sản bằng bào tử D. Sinh sản bằng hạt

Câu 16. Đơn vị khối lượng là gì?

- A. Kilogam B. Lít C. Niu-ton D. Mét

Câu 17. Đa dạng sinh học biểu hiện rõ nét nhất ở

- A. môi trường sống B. đặc điểm bộ xương C. số lượng loài D. số lượng cá thể

Câu 18. Trường hợp nào sau đây lực xuất hiện không phải là lực ma sát?

- A. Lực xuất hiện khi lốp xe trượt trên mặt đường.
B. Lực xuất hiện khi lò xo bị nén hay bị dãn.
C. Lực xuất hiện làm mòn đế giày.
D. Lực xuất hiện giữa dây curoa với bánh xe truyền chuyển động.

Câu 19. Đặc điểm nào không có ở lớp Cá?

A. Thích nghi với môi trường nước.

B. Hô hấp bằng phổi.

C. Di chuyển bằng vây.

D. Hình dạng khác nhau, phổ biến hình thoi.

Câu 20. Tại sao trên mặt lốp xe các phương tiện giao thông lại có nhiều rãnh?

A. Vì các rãnh trên lốp xe làm giảm lực ma sát giữa bánh xe với mặt đường.

B. Vì các rãnh trên lốp xe làm giảm lực đàn hồi của lốp khi xe đi trên đường phẳng.

C. Vì các rãnh trên lốp xe làm tăng lực đàn hồi của lốp khi xe đi vào đường gồ ghề.

D. Vì các rãnh trên lốp xe làm tăng lực ma sát giữa bánh xe với mặt đường.

II. TỰ LUẬN (5 điểm):

Bài 1 (2,5 điểm):

a) Trọng lượng của một vật là gì? Nêu đơn vị đo của trọng lượng?

b) Một thùng hàng có khối lượng 10kg đặt đứng yên trên sàn nhà.

- Xác định độ lớn lực hút Trái đất tác dụng lên thùng hàng?
- Nêu rõ các đặc trưng và biểu diễn lực hút của Trái đất tác dụng lên thùng hàng?

Bài 2 (1 điểm): Năng lượng để một chiếc Tivi hoạt động được cung cấp từ đâu? Gọi tên các dạng năng lượng xuất hiện khi Tivi hoạt động?

Bài 3 (1 điểm): Việt Nam được ghi nhận là một trong những nước có đa dạng sinh học cao trên thế giới, với sự đa dạng các hệ sinh thái tự nhiên, các loài sinh vật phong phú và đặc hữu. Tuy nhiên, cũng như nhiều quốc gia khác, Việt Nam đang phải đối mặt với tình trạng suy thoái đa dạng sinh học đang diễn ra ngày càng lớn.

a) Theo em, những nguyên nhân nào đã dẫn đến suy giảm đa dạng sinh học ở nước ta?

b) Là học sinh, em sẽ làm gì để góp phần bảo vệ đa dạng sinh học?

Bài 4 (0,5 điểm): Cho một thanh nam châm và những chiếc kẹp giấy nhỏ như hình.



Khi đưa nam châm lại gần những chiếc kẹp giấy thì sẽ xuất hiện lực đẩy hay hút nhau? Lực xuất hiện khi đó là lực tiếp xúc hay không tiếp xúc?

----- Chúc các con làm bài tốt! -----

I. TRẮC NGHIỆM (5 điểm): Ghi ra giấy kiểm tra chữ cái đứng trước đáp án đúng

Câu 1. Tại sao trên mặt lốp xe các phương tiện giao thông lại có nhiều rãnh?

- A. Vì các rãnh trên lốp xe làm tăng lực đàn hồi của lốp khi xe đi vào đường gồ ghề.
- B. Vì các rãnh trên lốp xe làm giảm lực ma sát giữa bánh xe với mặt đường.
- C. Vì các rãnh trên lốp xe làm tăng lực ma sát giữa bánh xe với mặt đường.
- D. Vì các rãnh trên lốp xe làm giảm lực đàn hồi của lốp khi xe đi trên đường phẳng.

Câu 2. Trường hợp nào sau đây lực xuất hiện không phải là lực ma sát?

- A. Lực xuất hiện làm mòn đế giày.
- B. Lực xuất hiện khi lốp xe trượt trên mặt đường.
- C. Lực xuất hiện giữa dây curoa với bánh xe truyền chuyển động.
- D. Lực xuất hiện khi lò xo bị nén hay bị dãn.

Câu 3. Động vật là những sinh vật

- A. có cơ thể đơn bào nhân thực, sống dị dưỡng, hầu hết không có khả năng di chuyển
- B. có cơ thể đa bào nhân thực, sống dị dưỡng, hầu hết có khả năng di chuyển
- C. có cơ thể đa bào nhân thực, sống tự dưỡng, hầu hết có khả năng di chuyển
- D. có cơ thể đơn bào nhân thực, sống dị dưỡng, hầu hết không có khả năng di chuyển

Câu 4. Có một lò xo được treo thẳng trên giá và một hộp các quả nặng khối lượng 50g. Treo một quả nặng vào đầu dưới của lò xo thì lò xo dài thêm 0,5cm. Để lò xo dài thêm 2cm thì phải treo vào đầu dưới của lò xo bao nhiêu quả nặng?

- A. 5 quả nặng
- B. 3 quả nặng
- C. 4 quả nặng
- D. 2 quả nặng

Câu 5. Dạng năng lượng nào cần thiết để nước đá tan thành nước?

- A. Năng lượng nhiệt
- B. Năng lượng âm thanh
- C. Năng lượng ánh sáng
- D. Năng lượng hóa học

Câu 6. Trường hợp nào sau đây là lực tiếp xúc?

- A. Lực hấp dẫn của một hành tinh trong chuyển động xung quanh một ngôi sao.
- B. Lực hút của Trái đất làm quả táo rơi từ trên cây xuống.
- C. Lực hút của nam châm hút đinh ghim đặt gần nó.
- D. Lực của thủ môn bắt được bóng trước khung thành.

Câu 7. Loài động vật nào khác với các động vật còn lại về đặc điểm xương sống?

B. giảm bụi và sinh vật gây bệnh, tăng hàm lượng CO₂.

C. giảm bụi và khí độc, giảm hàm lượng O₂.

D. giảm bụi và khí độc, cân bằng hàm lượng CO₂ và O₂.

Câu 17. Đơn vị khối lượng là gì?

A. Lít

B. Kilogam

C. Mét

D. Niu-ton

Câu 18. Dụng cụ nào dùng để đo lực?

A. Cân

B. Lực kế

C. Đồng hồ

D. Lò xo.

Câu 19. Lực giúp tay ta cầm nắm được các vật là

A. lực ma sát nghỉ.

B. lực ma sát lăn.

C. trọng lực.

D. lực ma sát trượt.

Câu 20. Đa dạng sinh học biểu hiện rõ nét nhất ở

A. môi trường sống

B. đặc điểm bộ xương

C. số lượng loài

D. số lượng cá thể

II. TỰ LUẬN (5 điểm):

Bài 1 (2,5 điểm):

a) Trọng lượng của một vật là gì? Nêu đơn vị đo của trọng lượng? (0,5 điểm)

b) Một thùng hàng có khối lượng 10kg đặt đứng yên trên sàn nhà.

- Xác định độ lớn lực hút Trái đất tác dụng lên thùng hàng? (0,5 điểm)
- Nêu rõ các đặc trưng và biểu diễn lực hút của Trái đất tác dụng lên thùng hàng? (1,5 điểm)

Bài 2 (1 điểm): Năng lượng để một chiếc Tivi hoạt động được cung cấp từ đâu? Gọi tên các dạng năng lượng xuất hiện khi Tivi hoạt động?

Bài 3 (1 điểm): Việt Nam được ghi nhận là một trong những nước có đa dạng sinh học cao trên thế giới, với sự đa dạng các hệ sinh thái tự nhiên, các loài sinh vật phong phú và đặc hữu. Tuy nhiên, cũng như nhiều quốc gia khác, Việt Nam đang phải đối mặt với tình trạng suy thoái đa dạng sinh học đang diễn ra ngày càng lớn.

- Theo em, những nguyên nhân nào đã dẫn đến suy giảm đa dạng sinh học ở nước ta?
- Là học sinh, em sẽ làm gì để góp phần bảo vệ đa dạng sinh học?

Bài 4 (0,5 điểm): Cho một thanh nam châm và những chiếc kẹp giấy nhỏ như hình.



Khi đưa nam châm lại gần những chiếc kẹp giấy thì sẽ xuất hiện lực đẩy hay hút nhau? Lực xuất hiện khi đó là lực tiếp xúc hay không tiếp xúc?

----- Chúc các con làm bài tốt! -----

I. TRẮC NGHIỆM (5 điểm)

Viết lại chữ cái đứng trước câu trả lời đúng vào giấy kiểm tra

Câu 1. Đâu là cảnh quan thiên nhiên của nước ta được UNESCO vinh danh là "Di sản thiên nhiên thế giới"?

- A. Khu Đền tháp Mỹ Sơn; Đô thị Hội An; Quần thể di tích cố đô Huế; Khu di tích trung tâm Hoàng thành Thăng Long; Thành nhà Hồ ; Quần thể danh thắng Tràng An.
- B. Vịnh Hạ Long, vườn Quốc Gia Phong Nha – Kẻ Bàng.
- C. Công viên đá Đồng Văn.
- D. Nhã nhạc cung đình Huế; Không gian văn hóa cồng chiêng Tây Nguyên; Quan họ Bắc Ninh; Ca trù; Hội Gióng; Hát xoan Phú Thọ; Tín ngưỡng thờ cúng Hùng Vương và Đền ca tì tử Nam Bộ.

Câu 2. Đâu là vấn đề nảy sinh trong gia đình?

- A. Mọi người động viên, an ủi nhau.
- B. Chăm sóc sức khỏe khi bị ốm.
- C. Cùng trò chuyện sau bữa cơm tối.
- D. Bố mẹ ít quan tâm đến con cái.

Câu 3. Mục tiêu của hoạt động "Giọt hồng ước mơ" là gì?

- A. Chữa các bệnh về máu.
- B. Khám sức khỏe định kì.
- C. Chữa bệnh.
- D. Hiến máu nhân đạo, tăng cường lưu trữ máu để cứu sống bệnh nhân.

Câu 4. Chủ động tự giác làm việc nhà giúp chúng ta:

- A. Không thể hiện được sự quan tâm, giúp đỡ.
- B. Nhanh tốn thời gian.
- C. Bận rộn hơn.
- D. Rèn luyện đức tính chăm chỉ lao động.

Câu 5. Hoạt động thiện nguyện là:

- A. Lời nói thể hiện được tình cảm giữa người với người trong hoàn cảnh sung túc.
- B. Hành động sẻ chia giữa người với người trong mọi hoàn cảnh.
- C. Hành động thể hiện được tình cảm cao đẹp giữa người với người trong hoàn cảnh khó khăn.
- D. Hành động thể hiện được tình cảm cao đẹp giữa người với người.

Câu 6. Những hành động nào dưới đây làm ảnh hưởng đến cảnh quan thiên nhiên?

- A. Thu gom rác, làm sạch môi trường và tuyên truyền mọi người không xả rác bừa bãi nơi công cộng.
- B. Sử dụng các đồ dùng có nguồn gốc từ động vật quý hiếm.
- C. Sử dụng phù hợp lí những tài nguyên thiên nhiên như đất, nước, động vật, thực vật.
- D. Tham gia trồng cây, gây rừng và chăm sóc cây.

Câu 7. Hành động nào sau đây thể hiện cách ứng xử thiếu văn minh nơi công cộng?

- A. Đi nhẹ, nói khẽ trong thư viện.
- B. Nói chuyện thì thầm trong rạp chiếu phim.
- C. Ra chỗ vắng người để nghe điện thoại khi đang ngồi cùng bạn.
- D. Cãi nhau to tiếng trên đường.

Câu 8. Nhà Hà ở sát chân núi đất, suốt tuần mưa to tầm tã không dứt khiến núi có nguy cơ bị sạt lở. Nếu là Hà, em sẽ cùng gia đình làm gì?

- A. Nhanh chóng sơ tán khỏi vùng đó theo hướng dẫn của chính quyền.
- B. Vẫn tiếp tục ở khu vực đó.
- C. Đến gần các khu vực đá trượt lở.
- D. Gia cố lại nhà cửa và ở tại đó.

Câu 9. Những việc làm cần chủ động, tự giác thực hiện ở gia đình?

- A. Chăm sóc cây trồng và vật nuôi.
- B. Nhờ bố mẹ rửa bát, giặt quần áo.
- C. Đồ đạc trong nhà nhờ bố mẹ sắp xếp.
- D. Ăn cơm xong nhờ người khác cất dọn.

Câu 10. Lễ hội đền Trần là lễ hội được tổ chức từ ngày 15 đến 20 tháng 8 âm lịch ở đâu?

- A. Nam Định.
- B. Ninh Bình.
- C. Hưng Yên.
- D. Hải Dương.

Câu 11. Nhân dịp bế giảng năm học, trường em tổ chức cho học sinh đi tham quan một danh lam thắng cảnh nổi tiếng của đất nước. Sau khi ăn trưa xong, các bạn đã vứt luôn những túi bóng, vỏ chai nước và một số thức ăn còn thừa ở gốc cây to. Nếu em chứng kiến cảnh đó, em sẽ làm gì?

- A. Nhắc các bạn không được vứt rác bừa bãi, phải để rác đúng nơi quy định.
- B. Em cũng vứt rác ở đó cùng các bạn.
- C. Nhắc các bạn không được vứt rác bừa bãi và bản thân cùng một số bạn nhặt rác bỏ vào đúng nơi quy định.
- D. Em không có phản ứng gì, vô tư tiếp tục đi ngắm cảnh cùng các bạn.

Câu 12. Để làm giảm biến đổi khí hậu cần phải:

- A. Sử dụng nhiều các loại nhiên liệu.
- B. Sử dụng nhiều phương tiện giao thông.
- C. Bảo vệ rừng, tăng cường trồng và chăm sóc cây.
- D. Xây dựng thêm nhiều các nhà máy công nghiệp.

Câu 13. Khi có vấn đề nảy sinh trong gia đình em không nên làm gì?

- A. Tìm chế tức giận khi gặp vấn đề cần giải quyết.
- B. Thờ ờ trước những tình huống nảy sinh trong gia đình.
- C. Trao đổi góp ý khi người thân có thói quen chưa tốt..
- D. Nhẹ nhàng khuyên bảo nhau.

Câu 14. Ở xã Quỳnh Hoàng, huyện Quỳnh Phụ, tỉnh Thái Bình có nghề truyền thống nào sau đây?

- A. Nghề làm bánh cáy.
- B. Nghề chạm bạc.
- C. Nghề đúc đồng.
- D. Nghề dệt chiếu cói.

Câu 15. Nghề nào dưới đây không phải là nghề truyền thống?

- A. Nghề làm trống.
- B. Nghề dệt lụa.
- C. Nghề làm gốm.
- D. Nghề làm đồng hồ.

Câu 16. Hoạt động nào dưới đây không phải là hoạt động thiện nguyện?

- A. Trồng rau, nuôi gà giúp gia đình.
- B. Tham gia các hoạt động gây quỹ ủng hộ người có hoàn cảnh khó khăn.
- C. giúp đỡ người già neo đơn.
- D. Tăng lương thực, thực phẩm cho người ở vùng lũ lụt.

Câu 17. Những lưu ý khi lựa chọn một hoạt động cộng đồng để tham gia:

- A. Phù hợp với sức khỏe, năng lực và thời gian của bản thân.
- B. Thích tổ chức nào thì tham gia tổ chức đó.
- C. Thích là tham gia, không quan tâm đến những cái khác.
- D. Tìm kiếm trên internet, thấy hoạt động nào nhiều người là tham gia.

Câu 18. Tại sao cần có mối quan hệ tốt đẹp với những người hàng xóm xung quanh mình?

- A. Vì học cùng tham gia các hoạt động cộng đồng và sẵn sàng giúp đỡ, chia sẻ khi ta gặp khó khăn.
- B. Vì họ luôn làm theo sở thích của ta.
- C. Vì họ giúp đỡ khi ta cần.
- D. Vì họ mang lại nhiều lợi ích cho ta.

Câu 19. Giáo viên là người:

- A. Trồng trọt và chăn nuôi tạo ra những sản phẩm phục vụ cho đời sống con người.
- B. Truyền đạt những tri thức của nhân loại, giáo dục, nhân cách của con người.
- C. Chăm sóc sức khỏe và chữa bệnh cho mọi người.
- D. Bảo đảm an ninh trật tự cho xã hội và cuộc sống bình yên cho nhân dân.

Câu 20. Bác sĩ là người:

- A. Truyền đạt những tri thức của nhân loại, giáo dục, nhân cách của con người.
- B. Trồng trọt và chăn nuôi tạo ra những sản phẩm phục vụ cho đời sống con người.
- C. Bảo đảm an ninh trật tự cho xã hội và cuộc sống bình yên cho nhân dân.
- D. Chăm sóc sức khỏe và chữa bệnh cho mọi người.

II. TỰ LUẬN (5 điểm)

Câu 1.

a, Nêu một số nghề nghiệp mà em biết. Lớn lên em muốn làm nghề gì?

b, Lan có Bác làm ở ngân hàng. Lan cho rằng, làm ngân hàng thì mới có nhiều tiền, không phải lao động vất vả, Vì vậy, Lan rất ngưỡng mộ Bác và mong muốn sau này cũng được làm nghề đó. Em có đồng tình với suy nghĩ và thái độ của Lan không? Vì sao?

Câu 2. Em có thể làm được những việc gì để góp phần bảo tồn cảnh quan thiên nhiên?

Mã đề 602

I. TRẮC NGHIỆM (5 điểm)

Viết lại chữ cái đứng trước câu trả lời đúng vào giấy kiểm tra

Câu 1. Chủ động tự giác làm việc nhà giúp chúng ta:

- A. Không thể hiện được sự quan tâm, giúp đỡ.
- B. Nhanh tốn thời gian.
- C. Bận rộn hơn.
- D. Rèn luyện đức tính chăm chỉ lao động.

Câu 2. Đâu là cảnh quan thiên nhiên của nước ta được UNESCO vinh danh là "Di sản thiên nhiên thế giới"?

- A. Khu Đền tháp Mỹ Sơn; Đô thị Hội An; Quần thể di tích cổ đô Huế; Khu di tích trung tâm Hoàng thành Thăng Long; Thành nhà Hồ ; Quần thể danh thắng Tràng An.
- B. Công viên đá Đồng Văn.
- C. Vịnh Hạ Long, vườn Quốc Gia Phong Nha – Kẻ Bàng.
- D. Nhã nhạc cung đình Huế; Không gian văn hóa cồng chiêng Tây Nguyên; Quan họ Bắc Ninh; Ca trù; Hội Gióng; Hát xoan Phú Thọ; Tín ngưỡng thờ cúng Hùng Vương và Đờn ca tài tử Nam Bộ.

Câu 3. Đâu là vấn đề nảy sinh trong gia đình?

- A. Mọi người động viên, an ủi nhau.
- B. Chăm sóc sức khỏe khi bị ốm.
- C. Cùng trò chuyện sau bữa cơm tối.
- D. Bố mẹ ít quan tâm đến con cái.

Câu 4. Mục tiêu của hoạt động "Giọt hồng ước mơ" là gì?

- A. Chữa các bệnh về máu.
- B. Khám sức khỏe định kì.
- C. Hiến máu nhân đạo, tăng cường lưu trữ máu để cứu sống bệnh nhân.
- D. Chữa bệnh.

Câu 5. Những việc làm cần chủ động, tự giác thực hiện ở gia đình?

- A. Chăm sóc cây trồng và vật nuôi.
- B. Nhờ bố mẹ rửa bát, giặt quần áo.
- C. Đồ đạc trong nhà nhờ bố mẹ sắp xếp.
- D. Ăn cơm xong nhờ người khác cất dọn.

Câu 6. Lễ hội đền Trần là lễ hội được tổ chức từ ngày 15 đến 20 tháng 8 âm lịch ở đâu?

- A. Nam Định.
- B. Ninh Bình.
- C. Hưng Yên.
- D. Hải Dương.

Câu 7. Nhân dịp bế giảng năm học, trường em tổ chức cho học sinh đi tham quan một danh lam thắng cảnh nổi tiếng của đất nước. Sau khi ăn trưa xong, các bạn đã vứt luôn những túi bóng, vỏ chai nước và một số thức ăn còn thừa ở gốc cây to. Nếu em chứng kiến cảnh đó, em sẽ làm gì?

- A. Nhắc các bạn không được vứt rác bừa bãi, phải để rác đúng nơi quy định.
- B. Nhắc các bạn không được vứt rác bừa bãi và bản thân cùng một số bạn nhặt rác bỏ vào đúng nơi quy định.
- C. Em cũng vứt rác ở đó cùng các bạn.
- D. Em không có phản ứng gì, vô tư tiếp tục đi ngắm cảnh cùng các bạn.

Câu 8. Hoạt động thiện nguyện là:

- A. Lời nói thể hiện được tình cảm giữa người với người trong hoàn cảnh sung túc.
- B. Hành động sẻ chia giữa người với người trong mọi hoàn cảnh.
- C. Hành động thể hiện được tình cảm cao đẹp giữa người với người.
- D. Hành động thể hiện được tình cảm cao đẹp giữa người với người trong hoàn cảnh khó khăn.

Câu 9. Để làm giảm biến đổi khí hậu cần phải:

- A. Sử dụng nhiều các loại nhiên liệu.
- B. Bảo vệ rừng, tăng cường trồng và chăm sóc cây.
- C. Sử dụng nhiều phương tiện giao thông.
- D. Xây dựng thêm nhiều các nhà máy công nghiệp.

Câu 10. Những hành động nào sau đây làm ảnh hưởng đến cảnh quan thiên nhiên?

- A. Thu gom rác, làm sạch môi trường và tuyên truyền mọi người không xả rác bừa bãi nơi công cộng.
- B. Sử dụng các đồ dùng có nguồn gốc từ động vật quý hiếm.
- C. Sử dụng phù hợp lí những tài nguyên thiên nhiên như đất, nước, động vật, thực vật.
- D. Tham gia trồng cây, gây rừng và chăm sóc cây.

Câu 11. Hành vi nào sau đây thể hiện cách ứng xử thiếu văn minh nơi công cộng?

- A. Đi nhẹ, nói khẽ trong thư viện.
- B. Nói chuyện thì thầm trong rạp chiếu phim.
- C. Ra chỗ vắng người để nghe điện thoại khi đang ngồi cùng bạn.
- D. Cãi nhau to tiếng trên đường.

Câu 12. Nhà Hà ở sát chân núi đất. Suốt tuần mưa to tầm tã không dứt khiến núi có nguy cơ bị sạt lở. Nếu là Hà, em sẽ cùng gia đình làm gì?

- A. Vẫn tiếp tục ở khu vực đó.
- B. Đến gần các khu vực đá trượt lở.
- C. Gia cố lại nhà cửa và ở tại đó.
- D. Nhanh chóng sơ tán khỏi vùng đó theo hướng dẫn của chính quyền.

Câu 13. Những lưu ý khi lựa chọn một hoạt động cộng đồng để tham gia:

- A. Phù hợp với sức khỏe, năng lực và thời gian của bản thân.
- B. Thích tổ chức nào thì tham gia tổ chức đó.
- C. Thích là tham gia, không quan tâm đến những cái khác.
- D. Tìm kiếm trên internet, thấy hoạt động nào nhiều người là tham gia.

Câu 14. Tại sao cần có mối quan hệ tốt đẹp với những người hàng xóm xung quanh mình?

- A. Vì họ cùng tham gia các hoạt động cộng đồng và sẵn sàng giúp đỡ, chia sẻ khi ta gặp khó khăn.
- B. Vì họ luôn làm theo sở thích của ta.
- C. Vì họ giúp đỡ khi ta cần.
- D. Vì họ mang lợi nhiều lợi ích cho ta.

Câu 15. Khi có vấn đề nảy sinh trong gia đình em không nên làm gì?

- A. Thờ ờ trước những tình huống nảy sinh trong gia đình.
- B. Kim chế tức giận khi gặp vấn đề cần giải quyết.
- C. Trao đổi góp ý khi người thân có thói quen chưa tốt..

D. Nhẹ nhàng khuyên bảo nhau.

Câu 16. Ở xã Quỳnh Hoàng, huyện Quỳnh Phụ, tỉnh Thái Bình có nghề truyền thống nào sau đây?

A. Nghề làm bánh cáy.

B. Nghề chạm bạc.

C. Nghề đúc đồng.

D. Nghề dệt chiếu cói.

Câu 17. Nghề nào dưới đây không phải là nghề truyền thống?

A. Nghề làm trống.

B. Nghề dệt lụa.

C. Nghề làm gốm.

D. Nghề bán hàng online.

Câu 18. Hoạt động nào dưới đây không phải là hoạt động thiện nguyện?

A. Trồng rau, nuôi gà giúp gia đình.

B. Tham gia các hoạt động gây quỹ ủng hộ người có hoàn cảnh khó khăn.

C. Giúp đỡ người già neo đơn.

D. Tặng lương thực, thực phẩm cho người ở vùng lũ lụt.

Câu 19. Giáo viên là người:

A. Truyền đạt những tri thức của nhân loại, giáo dục, nhân cách của con người.

B. Trồng trọt và chăn nuôi tạo ra những sản phẩm phục vụ cho đời sống con người.

C. Chăm sóc sức khỏe và chữa bệnh cho mọi người.

D. Bảo đảm an ninh trật tự cho xã hội và cuộc sống bình yên cho nhân dân.

Câu 20. Công an là người:

A. Truyền đạt những tri thức của nhân loại, giáo dục, nhân cách của con người.

B. Trồng trọt và chăn nuôi tạo ra những sản phẩm phục vụ cho đời sống con người.

C. Chăm sóc sức khỏe và chữa bệnh cho mọi người.

D. Bảo đảm an ninh trật tự cho xã hội và cuộc sống bình yên cho nhân dân.

II. TỰ LUẬN (5 điểm)

Câu 1 (2 điểm) Em đã chủ động, tự giác thực hiện những việc nào ở gia đình? Em cảm thấy như thế nào khi thực hiện được những việc đó?

Câu 2 (3 điểm)

a, Em có thể làm được những việc gì để góp phần bảo tồn cảnh quan thiên nhiên?

b, Lớp Hưng được nhà trường tổ chức cho đi tham quan khu bảo tồn thiên nhiên. Mọi người đều rất thích thú trước cảnh vật ở đây. Bống Linh nhìn thấy một cây hoa nhỏ trông rất đẹp. Trong lúc không có ai để ý, Linh rủ Hưng nhỏ cây đó đem về nhà trồng. Em có đồng tình với việc làm của Linh không? Nếu là Hưng em sẽ nói gì với Linh?

----- HẾT -----

D. Mọi người không yêu thương, dùm bọc, sống hòa thuận, tình cảm với nhau bằng tình thương giữa con người với con người.

Câu 12. Trà sen là đặc sản ở đâu?

- A. Hồ Hoàn Kiếm. B. Điện Biên. C. Hồ Con Rùa. D. Tây Hồ.

Câu 13. Nguồn năng lượng nào sau đây sẽ ít gây ô nhiễm môi trường nhất?

- A. Dầu mỏ. B. Mặt trời. C. Than đá. D. Khí đốt.

Câu 14. Việc làm nào giúp đỡ những bạn có hoàn cảnh khó khăn trong lớp, trong trường?

- A. Quyên góp và bán sách vở, đồ dùng, để lấy tiền tiêu cho mình.
B. Quyên góp và không ủng hộ sách vở, đồ dùng, tiền.
C. Không quyên góp và bán sách vở, đồ dùng, để lấy tiền tiêu cho mình.
D. Quyên góp và ủng hộ sách vở, đồ dùng, tiền, ...

Câu 15. Làng Vạn Phúc đặc trưng với nghề truyền thống nào?

- A. Trồng chè. B. Dệt lụa
C. Ché tác đá mỹ nghệ. D. Nặn tò he.

Câu 16. Chọn từ điền vào chỗ trống: Các hoạt động của Hội Bảo trợ người khuyết tật và trẻ em mồ côi thành phố Hà Nội là,, khám chữa bệnh, phục hồi chức năng cho người, vận động thăm hỏi, tặng quà cho người khuyết tật, trẻ mồ côi ở Hà Nội và các tỉnh thành khác trong cả nước.

- A. Hỗ trợ chăm sóc / nuôi dưỡng / không khuyết tật
B. Không hỗ trợ chăm sóc / nuôi dưỡng / khuyết tật
C. Hỗ trợ chăm sóc / nuôi dưỡng / khuyết tật
D. Hỗ trợ chăm sóc / không nuôi dưỡng / khuyết tật

Câu 17. Trong dãy sau đây, đâu là dãy gồm tên các làng nghề chuyên về gốm sứ ở Việt Nam?

- A. Đông Hồ, làng Sinh, Hàng Trống. B. Làng Chuông, Phú Gia, Thờ Tân.
C. Kim Long, Xuân Đỉnh, Làng Vại. D. Giang Cao, Bát Tràng, Kim Lan.

Câu 18. Làng Gốm Bát Tràng đã được hình thành vào:

- A. Khoảng thế kỷ XV - XVI. B. Khoảng thế kỷ XIX - XX.
C. Khoảng thế kỷ XV - XVII. D. Khoảng thế kỷ XIV - XV.

Câu 19. Nguyên nhân gây ô nhiễm nguồn nước là:

- A. Nước thải không được xử lí.
B. Động đất.
C. Khí thải của các phương tiện giao thông.
D. Tiếng ồn của các loại động cơ

Câu 20. Ngày môi trường thế giới là ngày/tháng nào?

- A. 01/12 B. 05/06. C. 09/01. D. 21/6

II. PHẦN TỰ LUẬN (5 điểm)

Câu 1 (2 điểm): Ghi vào giấy tên các địa danh nổi tiếng với các sản vật tương ứng sau đây:

STT	1	2	3	4
Sản vật	Hồng Xiêm	Bánh tôm	Gà Mía	Bánh cuốn

Câu 2 (1 điểm): Kể tên một số phong trào “Tương thân tương ái” ở thành phố Hà Nội?

Câu 3 (2 điểm): Em hãy nêu một số biện pháp bảo tồn và phát huy giá trị truyền thống của nghề truyền thống ở thành phố Hà Nội?

C. Quyên góp và bán sách vở, đồ dùng, để lấy tiền tiêu cho mình.

D. Quyên góp và ủng hộ sách vở, đồ dùng, tiền, ...

Câu 12. Chọn từ thích hợp vào chỗ trống trong câu sau:

Muốn ăn cơm trắng cá trê

Muốn đội nón tốt thì về làng ...

A. Non nước.

B. Chuông.

C. Vòng.

D. Tuyết Diêm.

Câu 13. Làng Vạn Phúc đặc trưng với nghề truyền thống nào?

A. Nặn tò he.

B. Trồng chè.

C. Dệt lụa

D. Chế tác đá mỹ nghệ.

Câu 14. Vụ mùa bưởi Diễn thì vào thời gian nào?

A. khoảng tháng 11 âm lịch.

B. khoảng tháng 3 âm lịch.

C. khoảng tháng 8 âm lịch.

D. khoảng tháng 2 âm lịch.

Câu 15. Trong dãy sau đây, đâu là dãy gồm tên các làng nghề chuyên về gốm sứ ở Việt Nam?

A. Kim Long, Xuân Đinh, Làng Vại.

B. Giang Cao, Bát Tràng, Kim Lan.

C. Đông Hồ, làng Sinh, Hàng Trống.

D. Làng Chuông, Phú Gia, Thời Tân.

Câu 16. Vụ mùa cam Canh thường kéo dài khoảng bao nhiêu tháng?

A. 1 tháng 15 ngày.

B. 2 tháng

C. 3 tháng.

D. 2 tháng 15 ngày.

Câu 17. Nguyên nhân gây ô nhiễm nguồn nước là:

A. Nước thải không được xử lí.

B. Khí thải của các phương tiện giao thông.

C. Động đất.

D. Tiếng ồn của các loại động cơ

Câu 18. Nguồn năng lượng nào sau đây sẽ ít gây ô nhiễm môi trường nhất?

A. Than đá.

B. Dầu mỏ.

C. Khí đốt.

D. Mặt trời.

Câu 19. Trà sen là đặc sản ở đâu?

A. Hồ Hoàn Kiếm.

B. Tây Hồ.

C. Điện Biên.

D. Hồ Con Rùa.

Câu 20. “Tương thân tương ái” là:

A. Mọi người yêu thương, đùm bọc, sống không hòa thuận, tình cảm với nhau bằng tình thương giữa con người với con người.

B. Mọi người cùng yêu thương, đùm bọc, sống hòa thuận, tình cảm với nhau bằng tình thương giữa con người với con người.

C. Mọi người không yêu thương, đùm bọc, sống hòa thuận, sống không có tình cảm với nhau bằng tình thương giữa con người với con người.

D. Mọi người không yêu thương, đùm bọc, sống hòa thuận, tình cảm với nhau bằng tình thương giữa con người với con người.

II. PHẦN TỰ LUẬN (5 điểm)

Câu 1 (2 điểm): Ghi vào giấy tên các địa danh nổi tiếng với các nghề truyền thống tương ứng sau đây:

STT	1	2	3	4
Nghề truyền thống	Làm nón lá	Làm giò chả	Làm mộc	Dệt

Câu 2 (1 điểm): Em hiểu thế nào về câu tục ngữ “Thương người như thể thương thân”.

Câu 3 (2 điểm): Đề xuất ý tưởng của em về việc làm giảm thiểu ô nhiễm môi trường đất nơi em sống.