



Bài 25: ĐIỂM, ĐOẠN THẲNG, ĐƯỜNG THẲNG,  
ĐƯỜNG CONG, BA ĐIỂM THẲNG HÀNG



## TIẾT 2



**Đường thẳng, đường cong, ba điểm thẳng hàng**





# Yêu cầu cần đạt



1

Nhận biết đường thẳng, đường cong, ba điểm thẳng hàng.

2

Gọi tên đường thẳng, đường cong, ba điểm thẳng hàng trong hình vẽ cho trước.

3

Nhận diện đường thẳng, đường cong, ba điểm thẳng hàng trong thực tế.





Vạch kẻ đường



Cầu vồng



Hàng rào



**Khám phá**



Khám phá



Đoạn thẳng AB





Khám phá

# Đường thẳng



●  
A

● Đoạn thẳng AB  
B



Đường thẳng AB



**Lưu ý:** Đường thẳng đi qua 2 điểm nên ta sẽ lấy tên 2 điểm đó đặt tên cho đường thẳng.





Đoạn thẳng bị chặn ở 2 điểm đầu mút (điểm đầu và điểm kết thúc).



## Đường thẳng AB

Đường thẳng không bị chặn ở 2 điểm đầu mút mà kéo dài về 2 phía.

Quan sát và tìm sự khác nhau giữa đoạn thẳng AB và đường thẳng AB.



# Ba điểm thẳng hàng

●  
A

● Đoạn thẳng AB  
B

○  
A

○  
B

○  
C

## Đường thẳng AB

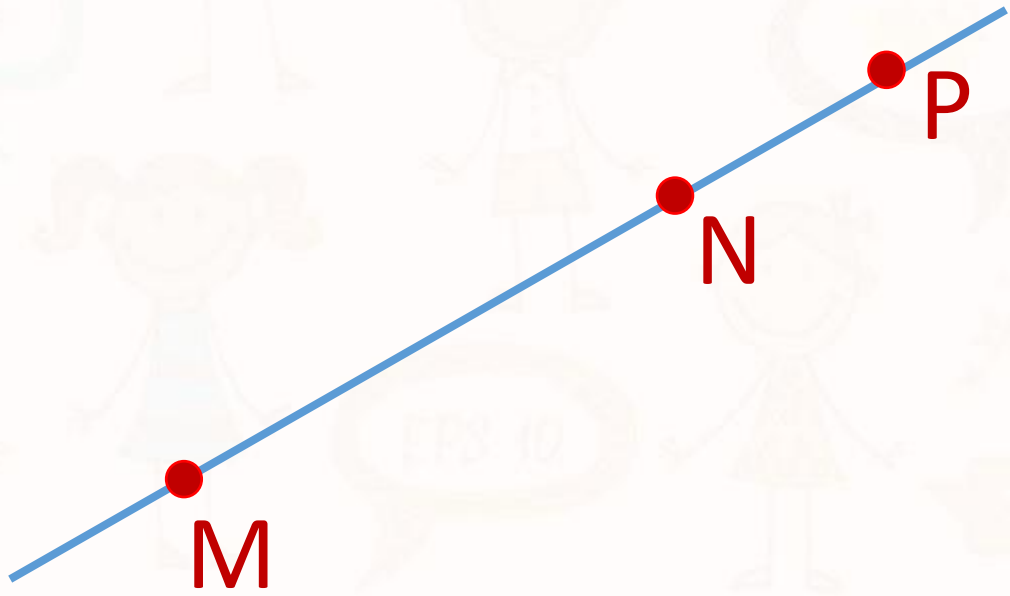
Vị trí của ba điểm A, B, C như thế nào?

Ba điểm A, B, C cùng nằm trên một đường thẳng.


3 điểm A, B, C là **ba điểm thẳng hàng**

**Ghi nhớ: Ba điểm thẳng hàng là ba điểm cùng nằm trên một đường thẳng.**





M, N, P là **ba điểm thẳng hàng**



D, E, F là **ba điểm thẳng hàng**

\* Chỉ có duy nhất 1 đường thẳng đi qua ba điểm thẳng hàng.





# Đường cong



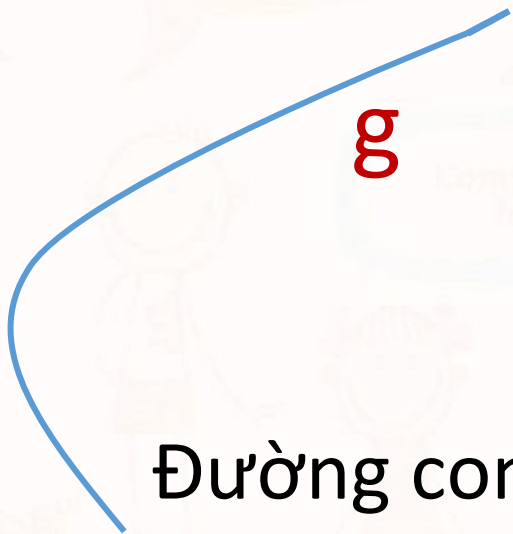
a

Đường cong a



c

Đường cong c



g

Đường cong g

**Lưu ý:** Tên đường cong viết chữ thường.

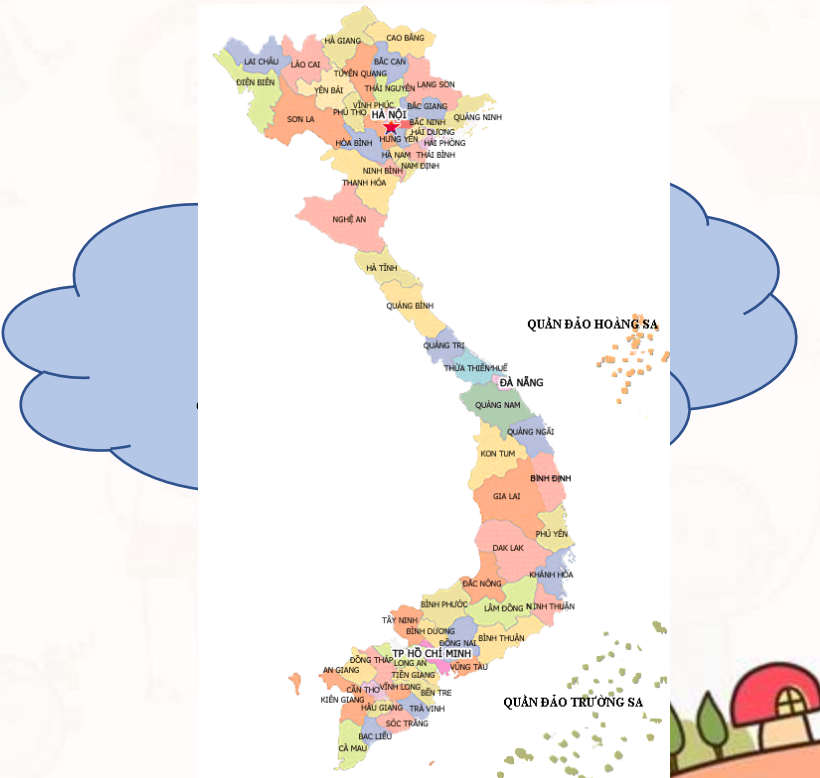





# Đường thẳng

# Ba điểm thẳng hàng

# Đường cong

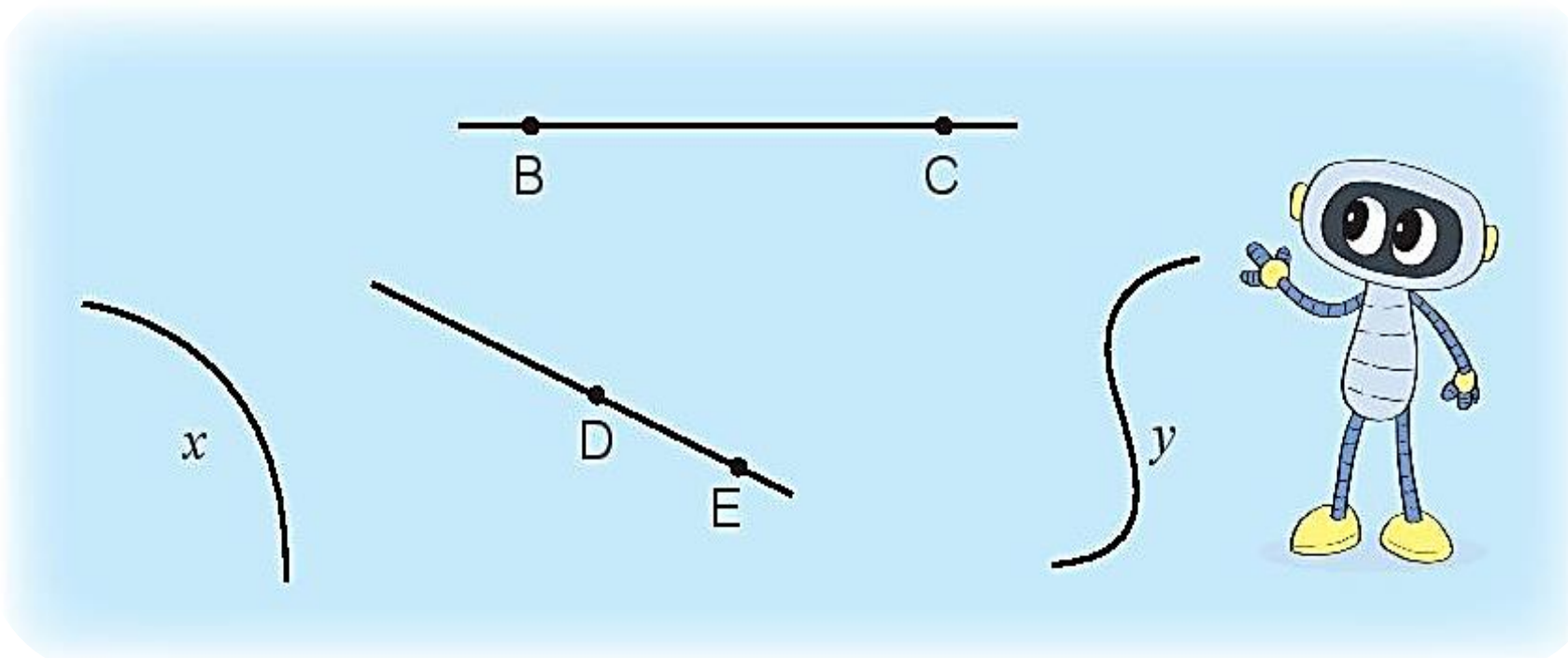




**Luyện tập**



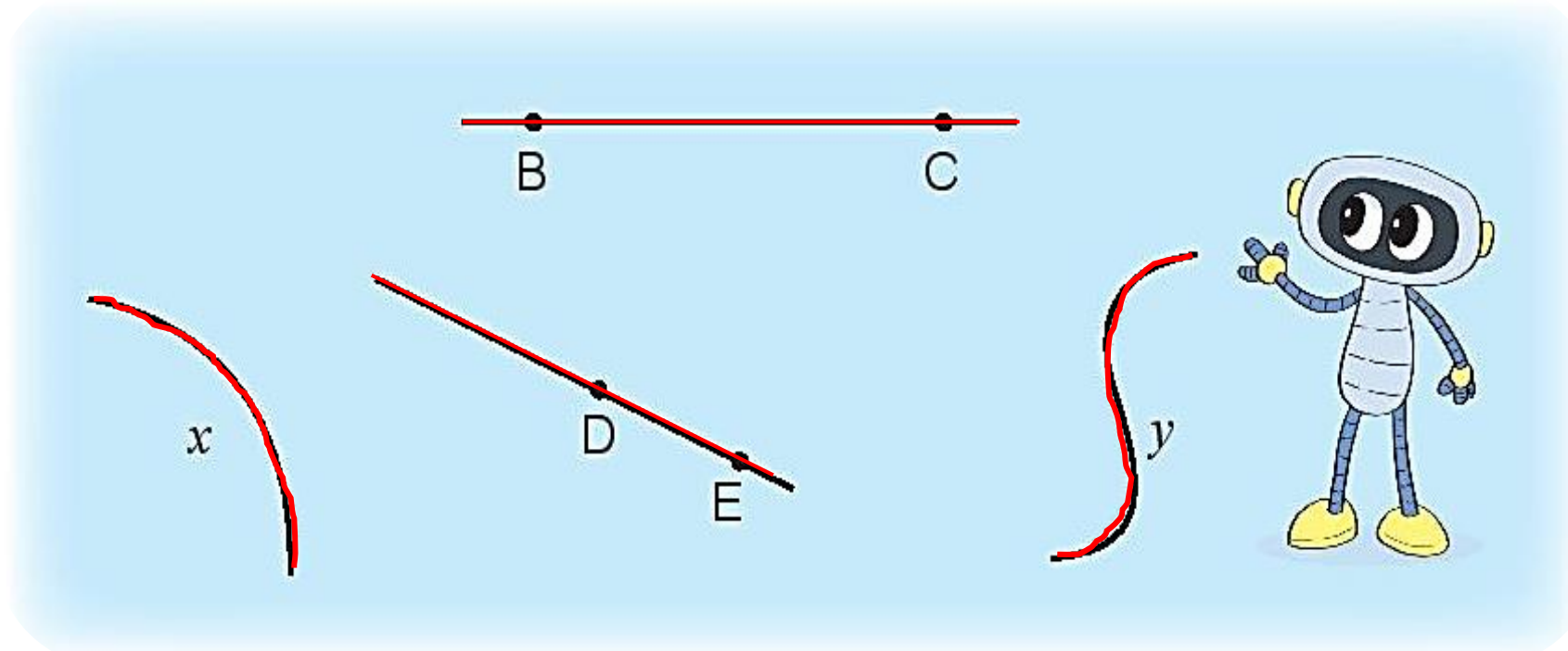
1



- Kể tên các đường thẳng trong hình vẽ.
- Kể tên các đường cong trong hình vẽ.



1

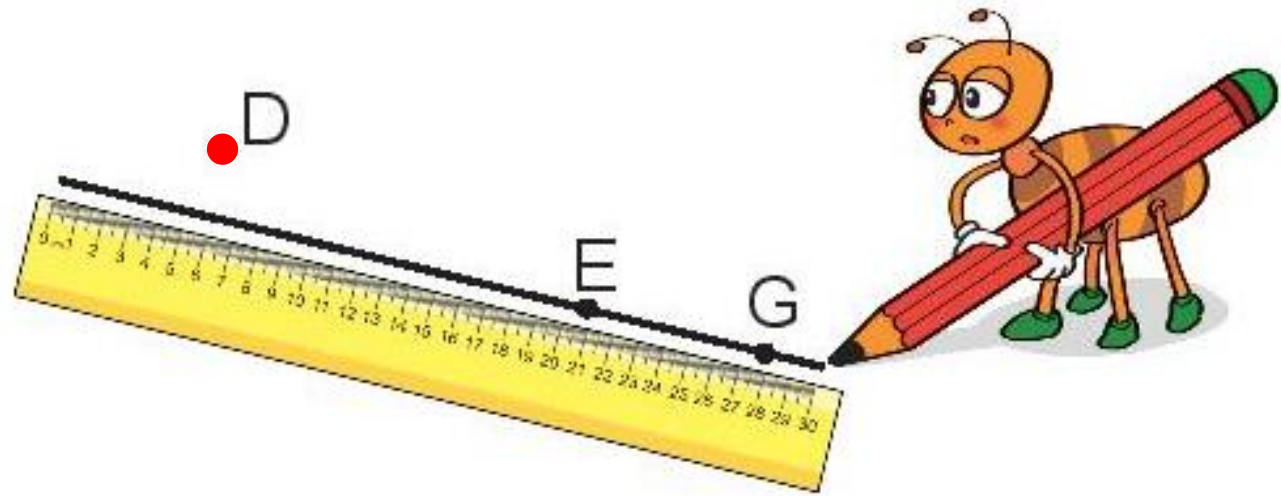
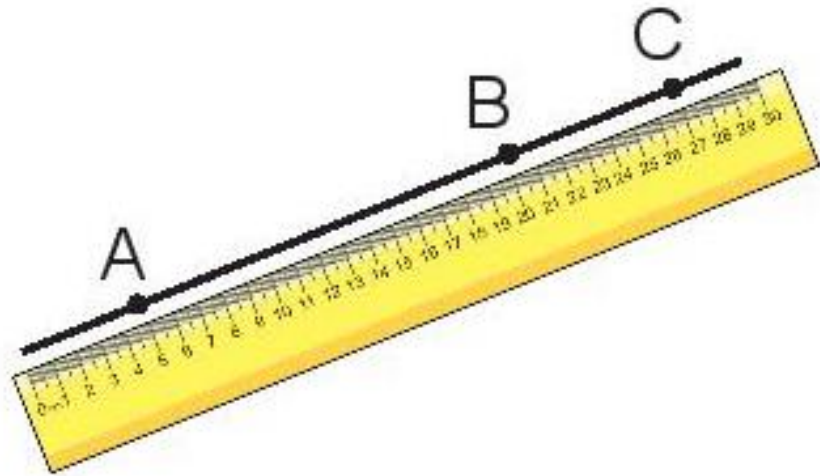


a) Các đường thẳng trong hình vẽ là: **BC , DE**

b) Các đường cong trong hình vẽ là: **x , y**

2

Đ, S ?



Trong hình vẽ trên:

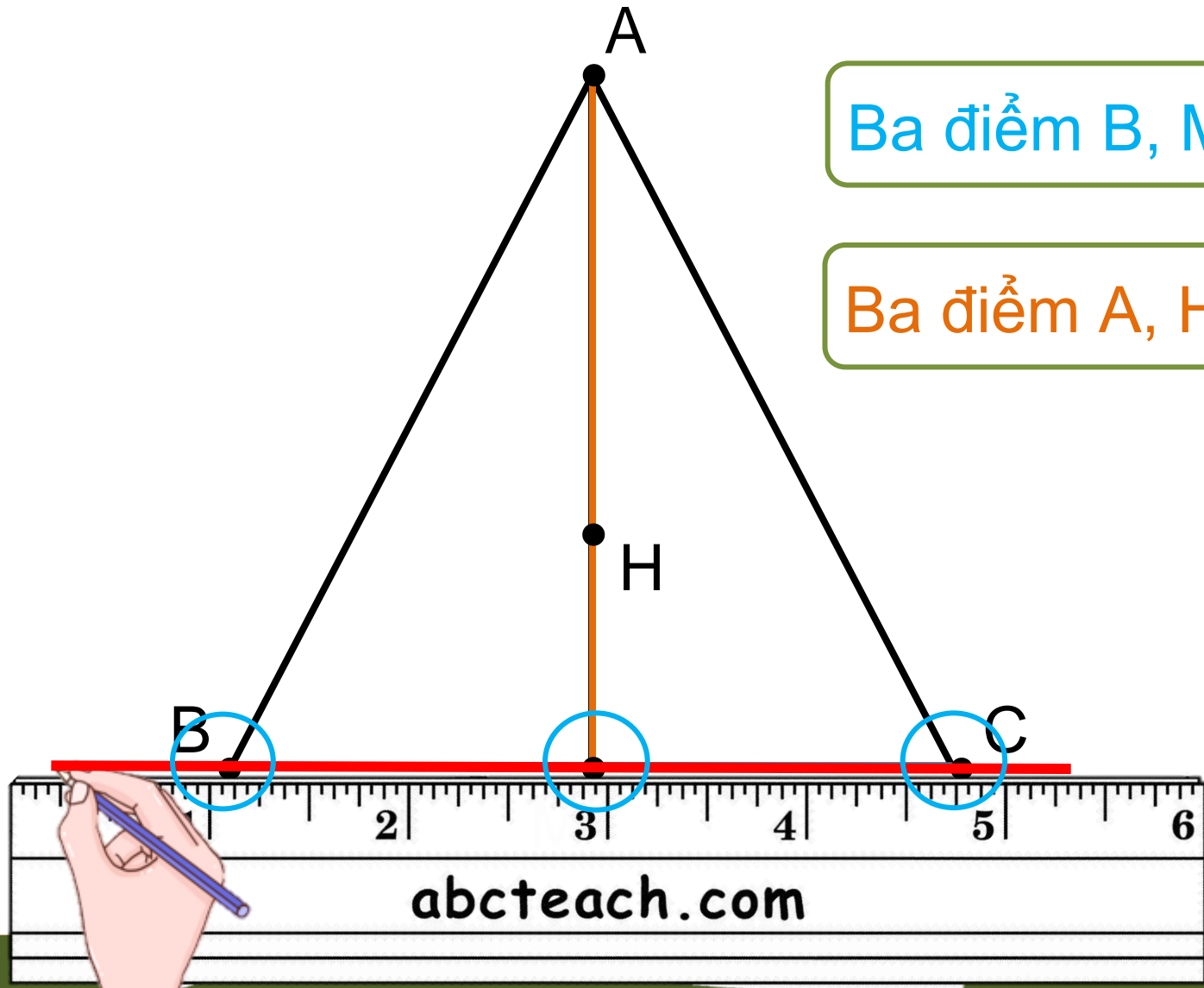
a) Ba điểm A, B, C thẳng hàng.

Đ

b) Ba điểm D, E, G thẳng hàng.

S

3 Kể tên 3 điểm thẳng hàng có trong hình vẽ



Ba điểm B, M, C thẳng hàng.

Ba điểm A, H, M thẳng hàng.



4 Tìm một đường thẳng, một đường cong và 3 cây thẳng hàng có trong hình dưới đây.



Slide Drawing

4

Tìm một đường thẳng, một đường cong và 3 cây thẳng hàng có trong hình dưới đây.



# Vận dụng

Hãy tìm những đường thẳng, đường cong, những đồ vật thẳng hàng có trong ngôi nhà của em.





# Yêu cầu cần đạt



**1** Nhận biết đường thẳng, đường cong, ba điểm thẳng hàng.

**2** Gọi tên đường thẳng, đường cong, ba điểm thẳng hàng trong hình vẽ cho trước.

**3** Nhận diện đường thẳng, đường cong, ba điểm thẳng hàng trong thực tế.





Tạm biệt và hẹn gặp lại  
các con vào những tiết học sau!

