


Họ và tên:.....

Lớp:

BÀI TẬP 1: Mình cùng tô chữ a, ă, â nhé!



BÀI TẬP 2:

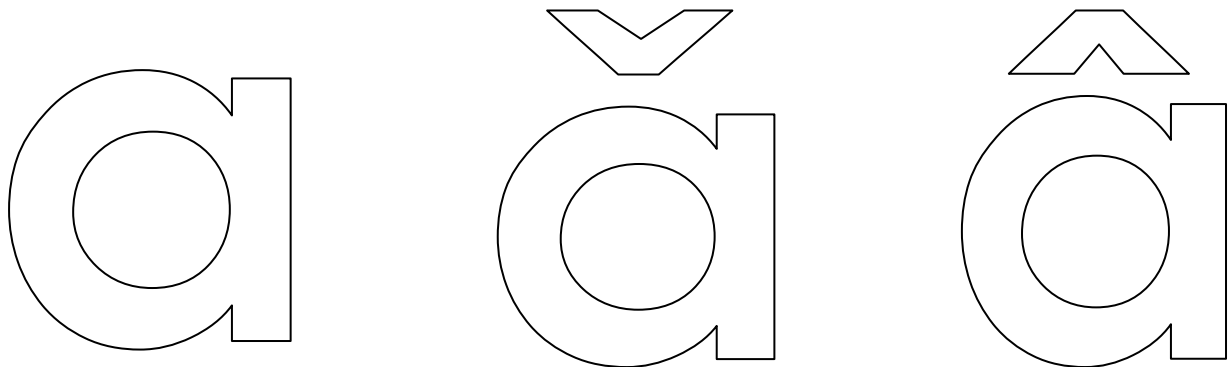
- Bé hãy phát âm các chữ cái a, ă, â và tô màu chữ a, ă, â rỗng nhé!
- Gạch chân các chữ cái a, ă, â có trong từ dưới tranh và trong bài đồng dao.



Lạc đà



gấu trắng Bắc Cực



Con mèo mà trèo cây cau










Con mèo mà trèo cây cau

Hỏi thăm chú chuột đi đâu vắng nhà

Chú chuột đi chợ đường xa

Mua mắm, mua muối giỗ cha con mèo.

BÀI TẬP 3: Bé hãy đếm số lượng ở mỗi nhóm đối tượng rồi tô các chữ số theo nét chấm mờ nhé!


	1	1	1	1	1
	2	2	2	2	2
	3	3	3	3	3
	4	4	4	4	4
	5	5	5	5	5
	6	6	6	6	6
	7	7	7	7	7
	8	8	8	8	8
	9	9	9	9	9

BÀI TẬP 4: Bé hãy đếm xem mỗi chú rùa để được bao nhiêu quả trứng và viết số tương ứng vào khoanh tròn phía trước của mỗi chú rùa nhé!




BÀI TẬP 5:


Bé hãy đếm số lượng đồ vật và tô màu vào ô có số tương ứng nhé!




9	2	4
---	---	---



5	3	0
---	---	---








9	6	7
---	---	---



4	8	7
---	---	---

BÀI TẬP 6: Thêm bớt trong phạm vi 10

- Bé hãy đếm số lượng rau, củ quả ở mỗi hàng.
- Vẽ thêm hoặc gạch bớt để có số lượng tương ứng với chữ số ở mỗi hàng.

	3
	5
	4
	6
	7