



TRƯỜNG MẦM NON GIA THƯỢNG

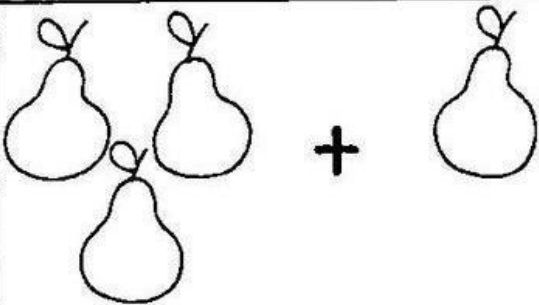

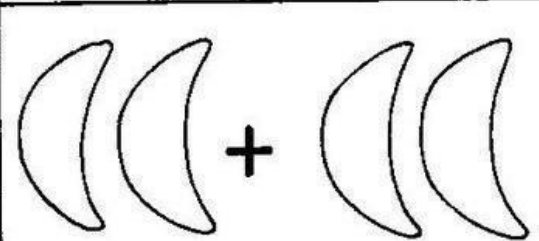
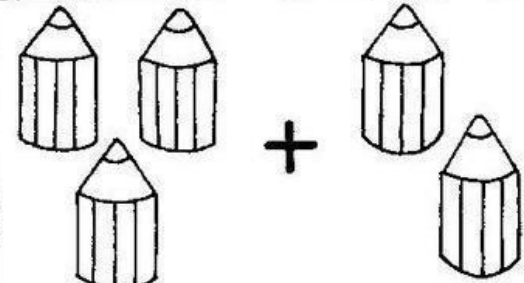
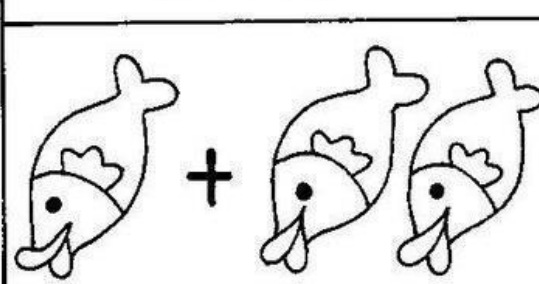
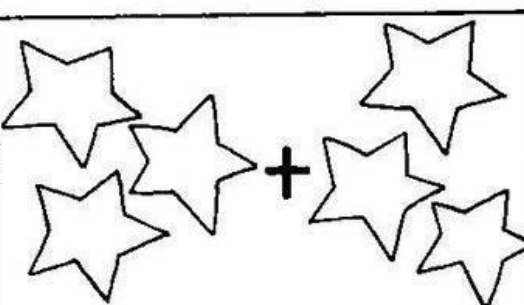
Bài tập đếm số lượng

Lứa tuổi: mẫu giáo lớn 5 – 6 tuổi

Họ và tên trẻ:

Lớp:.....

Con hãy đếm và viết chữ số phù hợp vào chỗ trống nhé!

 $3 + 1 = \cdot$	 $4 + 2 = \cdot$
 $2 + 2 = \cdot$	 $3 + 2 = \cdot$
 $1 + 2 = \cdot$	 $3 + 3 = \cdot$