











Họ và tên trẻ.....









Lớp.....

**BÀI TẬP PHÁT TRIỂN TƯ DUY CHO TRẺ**

**1. Khoanh tròn những số nhỏ nhất**

							
<b>5</b>	<b>6</b>	<b>4</b>	<b>3</b>	<b>7</b>	<b>5</b>	<b>9</b>	<b>3</b>

**2. Khoanh tròn những con số lớn nhất**

							
<b>4</b>	<b>6</b>	<b>5</b>	<b>4</b>	<b>8</b>	<b>4</b>	<b>9</b>	<b>7</b>

**3. Điền những số thiếu vào ô trống**

<b>0</b>		<b>2</b>		<b>4</b>
<b>5</b>		<b>7</b>		<b>9</b>

4. Khoanh tròn con số lớn nhất trong mỗi phần

3



7



9



6



8



2



5









4



5. Vẽ vòng tròn bao quanh mỗi loài động vật



6. Khoanh tròn con số đúng

 <p>2      1      3</p>	 <p>1      2      3</p>
 <p>3      2      1</p>	 <p>2      1      3</p>
 <p>3      1      2</p>	 <p>1      2      3</p>

7. Làm phép cộng



$$\begin{array}{ccc} 5 & + & 1 & = & 6 \\ \text{.....} & & \text{.....} & & \text{.....} \end{array}$$



$$\text{.....} + \text{.....} = \text{.....}$$



$$\text{.....} + \text{.....} = \text{.....}$$



$$\text{.....} + \text{.....} = \text{.....}$$