






Bé hãy đánh số thứ tự 1 đến 3 cho các đồ vật dưới theo độ dài tăng dần từ ngắn nhất đến dài nhất.


Ordering Sizes


Write 1 to 3 to show the order from shortest to longest object.


1) 


2) 


3) 

4) 


5) 


6) 


7) 


8) 


Write 1 to 3 to show the order from longest to shortest object.


9) 


10) 


11) 


12) 

13) 

14) 

15) 

16) 

17) 

Bé hãy ấn vào đường link dưới đây để làm bài nhé
<https://www.liveworksheets.com/fj2852920so>