



TRƯỜNG ĐẠI HỌC THỦ ĐÔ HÀ NỘI
KHOA KHOA HỌC TỰ NHIÊN

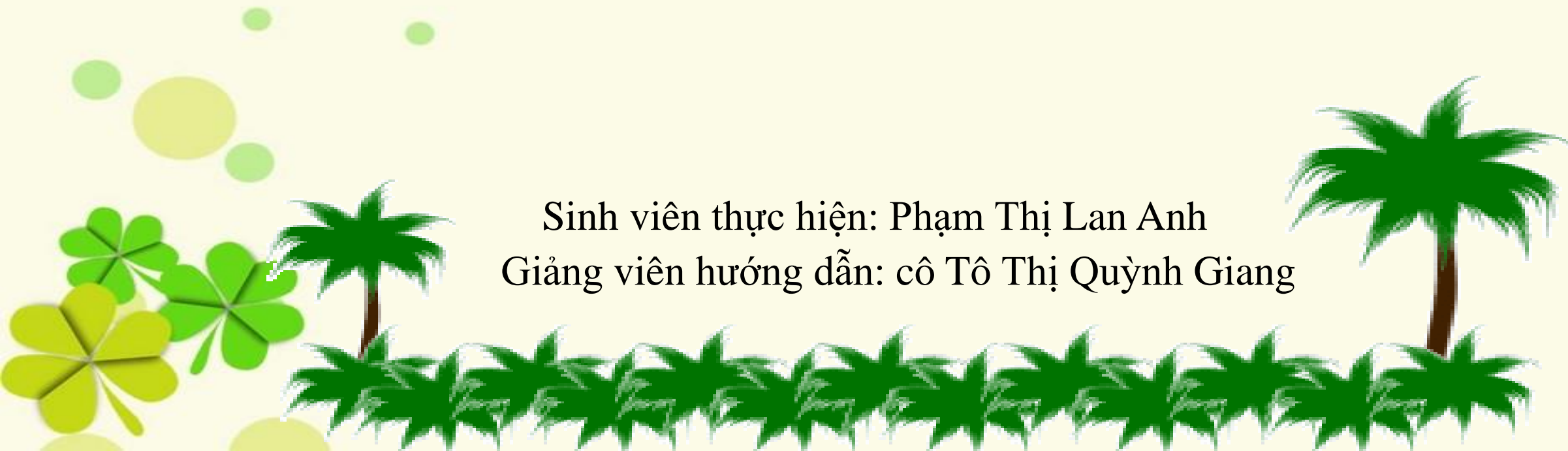


ĐỊA LÝ 9

BÀI 1:

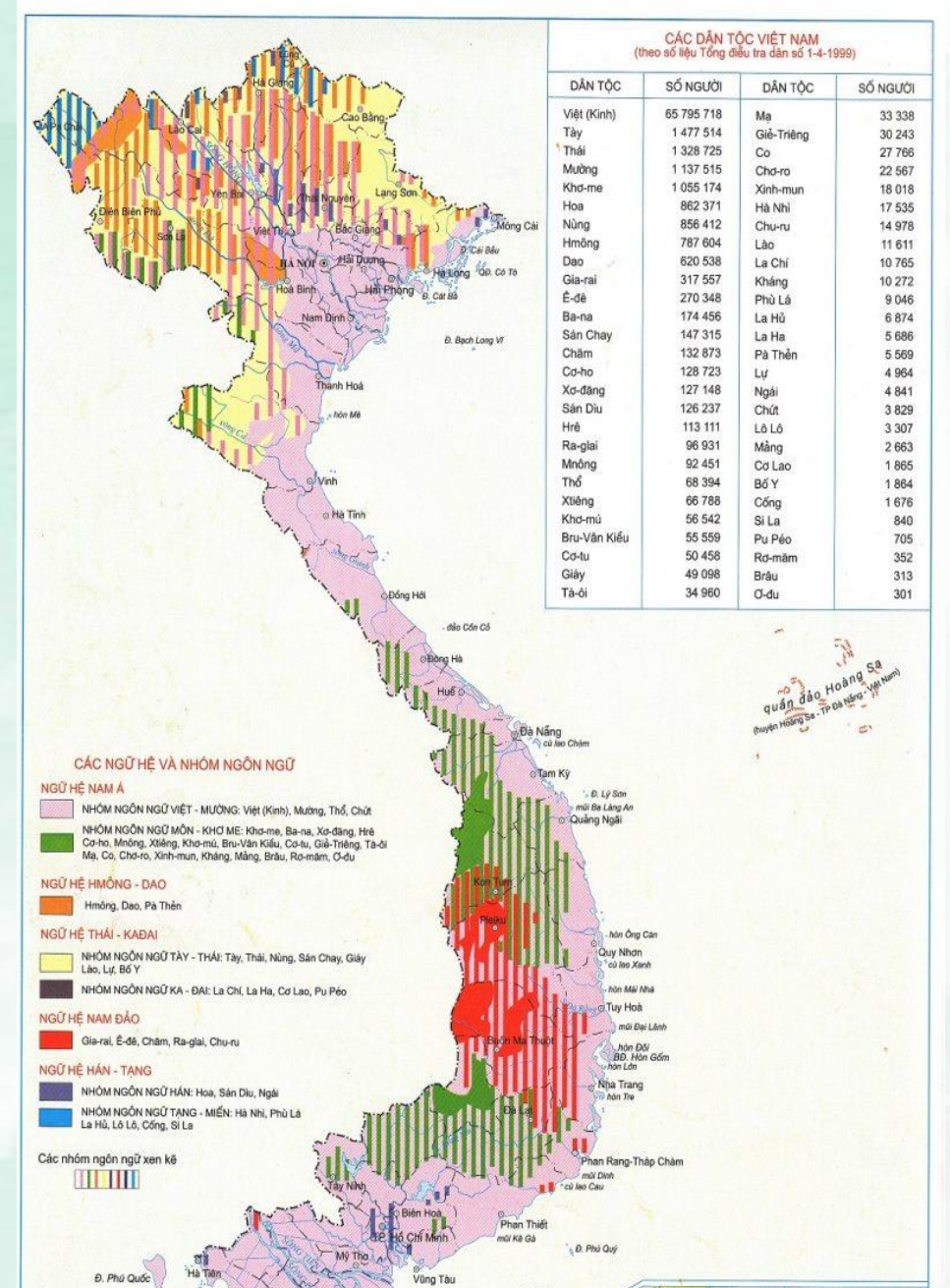
CỘNG ĐỒNG CÁC DÂN TỘC VIỆT NAM

Sinh viên thực hiện: Phạm Thị Lan Anh
Giảng viên hướng dẫn: cô Tô Thị Quỳnh Giang





I. Các dân tộc ở Việt Nam



Lược đồ các dân tộc Việt Nam



Người Kinh





Lễ hội Kate của người Chăm



Người Tày dệt thổ cẩm ở Cao Bằng



Người Chơ - ro





Đám cưới dân tộc Dao

Người dân tộc Dao





Dân tộc Hà Nhi

Dân tộc Bana

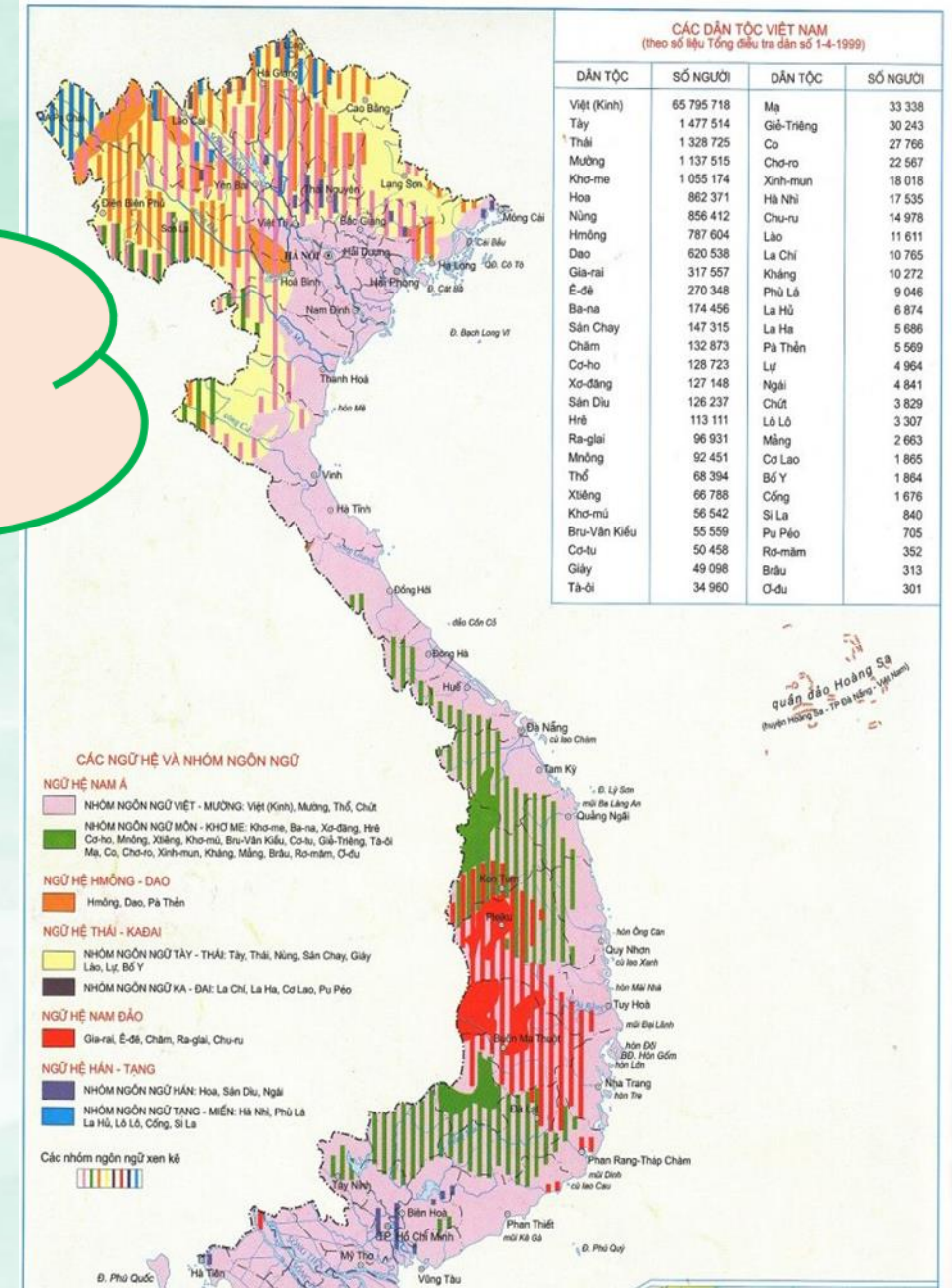




Hội đua thuyền của dân tộc Khơ – me

I. Các dân tộc ở Việt Nam

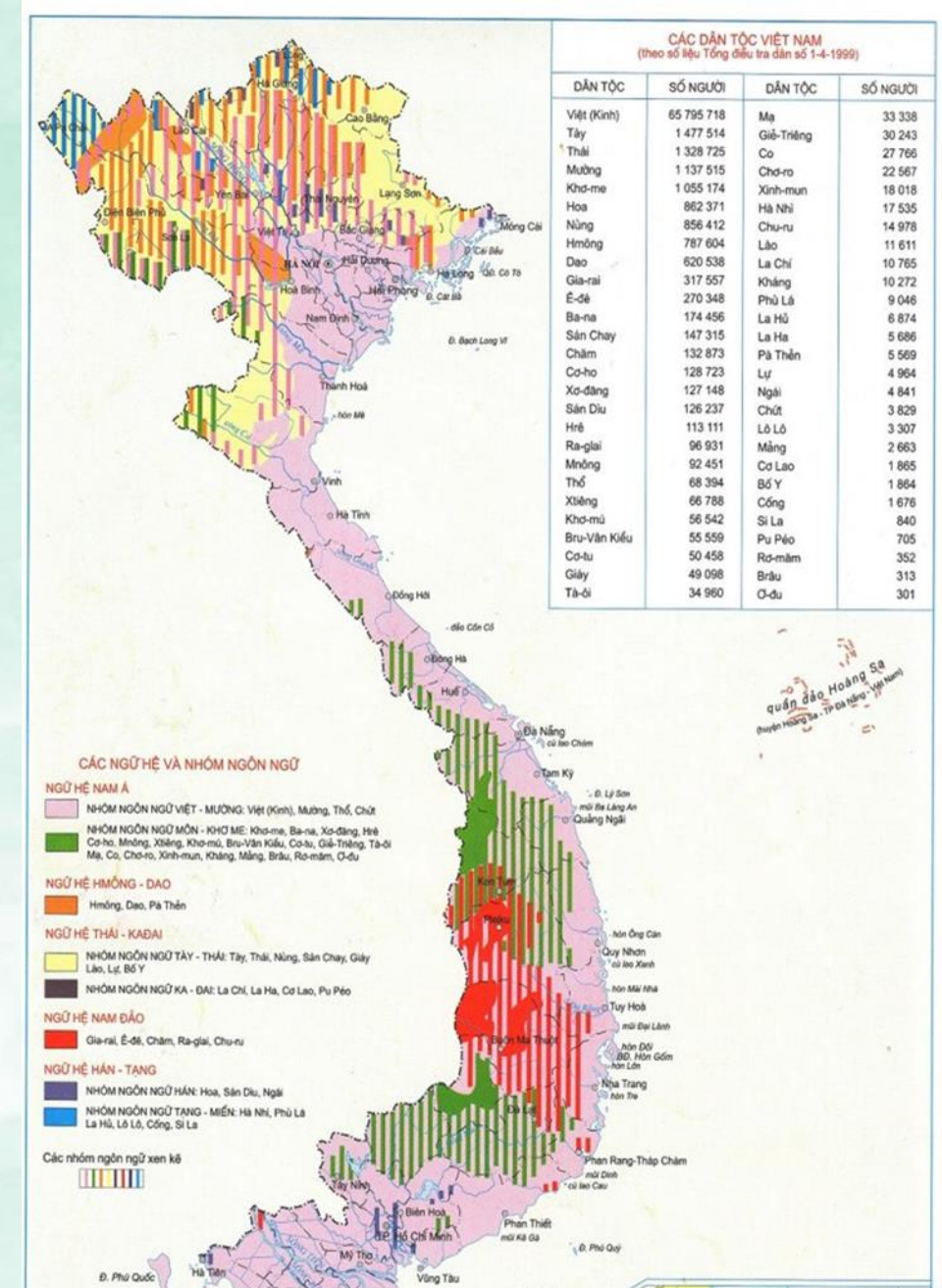
- Nước ta có bao nhiêu dân tộc ?
- Nêu ví dụ chứng tỏ “ nền văn hóa Việt Nam phong phú và giàu bản sắc dân tộc ”



Lược đồ các dân tộc Việt Nam

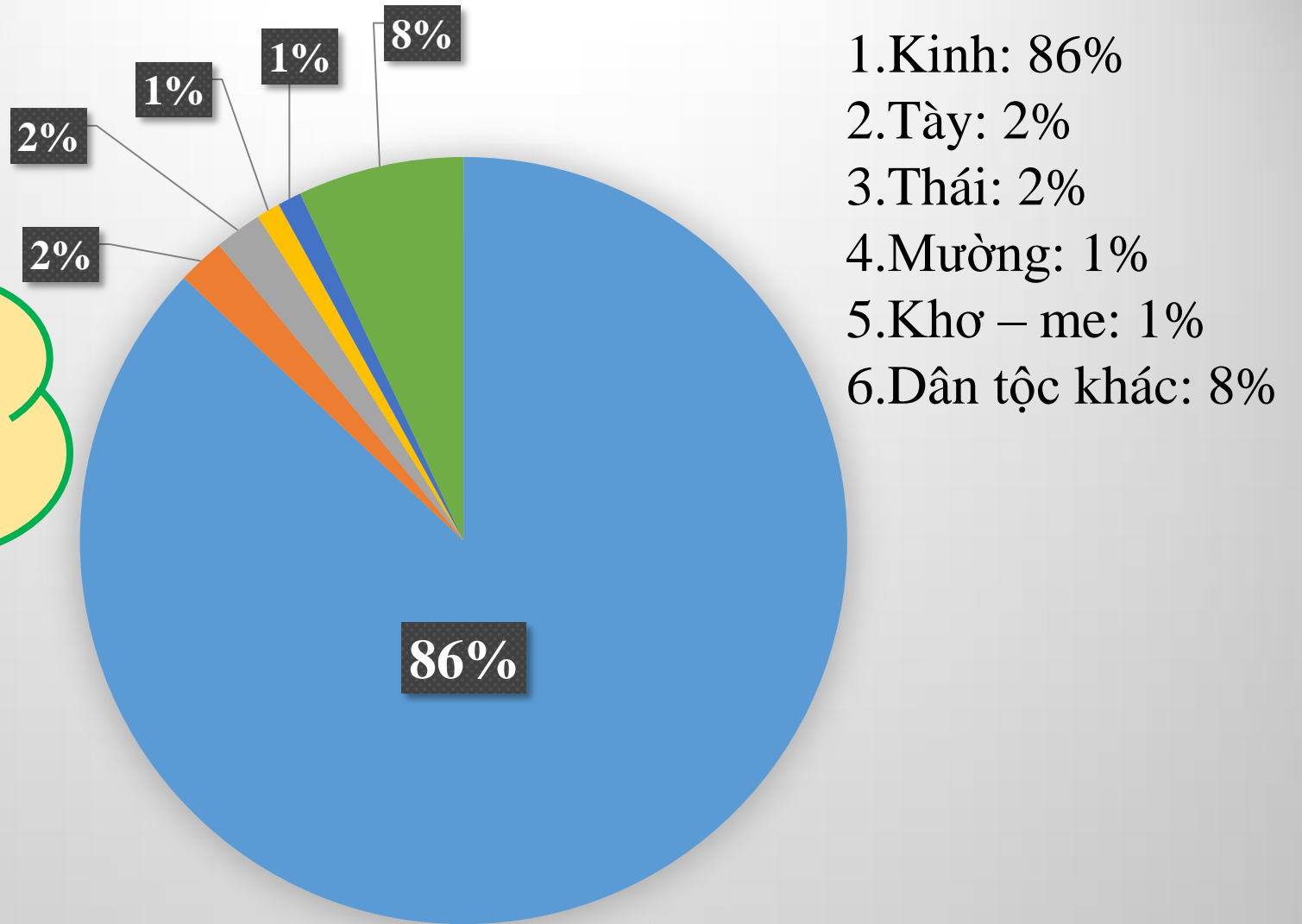
I. Các dân tộc ở Việt Nam

- Nước ta có 54 dân tộc.
- Mỗi dân tộc có một nét văn hoá riêng thể hiện trong ngôn ngữ, trang phục, phong tục, tập quán. làm cho nền văn hoá Việt Nam phong phú và giàu bản sắc dân tộc.

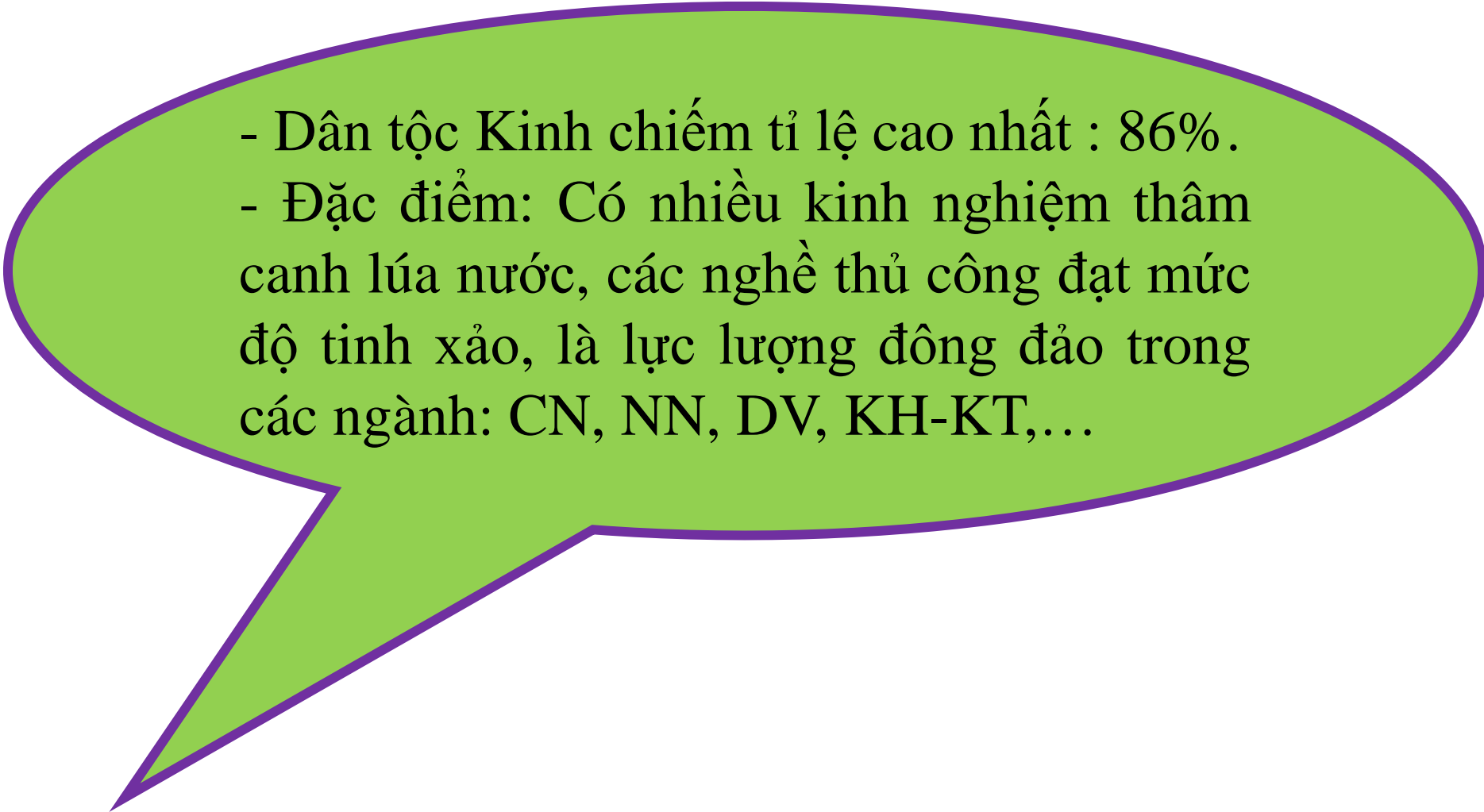


Lược đồ các dân tộc Việt Nam

Dân tộc nào chiếm tỉ lệ cao nhất?
Hãy nêu một số đặc điểm chính của dân tộc này ?

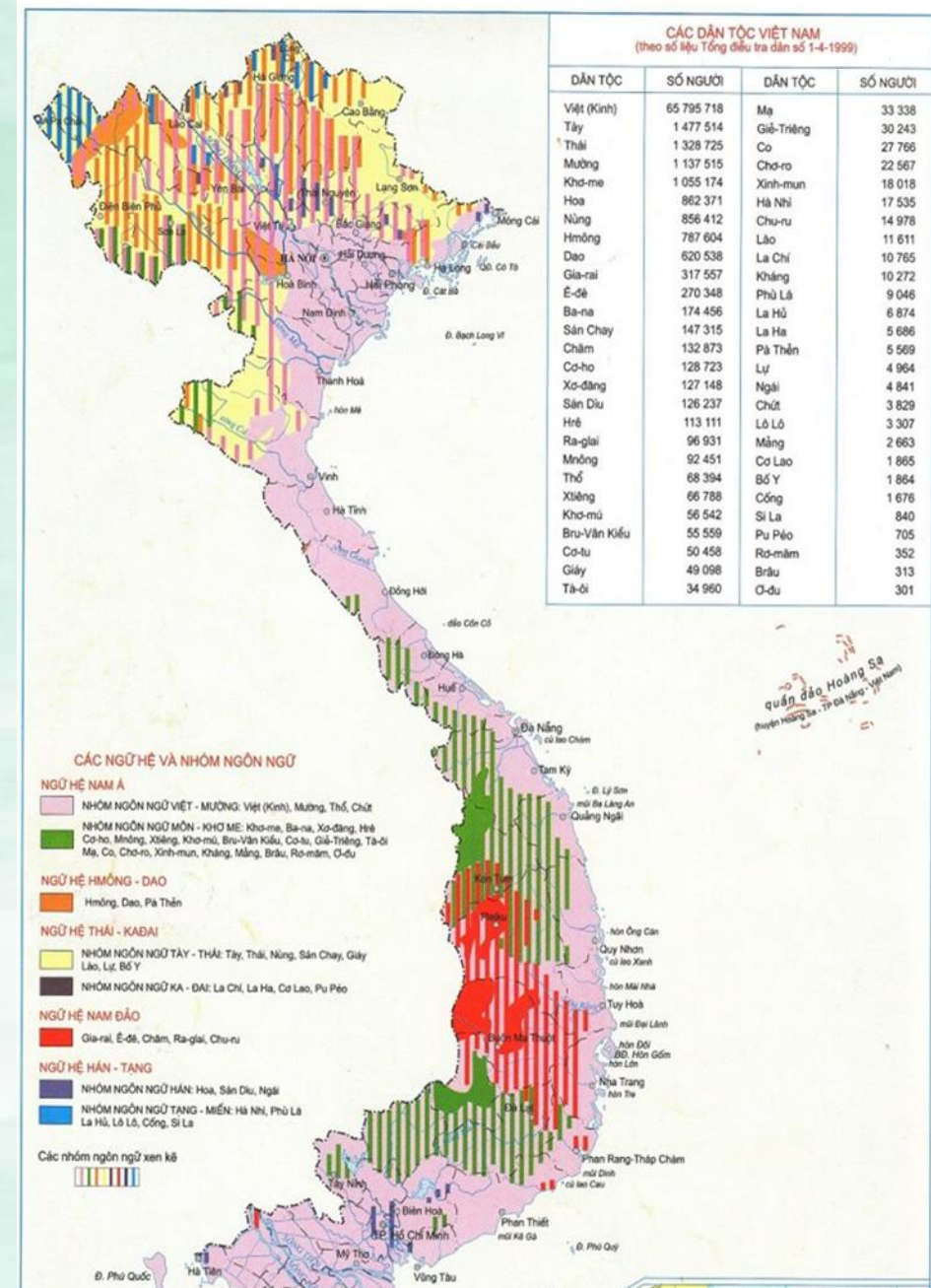


Biểu đồ cơ cấu các dân tộc Việt Nam

- 
- Dân tộc Kinh chiếm tỉ lệ cao nhất : 86%.
 - Đặc điểm: Có nhiều kinh nghiệm thâm canh lúa nước, các nghề thủ công đạt mức độ tinh xảo, là lực lượng đông đảo trong các ngành: CN, NN, DV, KH-KT,...

I. Các dân tộc ở Việt Nam

- Nước ta có 54 dân tộc.
- Mỗi dân tộc có một nét văn hoá riêng thể hiện trong ngôn ngữ, trang phục, phong tục, tập quán. làm cho nền văn hoá Việt Nam phong phú và giàu bản sắc dân tộc.
- Dân tộc Kinh (Việt) có số dân đông nhất chiếm 86% dân số cả nước .
- Các dân tộc ít người chiếm 13,8%.



Lược đồ các dân tộc Việt Nam

II. Phân bố các dân tộc

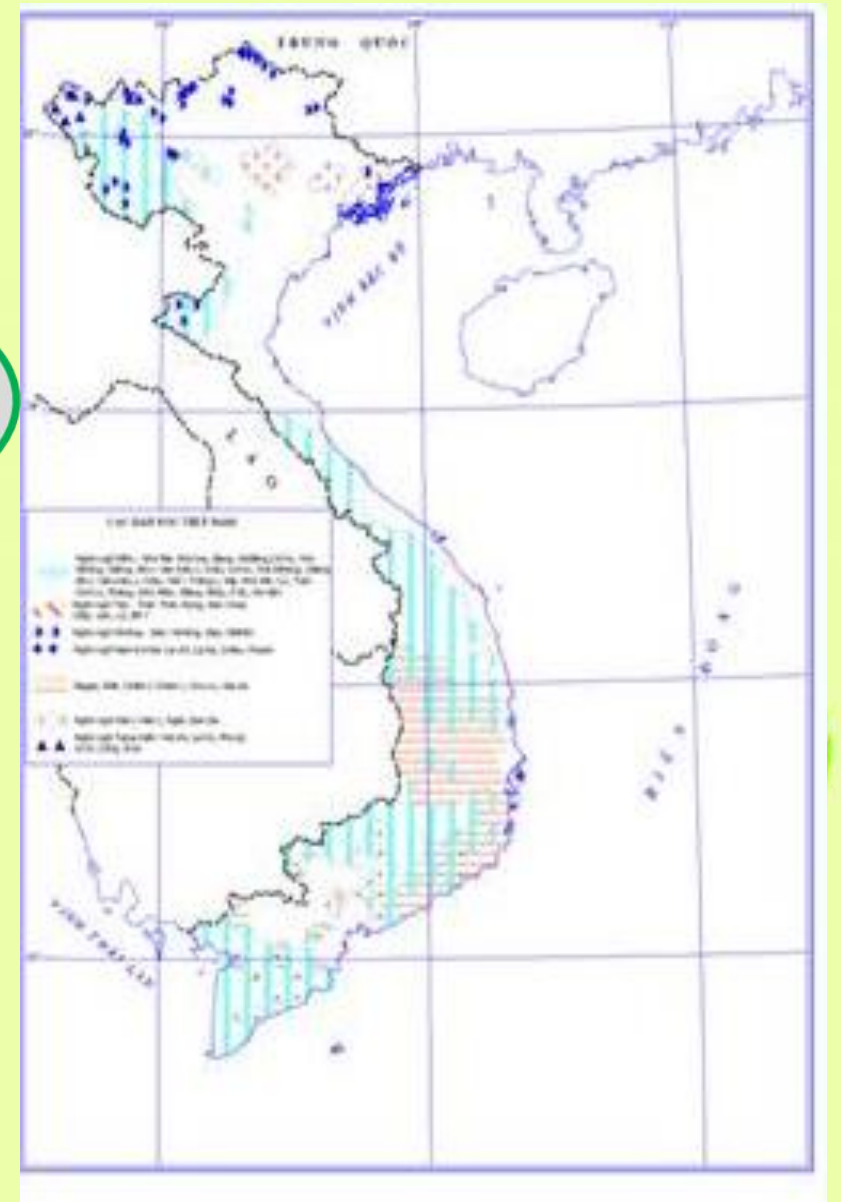
Quan sát lược đồ và cho biết dân tộc Kinh phân bố ở đâu ?



Lược đồ phân bố dân tộc kinh

II. Phân bố các dân tộc

Quan sát lược đồ, hãy cho biết các dân tộc ít người của nước ta phân bố ở đâu?



Lược đồ phân bố các dân tộc ít người

II. Phân bố các dân tộc

1. Dân tộc Việt (Kinh)

- Dân tộc Kinh (người Việt) sống chủ yếu ở các đồng bằng, trung du và vùng ven biển.

2. Các dân tộc ít người

- Các dân tộc ít người cư trú chủ yếu ở khu vực miền núi và cao nguyên.



Lược đồ phân bố dân tộc kinh

THẢO LUẬN NHÓM

Nhóm 1:


- Đọc SGK (phần 2- II) và tranh ảnh, cho biết Trung du miền núi phía Bắc gồm các dân tộc ?
- Đặc điểm của sự phân bố ?

Nhóm 2:

- Đọc SGK (phần 2- II) tranh ảnh, cho biết khu vực Trường Sơn và Tây Nguyên gồm các dân tộc ?
- Đặc điểm của sự phân bố ?

Nhóm 3:

- Đọc SGK (phần 2- II) và tranh ảnh, cho biết khu vực cực Nam Trung Bộ và Nam Bộ gồm các dân tộc?
- Đặc điểm của sự phân bố ?





Dân tộc Nùng



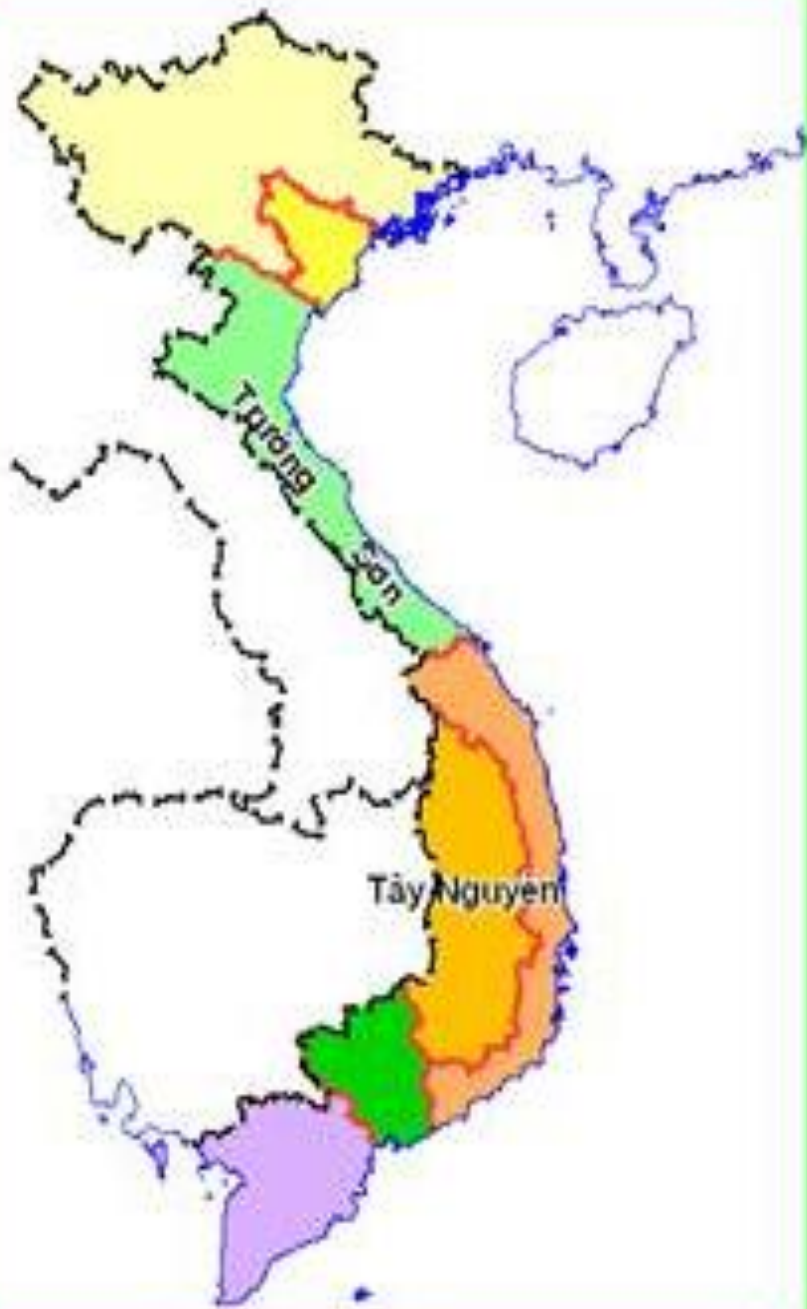
Dân tộc Homong



Dân tộc Thái

Nhóm 1

Nhóm 2



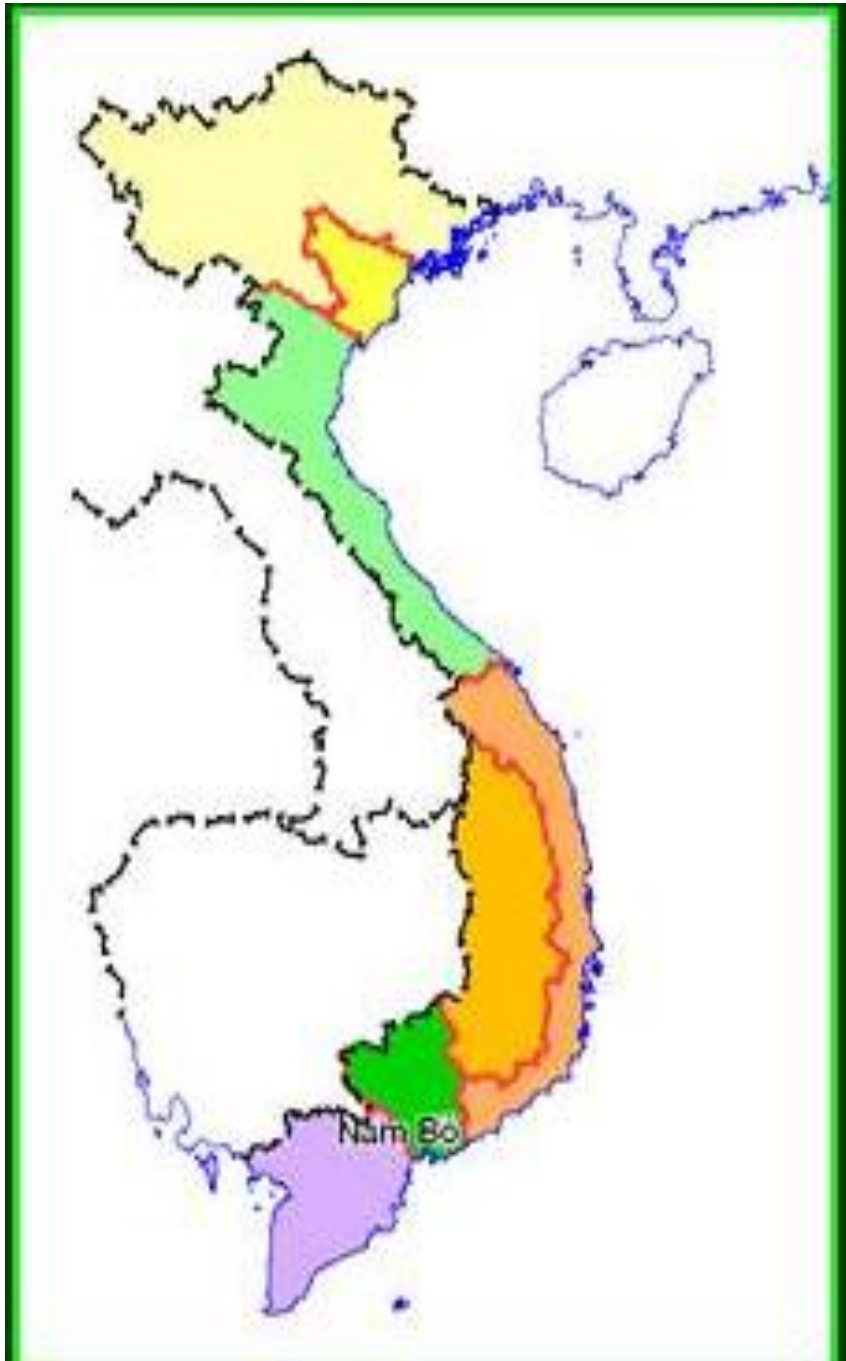
Dân tộc Bana



Dân tộc Xơ – đăng



Dân tộc Ê- đê



Nhóm 3

Dân tộc Khơ – me



Dân tộc Chăm



Dân tộc Hoa

II. Phân bố các dân tộc

<i>Các dân tộc ít người vùng</i>	<i>Các dân tộc</i>	<i>Đặc điểm phân bố</i>
<i>1. Trung du miền núi phía Bắc</i>	- Bao gồm > 30 dân tộc sống đan xen như: Tày, Nùng, Thái, Dao, Hà Nhi, Hmông,....	- Phân bố theo độ cao.
<i>2. Trường Sơn và Tây Nguyên</i>	- Bao gồm > 20 dân tộc như: Bana, Ê- đê, Gia – rai, Xơ- Đăng, Cơ - ho,...	- Phân bố theo vùng
<i>3. Cực Nam trung Bộ Và Nam Bộ</i>	- Chăm, Khơ – me, Hoa, Chơ-ro,...	- Cư trú thành từng dải hoặc xen kẽ với người Kinh.



BÀI TẬP CÙNG CỘ



Câu 1: Đặc điểm phân bố của dân tộc ít người vùng trung du miền núi phía Bắc ?

- A. Phân bố theo độ cao
- B. Phân bố theo vùng
- C. Cư trú thành từng vệt hoặc xen kẽ với người kinh.

Đáp án : A. Phân bố theo độ cao



BÀI TẬP CÙNG CỘ



Câu 2: Hoàn thành đoạn văn bản sau :

Nước ta có (1)dân tộc. Dân tộc Việt (kinh) có số dân (2).....nhất, sống chủ yếu ở đồng bằng, trung du và ven biển. Miền núi và cao nguyên là địa bàn cư trú chính của các (3).....Bản sắc văn hóa của mỗi dân tộc thể hiện trong (4), trang phục, tập quán,...

Đáp án:

1. 54

2. đông nhất

3. dân tộc ít người

4. ngôn ngữ



BÀI TẬP CƯỜNG CỐ

Câu 3:

- Nước ta có bao nhiêu dân tộc?
- Những nét văn hoá riêng của các dân tộc thể hiện ở những mặt nào ? Cho ví dụ.


Đáp án: - *Nước ta có 54 dân tộc.*

- *Bản sắc văn hóa của các dân tộc được thể hiện trong ngôn ngữ, trang phục, tập quán, phương thức sản xuất...*

- *VD: Người Gia-rai theo chế độ mẫu hệ, vợ chồng lấy nhau cư trú bên nhà vợ, con cái lấy họ mẹ; y phục người Ê – đê thường có màu chàm, hoa văn sắc sỡ,..*



NHẮC NHỞ VỀ NHÀ

- *Học bài cũ.*
 - *Làm bài tập trong tập bản đồ và trả lời các câu hỏi cuối bài vào vở bài tập.*
 - *Tìm hiểu trước bài 2: Dân số và sự gia tăng dân số.*
- 

A purple rectangular tag with a hole on the left side is the central focus. The words "Thank you!" are written on it in a black, cursive font. The tag is placed on a light-colored wooden surface with a visible grain. Three white daisies with yellow centers are scattered around: one in the foreground to the right of the tag, and two in the background, one slightly to the left and one to the right. A light-colored string is looped around the tag and extends towards the top left of the frame.

Thank
you!