

Câu 1: Nhóm lệnh Sort & Filter thuộc dải lệnh:

- A. Data và View B. Home và Data C. Home và View D. Home và Design

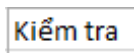
Câu 2: Để vẽ biểu đồ em chọn nhóm lệnh:

- A. Table B. Charts C. Insert D. Add-Ins

Câu 3: Trong ô A1 đang có số 1.59, nếu nhấn nút lệnh Decrease Decimal thì kết quả hiển thị ở ô A1 là:


- A. 1 B. 1.6 C. 1.5 D. 2

Câu 4: Cho dữ liệu như hình 2a, để định dạng được như hình 2b, em nhấn chọn nút lệnh:

 (Hình 2a)

A. U và *I*

B. **B**, U, *I*

 (Hình 2b)

C. **B** và *I*

D. **B** và U

Câu 5: Để lọc dữ liệu em sử dụng lệnh:

- A. Fill B. Sort C. Filter D. Select

Câu 6: Nút lệnh dùng để kẻ đường biên cho bảng:

A. 

B. 




C. 

D. 

Câu 7: Để in trang tính em chọn:

- A. File\ Save B. File\ Edit C. File\ Print D. File\ Open

Câu 8: Cho bảng như hình:

D5	:				=B5+C5
	A	B	C	D	E
1	SỐ HỌC SINH GIỎI KHỐI 7				
2	LỚP	NAM	NỮ	TỔNG	
3	7A1	20	15	35	
4	7A2	14	8	22	
5	7A3	6	12	18	
6	7A4	8	10	18	
7	7A5	5	6	11	

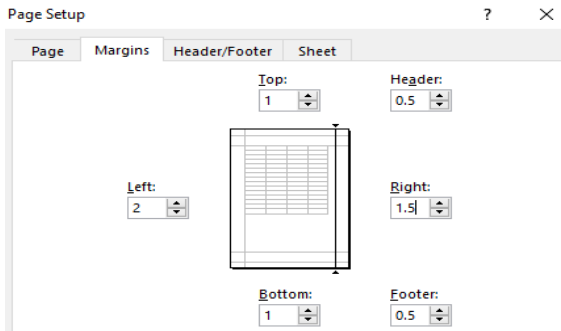
Nếu di chuyển công thức ở ô D5 sang ô D6 thì công thức trong ô D6 là:

- A. =B5+C6 B. =B5+C5 C. =B6+C6 D. =B6+C5

Câu 9: Nút lệnh  Merge & Center dùng để:

- A. Gộp và căn giữa B. Gộp nhiều ô thành 1 ô
C. Gộp và căn trái D. Căn giữa nhiều ô

Câu 10: Quan sát hộp thoại page setup như hình dưới, em hãy cho biết lề trái của bảng tính là bao nhiêu?



- A. 1 B. 0.5 C. 1.5 D. 2

Câu 11: Muốn tính tổng các giá trị trong ô A2 và D3, sau đó lấy kết quả nhân với giá trị trong ô E4. Em nhập công thức:

- A. = (A2 + D3) x E4 B. = (A2 + D3) * E4 C. = (A2 + D3) E4 D. (A2 + D3) * E4

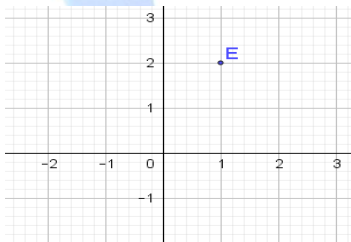
Câu 12: Nút lệnh để thực hiện sắp xếp theo thứ tự tăng dần là:

- A.  B.  C.  D. 

Câu 13: Trong định dạng bảng tính có mấy hướng trang?

- A. 3 B. 1 C. 4 D. 2

Câu 14: Trong phần mềm GeoGebra, để tạo điểm E trên mặt phẳng tọa độ như hình em nhập lệnh:



- A. E = (1,2) B. E := (2,1) C. E =: (1,2) D. E = (2,1)

Câu 15: Để thêm thông tin chú giải cho biểu đồ em chọn lệnh:

- A. Data Table B. Chart Title C. Data Lable D. Legend

Câu 16: Trong phần mềm GeoGebra, biểu tượng dùng để:

- A. Vẽ véc tơ B. Vẽ đường thẳng C. Vẽ tia D. Vẽ đoạn thẳng

Câu 17: Lệnh Axis Titles trong nhóm lệnh Labels dùng để:

- A. Thêm hoặc ẩn tiêu đề của trục tọa độ B. Thêm hoặc ẩn chú giải của biểu đồ.
C. Thêm hoặc ẩn giá trị của trục tọa độ. D. Thêm hoặc ẩn tiêu đề của biểu đồ.

Câu 18: Các dạng biểu đồ phổ biến thường dùng là:

- A. Đường gấp khúc, hình tròn. B. Biểu đồ hình cột, hình tròn.
C. Biểu đồ hình cột, đường gấp khúc, hình tròn. D. Biểu đồ hình cột, đường gấp khúc.

Câu 19: Ô C5 có màu vàng, chữ màu đỏ; ô A3 có màu trắng, chữ đen. Nếu sao chép nội dung ô C5 sang ô A3 thì:

- A. Ô A3 màu vàng, chữ đỏ. B. Ô A3 màu trắng, chữ đỏ.
C. Ô A3 màu trắng, chữ đen. D. Ô A3 màu vàng, chữ đen.

Câu 20: Chọn phát biểu đúng:

- A. Khi dữ liệu thay đổi, phải xây dựng lại biểu đồ từ đầu.
- B. Chỉ có thể trình bày từng loại dữ liệu bằng duy nhất một dạng biểu đồ phù hợp.
- C. Không thể thay đổi được dạng biểu đồ đối với một biểu đồ đã được tạo.
- D. Biểu đồ cột minh họa các số liệu trong bảng dưới dạng các cột.

B. TỰ LUẬN

Câu 1: Hãy nêu lợi ích của việc xem trang tính trước khi in bằng lệnh PrintPreview?

Câu 2 Em có thể minh họa bảng dữ liệu bên bằng biểu đồ hình tròn không? Vì sao? Hãy nêu các bước vẽ biểu đồ đường gấp khúc để minh họa bảng dữ liệu này.

	A	B	C	D	E	F	G
1	BẢNG THỐNG KÊ HỌC LỰC HỌC SINH CÁC LỚP						
2	STT	LỚP	GIỚI	KHÁ	TB	YẾU	KÉM
3	1	6A	6	12	5	0	1
4	2	6B	7	15	8	0	0
5	3	6C	9	19	7	3	0
6	4	6D	8	21	9	1	0
7	5	7A	5	17	4	0	0
8	6	7B	9	22	7	5	0
9	7	7C	10	20	9	3	0

Câu 3. Em hãy nêu các bước để sắp xếp các lớp theo thứ tự giảm dần của số học sinh Trung bình.



	1	2	3	4	5	6	7	8	9	10	11	12	13	14	15	16	17	18	19	20
A																				
B																				
C																				
D																				

Câu	Đáp án
1	<ul style="list-style-type: none"> - Giúp người sử dụng kiểm tra được nội dung in ra. - Nhận ra và điều chỉnh những điểm chưa hợp lí. - Giúp tiết kiệm được thời gian, mực in, giấy in...
2	<ul style="list-style-type: none"> - Không. Vì biểu đồ hình tròn chỉ biểu diễn được một cột dữ liệu. - Bước 1: Chọn 1 ô trong bảng dữ liệu (ví dụ: ô D6) - Bước 2: Nháy chuột chọn biểu tượng tạo biểu đồ đường gấp khúc trong nhóm lệnh Charts.
3	<ul style="list-style-type: none"> - Bước 1: Chọn 1 ô trong cột E (ví dụ: ô E6) - Bước 2: Nháy chuột chọn biểu tượng 