



Đề thi Trạng Nguyên Toàn Tài 4

(Năm 2021)

Tài liệu dành tặng cho học sinh





ĐỀ THI TRẠNG NGUYÊN TOÀN TÀI LỚP 4



(Năm học 2020 – 2021)

TRẠNG NGUYÊN TOÀN TÀI - CẤP HUYỆN

Bài 1: Mèo con nhanh nhẹn

Em hãy giúp bạn mèo ghép 2 ô đã cho để tạo thành cặp tương ứng.

small ¹	 ²	 ³	lucky ⁴	đôi ⁵
may mắn ⁶	thung lũng ⁷	valley ⁸	rừng ⁹	nhỏ ¹⁰
 ¹¹	bảo tàng ¹²	hill ¹³	ear ¹⁴	tooth ¹⁵
neck ¹⁶	museum ¹⁷	forest ¹⁸	chín ¹⁹	 ²⁰



<input type="text"/>	và	<input type="text"/>	;	<input type="text"/>	và	<input type="text"/>	;	<input type="text"/>	và	<input type="text"/>	;	<input type="text"/>	và	<input type="text"/>	;	<input type="text"/>	và	<input type="text"/>
<input type="text"/>	và	<input type="text"/>	;	<input type="text"/>	và	<input type="text"/>	;	<input type="text"/>	và	<input type="text"/>	;	<input type="text"/>	và	<input type="text"/>	;	<input type="text"/>	và	<input type="text"/>



Bài 2: Chuột vàng tài ba

Em hãy giúp bạn chuột nối các ô chứa nội dung với các giỏ chủ đề phù hợp, những ô không đúng với các chủ đề, em không nối.

43x54

136x25

130x22

56x64

16226:7

17160:6

14300:5

126x28

24696:7

6954:3

143x20

392x9

122x19

2318

2860

3528

Bài 3: Trắc nghiệm

Em hãy khoanh tròn vào chữ cái trước câu trả lời đúng.

1. Nước tồn tại ở mấy thể?

- A. 1 B. 2 C. 3 D. 4

2. Bệnh quáng gà, khô mắt là do thiếu loại vi-ta-min nào dưới đây?

- A. vi-ta-min A C. vi-ta-min C
B. vi-ta-min B D. vi-ta-min D

3. Ai là người có công dẹp loạn 12 sứ quân?

- A. Ngô Quyền C. Trần Quốc Toản
B. Lê Hoàn D. Đinh Bộ Lĩnh

4. Năm 1010, Lý Công Uẩn đã dời đô về đâu?

- A. Hoa Lư B. Cổ Loa C. Đại La D. Huế

5. Đồng bằng Bắc Bộ do hai con sông nào bồi đắp nên?

- A. sông Đà và sông Đáy
B. sông Hồng và sông Đà
C. sông Hồng và sông Mã
D. sông Hồng và sông Thái Bình

Tài liệu dành tặng học sinh. Đề nghị không sao chép, kinh doanh dưới mọi hình thức.

6. Làng lụa Vạn Phúc thuộc tỉnh, thành phố nào?

- A. Hà Nội B. Hà Nam C. Hải Phòng D. Hải Dương

7. Câu hỏi "Các bạn có thể nói nhỏ hơn không?" được dùng làm gì?

- A. dùng để hỏi
B. dùng để yêu cầu
C. dùng để bộc lộ cảm xúc
D. dùng để kể

8. Từ nào sau đây có nghĩa là "vụng về, chẳng được việc gì"?

- A. đảm B. đan C. đoảng D. đoàn

9. Khổ thơ sau đây có bao nhiêu từ viết sai chính tả?

*Ngày nào xoan bé sù
Giờ bỗng vút lưng trời
Dưới gốc cây sấm mốc
Bao lá cành khô rơi...*

(Theo Trần Đăng Khoa)

- A. 1 B. 2 C. 3 D. 4

10. Giải câu đố sau:

*Để nguyên tàu đến nghỉ ngơi
Thêm huyền để trướng mọi người đều ăn.
Từ để nguyên là từ nào?*

- A. trạm B. vịt C. bến D. ga

TRẠNG NGUYÊN TOÀN TÀI - CẤP TỈNH



Bài 1: Chuột vàng tài ba

Em hãy giúp bạn chuột nối các ô chứa nội dung với các giỏ chủ đề phù hợp, những ô không đúng với các chủ đề, em không nối.

The illustration shows a math matching exercise. On the left, a cartoon mouse character stands on a path. In the center, there are several green boxes containing math problems. On the right, there are three baskets hanging from a tree, each with a label indicating a divisibility rule: "Chia hết cho 6", "Chia hết cho 7", and "Chia hết cho 8".

The math problems in the boxes are:

- $348 + 164$
- $888 : 3$
- $356 + 88$
- 190×3
- $269 + 263$
- 74×3
- 621
- 405
- $369 + 107$
- $967 - 663$
- $364 + 91$
- $456 + 167$
- 657

The baskets on the right are labeled:

- Chia hết cho 6
- Chia hết cho 7
- Chia hết cho 8



Bài 2: Trâu vàng uyên bác

Em hãy giúp bạn trâu điền chữ còn thiếu vào chỗ trống.

r	e		e	m	b	e	r
s	t	r	e		m		
c		u	s	i	n		
t	o		o	r	r	o	w
p	u	p	p		t		
f	e		r	u	a	r	y
s	e	v	e	n		h	
d		s	t	r	i	c	t
o	c	t	o		e	r	
n	o		e	m	b	e	r

Bài 3: Trắc nghiệm

Em hãy khoanh tròn vào chữ cái trước câu trả lời đúng.

1. Nước chuyển từ thể lỏng sang thể rắn được gọi là gì?

- A. nóng chảy B. ngưng tụ C. đông đặc D. bay hơi

2. Khí nào giúp duy trì sự cháy?

- A. khí ni-tơ B. khí ô-xi C. khí các-bô-níc D. khí he-li

3. Năm 1400, Hồ Quý Ly truất ngôi vua Trần, lập nên nhà Hồ và đổi tên nước là gì?

- A. Đại Cồ Việt B. Đại Việt C. Đại Ngu D. Vạn Xuân

4. Giải câu đố sau:

*Can trường kháng chiến mười năm
Anh hùng áo vải nhiều lần gặp nguy
Gian lao có quản ngại gì
Gươm thần trả lại chính vì quốc dân.*

(Đó là ai?)

- A. Trần Quốc Tuấn C. Lê Thái Tổ
B. Lý Thường Kiệt D. Lê Đại Hành

5. Đảo Cát Bà thuộc tỉnh, thành phố nào?

- A. Quảng Ninh C. Hải Phòng
B. Thái Bình D. Thanh Hóa

6. Con sông nào dưới đây *không* thuộc đồng bằng Nam Bộ?

- A. sông Sài Gòn
B. sông Vàm Cỏ Đông
C. sông Cầu
D. sông Tiền

7. Điền cặp từ trái nghĩa thích hợp vào chỗ chấm trong câu tục ngữ sau:

Khoai đất ..., mạ đất ...

- A. mềm - cứng
B. lạ - quen
C. cao - thấp
D. cũ - mới

8. Dòng nào dưới đây chỉ gồm các từ viết đúng chính tả?

- A. di sản, sai sót, sót xa
B. sản lượng, sàu riêng, giành dụm
C. sinh động, sắp xếp, năng suất
D. sáng sửa, tinh sảo, bổ sung

9. Đáp án nào dưới đây *không* phải thành ngữ, tục ngữ?

- A. Môi hở răng lạnh
B. Chị ngã em nâng
C. Ruột để ngoài da
D. Nước chảy đá mềm

10. Dòng nào sau đây gồm các tính từ chỉ hình dáng?

- A. tí xíu, trong trẻo, kiên cường
B. tròn xoe, chắc chắn, thật thà
C. tròn xoe, cao lớn, nhỏ xíu
D. tí xíu, xanh biếc, lỏng lẻo