

TRƯỜNG TIỂU HỌC GIA QUÁT

Thứ.....ngày tháng 12 năm 2019
KIỂM TRA ĐỊNH KÌ CUỐI HỌC KỲ I
MÔN TOÁN LỚP 5
NĂM HỌC 2019 - 2020
(Thời gian làm bài 40 phút)

Họ và tên:
Lớp 5.....

Điểm	Nhận xét của giáo viên	GV coi , chấm thi (Kí, ghi rõ họ tên)
	
	
	

I. PHẦN TRẮC NGHIỆM (4 điểm)

Hãy khoanh vào chữ cái đặt trước câu trả lời đúng nhất.

Câu 1 (0,5 điểm): Phân số $\frac{5}{8}$ viết dưới dạng số thập phân là:

- A. 5,8
- B. 0,58
- C. 0,625
- D. 6,25

Câu 2 (0,5 điểm): Mẹ mua 5 chiếc bút chì hết 32 500 đồng. Sau đó mẹ mua thêm 3 chiếc bút chì nữa. Hỏi mẹ mua bút chì hết tất cả bao nhiêu tiền ?

- A. 19 500 đồng
- B. 20 400 đồng
- C. 71 500 đồng
- D. 52 000 đồng

Câu 3 (0,5 điểm): Chữ số 3 trong số thập phân 465,732 có giá trị là:

- A. $\frac{3}{100}$
- B. $\frac{3}{10}$
- C. $\frac{3}{1000}$
- D. 3

Câu 4 (0,5 điểm): Diện tích hình bình hành có độ dài đáy là 3,4 dm và chiều cao 2 cm là :

- A. 68 dm²
- B. 6,8 dm²
- C. 0,68 dm²
- D. 0,34 dm²

Câu 5 (0,5 điểm): Tìm số tự nhiên để điền vào ô vuông : $64,97 < \square < 65,14$

- A. 64
- B. 65
- C. 66
- D. 67

Câu 6 (0,5 điểm): Giá trị của biểu thức: $24,59 : 0,1 + 8,9 \times 10$ là:


- A. 254,8
- B. 113,59
- C. 334,9
- D. 91,459

Câu 7 (0,5 điểm): Phép chia **153 : 3,5** có thương là 43,71 và số dư là:

- A. 15
- B. 0,15
- C. 0,015
- D. 0,0015

Câu 8 (0,5 điểm): Phần tô đậm chiếm bao nhiêu phần trăm so với hình vuông MNPQ ?

- A. $\frac{1}{4}$ %
- B. 3%
- C. 75%
- D. 25%



II. PHẦN TỰ LUẬN

Bài 1 (2 điểm): Đặt tính rồi tính :

$87,45 + 38,6$

$189,25 - 54,7$

$51,83 \times 3,6$

$37,44 : 1,2$

.....

.....

.....

.....

.....

Bài 2 (1 điểm): Viết số thích hợp vào chỗ có dấu chấm:

$23\text{hm}^2 6\text{dam}^2 = \dots\dots\dots\text{hm}^2$; $3,5 \text{ m} = \dots\dots\dots \text{cm}$

$2\frac{9}{10}\text{km}^2 = \dots\dots\dots\text{ha}$; $0,234 \text{ kg} = \dots\dots\dots\text{g}$

Bài 3 (2 điểm): Lớp 5A có 45 học sinh trong đó có 18 học sinh nữ.

- a) Tính tỉ số phần trăm số học sinh nam so với học sinh cả lớp.
- b) Biết số học sinh ăn bán trú lớp 5A chiếm 80% số học sinh của lớp. Tính số học sinh ăn bán trú?

Bài giải

.....

.....

.....

.....

.....

.....

.....

.....

.....

Bài 4 (0,5 điểm): Tìm x : $x \times 1,2 + x : 0,25 - x = 126$

.....

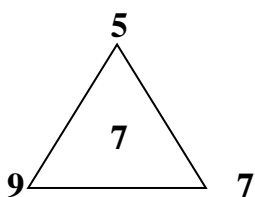
.....

.....

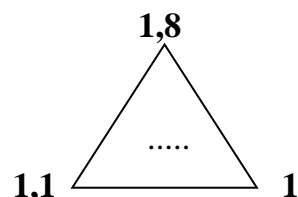
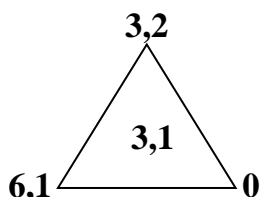
.....

.....

Bài 5 (0,5 điểm): Viết số thích hợp vào chỗ chấm



CMHS
(Ký và ghi rõ họ tên)



GVCN
(Ký và ghi rõ họ tên)

