

CHÀO MỪNG CÁC BẠN HỌC SINH



đến với buổi học trực tuyến

đến với buổi học trực tuyến

LỚP 3A6



ÔN BÀI CŨ



Câu 1: Muốn tính chu vi hình chữ nhật ta làm thế nào?


Câu 2:

Tính chu vi hình chữ nhật có chiều dài là 9cm, chiều rộng là 6cm.

Câu 3: Hình vuông có những đặc điểm nào?


Thứ tư ngày 5 tháng 1 năm 2022
Toán

Chu vi hình vuông (trang 88)



CHU VI HÌNH VUÔNG

CHU VI HÌNH VUÔNG





Cách 1:

Chu vi hình vuông ABCD là:

$$3 + 3 + 3 + 3 = 12 \text{ (cm)}$$

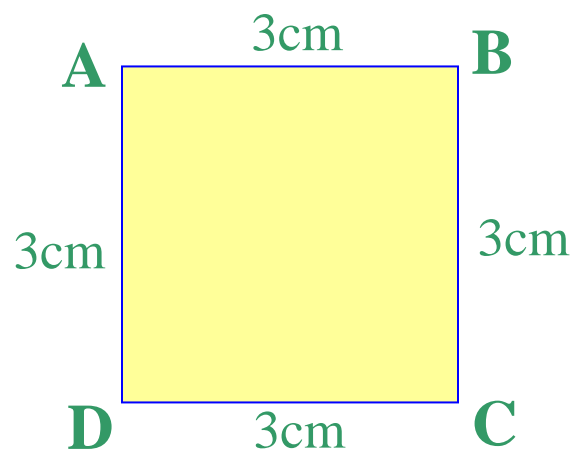
Đáp số: 12cm

Cách 2:

Chu vi hình vuông ABCD là:

$$3 \times 4 = 12 \text{ (cm)}$$

Đáp số: 12cm



Muốn tính chu vi hình vuông ta làm thế nào?

Muốn tính chu vi hình vuông ta lấy số đo một cạnh nhân với 4.





Nối ô trống với phép tính phù hợp:

Cạnh hình vuông	8cm	12cm	31cm	15cm
Chu vi hình vuông				

$$8 \times 4 = 32 \text{ (cm)}$$

$$15 \times 4 = 60 \text{ (cm)}$$

$$12 \times 3 = 36 \text{ (cm)}$$

$$12 \times 4 = 48 \text{ (cm)}$$

$$15 \times 2 = 30 \text{ (cm)}$$

$$31 \times 4 = 124 \text{ (cm)}$$

MR: Tính cạnh hình vuông, biết chu vi hình vuông là 40 cm.

Cạnh hình vuông là: $40 : 4 = 10 \text{ (cm)}$





gười ta uốn một đoạn dây thép vừa đủ thành một hình vuông cạnh 10cm. Tính độ dài đoạn dây đó.

Bài giải:

Độ dài đoạn dây đó là:

$$10 \times 4 = 40 \text{ (cm)}$$

Đáp số: 40 cm





Mỗi viên gạch hình vuông có cạnh 20 cm. Tính

Bài 3: chu vi hình chữ nhật ghép bởi 3 viên gạch như thế (xem hình vẽ).




60cm



160cm



240cm





Mỗi viên gạch hình vuông có cạnh 20 cm. Tính

Bài 3: chu vi hình chữ nhật ghép bởi 3 viên gạch như thế (xem hình vẽ).

Cách 1:

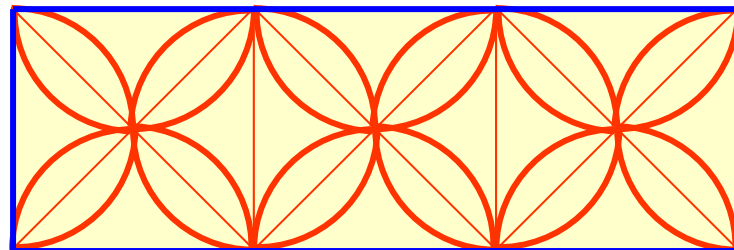
Chiều dài của hình chữ nhật là:

$$20 \times 3 = 60 \text{ (cm)}$$

Chu vi hình chữ nhật là:

$$(60 + 20) \times 2 = 160 \text{ (cm)}$$

Đáp số: 160 cm



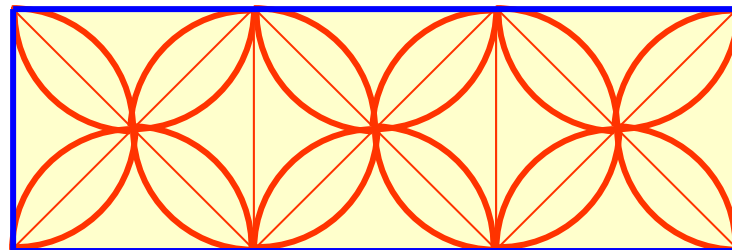
So sánh chiều dài hình chữ nhật với cạnh viên gạch hình vuông.





Bài 3: Mỗi viên gạch hình vuông có cạnh 20 cm. Tính chu vi hình chữ nhật ghép bởi 3 viên gạch như thế (xem hình vẽ).

Cách 2:



Nhìn vào hình vẽ ta thấy chu vi hình chữ nhật bằng độ dài 8 cạnh viên gạch hoa hình vuông.

Chu vi hình chữ nhật là:

$$20 \times 8 = 160 \text{ (cm)}$$

Đáp số: 160 cm





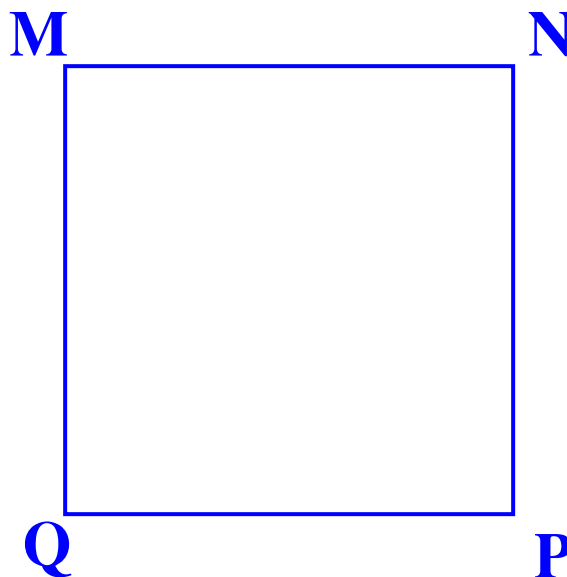
Bài 4: Đo độ dài cạnh rồi tính chu vi hình vuông MNPQ.

Sau khi đo ta thấy cạnh hình vuông là 3 cm.

Chu vi hình vuông là:

$$3 \times 4 = 12 \text{ (cm)}$$

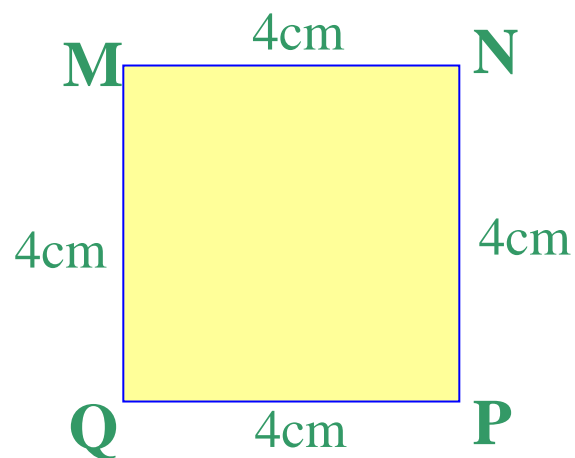
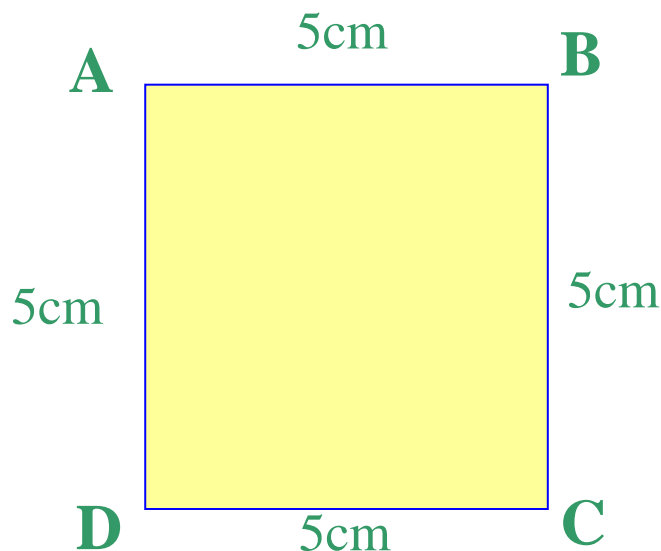
Đáp số: **12 cm**





Củng cố bài học

- **Nêu quy tắc tính chu vi hình vuông.**
- **Tính nhanh chu vi các hình vuông sau**





DẶN DÒ:



- Hoàn thành bài 2,3 (trang 88) vào vở Toán.
- Ghi nhớ quy tắc tính chu vi hình vuông.
- Đọc trước bài: Luyện tập (trang 89).





CẢM ƠN QUÝ THẦY CÔ CÙNG CÁC EM!