

CHÀO MỪNG CÁC BẠN HỌC SINH

Đã đến với buổi học trực tuyến

LỚP 3A3

Bài cũ:

**Ở lớp 2, chúng ta đã học các loại giấy
bạc nào?**

**100 đồng, 200 đồng, 500 đồng và 100
đồng**

TOÁN - LỚP 3
TIỀN VIỆT NAM
SGK/130



Thứ sáu ngày 11 tháng 3 năm 2022
Toán
Tiền Việt Nam

MỤC TIÊU BÀI HỌC:

- Nhận biết các tờ giấy bạc: 2000 đồng, 5000 đồng, 10 000 đồng.
- Biết thực hiện các phép tính cộng, trừ trên các số với đơn vị là đồng.



QUAN SÁT VÀ NHẬN XÉT ĐIỂM GIỐNG, KHÁC NHAU CỦA 3 TỜ GIẤY BẠC THEO CÁC ĐẶC ĐIỂM SAU:

1. CHẤT LIỆU

2. MÀU SẮC TỔNG THỂ


3. KÍCH THƯỚC

4. DÒNG CHỮ CHỈ MỆNH GIÁ

5. SỐ CHỈ MỆNH GIÁ TỜ GIẤY BẠC

6. HOA VĂN TRANG TRÍ





* *Giống nhau*

QUỐC
HUY



CHÂN
DUNG
BÁC HỒ





Mặt trước đều có ảnh Bác Hồ

**Khác nhau*



XÁM TRẮNG ←



XANH LỖ SẼM ←



VÀNG NÂU ←



BẰNG GIẤY



BẰNG POLYME



Nhận xét về
kích thước



DÒNG CHỮ CHỈ MỆNH GIÁ CỦA TỜ GIẤY BẠC



SỐ CHỈ MỆNH GIÁ CỦA TỜ GIẤY BẠC



QUAN SÁT MẶT SAU VÀ NHẬN XÉT NHỮNG ĐIỂM GIỐNG, KHÁC NHAU



GIỐNG NHAU: Có dòng chữ “NGÂN HÀNG NHÀ NƯỚC VIỆT NAM”



KHÁC NHAU:

- DÒNG CHỮ VÀ SỐ CHỈ MỆNH GIÁ
- HỌA TIẾT
- MÀU SẮC



ĐIỂM GIỐNG NHAU

- Mặt trước đều có ảnh Bác Hồ
- Có dòng chữ “Cộng hòa Xã hội Chủ nghĩa Việt Nam”
- Có số mệnh giá của tờ bạc.
- Có số seri.
- Có hình quốc huy nước Việt Nam.
- Mặt sau có dòng chữ “Ngân hàng nhà nước Việt Nam”

ĐIỂM KHÁC NHAU

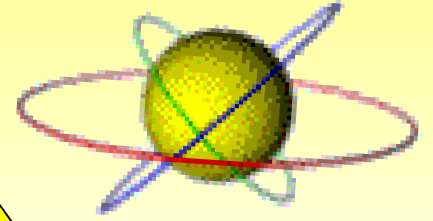
- Kích thước mỗi tờ bạc khác nhau
- Tờ hai nghìn đồng có màu xám trắng, có hình các cô gái công nhân trong nhà máy dệt.
- Tờ năm nghìn đồng có màu xanh dương, có hình nhà máy thủy điện.
- Tờ mười nghìn đồng có màu vàng nhạt, có hình gian khoan khai thác dầu khí.

TIỀN VIỆT NAM





- Hình tròn
- Bằng kim loại




Luyện tập



Bài 1:

Trong mỗi chú lợn có bao nhiêu tiền?






6200
Đồng

Bài 1:

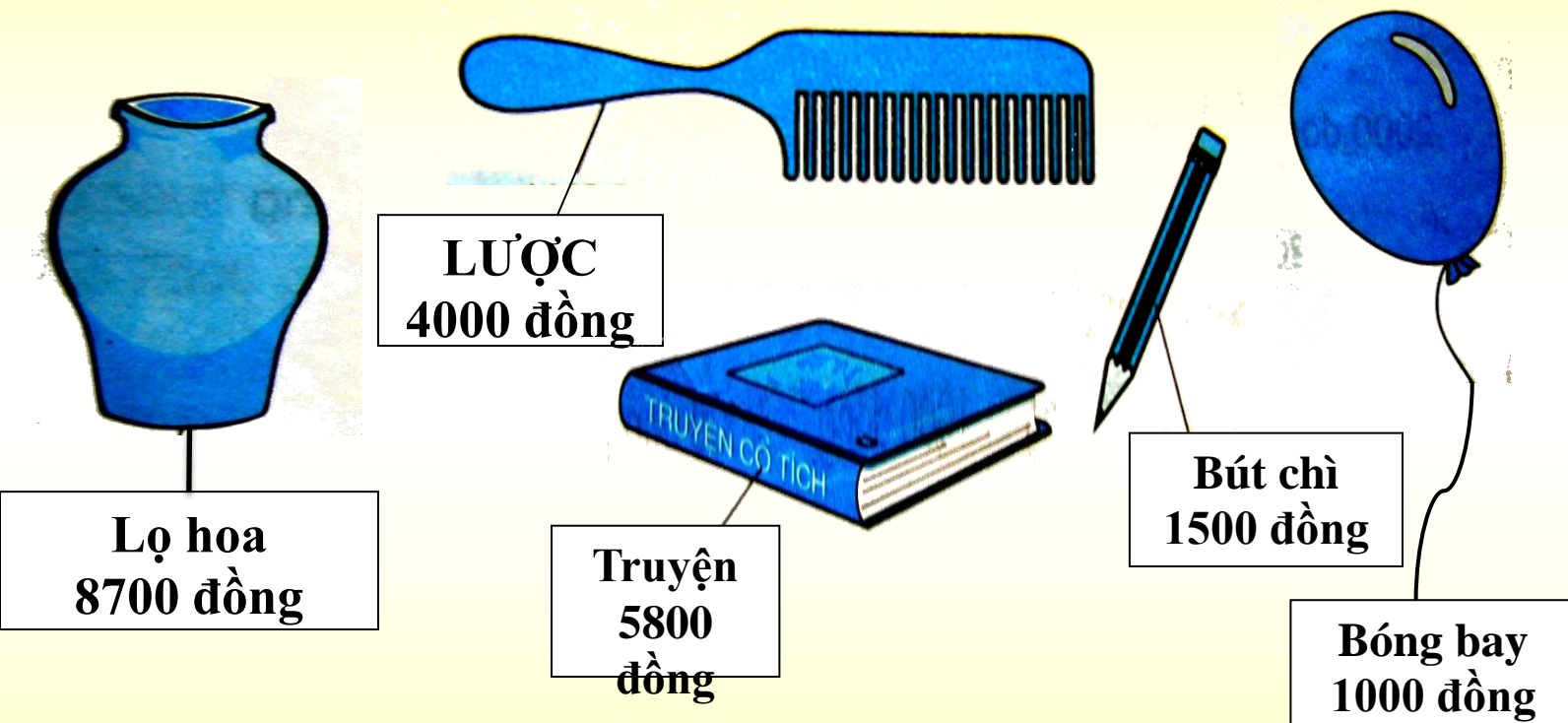
Trong mỗi chú lợn có bao nhiêu tiền?

4000 đồng



8400 đồng

Bài 3 (Vở) : Xem tranh rồi trả lời câu hỏi



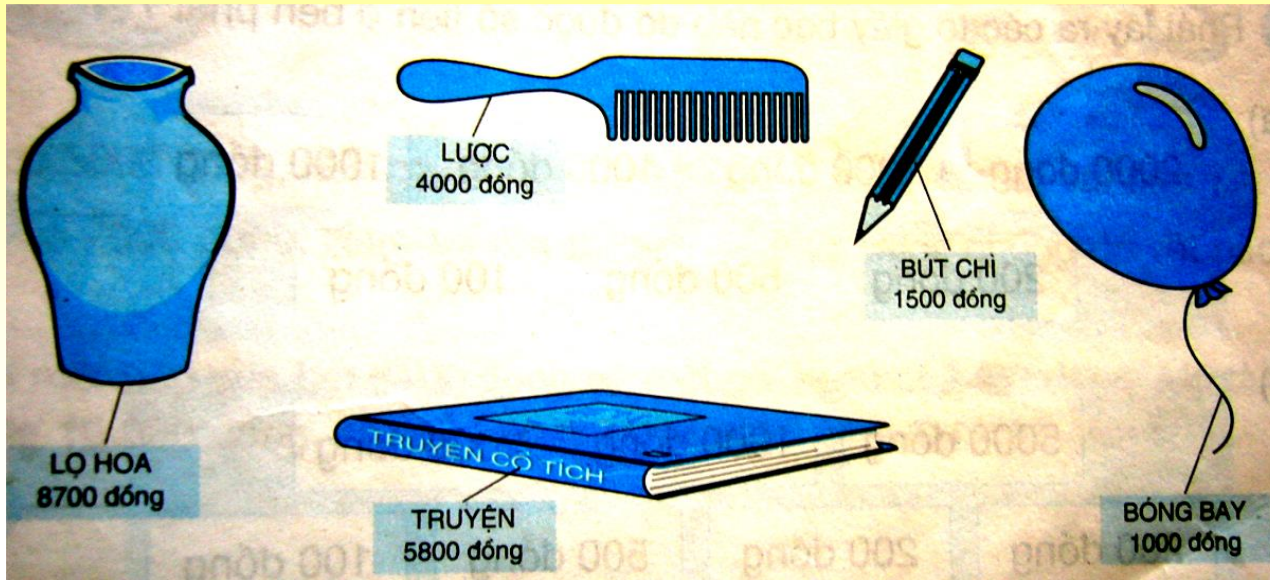
a/ Trong các đồ vật trên, đồ vật nào có giá tiền ít nhất?

Đồ vật nào có giá tiền nhiều nhất?

b/ Mua một quả bóng bay và một chiếc bút chì thì hết bao nhiêu tiền?

c/ Giá tiền một lọ hoa nhiều hơn giá tiền một cái lược là bao nhiêu ?

Bài 3 (Vở):



a) Trong các đồ vật trên:

- Đồ vật có giá tiền ít nhất là: **bóng bay**.....

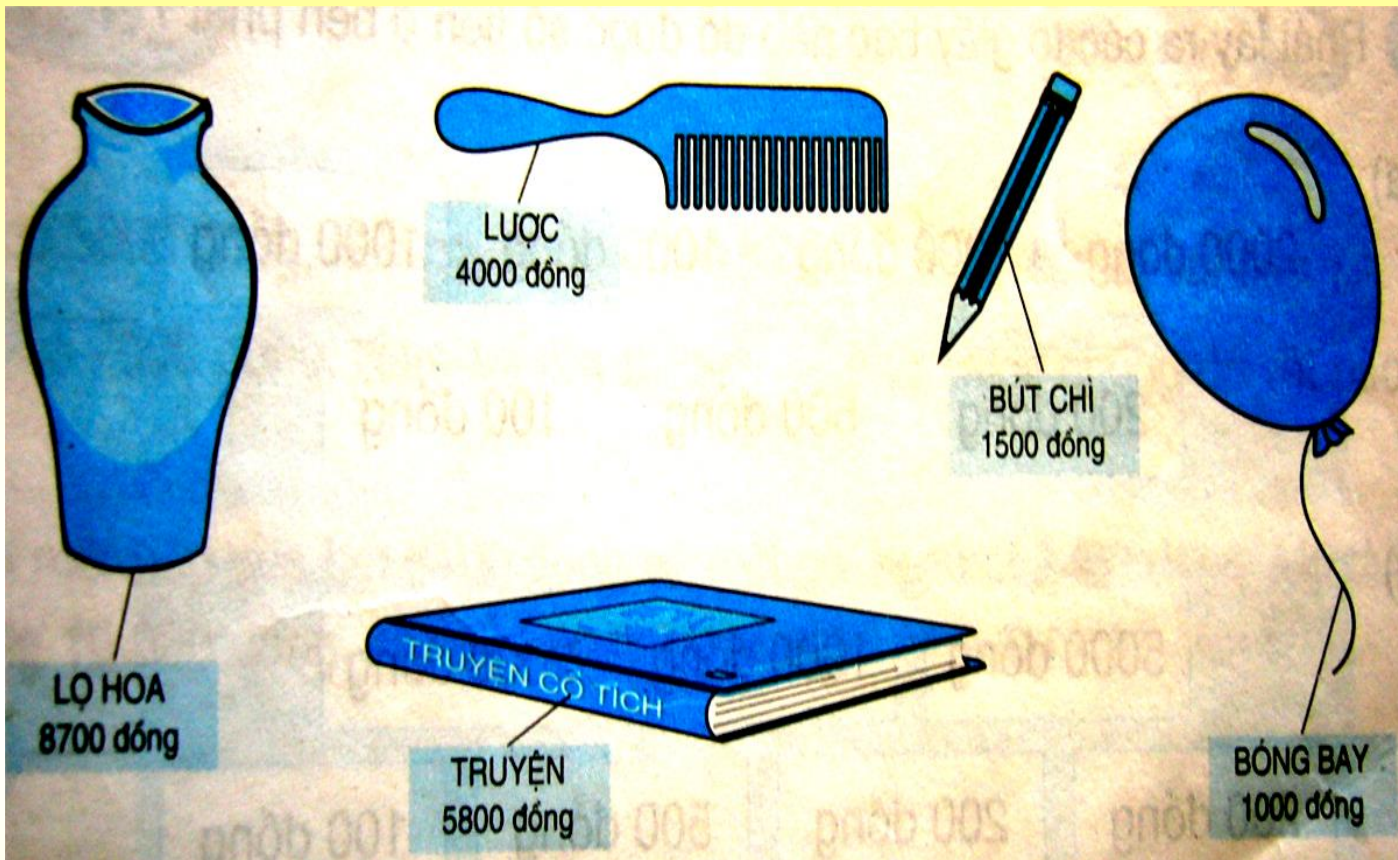
- Đồ vật có giá tiền nhiều nhất là: **lọ hoa**.....

b) Mua một quả bóng và một chiếc bút chì thì hết

2500... đồng

c) Giá tiền một lọ hoa nhiều hơn giá tiền một cái lược là

4700... đồng



Hãy sắp xếp thứ tự giá tiền của các đồ vật theo thứ tự:

1. Từ bé đến lớn:.....**1000; 1500; 4000; 5800; 8700.**.....

2. Từ lớn đến bé :**8700; 5800; 4000; 1500; 1000**.....



Nội dung cần ghi nhớ:

- Nhận biết các tờ giấy bạc: 2000 đồng, 5000 đồng, 10 000 đồng.
- Cách thực hiện các phép tính cộng, trừ trên các số với đơn vị là đồng.





HƯỚNG DẪN TỰ HỌC (11/3/2022)

- Hoàn thành bài trong vở Toán (bài 3 tr.130)
- Hoàn thành bài trong vở Cùng em học Toán (Tuần 25)
- Xem trước bài: Luyện tập (tr.132)



Chúc các em chăm ngoan học giỏi

