



**CHÀO MỪNG CÁC BẠN HỌC SINH**

**Đã đến với buổi học trực tuyến**

**LỚP 3A6**

# TOÁN - LỚP 3



# BÀI CŨ

Khi giải “Bài toán có liên quan đến rút về đơn vị” thường tiến hành theo mấy bước? Đó là những bước nào?

**\*Bước 1: Tìm giá trị một phần** (thực hiện phép chia)

**\*Bước 2: Tìm giá trị nhiều phần** (thực hiện phép nhân)




Thứ năm ngày 9 tháng 3 năm

2022

Loán

Giờ 15 tập





Thứ năm ngày 9 tháng 3 năm 2022

Toán

Tiết 123. Luyện tập

**MỤC TIÊU BÀI HỌC:**

- Củng cố cách giải bài toán liên quan đến rút về đơn vị
- Rèn kĩ năng giải toán có lời văn, trình bày bài giải.



**1** Trong vườn ươm, người ta đã ươm 2032 cây giống trên 4 lô đất, các lô đều có số cây như nhau. Hỏi mỗi lô đất có bao nhiêu cây giống?

Tóm tắt

**4 lô đất: 2032 cây**  
**1 lô đất : .... cây?**

Thực hiện tóm tắt  
và giải bài toán  
vào vở nháp!

**Bài giải**  
Mỗi lô đất ươm được số cây là:  
 **$2032 : 4 = 508$  (cây)**  
Đáp số: **508 cây giống**

2

Có 2135 quyển vở được xếp đều vào 7 thùng. Hỏi 5 thùng đó có bao nhiêu quyển vở?

**VỞ**

### Tóm tắt

7 thùng: 2135 quyển  
5 thùng: ... quyển?

Thực hiện tóm tắt và giải bài toán vào vở!

### Bài giải

Số quyển vở trong mỗi thùng là:

$$2135 : 7 = 305 \text{ ( quyển)}$$

Số quyển vở trong 5 thùng là:

$$305 \times 5 = 1525 \text{ ( quyển)}$$

Đáp số: 1525 quyển vở

# TRÒ CHƠI!

## Ai nhanh ai đúng?

Để phòng chống dịch Covid-19, mẹ Lan mua 250 chiếc khẩu trang được đựng trong 5 hộp. Mẹ tặng cô Hoa 2 hộp. Hỏi mẹ Lan tặng cô Hoa bao nhiêu chiếc khẩu trang?

**A.** 50 chiếc

**B.** 100 chiếc

**C.** 150 chiếc




# TRÒ CHƠI!

**Ai nhanh ai đúng?**

Trong phong trào làm mũ chắn giọt bắn phòng chống dịch Covid-19, lúc đầu lớp 3A1 làm được 100 chiếc mũ đựng vào 5 hộp để tặng các y bác sĩ, những người trực tiếp làm công tác chống dịch. Sau đó các bạn làm thêm được 1 hộp nữa. Hỏi lớp 3A1 làm được tất cả bao nhiêu chiếc mũ chắn giọt bắn?

**A.** 180 chiếc

**B.** 150 chiếc

 **C.** 120 chiếc

## NỘI DUNG CẦN GHI NHỚ

Khi giải “Bài toán liên quan đến rút về đơn vị” thường tiến hành theo 2 bước:


- \* **Bước 1:** Tìm giá trị một phần  
(thực hiện phép chia)
- \* **Bước 2:** Tìm giá trị nhiều phần  
(thực hiện phép nhân)





## HƯỚNG DẪN TỰ HỌC ( 9/3/2022)

- Hoàn thành bài trong vở Toán ( bài 2 trang 129)
- Hoàn thành bài trong vở BT Toán ( trang40)
- Xem trước bài: Tiền Việt Nam (tr.130 )



**CHÀO CÁC EM !**