

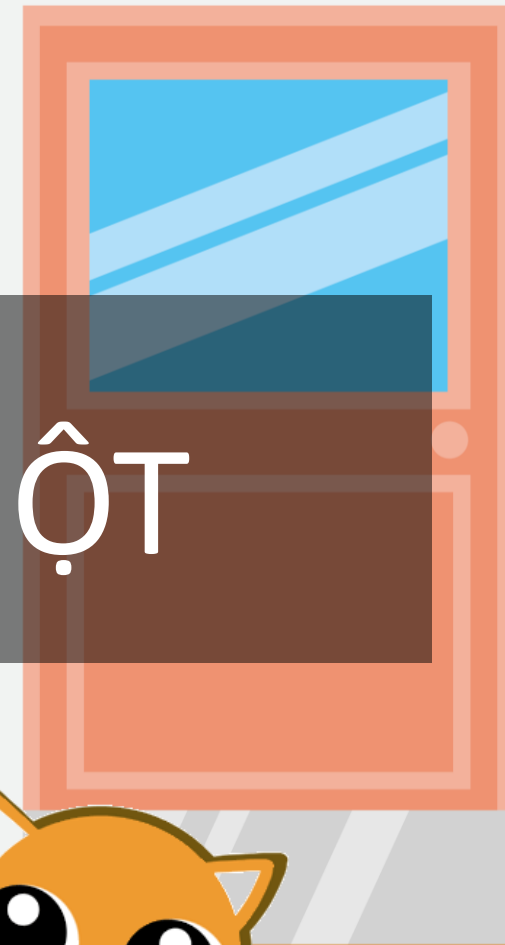

*Chào mừng các con
đến với giờ học Toán!!!*






Khởi động

GIÚP MÈO CON BẮT CHUỘT







CÂU HỎI:

$$2 \times 5 = ?$$



15

10

16

20



CÂU HỎI:

$$20 : 5 = ?$$




5

3

6

4



CÂU HỎI:

$$5 \times 8 = ?$$




30

40

35

45



CÂU HỎI:

$$2 \times 7 = ?$$



16

12

14

18



CÂU HỎI:

$$18 : 2 = ?$$




6

9

7

8



CHỦ ĐỀ 8

PHÉP NHÂN, PHÉP CHIA



BÀI 47

LUYỆN TẬP CHUNG





Yêu cầu cần đạt

- ★ - Củng cố kĩ năng nhận dạng khối trụ và khối cầu; kĩ năng xếp hình với khối trụ, khối cầu, khối hộp chữ nhật;
- ★ - Kĩ năng xử lí vấn đề qua các bài toán có quy luật hình.

LUYỆN
TẬP

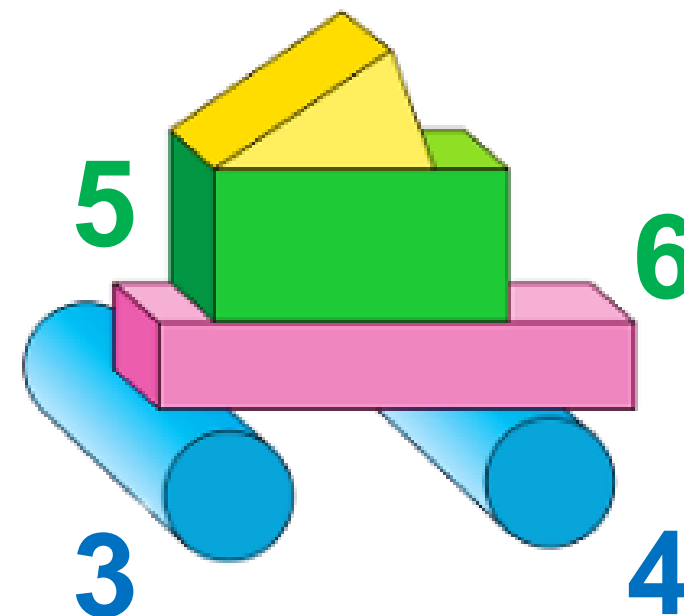
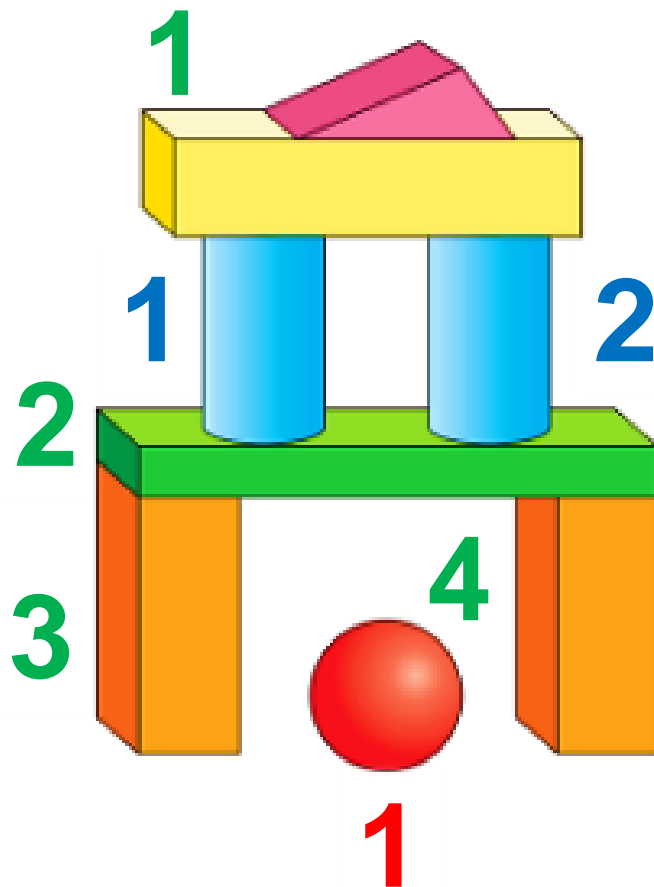




1 a) Số ?

Trong hình bên có:


- 4 khối trụ;
- 1 khối cầu;
- 6 khối hộp chữ nhật.







b) Hãy sử dụng các khối trong bộ đồ dùng học tập để xếp thành hình mà em thích.

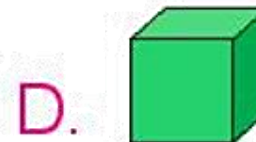
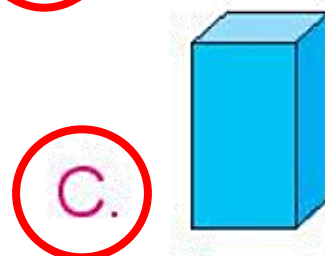
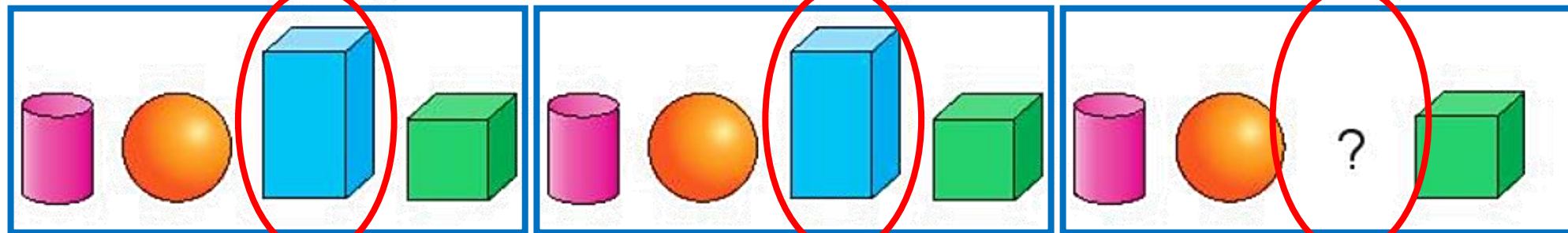
 **luyện tập**

2 Chọn hình thích hợp đặt vào vị trí trên cùng.



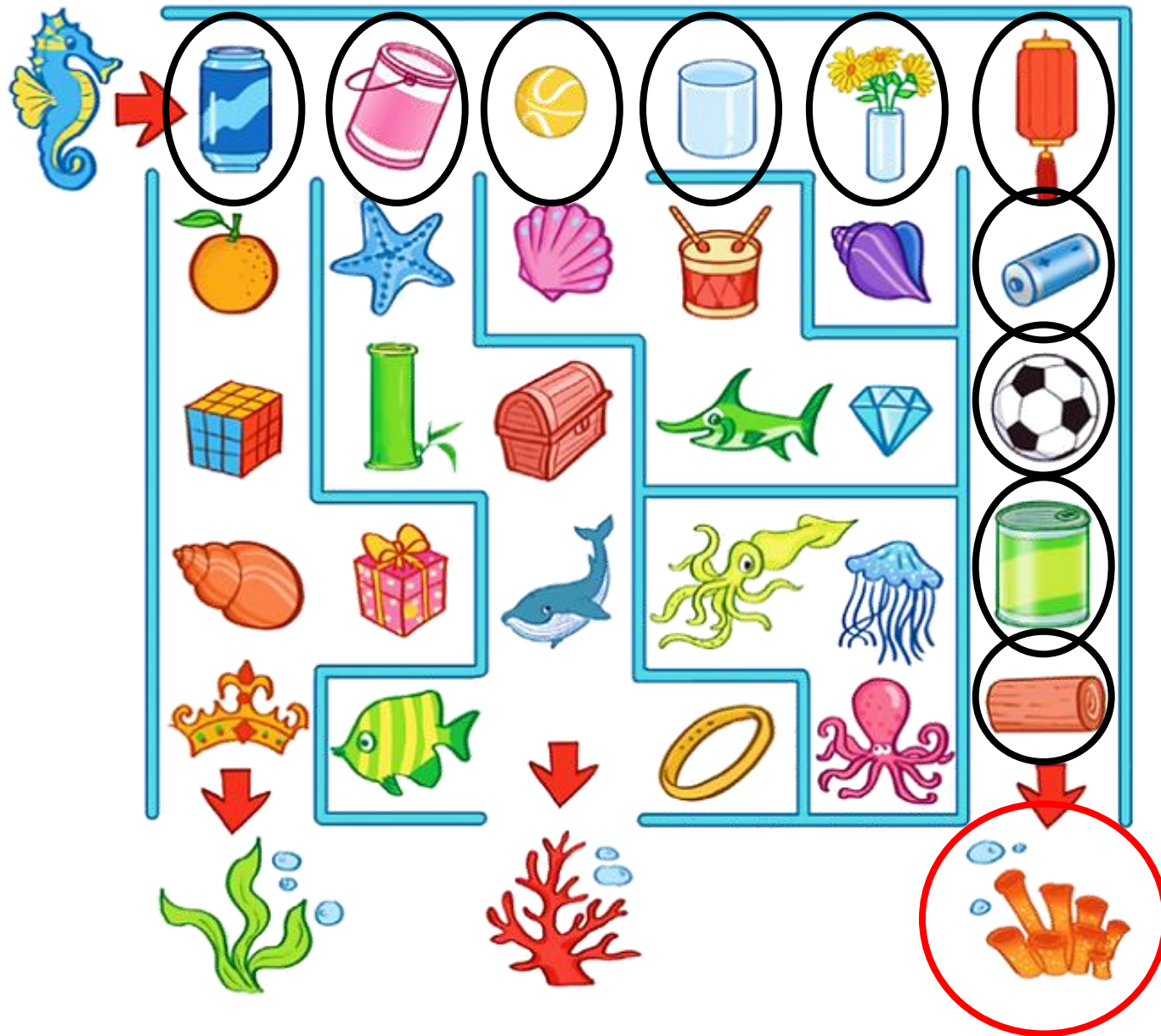
- A. 
- B.** 
- C. 
- D. 

3 Chọn hình thích hợp đặt vào dấu “?”.





4 Đi theo các vật có dạng khối trụ hoặc khối cầu, cá ngựa sẽ đến lối ra nào?



Vận dụng Trải nghiệm

- Hôm nay con được học bài gì?
- Xem trước bài sau:
Bài 47 – Tiết 2: Luyện tập (trang 38, 39)



CHÀO TẠM BIỆT

