

CHỦ ĐỀ 6

CÁC SỐ ĐẾN 100



Bài 24


Luyện tập chung (Tiết 1)



Luyện tập (Trang 24, 25)



**TRÒ
CHƠI
HÁI
TÁO**



Số?

78 gồm 7 chục
và 8 đơn vị



Số?

30 ,31, 33,, 35, 36.

32, 34.



NÓI?

1

64

Năm mươi lăm

2

55

Bảy mươi chín

3

79


Sáu mươi tư



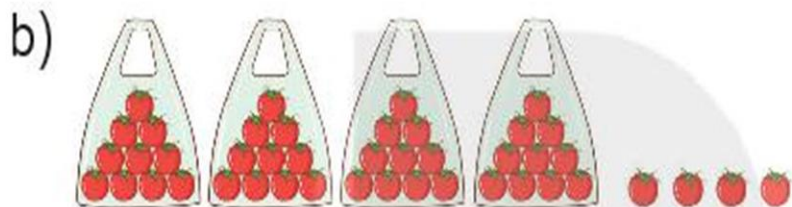


luyện tập

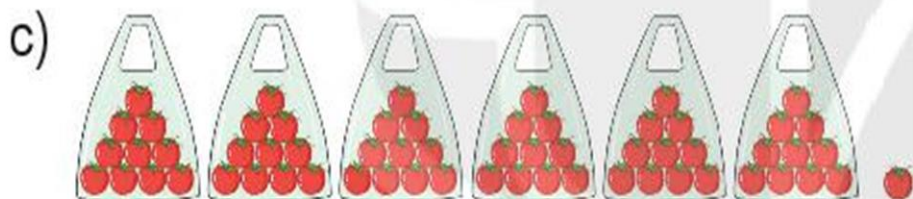
1 Số ?



32 gồm 3 chục và 2 đơn vị.



44 gồm 4 chục và 4 đơn vị.




61 gồm 6 chục và 1 đơn vị.

2 Số ?

- a) Sáu mươi hai
- b) Ba mươi chín
- c) Một trăm
- d) Số gồm 5 chục và 1 đơn vị

KẾT NỐI TRI THỨC
VỚI CUỘC SỐNG



3 Tìm số thích hợp với mỗi ngôi sao.



Nghỉ giữa giờ



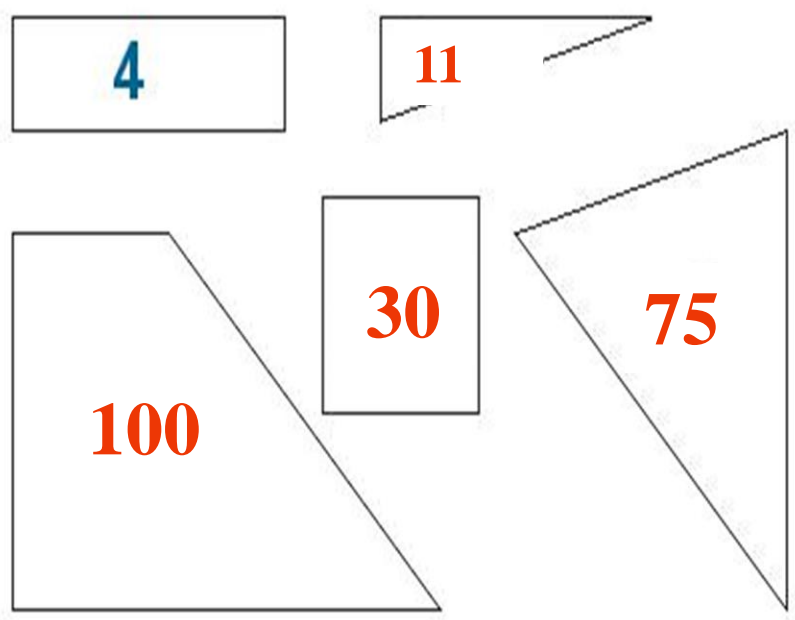
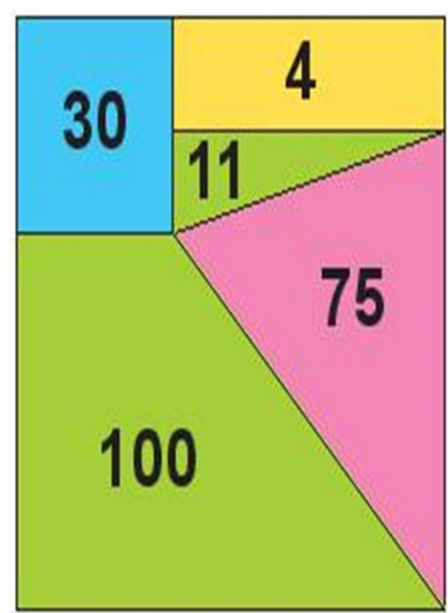


TẬP THỂ DỤC
BUỔI SÁNG



luyện tập

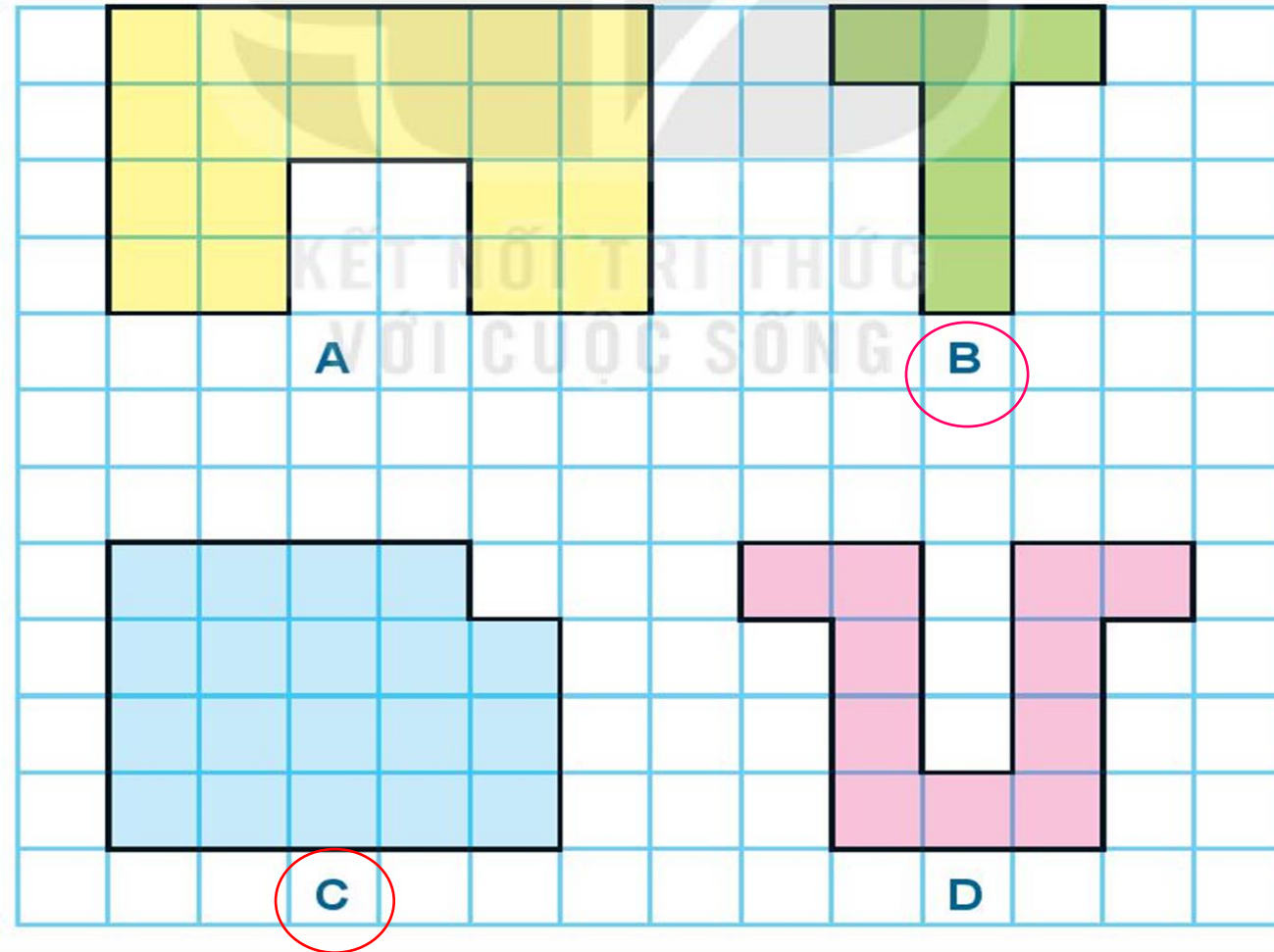
4 Em hãy giúp Việt tìm số thích hợp cho mỗi mảnh ghép (theo mẫu).





luyện tập

- 5 a) Hình nào có 19 ô vuông?
b) Hình nào có ít ô vuông nhất?



Thứ tư, ngày 16 tháng 2 năm 2022

DẶN DÒ

1. Tiếng Việt

- Hoàn thành vở ô li bài thứ ba ngày 16/2
- Hoàn thành vở tập viết bài 4, 5 trang 12, 13 (**NỘP QUA AZOTA**)
- Hoàn thành Vở bài tập Tiếng Việt bài Bữa cơm gia đình trang 17, 18, 19
- Rèn đọc 5 lần bài tập đọc **Bữa cơm gia đình** (SGK Tiếng Việt)

2. Toán

- Hoàn thành Vở bài tập Toán Luyện tập chung (trang 24, 25)
- **Xem trước bài Luyện tập (trang 26, 27)**

CỦNG CỐ

BÀI HỌC

