



**Toán lớp 1**

**Bài 33**

**Luyện tập chung**

**1** a) Tính:

$20 + 5$

$36 + 1$

$57 - 40$

$74 - 24$

b) Tính nhẩm.

$20 + 30$

$40 + 10$

$70 - 20$

$90 - 40$

## a) Tính

$20 + 5$

$36 + 1$

$57 - 40$

$74 - 24$

$20 + 5 = 25$

$57 - 40 = 17$

$36 + 1 = 37$

$74 - 24 = 50$

## b) Tính nhẩm

$20 + 30$

$40 + 10$

$70 - 20$

$90 - 40$

$20 + 30 = 50$

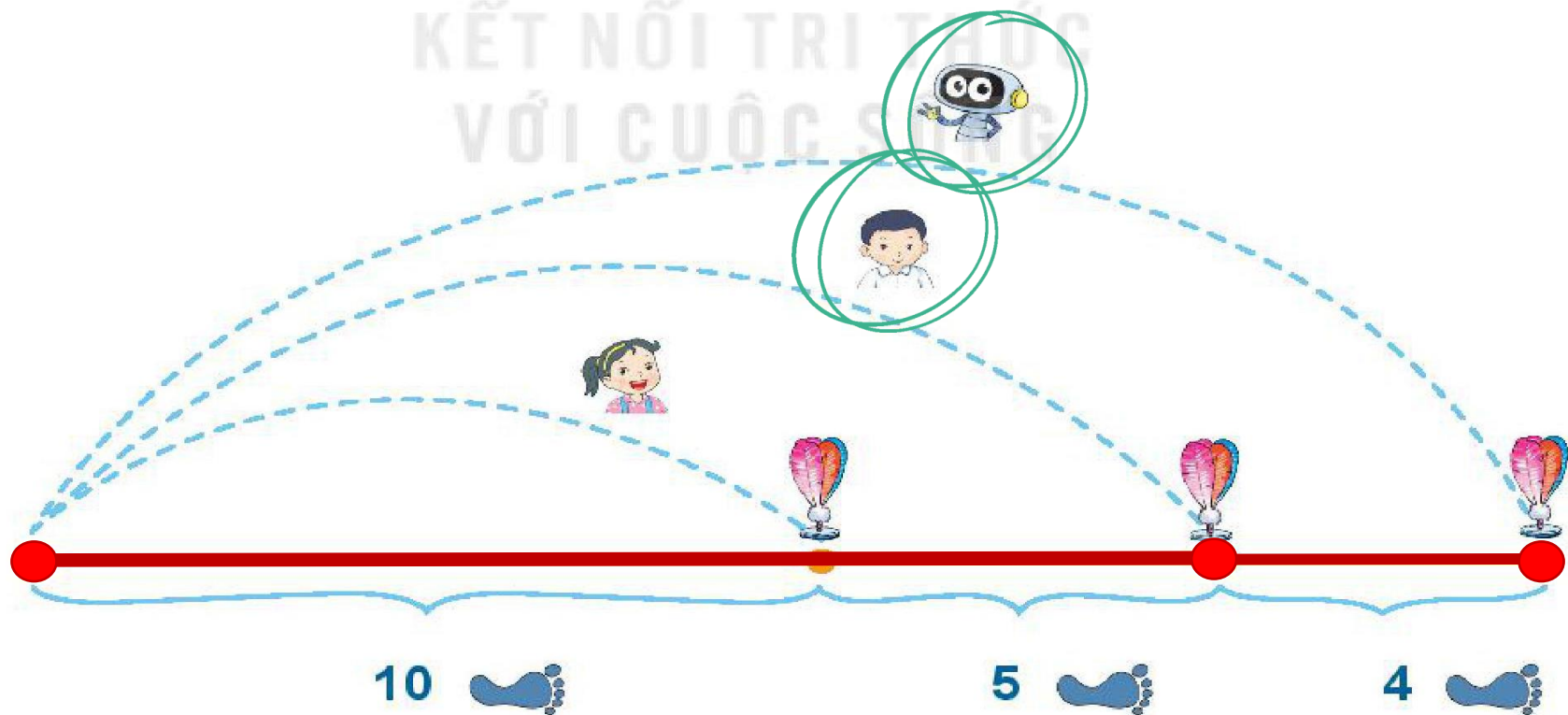
$40 + 10 = 60$



$70 - 20 = 50$



$90 - 40 = 50$



2 Mai, Việt và Rô-bốt chơi đá cầu. Em hãy tìm số bước chân thích hợp.

KẾT NỐI TRI THỨC  
VỚI CUỘC SỐNG



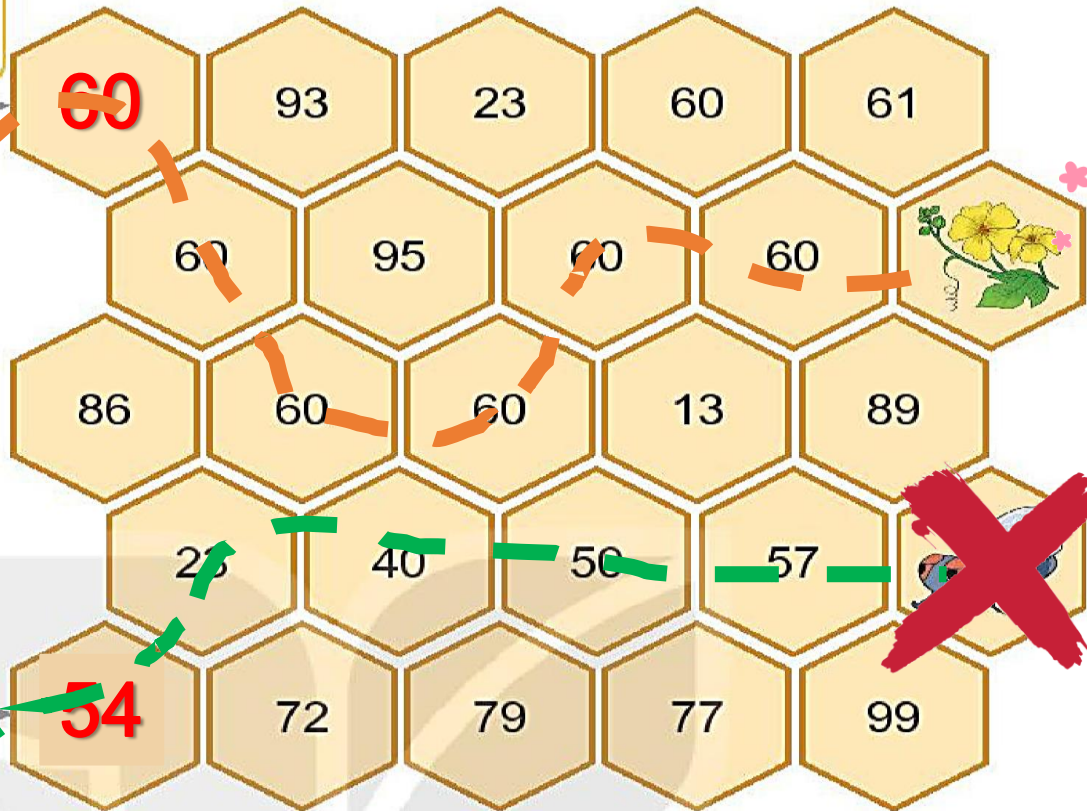

 :   
 

 :   
 

 :   
 

3 Chú ếch nào được ăn hoa mướp?


Tô đi theo các ô có số bằng  $20 + 40$ .



Tô đi theo các ô có số bé hơn 60.



- 4 Anh Khoai phải sắp xếp các đốt tre thành phép tính đúng. Nhưng do vội quá nên anh xếp nhầm hai đốt tre. Em hãy xếp lại giúp anh Khoai nhé!





Cũng có - Dọn dò