

A decorative scroll with a light brown background and a darker brown border, featuring green leaves and pink flowers. A purple butterfly is flying in the top right corner.

**LỚP 3A3**

**CHÀO MỪNG CÁC BẠN ĐẾN VỚI  
BUỔI HỌC TRỰC TUYẾN**





# Toán

## Ôn bài cũ:

1) Đọc các số sau:

**18 cm<sup>2</sup>** Mười tám xăng-ti-mét vuông

**40 cm<sup>2</sup>** Bốn mươi xăng-ti-mét vuông

**132 cm<sup>2</sup>** Một trăm ba mươi hai xăng-ti-mét vuông



# Toán

**N**

2) Viết các số sau (**N**):

a. Hai mươi một xăng-ti-mét vuông

**21 cm<sup>2</sup>**


b. Một trăm linh năm xăng-ti-mét vuông

**105 cm<sup>2</sup>**

c. Sáu mươi ba xăng-ti-mét vuông

**63 cm<sup>2</sup>**


# Diện tích hình chữ nhật



**Thứ hai ngày 4 tháng 4 năm 2022**

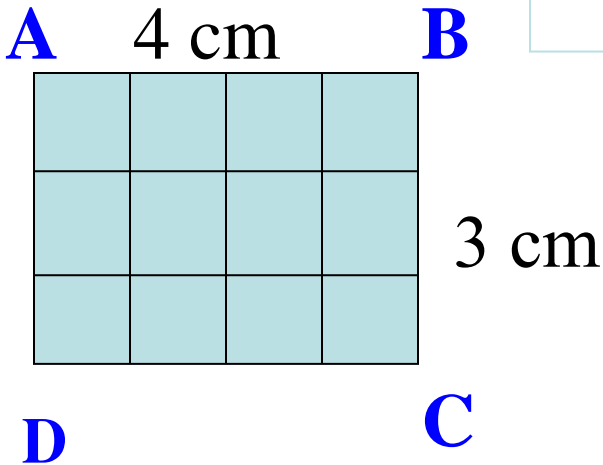
**TOÁN**

**Diện tích hình chữ nhật (Tr 152)**



# Toán

## DIỆN TÍCH HÌNH CHỮ NHẬT

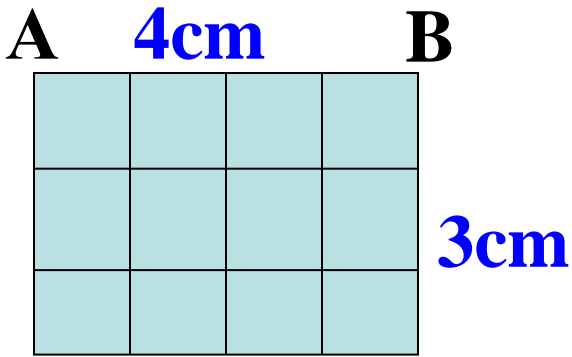


Hình chữ nhật ABCD có chiều dài 4 cm, chiều rộng 3 cm. Tính diện tích hình chữ nhật ABCD.

- Chia hình chữ nhật thành các ô vuông có cạnh là 1cm

\* Mỗi hàng có mấy ô vuông? **4 ô**

\* Có mấy hàng? **3 hàng**



Hình chữ nhật ABCD có chiều dài 4 cm, chiều rộng 3 cm. Tính diện tích hình chữ nhật ABCD.

D

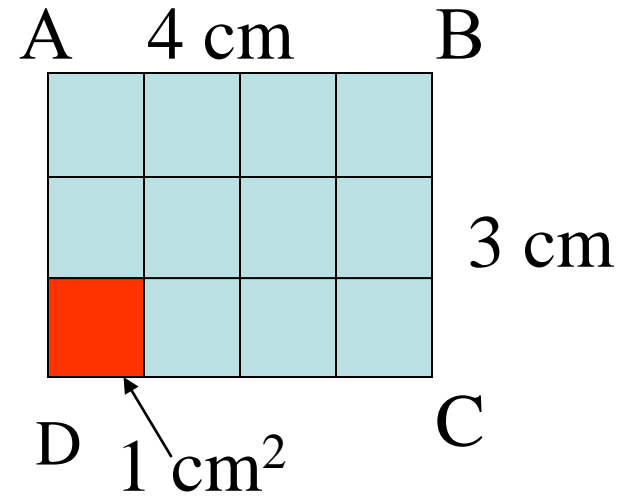
C

\* Mỗi hàng có mấy ô vuông **4 ô**

\* Có mấy hàng **3 hàng**

\* Vậy muốn biết trong hình chữ nhật ABCD có mấy ô vuông em làm như thế nào?

$$4 \times 3 = 12 \text{ ( ô vuông)}$$



**Hình chữ nhật ABCD có:**

$$4 \times 3 = 12 \text{ ( ô vuông)}$$

**Diện tích mỗi ô vuông là 1cm<sup>2</sup>.**

**\* Vậy diện tích hình chữ nhật ABCD có  
mấy xăng-ti-mét vuông?**

**Em tính như thế nào được 12 cm<sup>2</sup>?**

$$4 \times 3 = 12 \text{ (cm}^2\text{)}$$



# Toán

## DIỆN TÍCH HÌNH CHỮ NHẬT

Hình chữ nhật ABCD có:

$$4 \times 3 = 12 \text{ ( ô vuông)}$$

Diện tích hình chữ nhật ABCD là:

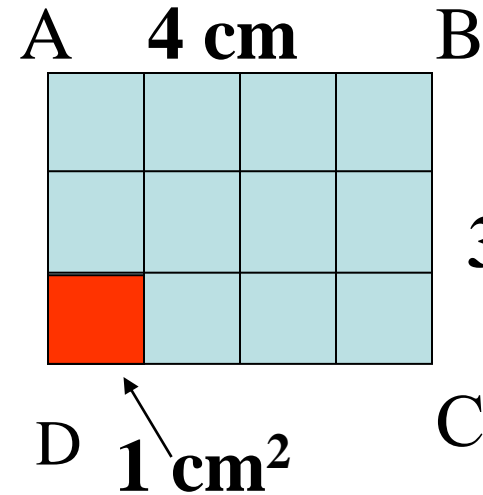
$$4 \times 3 = 12 \text{ cm}^2$$

Chiều dài

Chiều rộng

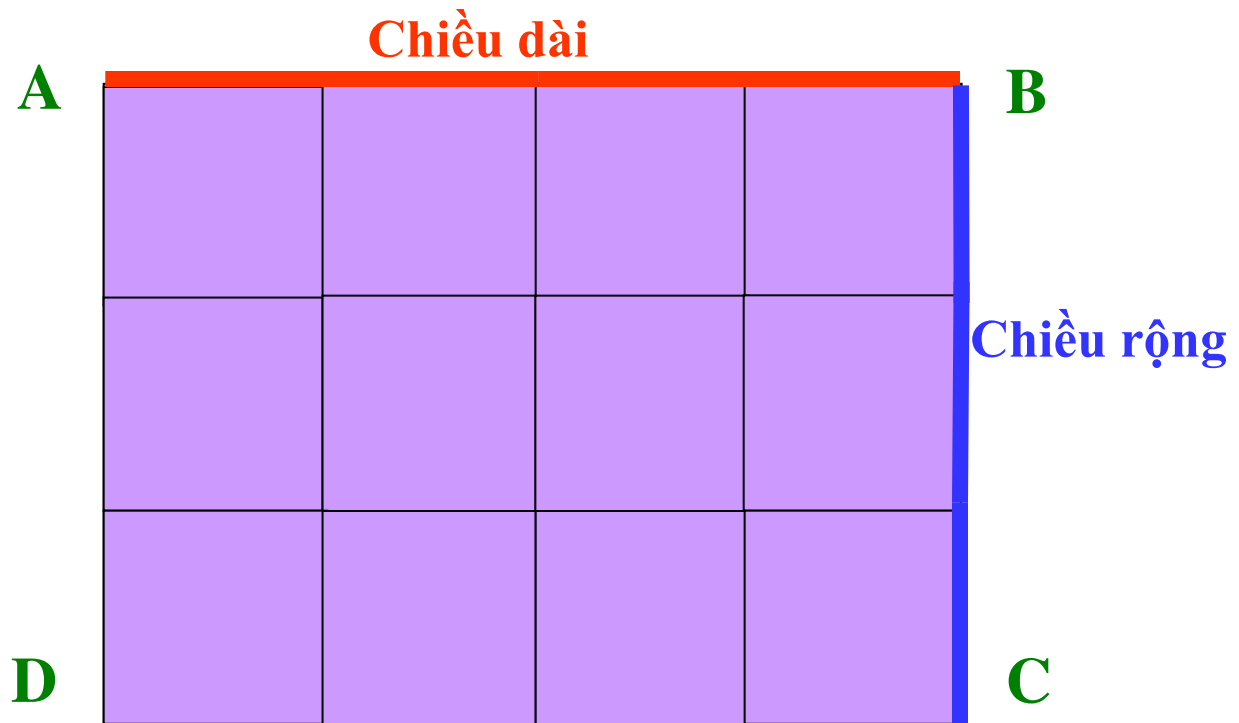
Diện tích

Muốn tính diện tích hình chữ nhật ta lấy  
chiều dài nhân với chiều rộng (*cùng đơn vị đo*)



# TOÁN

## Diện tích hình chữ nhật



**Ví dụ 1: Tính diện tích hình chữ nhật có chiều dài 5cm, chiều rộng 3cm.**

**Bài giải**

**Diện tích hình chữ nhật là:**

$$5 \times 3 = 15 \text{ (cm}^2\text{)}$$

**Đáp số: 15cm<sup>2</sup>**

**Ví dụ 2: Tính diện tích bức tranh hình chữ nhật có chiều dài 6cm, chiều rộng 3cm.**

## **Bài giải**

**Diện tích bức tranh hình chữ nhật là:**

$$6 \times 3 = 18 \text{ (cm}^2\text{)}$$

**Đáp số: 18 cm<sup>2</sup>**

A decorative border surrounds the page, featuring a floral garland at the top and bottom with yellow, pink, and purple flowers and green leaves. Yellow stars are positioned at the four corners. Vertical lines in red, green, and yellow run along the left and right sides of the page.

# LUYỆN TẬP

## Bài tập 1: Viết vào ô trống (theo mẫu):

|                                |   |  |  |
|--------------------------------|---|--|--|
| <b>Chiều dài</b>               | <b>5 cm</b>   | <b>10 cm</b>   | <b>32 cm</b>   |
| <b>Chiều rộng</b>              | <b>3 cm</b>   | <b>4 cm</b>  | <b>8 cm</b>  |
| <b>Diện tích hình chữ nhật</b> | <b><math>5 \times 3 = 15(\text{ cm}^2)</math></b>     | <b><math>10 \times 4 = 40(\text{ cm}^2)</math></b>     | <b><math>32 \times 8 = 256(\text{ cm}^2)</math></b>    |
| <b>Chi vi hình chữ nhật</b>    | <b><math>(5 + 3) \times 2 = 16(\text{ cm})</math></b> | <b><math>(10 + 4) \times 2 = 28(\text{ cm})</math></b> | <b><math>(32 + 8) \times 2 = 80(\text{ cm})</math></b> |

**\* Muốn tính diện tích hình chữ nhật ta làm thế nào?**

**Muốn tính diện tích hình chữ nhật ta lấy chiều dài nhân với chiều rộng ( cùng đơn vị đo)**

**\* Muốn tính chu vi hình chữ nhật ta làm thế nào?**

**Muốn tính chu vi hình chữ nhật ta lấy chiều dài cộng với chiều rộng ( cùng đơn vị đo) rồi nhân với 2.**

2) Một miếng bìa hình chữ nhật có chiều rộng 5 cm, chiều dài 14 cm. Tính diện tích miếng bìa đó.

### **Bài giải**

Diện tích miếng bìa đó là:

$$14 \times 5 = 70 \text{ (cm}^2\text{)}$$

Đáp số: **70 cm<sup>2</sup>**

**MR**: Nếu giữ nguyên chiều dài, chiều rộng tăng thêm 5cm thì diện tích là bao nhiêu? **(140 cm<sup>2</sup>)**



## Bài 3: Tính diện tích hình chữ nhật, biết:

a. Chiều dài 5 cm, chiều rộng 3 cm.

b. Chiều dài 2 dm, chiều rộng 9cm

### **Bài giải**

a. Diện tích hình chữ nhật là:

$$5 \times 3 = 15 \text{ (cm}^2\text{)}$$

Đáp số: **15 cm<sup>2</sup>**

b. Đổi 2dm = 20cm

Diện tích hình chữ nhật là:

$$20 \times 9 = 180 \text{ (cm}^2\text{)}$$

Đáp số: **180 cm<sup>2</sup>**



**\* Chọn kết quả đúng:**

**Tính diện tích hình chữ nhật, biết:**

**Chiều dài 8 cm, chiều rộng 3 cm.**

**a. 11 cm**

**b. 24 cm**

**c. 24 cm<sup>2</sup>**



## HƯỚNG DẪN TỰ HỌC (4/4/2022)

- Hoàn thành bài 2, 3 ( tr152) vào vở Toán
- Học thuộc Quy tắc tính chu vi, diện tích hình chữ nhật.
- Chuẩn bị bài :Luyện tập ( trang 153)



Chúc các bạn  
chăm ngoan, học tốt!

