

# HƯỚNG DẪN HỌC LỚP 4

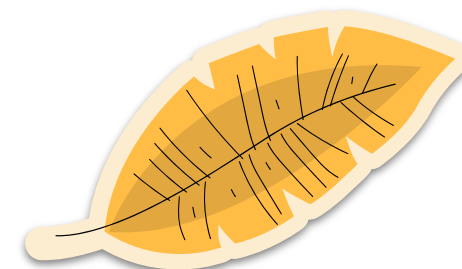




*Trường Tiểu học Long Biên*

Thứ năm ngày 31 tháng 3 năm 2022

Hướng dẫn học (Tiết 2)

Tuần 28



# Mục tiêu

Hoàn thành bài tập trong ngày

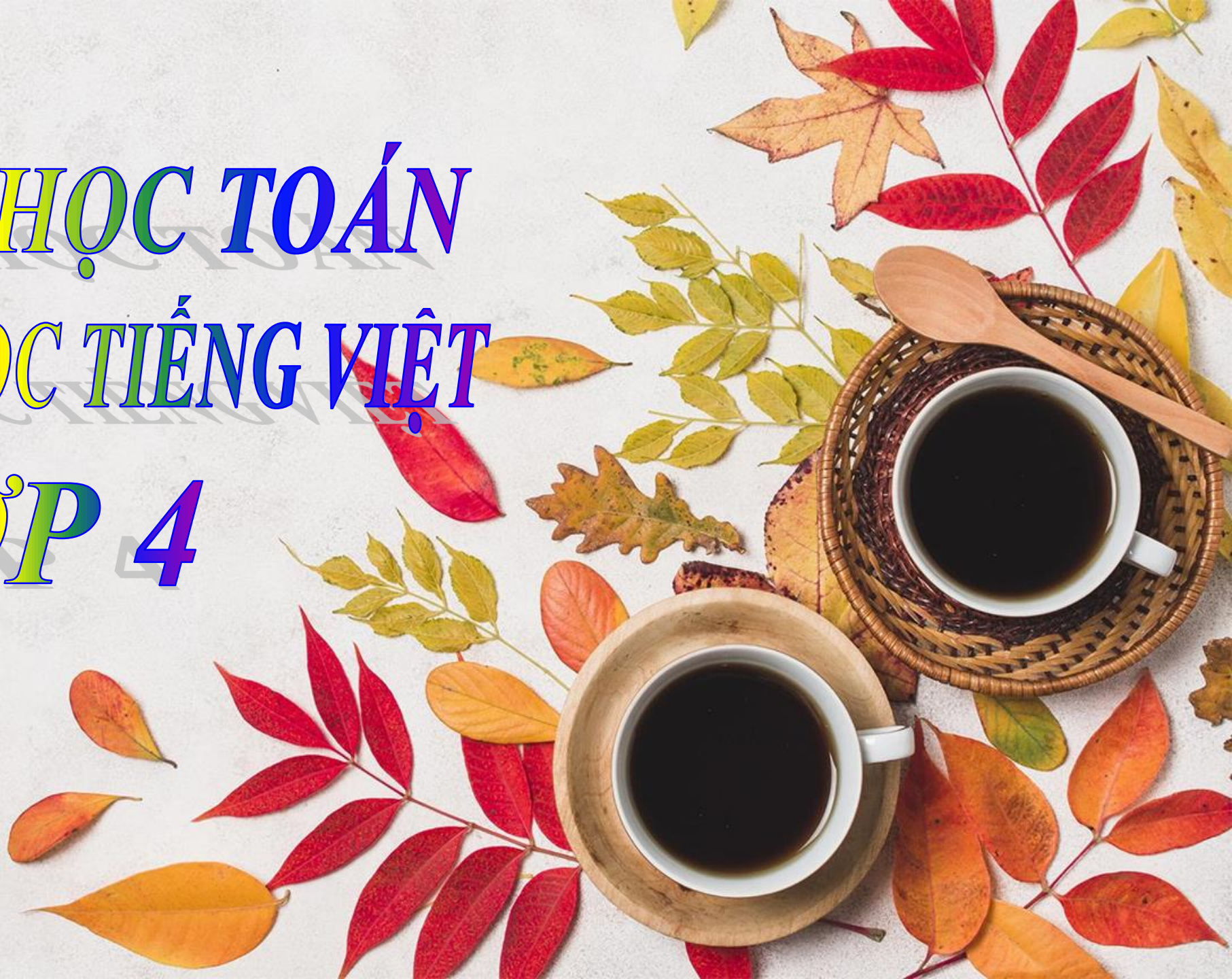
**01** Luyện tập giải bài toán tìm hai số khi biết tổng và tỉ số của hai số đó.

**03** Ôn tập TV giữa học kì II.





CÙNG EM HỌC TOÁN  
CÙNG EM HỌC TIẾNG VIỆT  
LỚP 4



# CÙNG EM HỌC TOÁN (TUẦN 28)

Hoàn  
thành  
bài tập

**Bài 5**

**Bài 6**

**Bài 7**

**Bài 8**

**Bài Vui học**



# Các bước giải bài toán

## Tìm hai số khi biết tổng và tỉ số của hai số đó

Vẽ  
sơ đồ

Tính tổng  
số phần  
bằng nhau

Tìm giá  
trị một  
phần

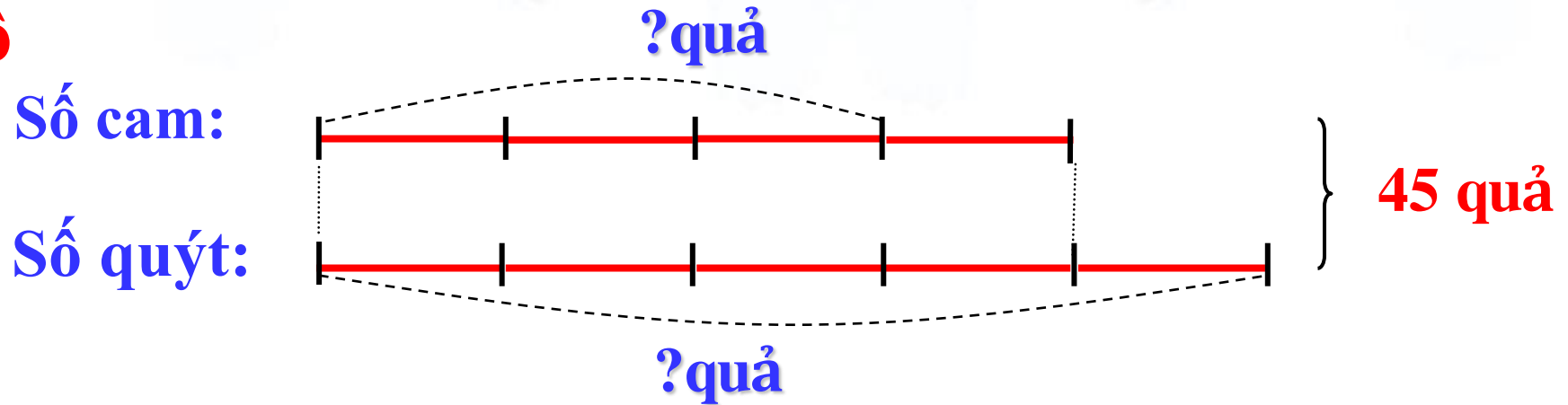
Tìm số  
bé hoặc  
số lớn

Tìm số  
lớn hoặc  
số bé



## Bài 5: Viết số thích hợp vào chỗ chấm:

Ta có sơ đồ



Biểu thị số cam là **4**. phần bằng nhau

Biểu thị số quýt là **5**. phần như thế

Tỉ số của số cam và số quýt là  $\frac{4}{5}$

Tổng số phần bằng nhau là **9**. phần

Tổng số cam và quýt là **45** quả

Số cam là :  **$45 : 9 \times 4 = 20$**  (quả)

Số quýt là :  **$45 - 20 = 25$**  (quả)

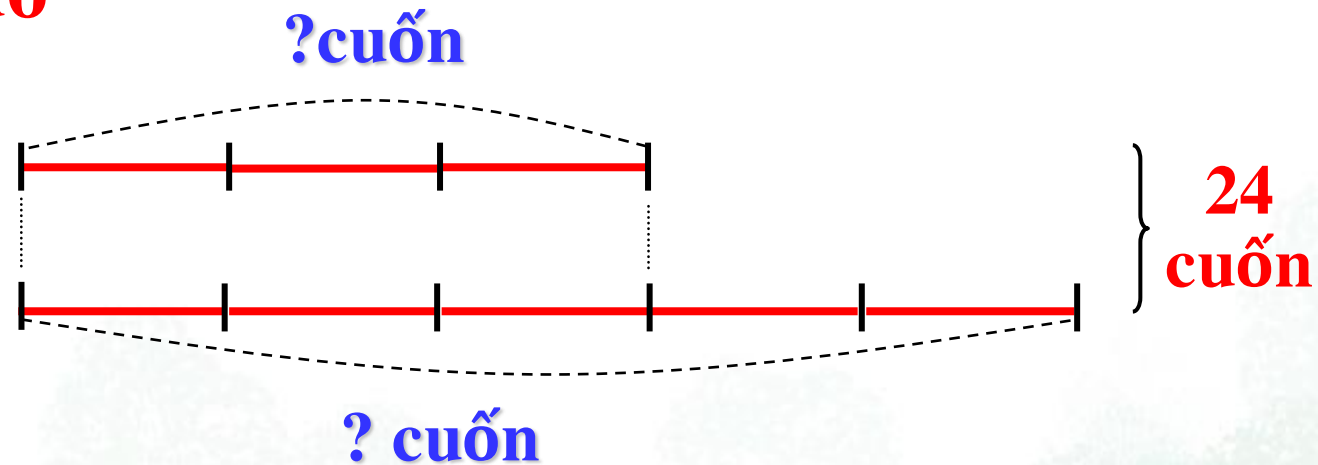
**Bài 6:** Khải và Hiệp có 24 cuốn truyện. Số truyện của Khải bằng  $\frac{3}{5}$  số truyện của Hiệp. Hỏi mỗi bạn có bao nhiêu cuốn truyện ?

### Bài giải

Ta có sơ đồ

Số truyện của Khải:

Số truyện của Hiệp:



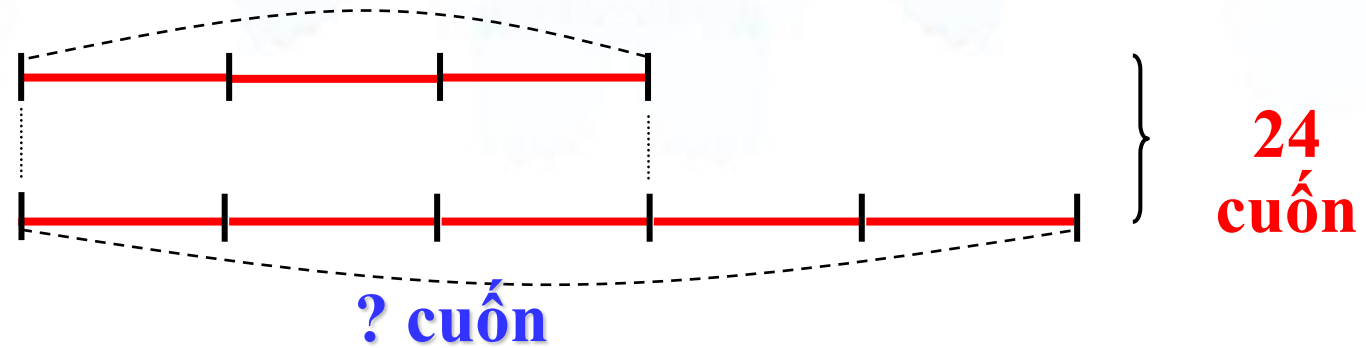


**Ta có sơ đồ**

**Bài giải**  
**? cuốn**

**Số truyện của Khải:**

**Số truyện của Hiệp:**



**Theo sơ đồ, tổng số phần bằng nhau là:**

$$3 + 5 = 8 \text{ (phần)}$$

**Số truyện của Khải là :**

$$24 : 8 \times 3 = 9 \text{ (cuốn truyện)}$$

**Số truyện của Hiệp là :**

$$24 - 9 = 15 \text{ (cuốn truyện)}$$

**Đáp số: Số truyện của Khải: 9 cuốn;  
Số truyện của Hiệp: 15 cuốn.**

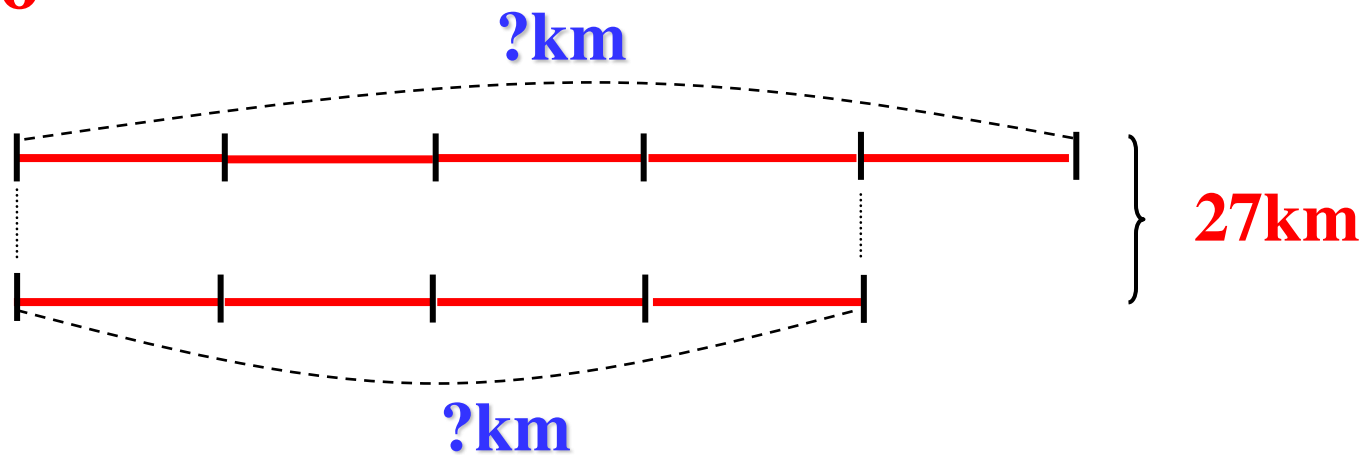
**Bài 7:** Hai đội thi công được 27km đường. Đội thứ nhất sửa được đoạn đường bằng  $\frac{5}{4}$  đoạn đường đội thứ hai sửa được. Hỏi mỗi đội sửa được bao nhiêu ki-lô-mét đường ?

### Bài giải

Ta có sơ đồ

Đội thứ nhất:

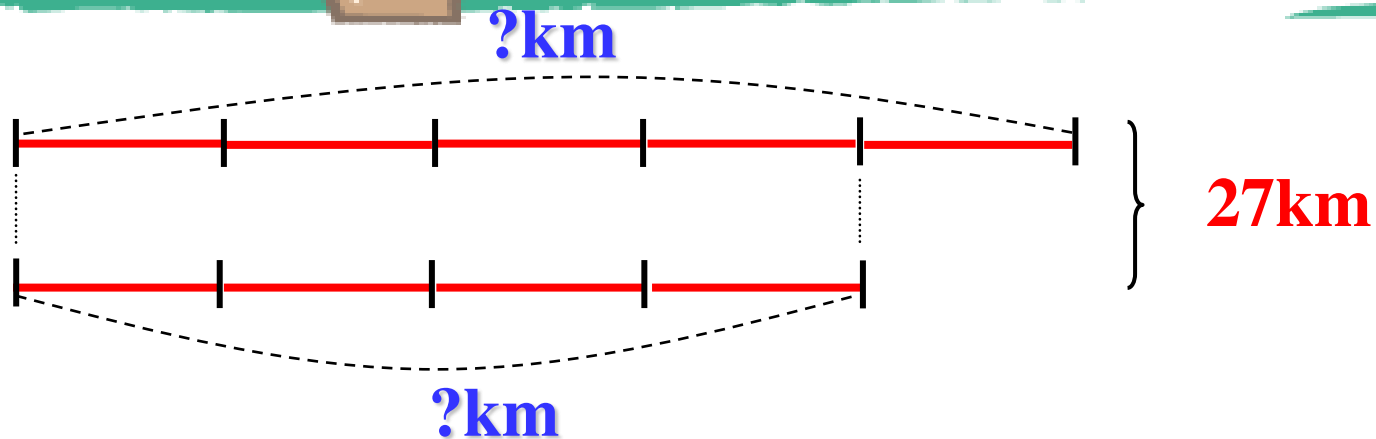
Đội thứ hai:



**Ta có sơ đồ**

**Đội thứ nhất:**

**Đội thứ hai:**



**Theo sơ đồ, tổng số phần bằng nhau là:**

$$5 + 4 = 9 \text{ (phần)}$$

**Số ki-lô-mét đường đội thứ nhất sửa được là :**

$$27 : 9 \times 5 = 15 \text{ (km)}$$

**Số ki-lô-mét đường đội thứ hai sửa được là :**

$$27 - 15 = 12 \text{ (km)}$$

**Đáp số: Đội thứ nhất : 15km ;  
Đội thứ hai : 12km.**



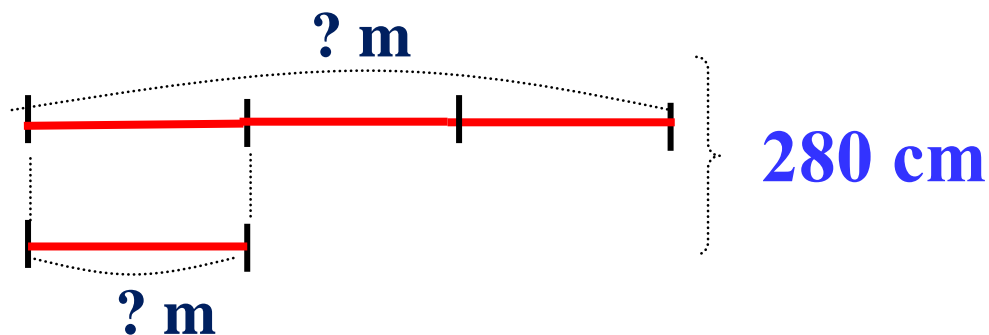
**Bài 8:** Một tấm gỗ dài 280cm, người ta cắt thành hai phần, phần thứ nhất dài gấp 3 lần phần thứ hai. Hỏi mỗi phần dài bao nhiêu mét ?

### Bài giải

**Ta có sơ đồ:**

Phần thứ nhất:

Phần thứ hai:



Theo sơ đồ, ta có tổng số phần bằng nhau là:

$$3 + 1 = 4 \text{ (phần)}$$

Độ dài phần thứ hai là:

$$280 : 4 = 70 \text{ (cm)} = \frac{7}{10} \text{ m}$$

Độ dài phần thứ nhất là :

$$70 \times 3 = 210 \text{ (cm)} = \frac{21}{10} \text{ m}$$

Đáp số: Phần thứ nhất:  $\frac{21}{10}$  m;

Phần thứ hai:  $\frac{7}{10}$  m

**Vui học:** Tại một cửa hàng bày bán các giỏ hoa quả, chủ cửa hàng cho biết mỗi giỏ hoa quả nặng 2kg, trong đó có một phần là nho, 3 phần là các loại hoa quả khác. Hỏi trong mỗi giỏ có bao nhiêu gam nho và bao nhiêu gam hoa quả khác ?

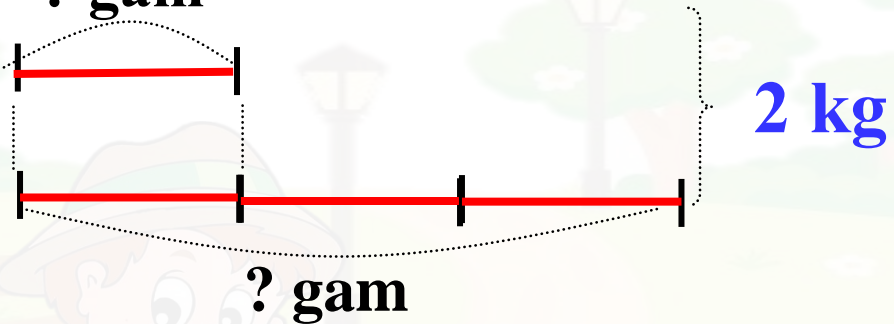
### Bài giải

**Ta có sơ đồ:**

**Nho:**

? gam

**Các loại khác:**



**Đổi 2 kg = 2000g**

**Theo sơ đồ, ta có tổng số phần bằng nhau là:**

$$3 + 1 = 4 \text{ (phần)}$$

**Số gam nho là:**

$$2000 : 4 \times 1 = 500 \text{ (g)}$$

**Số gam các loại quả khác là:**


$$2000 - 500 = 1500 \text{ (g)}$$

**Đáp số: Nho: 500g;**

**Loại quả khác: 1500g.**

# CÙNG EM HỌC TIẾNG VIỆT (TUẦN 28)

Cùng em học Tiếng Việt



**Bài 2**  
**(trang 36)**

**Bài 3**  
**(trang 36)**

**Bài 4**  
**(trang 37)**

**Bài 5**  
**(trang 37)**



## Bài 2:

**Xếp các từ đã cho thành ba nhóm tương ứng với ba chủ điểm đã học rồi ghi vào bảng dưới đây:**

*gan góc, duyên dáng, tuyệt đẹp, tài hoa, can trường, quả cảm, nét na, lực lưỡng, khôi ngô, tài nghệ, thùy mị, nở nang, rắn rỏi, tài đức, cân đối, tài giỏi, tráng lệ, anh hùng.*

<b>Người ta là hoa đất</b>	<b>Vẻ đẹp muôn màu</b>	<b>Những người quả cảm</b>
<i>tài hoa; tài nghệ; tài đức; tài giỏi;</i>	<i>duyên dáng; tuyệt đẹp; nét na; lực lưỡng; khôi ngô; thùy mị; nở nang; rắn rỏi; cân đối; tráng lệ;</i>	<i>gan góc; can trường; quả cảm; anh hùng;</i>

## Bài 3:

**Chọn 3 từ trong bài tập 2 và đặt 3 câu theo 3 mẫu câu  
(*Ai là gì? Ai làm gì? Ai thế nào?*)**

- a. Chú Xuân Bắc là một nghệ sĩ tài hoa.
- b. Ông họa sĩ bên bờ hồ đang vẽ một bức tranh tuyệt đẹp.
- c. Trần Quốc Toàn thật can trường khi đấu gươm với tướng giặc Ô Mã Nhi.



## Bài 4



Hãy thêm bộ phận còn thiếu để hoàn thành câu.

- .....**Bé Bon nhà em**.....rất ngoan.
- Con mèo mướp **nằm ườn sưởi nắng ngoài sân.**
- Chú bộ đội hải quân **ngày đêm canh giữ biển đảo Tổ quốc.**
- Mẹ em là **một nhân viên kế toán giỏi của công ty.**







## Bài 5



Hãy viết một đoạn văn kể về các bạn và những chuyện diễn ra trong một buổi sinh hoạt lớp, em có sử dụng câu kể *Ai là gì? Ai làm gì? Ai thế nào?*.

### Gợi ý

Cứ vào thứ sáu hàng tuần, lớp em lại sinh hoạt lớp một lần để tổng kết tuần vừa qua cũng như triển khai công việc của tuần sắp tới. Buổi sinh hoạt luôn có mặt đầy đủ các thành viên trong lớp, và có sự tham gia của cô giáo chủ nhiệm lớp. Bắt đầu buổi sinh hoạt, bạn lớp trưởng cầm một quyển sổ nhỏ đọc ghi chép những gì lớp đạt được tuần qua. Khi lớp trưởng báo cáo thì hầu như các bạn đều im lặng lắng nghe. Rồi cô giáo gọi các tổ trưởng báo cáo tình hình của tổ mình trong tuần vừa qua. Các bạn tổ trưởng đều rất nhanh nhẹn báo cáo trước lớp. Nói chung tình hình học tập của lớp em khá là tốt. Sau đó cô giáo triển khai những công việc mà chúng em sẽ làm trong tuần tới. Khi cô nói tuần sau trường sẽ tổ chức buổi liên hoan văn nghệ để chào đón ngày 8/3 cả lớp ùa lên thích thú. Các buổi sinh hoạt lớp của lớp em đều rất vui vẻ.



CHÀO TẠM BIỆT CÁC EM!  
TÍCH CỰC LUYỆN TẬP TDTT  
CÙNG THỰC HIỆN TỐT THÔNG ĐIỆP 5K NHÉ!

