

A decorative border of roses surrounds the text. On the left, there are five large pink roses. On the top, there are three large pink roses and a row of seven smaller yellow roses. On the right, there are three yellow roses. At the bottom, there are four yellow roses. Green leaves and stems are interspersed among the flowers.

KHỞI ĐỘNG



Toán:



Ôn tập về tìm hai số khi biết tổng hoặc hiệu và tỉ số của hai số đó



Bài 1: Tìm a và b:

Tổng $a+b$	234	136	816	1975	2856
Tỉ số $a:b$	1:2	3:1	6:2	2:3	5:2
a	78	102	612	790	2040
b	156	34	204	1185	816



Toán:

Ôn tập về tìm hai số khi biết tổng hoặc hiệu và tỉ số của hai số đó



Bài 2: Tìm x và y :

Hiệu x và y	432	308	603	2000	2345
Tỉ số $x : y$	4:1	2:1	6:3	5:3	7:2
x	576	616	1206	5000	3283
y	144	308	603	3000	938




Toán:



Ôn tập về tìm hai số khi biết tổng hoặc hiệu và tỉ số của hai số đó

Bài 3:

Đoàn vận động viên có 370 người, trong đó số nữ bằng $\frac{2}{3}$ số nam. Hỏi đoàn đó có bao nhiêu vận động viên nam, có bao nhiêu vận động viên nữ?



Bài 3:



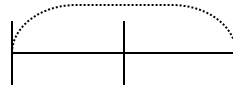
Bài giải:



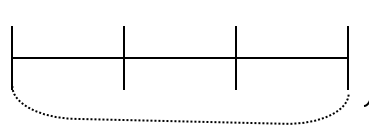
Ta có sơ đồ:

? người

Vận động viên nữ:



Vận động viên nam:



} 370 người

? người

Theo sơ đồ, tổng số phần bằng nhau là:

$$2 + 3 = 5 \text{ (phần)}$$

Vận động viên nữ có số người là:

$$370 : 5 \times 2 = 148 \text{ (người)}$$

Vận động viên nam có số người là:

$$370 - 148 = 222 \text{ (người)}$$

Đáp số: Vận động viên nữ: 148 người

Vận động viên nam: 222 người



Bài 4:

Tỉ số của hai số là $3:7$. Tìm hai số đó, biết rằng nếu số bé tăng thêm **76** đơn vị thì được số lớn.

Bài giải:

Vậy hiệu của hai số là bao nhiêu?



Bài 4:

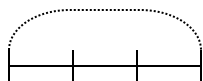
Tỉ số của hai số là 3:7. Tìm hai số đó, biết rằng nếu số bé tăng thêm **76** đơn vị thì được số lớn.

Bài giải:

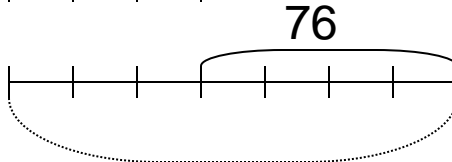
Hiệu của hai số là: 76

Ta có sơ đồ: ?

Số bé:



Số lớn:



Theo sơ đồ, hiệu số phần là:

$$7 - 3 = 4 \text{ (phần)}$$

Số bé là:

$$76 : 4 \times 3 = 57$$

Số lớn là:

$$57 + 76 = 133$$

Đáp số: Số bé: 57

Số lớn: 133

